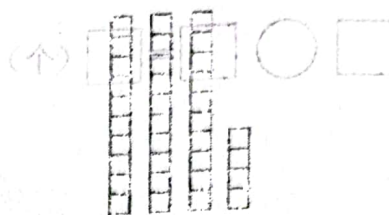
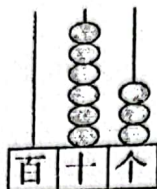



泗阳县小学 2021-2022 学年度第二学期期中 一年级数学调研试卷

(考试时间 70 分钟 试题分值: 100 分)

一、我会填。(每空 1 分, 共 46 分)

1. 看图写数。



() () ()

2. 75 里面有 () 个一, 再添上 5 个一是 () 个十

3. 和 61 相邻的两个数是 () 和 ()。

4. 59 比 () 大 1, 比 () 小 1。

5. 36 的个位上是 (), 表示 () 个 (), 十位上是 (), 表示 () 个 ()。



6. 一个两位数个位上是 3, 十位上是 6, 这个数是 ()。

7. 十个十个地数, 60 前面一个数是 (), 后面一个数是 ()。

8. 1-100 中个位与十位上的数相同, 这样的数有 () 个, 其中最大的是 (),

双数有 () 个, 请把这些数按从大到小的顺序排列:

9. 在 ○ 里填上 “>” “<” 或 “=”。

$$39 - 9 \bigcirc 30$$

$$25 - 20 \bigcirc 10$$

$$6 + 31 \bigcirc 31 + 6$$

$$30 + 6 \bigcirc 90$$

$$20 + 5 \bigcirc 32$$

$$85 - 40 \bigcirc 75 - 30$$

10. 在括号里填上合适的数。

$$5 + () = 80$$

$$54 - () = 50$$

$$67 - () = 13 - 6$$



11. 找规律。

(1) (), (), 69, (), 73, 75, ()。

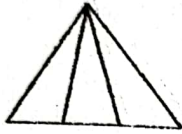
(2) 90, (), 70, (), 50, 40, (), ()。

(3) 1, 85, 3, 80, 5, (), (), (), ()。

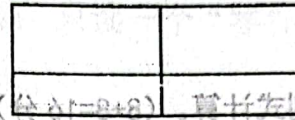
12. 要使 $\square - 6 < 51$, \square 中最大填 ()

13. 要使 $8 + \square > 87$, \square 中最小填 ()。

14. 填一填



() 个三角形



() 个长方形

二、我会选。(在合适的答案下打“√”)(6分)

1.

我有 56 张邮票。

我的邮票比你少得多。



小女孩可能有多少张邮票?



49 张	10 张	87 张
<input type="checkbox"/>	<input type="checkbox"/>	<input type="checkbox"/>

☐ = ☐ ○ ☐

☐ = ☐ ○ ☐

2. 一个洋娃娃 37 元, 一辆玩具汽车的价钱和洋娃娃差不多, 一辆玩具汽车多少元?

80 元	42 元	20 元
<input type="checkbox"/>	<input type="checkbox"/>	<input type="checkbox"/>



元?

三、我会算。(12分)

11 - 9 =

47 - 7 =

98 - 90 =

80 + 2 - 30 =

23 + 30 =

55 - 5 =

57 - 6 =

18 - 9 + 60 =

13 - 7 =

22 - 1 =



7 + 82 =

17 - 7 + 90 =



四、操作题。(6分)

画一个长方形、一个正方形和一个三角形。

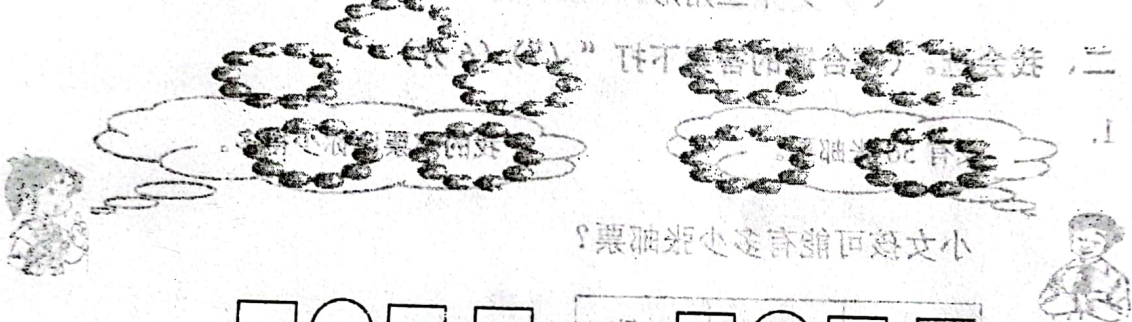


五、看图列式计算。(8+8=16分)

1.

纸式牙个 ()

纸式三个 ()



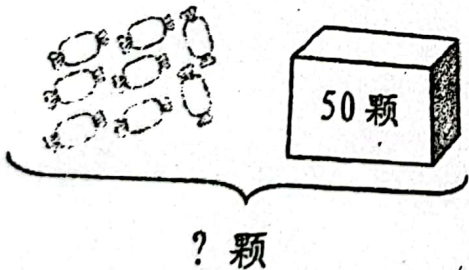
$$\square \bigcirc \square = \square$$

$$\square \bigcirc \square = \square$$

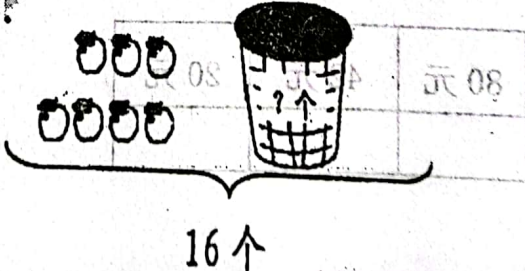
$$\square \bigcirc \square = \square$$

$$\square \bigcirc \square = \square$$

2.



3.



$$\square \bigcirc \square = \square$$

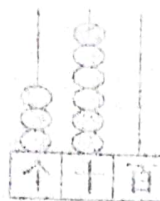
$$\square \bigcirc \square = \square$$

六、解决问题。(4+5+5=14分)

1. 小明吃了 22 个，妈妈买了多少个苹果？(4分)



$$\square \bigcirc \square = \square \text{ (个)}$$



() () ()

十个() 数一个 8 十 数再 , 一个() 百 面里 27.8

2. 有 57 只动物参加运动会。



现在来了 3 只。

还有多少只动物没来？(4分)

小() 出 , 大() 出 27.4

() 示 珠 , () 最 十 位 十 , () 个 () 示 珠 , () 最 十 位 个 的 28.2

$$\square \bigcirc \square = \square \text{ (只)}$$

() 个

() 最 个 五 , 6 最 十 位 十 , 8 最 十 位 个 数 的 两个 一 .8

() 最 个 一 面 鼠 , () 最 个 一 面 的 00 , 数 个 十 个 十 .7

() 最 的 大 量 中 其 , 个 () 言 数 的 数 数 , 同 时 数 的 十 位 十 位 个 中 001-1.8

展 开 的 顺 的 小 庭 大 从 数 数 数 数 数 数 , 个 () 言 数 数

3. 小猴子和猴妈妈去果园里摘桃子，猴妈妈摘了 20 个，小猴子和猴妈妈摘的同样多，小猴子和猴妈妈一共摘了多少个？(4分)

$$\square \bigcirc \square = \square \text{ (个)}$$

$$10 \bigcirc 30 - 20$$

$$30 \bigcirc 30 - 30$$

$$30 = 30 \bigcirc 30 = 30$$

$$30 \bigcirc 30 + 20$$

$$30 \bigcirc 30 + 30$$

数 的 数 的 十 位 十 位 数 的 数 的 10.1

2-31 = () - 28 30 - () 40 30 - () + 8

