

2021-2022 学年第二学期期中考试试卷

小学数学二年级下册期中检测

一、算一算。(20 分)

1. 直接写得数。(12 分)

$7200 - 7000 =$

$8400 - 400 =$

$3000 + 900 =$

$4000 + 300 =$

$6000 + 400 =$

$860 - 60 =$

$6600 - 600 =$

$910 - 900 =$

$2000 + 800 =$

$500 + 30 =$

$5000 + 200 =$

$2700 - 700 =$

2. 用竖式计算。(8 分)

$38 \div 7 =$


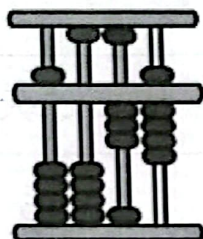
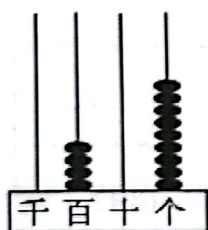
$50 \div 6 =$

$34 \div 5 =$

$45 \div 8 =$

二、填一填。(共 36 分，每空 1 分。)

1. 看图写数。



()

()

()

2. 600 里面有()个百，再添上()个百是 1000。

3. 由 4 个千、6 个十和 3 个一组成的数是()；8030 里有()个千和 3 个()。

4. 8350 是()位数，它的最高位是()位，3 在()位上，十位上是()。

5. 在 () 里填上合适的时间或长度单位。

学校旗杆高 10(), 1 元硬币大约厚 2(), 小华跑 100 米用了 18()。

6. 在 () 里填 “>” 或 “<”。

60 秒()1 时

3 分()30 秒

6 分米()60 毫米

8 厘米()85 毫米

4003()4030

80+300()30+800

7. 面对北极星, 后面是(), 左面是(), 右面是()。

8. 找规律, 填一填。

(1) 1380, 2380, (), (), 5380。

(2) 4950, 4900, 4850, (), (), ()。

9. 在 100 米跑步比赛中, 军军用了 17 秒, 丽丽用了 19 秒, 乐乐用了 20 秒, () 跑得最快; 在跳远比赛中, 军军跳了 11 分米, 丽丽跳了 1 米, 乐乐跳了 124 厘米, () 跳得最远。

10. 在 $\star \div \triangle = 2 \cdots 5$ 中, \triangle 所表示的数最小是(), 这时 \star 所表示的数是()。

11. 写出下面钟面上的时间。



()



()



()

三、选一选。(将正确答案的序号写在括号里)(10 分)

1. 下面各数中, 一个零也不读的是()。

A. 6009

B. 6090

C. 6900

2. $\blacksquare \div \star = \triangle \cdots 6$ 中, \star 可能是()。

A. 7、8、9 B. 1、2、3、4、5 C. 无法确定

3. 用 2、0、9、5 四个数字组成一个四位数, () 最接近 6000。

A. 5920 B. 5902 C. 5290

4. 分针从一个数走到下一个数, 经过的时间是 ()。

A. 1 分钟 B. 5 分钟 C. 30 分钟

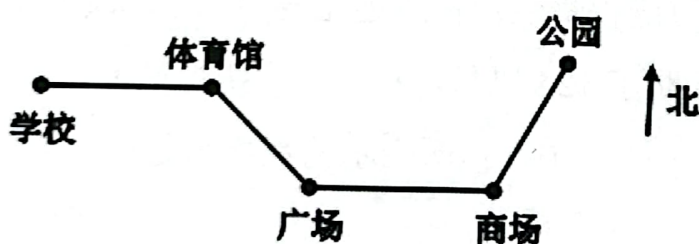
5. 李老师和 28 个学生一起去公园划船, 每条船最多坐 4 人, 至少租 () 条船。

A. 6 条 B. 7 条 C. 8 条

四、操作题。(8 分)

1. 画一条比 3 厘米长 2 厘米的线段。(2 分)

2. 看图填空。(6 分)

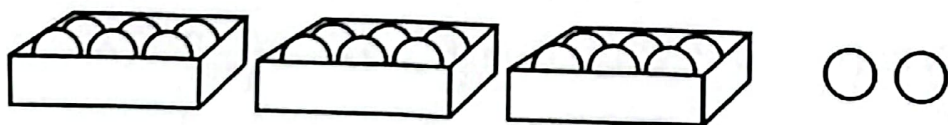


(1) 体育馆在学校的 () 面, 广场在体育馆的 () 面, 公园在商场的 () 面。

(2) 从公园到体育馆的路线是: 先向 () 走到商场, 再向 () 走到广场, 最后向 () 走到体育馆。

五、解决问题。(26 分)

1. 看图列式。(每式 2 分, 共 4 分)



() \div () = () (个) \cdots () (个)

() ÷ () = () (盒) …… () (个)

2. 有 32 个口罩, 平均分给 5 人, 每人可以分到几个? 还剩几个?
(5 分)

3. 有 43 本书, 最少拿走几本才可以平均分给 8 个同学? (5 分)

4. 有一支长 2 分米的铅笔, 用了一段时间后, 还剩下 9 厘米, 用了多少厘米? (4 分)

5. 书店出售某种书。

	第一天	第二天	第三天
售出本数 (本)	5018	5925	4897
接近几千 (本)			

(1) 每天售出的书各接近几千本? 填在表中。(3 分)

(2) 第 () 天售出的书最多, 第 () 天售出的书最少。

(2 分)

(3) 第几天售出书的本数与第一天差不多? (3 分)