



#### 4. 列式计算。(6分)

(1) 被除数是 48，商是 8，除数是多少？

(2) 9 个相同的数相加的和是 63，其中一个加数是多少？

#### 五、按要求作答。(共 14 分)

北京时间 2022 年 4 月 16 日 09 时 56 分，神舟十三号载人飞船返回舱在东风着陆场成功着陆。飞行任务取得圆满成功。二(3)班同学对航天飞船可感兴趣了。下面是二(3)班同学收集航天飞船的图片张数记录情况：

第一组	第二组	第三组	第四组
✓✓✓ ✓✓	○○○○ ○○○	正 正 正	△△△△△△ △△△△△△ △△△△△△

1. 根据上图，把他们记录的情况填在下表中：(8分)

组别	第一组	第二组	第三组	第四组
张数				

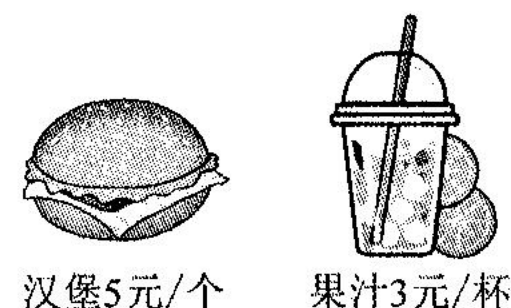
2. 第( )组收集的图片最多，第( )组收集的的图片最少。(2分)

3. 第二组比第三组收集的航天飞船图片( ) (填“多”或“少”) ( )张。(2分)

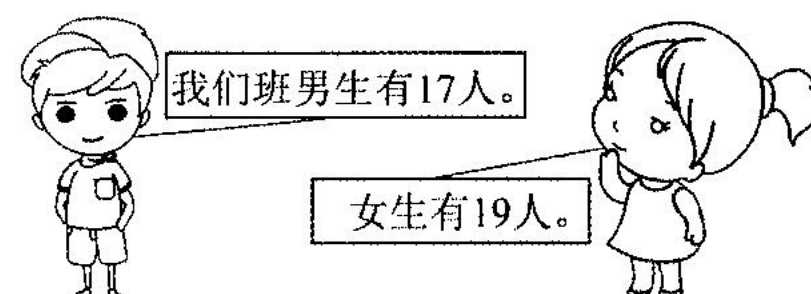
4. 二(3)班同学一共收集了( )张航天飞船的图片。(2分)

#### 六、解决问题。(共 23 分)

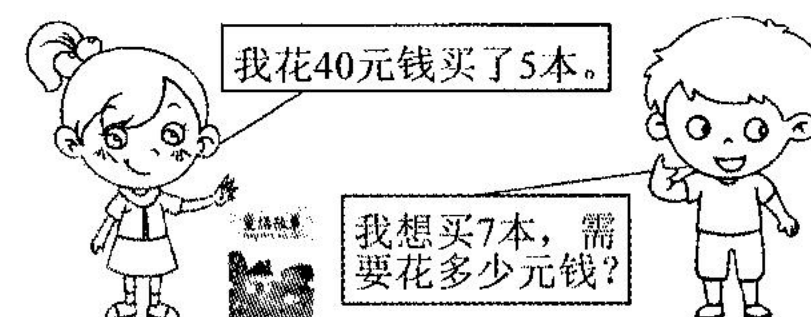
1. 妈妈给了阳阳 15 元钱，让他自己吃午饭，如果他只买汉堡，可以买几个？(4分)



2. 每 4 人为一个学习小组，一共可以分成多少个学习小组？(5分)



3. 买书。(6分)



4. “五一”小长假，希望小学组织 40 位老师去游玩。(8分)



大车：限乘19位乘客



小车：限乘7为乘客

(1) 如果先坐满 1 辆大车，剩下的坐小车，需要多少辆小车？(4分)

(2) 如果临时增加了 2 位老师，大家都坐小车，需要多少辆小车？(4分)