

数学

题卡合一

注意事项

1. 答题前,学生先将自己的学校、班级、姓名、教室、座号、学号填写清楚,并认真核准条形码上的学号,姓名及科目,在规定的位贴好条形码。
2. 选择题必须使用 2B 铅笔填涂;非选择题必须使用 0.5 毫米及以上黑色字迹的签字笔书写,要求字体工整,笔迹清楚。
3. 严格按照题号在相应的答题区域内作答,超出答题区域书写的答案无效。
4. 保持卡面整洁,不装订,不要折叠,不要破损。

贴条形码区

缺席

☐

违纪

☐

填涂样例

正确填涂

错误填涂

学号

0	0	0	0	0	0	0	0	0	0	0	0
1	1	1	1	1	1	1	1	1	1	1	1
2	2	2	2	2	2	2	2	2	2	2	2
3	3	3	3	3	3	3	3	3	3	3	3
4	4	4	4	4	4	4	4	4	4	4	4
5	5	5	5	5	5	5	5	5	5	5	5
6	6	6	6	6	6	6	6	6	6	6	6
7	7	7	7	7	7	7	7	7	7	7	7
8	8	8	8	8	8	8	8	8	8	8	8
9	9	9	9	9	9	9	9	9	9	9	9

请在各题目的答题区域内作答,超出黑色矩形边框限定区域的答案无效

一、填一填。(每空 1 分,共 34 分)

1. 按顺序写数。

28	29		31	
----	----	--	----	--

100		98		96	
-----	--	----	--	----	--

2. 看图写数并读出来。

百位	十位	个位
	3	4

写作:()

读作:()

百位	十位	个位
1	0	0

写作:()

读作:()

百位	十位	个位
4	0	0

写作:()

读作:()

3. (1)69 添 1 是()个十,80 里面有()个十。

(2)5 个十和 4 个一合起来是()。

4. 在○里填“>”“<”或“=”。

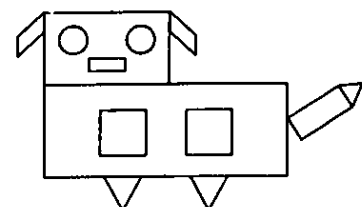
$11-8 \bigcirc 4$

$6+60 \bigcirc 60+5$

$12-9 \bigcirc 3$

$75-70 \bigcirc 75-5$

5. 数一数。



() 个 □	() 个 □
() 个 ○	() 个 ▽
() 个 ▱	

请在各题目的答题区域内作答,超出黑色矩形边框限定区域的答案无效

请在各题目的答题区域内作答,超出黑色矩形边框限定区域的答案无效

6. 把下面各数按从大到小的顺序排列。

37 52 80 43
() > () > () > ()

7. 在□里填上合适的数。

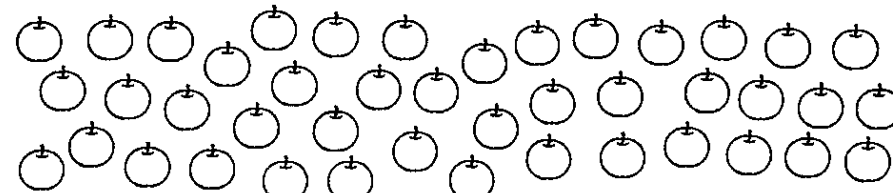
$$8 + \square = 12 \qquad 9 + \square = 18 \qquad \square + 7 = 16$$

$$34 = 30 + \square \qquad 46 = 6 + \square \qquad 50 = 58 - \square$$

8. 和 共有 15 只, 有 7 只, 有()只。

二、数学百花园。(14 分)

1. 43 个苹果,8 个装一袋,可以装满()袋。(2 分)



2. 选数,填一填。(6 分)

65 36 43 26 34 63 37 86

个位上是 6 的数

--

十位上是 3 的数

--

3. 用左边的物体能画出什么图形? 圈一圈。(2 分)

	<input type="checkbox"/> 长方形	<input type="checkbox"/> 正方形	<input type="checkbox"/> 圆
	<input type="checkbox"/> 长方形	<input type="checkbox"/> 正方形	<input type="checkbox"/> 圆

4. (4 分)



我有 37 张画片。



我的画片比小娟少一些。

我的画片比小娟多得多。



小红可能有几张画片? 画“√”;小明可能有几张画片? 画“△”。

15 张	32 张	45 张	90 张

请在各题目的答题区域内作答,超出黑色矩形边框限定区域的答案无效




请在各题目的答题区域内作答,超出黑色矩形边框限定区域的答案无效

三、算一算。(19分)

1. 直接写出得数。(16分)

$14-5=$	$30+5=$	$11-8=$	$16-8+5=$
$13-9=$	$75-70=$	$69-60=$	$7+4-5=$
$26-6=$	$12-8=$	$40+2=$	$15-6-3=$
$18-9=$	$63-60=$	$34-4=$	$13-9+2=$

2. 填数。(3分)

			
原有	13 根	16 个	27 个
卖出	8 根	9 个	20 个
还剩	() 根	() 个	() 个

四、做一做。(12分)

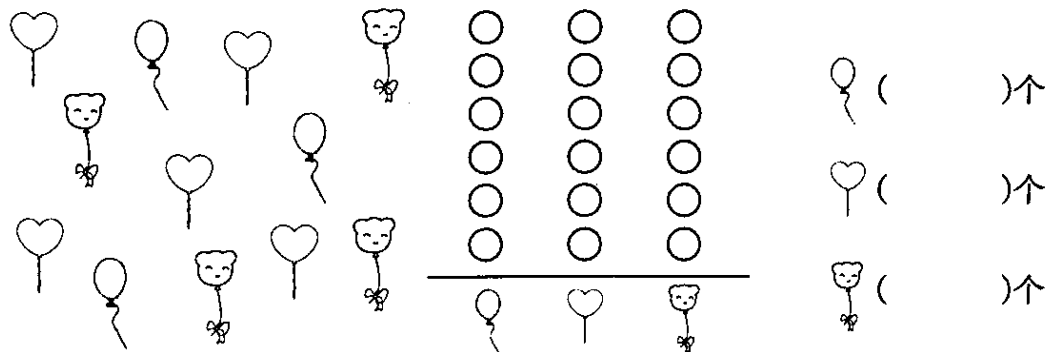
1. 回家。(连线)(6分)



大于 50 的数

小于 50 的数

2. 按气球的种类分一分,再涂一涂,填一填。(6分)



气球 () 个

心形 () 个


猫脸 () 个

请在各题目的答题区域内作答,超出黑色矩形边框限定区域的答案无效

请在各题目的答题区域内作答,超出黑色矩形边框限定区域的答案无效

五、看图列式计算。(每式2分,共8分)

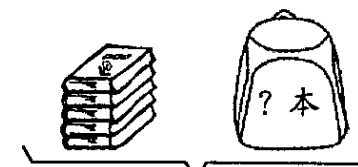
1.



11 个

$$\square \bigcirc \square = \square \text{ (个)}$$

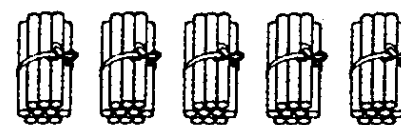
2.



13 本

$$\square \bigcirc \square = \square \text{ (本)}$$

3.



$$\square + \square = \square$$

$$\square - \square = \square$$

六、解决问题。(13分)

1. 鸡有 11 只,鸭有 12 只,鹅有 4 只。

(1) 鸭比鹅多几只? (3分)

(2) 公鸡有 5 只,母鸡有多少只? (3分)

2. 有 38 块拼图,已经拼好了 30 块。还有多少块没有拼? (3分)

3. 每人一盒牛奶,37 盒够吗? 通过计算说明。(4分)

有 30 名女生
和 5 名男生。



请在各题目的答题区域内作答,超出黑色矩形边框限定区域的答案无效