

小学数学二年级下册期中测试题

一、计算。

1. 直接写得数。

$$\begin{array}{cccccc} 12 \div 3 = & 7 \times 8 = & 54 \div 9 = & 5 \times 8 = & 56 \div 8 = \\ 64 - 8 = & 16 \div 2 = & 32 \div 8 = & 54 + 6 = & 42 \div 7 = \\ 72 \div 9 = & 8 \times 3 = & 40 - 5 = & 20 \div 5 = & 45 \div 9 = \\ 6 \times 6 \div 4 = & 5 \times (6 + 3) = & 10 + 2 \times 9 = & 36 \div 4 + 9 = \end{array}$$

2. 脱式计算。


$$88 - (46 - 9)$$

$$(14 + 42) \div 7$$

$$6 \times (42 \div 6)$$

$$76 - 18 + 7$$

二、填空。



有 () 个萝卜, 每 () 个分一份, 可以分成 () 份。
算式是 ()。

2. $36 \div 4 = 9$, 这个算式读作 (), 其中除数是 (), 商是 ()。

3. $8 + 22 = 30$, $54 - 30 = 24$, 把这两道算式改写成一道算式应该是 ()。

4. 计算 $54 \div 9 =$ () 时, 用到的乘法口诀是 ()。
5. 风扇转动是 () 现象, 推拉抽屉 (tì) 是 () 现象。
6. 将下列算式填在合适的 () 里。

$$35 \div 7 \quad 42 \div 6 \quad 7 \times 7 \quad 72 \div 8 \quad 36 \div 6$$

() $>$ () $>$ () $>$ () $>$ ()

7. $45 - (18 + 19)$ 应先算 () 法, 计算 $62 - 6 \times 8$ 应先算 () 法。

8. 把 24 个 ☆ 平均分成 6 份, 每份是 () 个, 列式是 ();
24 个 ○, 每份 8 个, 可以分成 () 份, 列式是 ()。

9. 请在 ○ 里填上 “+” “-” “ \times ” 或 “ \div ”。

$$9 \bigcirc 3 \bigcirc 3 = 3 \quad 7 \bigcirc 2 = 14 \quad 36 = 4 \bigcirc 9 \quad 42 \bigcirc 7 = 6$$

10. 从 72 里连续减去 () 个 8 才能得 0。

三、判断 (对的在括号里画 “√”, 错的画 “ \times ”)。

- $12 \div 4 = 3$, 这个算式表示把 12 分成 4 份, 每份是 3。()
- 每一句乘法口诀都能写出两道除法算式。()
- 计算 7×8 和 $56 \div 7$ 用同一句乘法口诀。()
- 计算 $35 - (23 - 12)$ 时, 应该先算 $23 - 12$ 。()
- 拧开钢笔属于旋转现象。()

四、选择 (把正确答案的序号填在括号里)。

- 把 12 朵花, 平均分成 4 束, 求每束花有几朵? 正确列式为 ()。
A. $12 \div 3$ B. $12 - 4$ C. $12 \div 4$ D. 3×4
- 不会用到 “三九二十七” 这句口诀的算式是 ()。
A. $24 \div 3$ B. 3×9 C. $27 \div 3$ D. $27 \div 9$
- 下面图案中 () 不是轴对称图形。

A.



B.



C.



D.



4. 小红 3 分钟叠了 12 只千纸鹤, 她 8 分钟能叠 () 只千纸鹤。

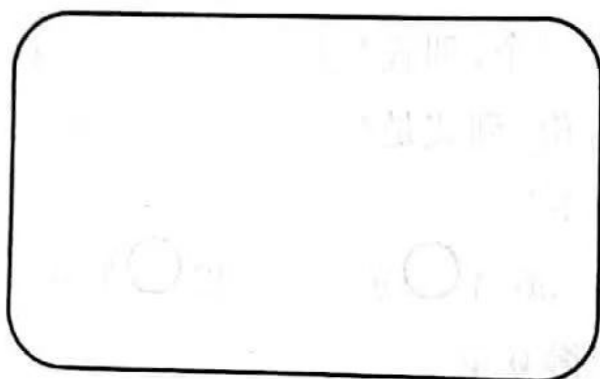
- A. 24 B. 32 C. 12 D. 16

5. 与 $(5+4) \times 8$ 的计算结果相同的算式是 ()

- A. $8 \times 5 + 4$ B. $5 \times 8 + 8$ C. $5 \times 8 + 4 \times 8$ D. $5 + 4 \times 8$

五、画一画, 填一填。

将 15 个 \triangle 摆成排, 使每排的个数相等, 可以怎样摆? 先画一画, 再写出算式和口诀。



$$\square \times \square = \square$$




$$\square \div \square = \square$$

$$\square \div \square = \square$$




口诀: _____



六、小小统计师。

下面是小明记录的一个月的天气情况。

	正 正 正
	正 正 一
	正

(1) 把记录的结果填在下表中。

天气			
天数			

(2) 这个月共有 () 天。  比  多 () 天。

(3) 这个月属于 () 季节。

七、解决问题。

1. 布置教室。
- (1) 如果每人搬 4 盆，一次搬完需要多少人？



共 36 盆

- (2) 现在有 6 名同学，平均每人搬几盆？

2. 二(1)班有男生 17 人，女生 19 人。每 4 人为一个学习小组，一共可以分成多少个学习小组？
3. 学校图书室一共有 80 本《十万个为什么》，一年级借走了 28 本，二年级借走了 36 本，图书室还剩多少本？
4. 小明买了 4 套明信片，每套 8 张。他把其中的 5 张送给了好朋友，他还剩多少张？
5. 钢笔原来 8 元一支，现在优惠促销，3 支 18 元，现在每支多少元？现在每支比原来便宜多少元？