

三年级第二学期学习评价(2)

数 学

题号	一	二	三	四	五	六	成绩
得分							

一、认真填一填。(每空1分,共26分)

1. 从248里连续减去()个8,差等于0。

2. 25×80 的积是()位数,末尾有()个0。

3. ()的6倍是108,24的15倍是()。

4. 根据每组中第一行的得数,直接写出下列各题的得数。

(1) $36 \div 4 = 9$

(2) $18 \times 20 = 360$

$360 \div 4 = ()$

$180 \times 20 = ()$

$3600 \div 4 = ()$

$18 \times 200 = ()$

5. 在○里填上“>”“<”或“=”。

$98 \div 2$ ○ 46

35×30 ○ 105

61×59 ○ 60×60

$105 \div 5$ ○ 21

27×49 ○ 1500

$420 \div 2 \div 3$ ○ $420 \div (2 \times 3)$

6. 若□ $49 \div 6$ 的商是三位数,则□里最小填();若□ $68 \div 4$ 的商是两位数,则□里最大填()。

7. 2022年第24届冬奥会部分国家获得奖牌数如下表:

奖牌数 \ 国家	中国	挪威	德国	美国
金牌	9	16	12	8
银牌	4	8	10	10
铜牌	2	13	5	7

(1) 获得金牌数最多的国家是(),最少的国家是()。

(2) 我国一共获得了()枚奖牌,比美国少()枚。


(3) ()获得的奖牌数最多,一共是()枚。

8. 三年级同学为保护母亲河捐款买树苗,四个班共捐款620元,买一棵树苗需要5元。平均每个班捐款()元,这些钱一共可以买()棵树苗。

9. 每盒钢笔有12支,售价72元。今天卖出15盒这种钢笔,一共卖了()元钱。

二、细心判一判。(对的打“√”,错的打“×”)(5分)

1. 如图,邮局在少年宫的东南方向。



2. 计算 13×40 时,可以这样算: $13 \times 4 = 52$, $52 \times 10 = 520$ 。

3. 两位数乘两位数,积一定是四位数。

4. 一筐草莓15元,买22筐草莓付300元够。

5. 前进小学一年级有4个班,今年招收了161名学生,平均每个班大约有40名学生。

三、精心选一选。(将正确答案的序号填在括号里)(10分)

1. 下面各数,()除以7没有余数。

A. 266

B. 205

C. 347

2. 下面算式中,()的得数最小。

A. $908 \div 2$

B. 25×18

C. 36×12

3. 下面三位师傅,()平均每小时加工的零件最多。

A. 我4小时加工了420个零件。

B. 我5小时加工了550个零件。

C. 我3小时加工了306个零件。



李师傅



赵师傅



王师傅

4. 元宵节吃汤圆是我国的传统习俗。民宿超市新进了356袋汤圆,如果每6袋汤圆装一箱,将这些汤圆装完,至少需要()个箱子。

A. 58

B. 59

C. 60

5. 一本相册有32页,每页能放6张照片,5本这样的相册能放()张照片。

A. 160

B. 960

C. 192

四、慎重算一算。(26分)

1. 口算。(6分)

$12 \times 7 =$

$30 \times 40 =$

$0 \div 5 =$

$703 \div 7 \approx$

$15 \times 20 =$

$60 \times 70 =$

$360 \div 6 =$

$544 \div 9 \approx$

$130 \times 2 =$

$24 \times 20 =$

$33 \div 3 =$

$638 \div 8 \approx$

2. 列竖式计算,带※的要求验算。(10分)

$228 \div 4 =$

※ $705 \div 6 =$

$75 \times 38 =$

$46 \times 29 =$

3. 下面的计算正确吗? 把错误的改正过来。(4分)

$$\begin{array}{r} 130 \\ 5 \overline{) 680} \\ \underline{5} \\ 18 \\ \underline{15} \\ 3 \end{array}$$

$$\begin{array}{r} 58 \\ \times 45 \\ \hline 290 \\ 232 \\ \hline 522 \end{array}$$

4. 计算下面各题。(6分)

$438 \div 2 \div 3$

$68 \div 4 \times 20$

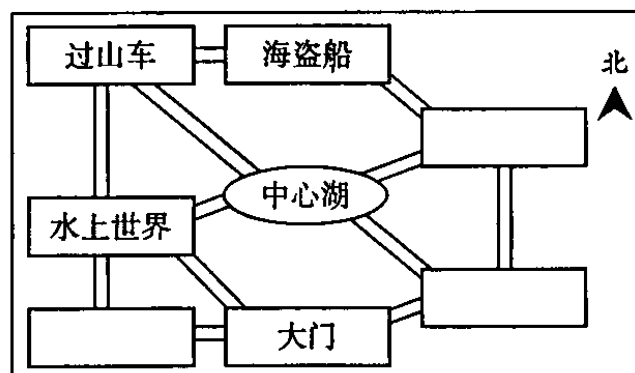
$40 \times 18 - 300$

五、用心做一做。(9分)


1. 右面是游乐园的平面示意图。(4分)

(1) 过山车在游乐园的()角,
水上世界在过山车的()
面。(2分)

(2) 旋转木马在中心湖的东北方向, 摩天轮在大门的西面, 在 里
填出旋转木马和摩天轮的位置。(2分)



2. 采蘑菇。(连线)(5分)



六、走进生活解一解。(24分)

1. 某婚庆公司买来 425 个气球布置会场, 如果每 3 个气球串成一个气球串, 最多可以串多少个气球串, 还剩多少个气球?(3分)

2. 为响应“节能减排, 绿色环保”的号召, 某公交公司购进了 36 辆新能源公共汽车投入运营。一辆新能源公共汽车一次可以运送 30 名乘客, 这批新能源公共汽车一次能运送多少名乘客?(3分)

3. 芳芳读一本 320 页的书, 她 2 周能读完吗? 请计算说明。(4分)

我每天读 24 页。



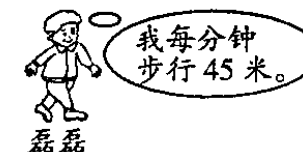
4. 电影《长津湖》一经上映广受好评, 除了剧情精彩之外, 这部影片更是唤起了大家的家国情怀。张老师带领三(1)班 39 名学生去看这部电影, 一张电影票 45 元, 买电影票一共需要多少元?(4分)

小朋友, 要仔细看题哟!

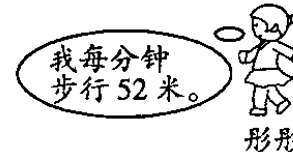


5. 端午节赛龙舟, 一共有 576 名选手参加, 将选手们分成 6 组, 每组有 8 条龙舟, 平均每条龙舟上有多少名选手?(4分)

6. 磊磊每天从家步行到学校需要 12 分钟, 彤彤每天从家步行到学校需要 11 分钟。谁家离学校远? 请计算说明。(6分)



我每分钟步行 45 米。



我每分钟步行 52 米。