

# 景德镇市 2022 届九年级第一次质量检测卷

## 历史（开卷）

命题人：汪三妹（市七中） 审题人：胡慧萍

一、单项选择题（本大题共 20 小题，每小题 2 分，共 40 分。在每小题列出的四个选项中，只有一项符合题目要求的）

1. 古埃及和古印度是亚非两大文明古国，在其古文明发展史上有诸多相似点，关于它们相似点的论述，正确的是

- A. 发源于世界著名大河流域
- B. 产生了具有世界性影响的宗教
- C. 公元前 36 世纪时出现了国家
- D. 打败了外族入侵延续了文明

2. 面对诸侯争霸、社会矛盾尖锐的现实，孔子提出为国以礼、为政以德、为政在人的思想主张，与孔子同时代的另一位先哲则生活在一个等级森严、争权夺利、弱肉强食的混乱社会，他主张人心向善、慈悲为怀、以法超度、以身布施，实质则是诱导世人放弃追求、逃脱现实，以缓和矛盾。这位先哲是



A. 亚里士多德



B. 释迦牟尼



C. 伯利克里



D. 穆罕默德

3. 民主制度使雅典城邦公民成为主人，他们也意识到这一点，为城邦服务即为自己服务，与城邦荣辱与共。“公民……不遗余力地献身国家，战时献出鲜血，平时献出年华，他没有抛弃公务照管私务的自由……相反，他必须奋不顾身地为城邦的福祉而努力”。这段文字主要说明了

- A. 雅典实行的是民主政治
- B. 城邦意识催生民主政治
- C. 雅典公民全民参与政治
- D. 民主政治激发城邦意识

4. “从公元前 3 世纪末开始，运用外交手段和军事力量，经过近 100 年的时间，先后征服了希腊城邦、马其顿、塞琉古、托勒密王国等东地中海地区大小国家。”这一材料反映的事件发生在

- A. 罗马城邦时代
- B. 罗马共和国时期
- C. 罗马帝国时期
- D. 罗马分裂之后

5. 在中世纪的西欧，庄园为领主提供日常消费的面粉、奶酪、火腿、蔬菜等食物，也为领主提供衣物、鞋帽等。庄园由铁匠、金银匠、皮鞋匠、面包师等各色工匠制造不同的物品。这说明西欧庄园

- A. 是独立的政治单位
- B. 农业、手工业和商业发达
- C. 是地方经济的中心
- D. 是独立的自给自足的经济单位

6. 《全球通史》中说：“6 世纪起，中国文明大规模传入日本……那些游历天朝的日本人，作为热情的皈依者，回国后所起的作用更为重大。”这里的“所起的作用”指的是

- A. 推翻君主专制
- B. 推动大化改新
- C. 进行民主改革
- D. 实行文明开化

7. 在亨利二世（1154-1189 年在位）时期，英国剑桥市民支付 300 银币和 1 金币获得了包税权，而且国王的治安官不得随意干涉市民。这说明当时的剑桥

- A. 获得一定自治权
- B. 成为商人聚居地
- C. 加快工业化进程
- D. 建立君主立宪制

8. 本尼迪克特在其著作中写道：“在世界历史上，很难在什么地方找到另一个自主的民族如此成功地、有计划地汲取外国文明。”下列属于该民族在公元 7 世纪为汲取外国文明而采取的改革措施的是

- ①建立以天皇为中心的中央集权制度
  - ②设立“智慧宫”，集科学院、图书馆、翻译馆于一体
  - ③将部民转化为国家公民
  - ④统一赋税
- A. ①②③
  - B. ①②④
  - C. ①③④
  - D. ②③④

9. 《查士丁尼法典》的序言中说：“皇帝的威严、光荣不但依靠武器，而且须用法律来巩固。这样，无论在战时或平时，总是可以将国家治理得很好。”这说明查士丁尼制定法典的目的在于

- A. 宣扬皇帝的权威至高无上
- B. 强调法律在和平时期的作用
- C. 消除战争带来的社会隐患
- D. 利用法律维护统治

10. 中世纪晚期，欧洲社会处于转型时期，生产组织逐渐资本主义化，出现雇佣与被雇佣的生产关系。这一现象主要表现在

- A. 庄园经济和现代工厂制的形成
- B. 租地农场和手工工场的产生
- C. 种植园经济和工业革命的扩展
- D. 工业化和农业集体化的实行

11. 文艺复兴运动前，欧洲绘画雕塑中的圣母像神态呆板无神，少有人间之情。而文艺复兴时期米开朗基罗的作品《哀悼基督》中，圣母是一个容貌端庄美丽的母亲，她的神情散发着母爱的光芒。此现象说明

- A. 圣像画深受人文思想影响
- B. 宗教信仰失去了神圣地位
- C. 艺术家多出身于平民阶层
- D. 画家们缺乏艺术的想象力

12. “东西两半球的不同文化圈的大汇合，加速了人类从传统农业文明向现代化工业文明转变的过程……如果没有美洲贡献的大量金银与物质财富，没有北美的自由移民垦殖区，西方资本主义的发展将会缓慢得多。这则材料评述的历史事件是

- A. 文艺复兴
- B. 新航路开辟
- C. 英国资产阶级革命
- D. 法国大革命

13. “当地的印第安人无法用来做种植园的活，因为他们染上了来自欧洲的疾病，正在灭绝。种植园主起初想雇用欧洲的契约工人，但是，他们的工资太高且自由散漫”。种植园劳动力不足的现象引发了

- A. 新航路开辟
- B. 殖民扩张
- C. 奴隶贸易
- D. 工业革命

14. 一个人的绝对权力阻碍了国家的发展，不限制这种权力，国家便无法进步。克服专制王权于是成了继续前进的条件，在这个时候，谁先克服专制王权，谁就先迈出现代化的第一步。最先“迈出现代化的第一步”是通过

- A. 《权利法案》的颁布
- B. 《独立宣言》的发表
- C. 1791 年宪法的颁布
- D. 现代工厂制度的确立

15. 右侧是一幅 18 世纪的漫画，漫画中此漫画反映的历史事件是

- A. 英国资产阶级革命
- B. 美国独立战争
- C. 法国大革命
- D. 美国南北战争

16. 《独立宣言》被称为历史上第一个“废除奴隶制，黑人选举权按五分之三人口

- A. 自由平等原则
- B. 三权分立原则

17. 拿破仑对俄国的入侵曾让俄国诗人普希金成为俄国的救世主。普希金态度的转变，是

- A. 促进了两国商业发展
- C. 客观上打击了欧洲封建势力

18. 历史解释是对史实的分析和评价，下列属于历史解释的是

- A. 《汉谟拉比法典》除前沿外正文共 4133 条
- B. 《十二铜表法》是罗马法制建设的第一步
- C. 1787 年宪法规定美国是个联邦制国家
- D. 《拿破仑法典》于 1804 年颁布

19. 据统计，到 19 世纪 20 年代，在两台手工织工多 15 倍，这数据直接说明

- A. 传统手工行业日益消亡
- C. 机器效率高于手工生产

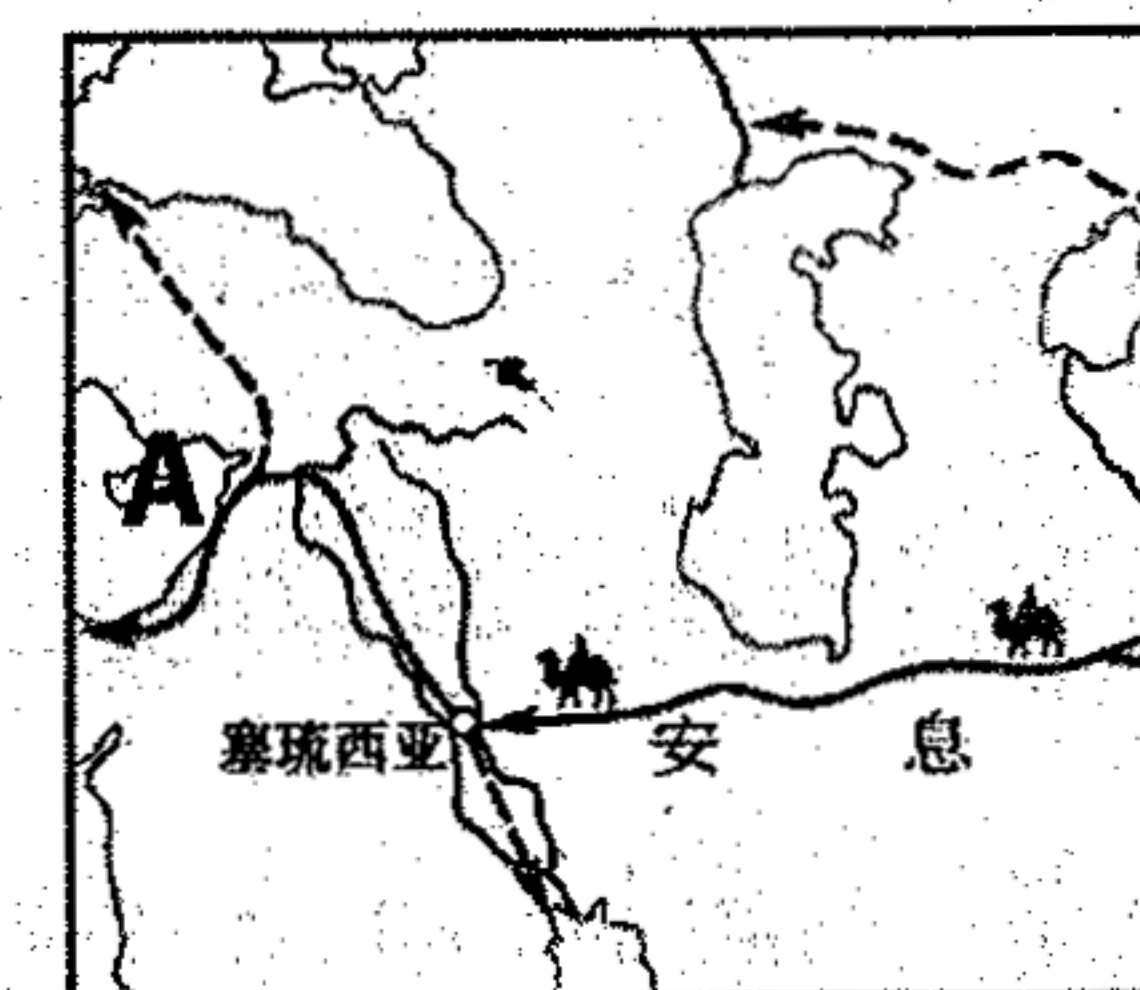
20. 2018 年 5 月 4 日，国家主席习近平在纪念马克思诞辰 200 周年大会上发表重要讲话，指出马克思是人类思想史上，没有一种思想理论像马克思主义那样具有如此广泛而深刻的影响。下列事件受到马克思主义影响的是

- A. 文艺复兴
- B. “光荣革命”

二、材料题（本大题共 4 小题，其中 21 题 40 分。）

21. 古代文明的传播与发展（10 分）

材料一 《丝绸之路》示意图





# 第一次质量检测卷

## 卷)

审题人：胡慧萍

共 40 分。在每小题列出的四个选项中，

文明发展史上有诸多相似点，关于它们相似

生了具有世界性影响的宗教

败了外族入侵延续了文明

为国以礼、为政以德、为政在人的思想主

森严、争权夺利、弱肉强食的混乱社会，

，实质则是诱导世人放弃追求、逃脱现实，



利克里



D. 穆罕默德

到这一点，为城邦服务即为自己服务，与

时献出鲜血，平时献出年华，他没有抛弃

邦的福祉而努力”。这段文字主要说明了

意识催生民主政治

政治激发城邦意识

力量，经过近 100 年的时间，先后征服了

地区大小国家。”这一材料反映的事件发

帝国时期 D. 罗马分裂之后

、奶酪、火腿、蔬菜等食物，也为领主

面包师等各色工匠制造不同的物品。这

手工业和商业发达

立的自给自足的经济单位

入日本……那些游历天朝的日本人，作

的“所起的作用”指的是

文化改新

文明开化

共 6 页

7. 在亨利二世(1154-1189 年在位)时期，英国剑桥市民支付 300 银币和 1 金币获得了包税权，而且国王的治安官不得随意干涉市民。这说明当时的剑桥

A. 获得一定自治权

B. 成为商人聚居地

C. 加快工业化进程

D. 建立君主立宪制

8. 本尼迪克特在其著作中写道：“在世界历史上，很难在什么地方找到另一个自主的民族如此成功地、有计划地汲取外国文明。”下列属于该民族在公元 7 世纪为汲取外国文明而采取的改革措施的是

①建立以天皇为中心的中央集权制度

③将部民转化为国家公民

②设立“智慧宫”，集科学院、图书馆、翻译馆于一体

④统一赋税

A. ①②③

B. ①②④

C. ①③④

D. ②③④

9. 《查士丁尼法典》的序言中说：“皇帝的威严、光荣不但依靠武器，而且须用法律来巩固。这样，无论在战时或平时，总是可以将国家治理得很好。”这说明查士丁尼制定法典的目的在于

A. 宣扬皇帝的权威至高无上

B. 强调法律在和平时期的作用

C. 消除战争带来的社会隐患

D. 利用法律维护统治

10. 中世纪晚期，欧洲社会处于转型时期，生产组织逐渐资本主义化，出现雇佣与被雇佣的生产关系。这一现象主要表现在

A. 庄园经济和现代工厂制的形成

B. 租地农场和手工工场的产生

C. 种植园经济和工业革命的扩展

D. 工业化和农业集体化的实行

11. 文艺复兴运动前，欧洲绘画雕塑中的圣母像神态呆板无神，少有人间之情。而文艺复兴时期米开朗基罗的作品《哀悼基督》中，圣母是一个容貌端庄美丽的母亲，她的神情散发着母爱的光芒。此现象说明

A. 圣像画深受人文思想影响

B. 宗教信仰失去了神圣地位

C. 艺术家多出身于平民阶层

D. 画家们缺乏艺术的想象力

12. “东西两半球的不同文化圈的大汇合，加速了人类从传统农业文明向现代化工业文明转变的过程……如果没有美洲贡献的大量金银与物质财富，没有北美的自由移民垦殖区，西方资本主义的发展将会缓慢得多。这则材料评述的历史事件是

A. 文艺复兴

B. 新航路开辟

C. 英国资产阶级革命

D. 法国大革命

13. “当地的印第安人无法用来做种植园的活，因为他们染上了来自欧洲的疾病，正在灭绝。种植园主起初想雇用欧洲的契约工人，但是，他们的工资太高且自由散漫”。种植园劳动力不足的现象引发了

A. 新航路开辟

B. 殖民扩张

C. 奴隶贸易

D. 工业革命

14. 一个人的绝对权力阻碍了国家的发展，不限制这种权力，国家便无法进步。克服专制王权于是成了继续前进的条件，在这个时候，谁先克服专制王权，谁就先迈出现代化的第一步。最先“迈出现代化的第一步”是通过

A. 《权利法案》的颁布

B. 《独立宣言》的发表

C. 1791 年宪法的颁布

D. 现代工厂制度的确立

15. 右侧是一幅 18 世纪的漫画，漫画中“美利坚”烈马要将骑在它身上的殖民者掀翻在地，此漫画反映的历史事件是

A. 英国资产阶级革命

B. 美国独立战争

C. 法国大革命

D. 美国南北战争



16. 《独立宣言》被称为历史上第一个“人权宣言”，但保留了奴隶制；1787 年美国宪法没有废除奴隶制，黑人选举权按五分之三人口折算。美国这些规定违背了

A. 自由平等原则

B. 三权分立原则

C. 联邦制原则

D. 共和制原则

17. 拿破仑对俄国的入侵曾让俄国诗人普希金非常憎恨，拿破仑去世后，普希金却将他视为对抗专制的救世主。普希金态度的转变，是因为他认识到拿破仑的对外战争

A. 促进了两国商业发展

B. 稳定了法国政局

C. 客观上打击了欧洲封建势力

D. 扩大了法国疆域

18. 历史解释是对史实的分析和评价，下列选项中属于历史解释的是

A. 《汉谟拉比法典》除前沿外正文共有 282 条

B. 《十二铜表法》是罗马法制建设的第一步

C. 1787 年宪法规定美国是个联邦制共和国

D. 《拿破仑法典》于 1804 年颁布

19. 据统计，到 19 世纪 20 年代，在两台蒸汽织机旁工作的一个男孩所织的布匹比一个熟练的手工匠工多 15 倍，这数据直接说明

A. 传统手工行业日益消亡

B. 机器生产完全取代手工劳动

C. 机器效率高于手工生产

D. 工业革命加剧贫富分化

20. 2018 年 5 月 4 日，国家主席习近平在纪念马克思诞辰 200 周年大会上的讲话中指出：“在人类思想史上，没有一种思想理论像马克思主义那样对人类产生了如此广泛而深刻的影响。”下列事件受到马克思主义影响的是

A. 文艺复兴

B. “光荣革命”

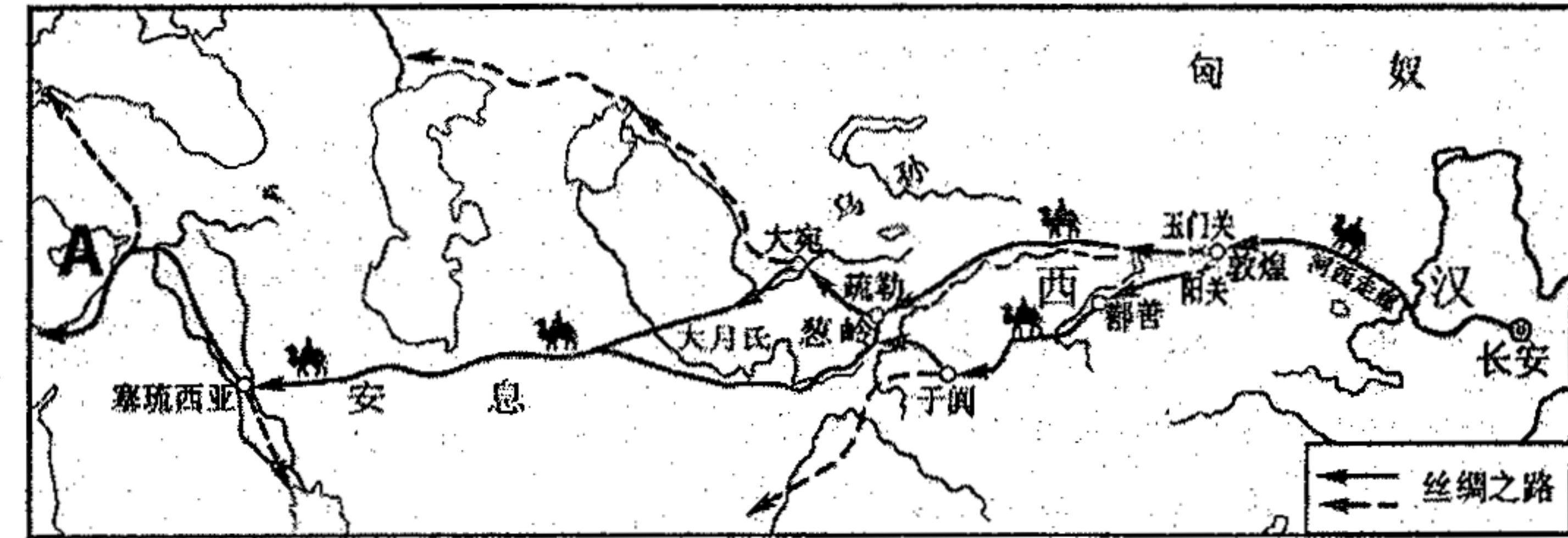
C. 法国大革命

D. 巴黎公社

二、材料题（本大题共 4 小题，其中 21 题 10 分，22 题 6 分，23 题 10 分，24 题 14 分，共 40 分。）

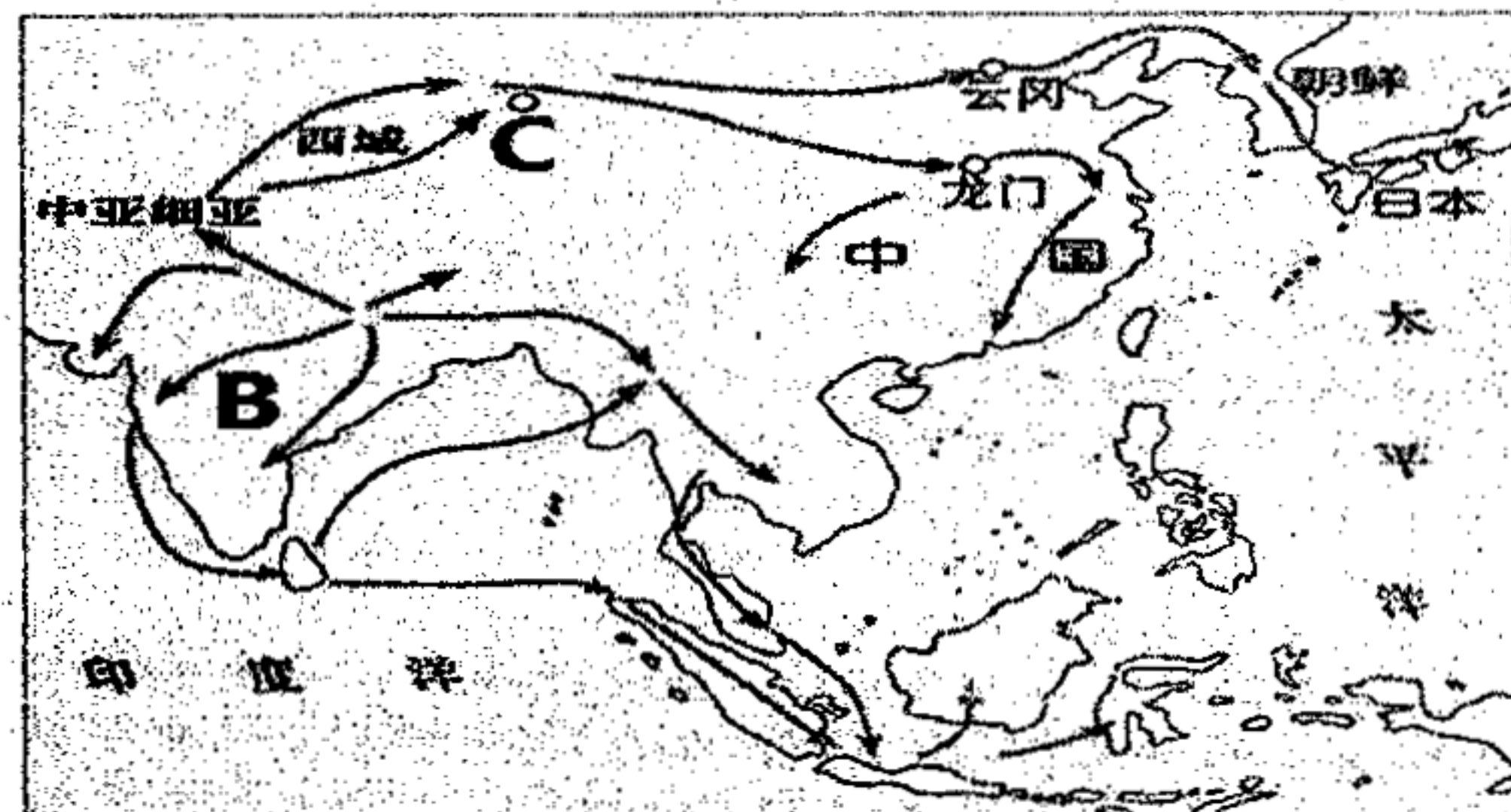
21. 古代文明的传播与发展（10 分）

材料一 《丝绸之路》示意图





材料二 《佛教的传播》示意图



材料三 《14 世纪前后欧亚主要商路》示意图



- (1) 材料一中的商路上, 古代中国的货物最远可以运到 A 国, 该国是指当时哪个国家? (2 分)
- (2) 结合所学, 指出材料二中 B 处是哪个国家? 佛教传播的主要原因是什么? (3 分)
- (3) 根据材料三并结合所学, 举例说明阿拉伯人是东西方文明的传播使者。(2 分) 你认为当今文明交流应具备哪些条件? (3 分)

22. 列表格是学习归纳历史的方法之一, 以下是小方同学在学习英国历史时列的一个有关英国殖民扩张的表格。(6 分)

时间	事件
1600 年	英国女王特许英国东印度公司垄断英国与好望角以东各国的贸易。
1607—1733 年	英国在北美大西洋沿岸共建立了 13 个殖民地。
1652—1674 年	英国发动数次对荷战争, 给荷兰以致命打击。
1756—1763 年	英法七年战争, 法国战败, 英国一跃成为世界上最大的殖民帝国。
1757—1765 年	英国东印度公司从孟加拉国库中夺走价值 526 万英镑的财富。

- (1) 根据表格, 概括英国早期殖民扩张的主要方式。(4 分)
- (2) 根据表格及所学知识, 从政治角度分析英法七年战争中, 法国战败, 英国取胜的原因。(2 分)

23. 如果说 20 世纪以前的西欧是世界的中心, 那么英国可以说是中心的“核心”。阅读下列材料, 回答问题。(10 分)

材料一: (1660 年英国斯图亚特王朝复辟后) 无论是继续革命还是反革命复辟, 都难以获得普遍的认同, 都会导致社会的激烈而反复的震荡。革命建国难以达成, 反革命复辟又不具有制宪建国的意义, 一个稳固的政治体制从两个极端的政治主张中都不能合法地产生或创制出来。为此, 英国当时的政治精英试图打破上述革命与复辟循环震荡的怪圈。

——摘编自高全喜《英国宪制中的安全妥协原则》

材料二: 到 19 世纪中期, 英国已经是一个工业化国家。乡村建起了灰暗的厂房, 城镇竖起高耸的烟囱, 工厂里回荡着机器的轰鸣, 高炉前迸发出铁水的光亮。工业已成为国家的命脉, 人们靠工业、而不是农业生存。

——摘编自钱乘旦、许洁明《英国通史》

材料三: 工业革命从物质上增强了资本主义的力量。资产阶级的革命和改革运动更广泛地开展起来。工业革命的另一个重要社会后果是它造成了产业工人阶级, 工人运动由是兴起。在工业革命影响下发生的社会变化和工人运动的兴起, 使社会主义的思潮空前活跃起来。此外, 工业革命造成的商品在数量和质量上的提高, 促使资产阶级的殖民扩张也大大超过以往的年代, 开始征服全世界。在这些活动的刺激下, 民族运动更大规模地发展起来。

——摘编自刘宗绪《世界近代史》


- (1) 根据材料一并结合所学知识, 指出 17 世纪晚期英国政治精英为了避免陷入困境而采取的主要措施。(2 分)
- (2) 材料二中“高耸的烟囱”和“机器的轰鸣”主要与哪一项发明相关? (2 分) 根据材料二并结合所学知识, 概括工业革命前后英国经济领域的变化。(3 分)
- (3) 围绕表中的论点, 从材料三找出论据。(3 分)

论点	论据
工业革命后世界上出现了三股新兴潮流	论据一: _____
	论据二: _____
	论据三: _____

24. 人口流动是一种重要的社会现象, 能够焕发社会生机与活力, 在不同时期不同国家的具体表现各异。阅读下列材料, 回答问题。(14 分)

【欠缺性的人口流动】

材料一



(1) 指出图片反映的政治制度的特点。(2 分)

【区域性的人口流动】

材料二 10 世纪开始, 欧洲城市逐渐大量移居城市, 使得市民阶层壮大。他们可能, 也为世界市场的扩大做好了铺垫, 平等的现代意识。

(2) 根据材料二, 概括 10 世纪市民崛起的特点。

【全球性的人口流动】

材料三



(3) 仔细观察上述示意图, 指出人口迁移的特点。

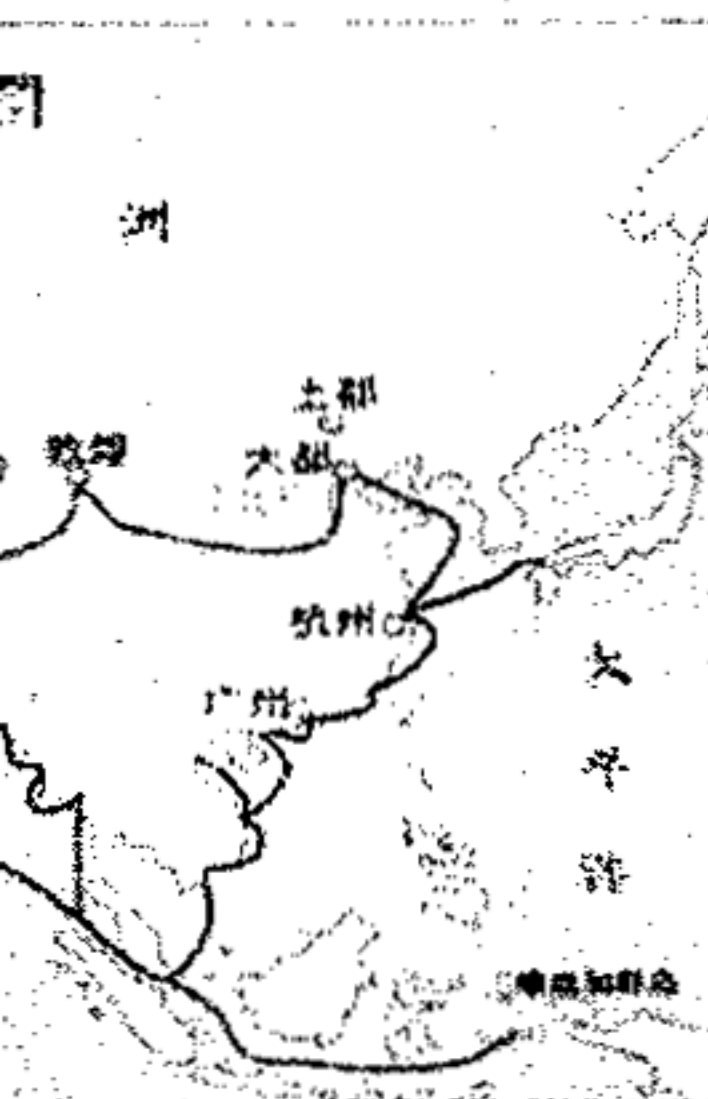
【结构性的人口流动】

材料四 英国曼彻斯特附近人口统计

时间	城市
1790 年	约 10 万人
1801 年	约 20 万人
1841 年	约 50 万人

- (4) 根据材料四指出英国曼彻斯特人口变化的特点。
- (5) 综合以上材料, 你对人口流动问题有何认识?





到 A 国，该国是指当时哪个国家？（2

传播的主要原因是什么？（3分）  
西方文明的传播使者。（2分）你认为当

在学习英国历史时列的一个有关英国

件
断英国与好望角以东各国的贸易。
共建立了 13 个殖民地。
，给荷兰以致命打击。
一跃成为世界上最大的殖民帝国。
中夺走价值 526 万英镑的财富。

4 分）

战争中，法国战败，英国取胜的原因。

23. 如果说 20 世纪以前的西欧是世界的中心，那么英国可以说是中心的“核心”。阅读下列材料，回答问题。（10 分）

材料一：（1660 年英国斯图亚特王朝复辟后）无论是继续革命还是反革命复辟，都难以获得普遍的认同，都会导致社会的激烈而反复的震荡。革命建国难以达成，反革命复辟又不具有制宪建国的意义，一个稳固的政治体制从两个极端的政治主张中都不能合法地产生或创制出来。为此，英国当时的政治精英试图打破上述革命与复辟循环震荡的怪圈。

——摘编自高全喜《英国宪制中的安全妥协原则》

材料二：到 19 世纪中期，英国已经是一个工业化国家。乡村建起了灰暗的厂房，城镇竖起高耸的烟囱，工厂里回荡着机器的轰鸣，高炉前喷发出铁水的光亮。工业已成为国家的命脉，人们靠工业、而不是农业生存。

——摘编自钱乘旦、许洁明《英国通史》

材料三：工业革命从物质上增强了资本主义的力量。资产阶级的革命和改革运动更广泛地开展起来。工业革命的另一个重要社会后果是它造成了产业工人阶级，工人运动由是兴起。在工业革命影响下发生的社会变化和工人运动的兴起，使社会主义的思潮空前活跃起来。此外，工业革命造成的商品在数量和质量上的提高，促使资产阶级的殖民扩张也大大超过以往的年代，开始征服全世界。在这些活动的刺激下，民族运动更大规模地发展起来。

——摘编自刘宗绪《世界近代史》

（1）根据材料一并结合所学知识，指出 17 世纪晚期英国政治精英为了避免陷入困境而采取的主要措施。（2 分）

（2）材料二中“高耸的烟囱”和“机器的轰鸣”主要与哪一项发明相关？（2 分）根据材料二并结合所学知识，概括工业革命前后英国经济领域的变化。（3 分）


（3）围绕表中的论点，从材料三找出论据。（3 分）

论 点	论 据
工业革命后世界上出现了三股新兴潮流	论据一：_____
	论据二：_____
	论据三：_____

24. 人口流动是一种重要的社会现象，能够焕发社会生机与活力，在不同时期不同国家的具体表现各异。阅读下列材料，回答问题。（14 分）

【欠缺性的人口流动】

材料一



（1）指出图片反映的政治制度的特点。（2 分）

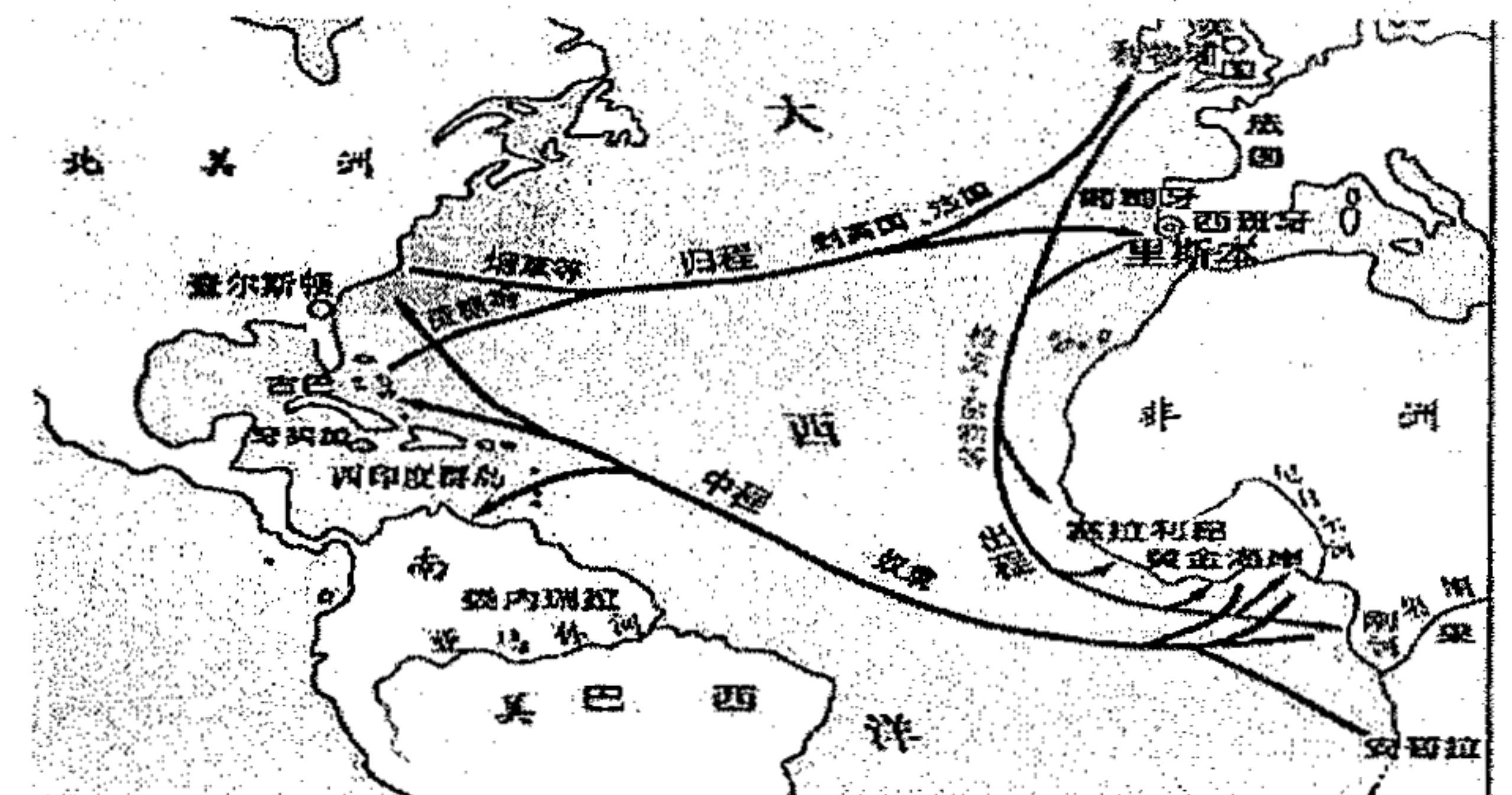
【区域性的人口流动】

材料二 10 世纪开始，欧洲城市逐渐在封建主的领地上兴起。农奴为摆脱领主的控制，大量移居城市，使得市民阶层壮大。他们（市民）的崛起不但为日后资产阶级的出现提供了可能，也为世界市场的扩大做好了铺垫，更是在平常的市民生活过程中孕育了自由、民主、平等的现代意识。

（2）根据材料二，概括 10 世纪市民崛起的意义。（3 分）

【全球性的人口流动】

材料三



（3）仔细观察上述示意图，指出人口迁移的方向及其对迁入地的影响。（3 分）

【结构性的人口流动】

材料四 英国曼彻斯特附近人口统计表

时 间	城市人口	农村人口
1790 年	约 50000	约 109000
1801 年	约 95000	约 82000
1841 年	约 355000	约 76000

（4）根据材料四指出英国曼彻斯特人口的变化趋势并分析产生这种变化的原因。（4 分）

（5）综合以上材料，你对人口流动问题有何感悟？（2 分）