

五华区 2022 年初中学业水平考试模拟测试 (二)

历史试题卷

(全卷共两个大题, 共 29 小题, 共 8 页; 满分 100 分, 考试用时 90 分钟)

注意事项:

1. 本卷为试题卷。考生必须在答题卡上解题作答。答案应书写在答题卡的相应位置上, 在试题卷、草稿纸上作答无效。

2. 考试结束后, 请将答题卡交回, 试题卷自己收好, 以便讲评。

第 I 卷 (选择题, 共 50 分)

一、选择题 (本大题共 25 小题, 每小题 2 分, 共 50 分。在每小题给出的四个选项中, 只有一项是最符合题目要求的。)

1. 我国古代流传着大量有关人类起源和古代先民事迹的神话与传说。在这些著名人物中被尊崇为中华民族人文初祖的是

- A. 盘古和女娲 B. 后羿和伏羲 C. 炎帝和黄帝 D. 舜和禹

2. 公元前 221 年, 秦始皇建立起中国历史上第一个统一的多民族的封建国家, 对后世有深远影响。秦始皇建立了

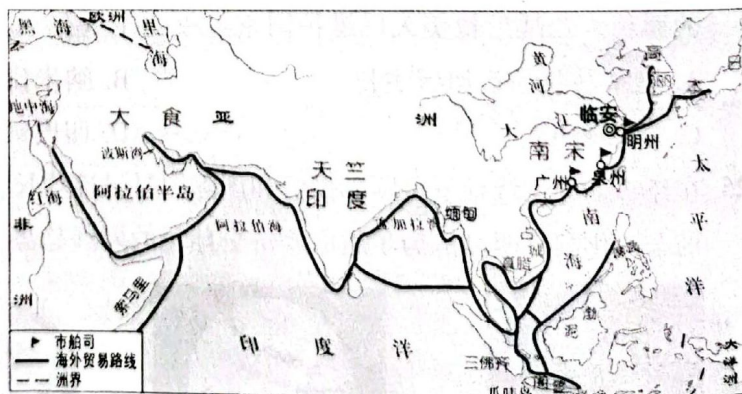
- A. 秦国 B. 秦朝 C. 汉朝 D. 隋朝

3. 唐朝画家阎立本的《步辇图》描绘了唐太宗接见松赞干布派来的求婚使者的场景。唐蕃和亲促进了吐蕃经济和社会的发展。与此相关的是

- A. 册封渤海国首领为渤海郡王 B. 册封回纥首领为怀仁可汗
C. 文成公主入藏 D. 设置安西都护府

4. 右图是宋代海外贸易图, 宋朝是当时世界上从事海外贸易的重要国家。广州、泉州是闻名世界的大商港。朝廷鼓励海外贸易, 在主要港口设立机构管理。这个机构是

- A. 市舶司
B. 布政使司
C. 转运使
D. 广州十三行



5. 北宋杰出的科学家沈括在《梦溪笔谈》一书中记录了毕昇发明的一种技术，该技术印书，“若止印三二本，未为简易；若印数十百千本，则极为神速”。该技术是
- A. 造纸术 B. 雕版印刷术 C. 活字印刷术 D. 指南针
6. 这部小说问世两个半世纪以来，对它的研究，不仅是中华大地上长盛不衰的文化现象，而且远达全球许多角落。这部由曹雪芹创作的小说是
- A. 《三国演义》 B. 《水浒传》 C. 《西游记》 D. 《红楼梦》
7. 20 世纪初，使清政府沦为帝国主义列强统治中国的工具，中国完全陷入半殖民地半封建社会深渊的不平等条约是
- A. 《南京条约》 B. 《北京条约》 C. 《马关条约》 D. 《辛丑条约》
8. 在中国近代化进程中，不同阶级、阶层的代表人物先后提出了自强求富、君主立宪、民主共和、民主与科学等口号和主张，体现了时代的变化和发展。下列能体现“民主共和”主张的是
- A. 洋务运动 B. 戊戌变法 C. 辛亥革命 D. 新文化运动
9. 1928 年 4 月，朱德、陈毅率领南昌起义的部分队伍和毛泽东领导的工农革命军在这里胜利会师。会师不仅增强了这里的武装力量，还有力地推进了革命根据地的斗争。这次会师地点在
- A. 井冈山 B. 瑞金 C. 会宁 D. 吴起镇
10. 全民族抗战爆发后，“到延安去”成为不愿做亡国奴的人们的共同选择。广大知识青年怀抱救国理想，冒着连天烽火，冲破重重阻碍，从国统区、沦陷区、海外奔赴延安，投身革命事业。延安成为令人向往的圣地是因为
- A. 在这里取得了对日作战的第一个重大胜利
- B. 在这里打破了日本 3 个月灭亡中国的迷梦
- C. 在这里取得了正面战场最大一场胜仗
- D. 这里是敌后战场的战略总后方与指挥中枢
11. 时空观念是在特定的时间联系和空间联系中对事物进行观察、分析的意识和思维方式。以下时间轴主要反映了近代中国
- 创办《申报》 创办商务印书馆 创办京师大学堂 废除科举制


1872 年 1897 年 1898 年 1905 年
- A. 教育文化事业的发展 B. 民族资本主义的发展
- C. 近代交通管理和通讯方式的发展 D. 新民主主义革命的兴起
12. “人无精神不立，国无精神不强”。中国人民志愿军在抗美援朝战争中，发扬高度的爱国主义、革命英雄主义、革命乐观主义、革命忠诚及国际主义精神，锻造了伟大的抗美援朝精神。他们中的代表人物有
- A. 杨靖宇 B. 张自忠 C. 左权 D. 邱少云



13. 1954 年制定的《中华人民共和国宪法》规定：“中华人民共和国全国人民代表大会是最高国家权力机关。”以国家根本大法的形式确定了我国的根本政治制度。该制度是
- A. 中国共产党领导的多党合作和政治协商制度
B. 人民代表大会制度
C. 民族区域自治制度
D. 中国特色社会主义制度
14. 2022 年是“九二共识”达成三十周年。面对新形势，两岸双方应该胸怀民族整体利益、紧跟时代前进步伐，携手巩固两岸关系和平发展大格局，共同实现中华民族伟大复兴。“九二共识”的核心内容是
- A. “海峡两岸均坚持一个中国原则”
B. “和平统一、一国两制”
C. 发展两岸关系、推进祖国和平统一
D. 空运直航、海运直航、邮政合作
15. 新中国成立以来，我国国防和军队建设发展迅速，武器装备不断向现代化迈进。2012 年 9 月，我国第一艘航空母舰交接入列，这艘航空母舰是
- A. 定远号
B. 致远舰
C. 辽宁舰
D. 山东舰
16. “禾下乘凉梦，一梦逐一生”是“共和国勋章”获得者袁隆平一生的人生写照。他为解决我国吃饭问题和保证粮食安全，做出的重要贡献是
- A. 完成了人工合成结晶牛胰岛素
B. 修建了“人造天河”红旗渠
C. 成功培育了籼型杂交水稻
D. 发现了有效抵抗疟疾的青蒿素
17. 2022 年 4 月 16 日，神舟十三号载人飞船返回舱成功着陆。翟志刚、王亚平、叶光富返回地球。王亚平迈出了中国女性舱外太空行走的第一步，并达成了为女儿“摘星星”的承诺，成为中国首位进行出舱活动的女航天员。我国首次完成太空“漫步”实验任务的载人飞船是
- A. 东方红一号
B. 神舟一号
C. 神舟五号
D. 神舟七号
18. 两河流域的苏美尔人很早就发明了文字。他们通常用削成尖头的芦秆或木棒做笔，在未干的软泥版上压刻出符号。这些符号的线条由粗到细，很像木楔，所以用这种笔画构成的文字被称为“楔形文字”。下列文物属于“楔形文字”的是



A



B



C



D




19. 从 10 世纪起，西欧开始恢复，农业技术提高，农业剩余产品增加，商业贸易发展，人口增长，出现了许多著名的城市。随着城市的发展和工商业的繁荣，逐渐形成了
- A. 武士集团 B. 骑士阶层 C. 领主和佃户 D. 市民阶层
20. 这是一场反对教会“神权至上”和提倡人文主义的新文化运动，促进了人们思想的大解放，延续了近 300 年之久。这场运动是
- A. 文艺复兴运动 B. 启蒙运动 C. 非暴力不合作运动 D. 华夫脱运动
21. 1880 年 7 月 6 日，法兰西第三共和国颁布法令，将 7 月 14 日定为法国国庆节。这是为了纪念
- A. 三级会议的召开 B. 巴黎民众攻占巴士底狱
- C. 《人权宣言》的发表 D. 《拿破仑法典》的颁布
22. 设计表格归纳知识是学习历史的方法之一。依据表格信息可知，美国两次革命的共同点是

时间	战争	领导者	影响
1775—1783 年	独立战争	华盛顿	既是一场民族解放战争，也是一场资产阶级革命。
1861—1865 年	南北战争	林肯	是美国历史上第二次资产阶级革命。经过这场战争，美国维护了国家统一，废除了奴隶制，清除了资本主义发展的最大障碍。

- A. 推翻了殖民统治 B. 废除了封建制度
- C. 促进了资本主义发展 D. 剥夺了黑人的政治权利
23. 十月革命是人类历史上第一次胜利的社会主义革命，建立了第一个无产阶级专政的国家，推动了国际无产阶级革命运动，鼓舞了殖民地半殖民地人民的解放斗争。十月革命的领导人是
- A. 恩格斯 B. 列宁 C. 斯大林 D. 戈尔巴乔夫
24. 第二次世界大战后，世界资本主义殖民体系逐渐崩溃，亚非拉的民族独立浪潮改变着世界的面貌。二战后拉美人民维护国家主权的斗争有
- A. 巴拿马收回运河区主权 B. 纳米比亚独立
- C. “非洲年” D. 印度民族大起义
25. 在经济全球化背景下，国际投资和国际贸易迅速增长，跨国公司的影响日益增大，生产活动的全球化趋势明显。为了适应经济全球化的发展趋势，1995 年 1 月 1 日成立的国际组织是



A. 联合国



B. 世界贸易组织



C. 亚太经合组织



D. 欧洲联盟



第Ⅱ卷（非选择题，共 50 分）

二、非选择题（本大题共 4 小题，第 26 题 13 分，第 27 题 13 分，第 28 题 12 分，第 29 题 12 分，共 50 分）

26. (13 分) 阅读材料，结合所学知识回答问题。


材料一

儒家是战国时期有很大影响的一个学派，主要代表人物是孟子。他主张实行“仁政”，要求统治者不要过分盘剥人民；还提出“民为贵，社稷次之，君为轻”的思想，认为取得民心才能得天下，并反对一切非正义的战争。

——据部颁统编教材《中国历史》（七年级上册）

(1) 结合所学知识，写出儒家学派创始人，并根据材料一概括孟子的治国理念。（4 分）

材料二

	<p>解放区的土地改革，使农村的阶级关系和土地占有状况发生了根本性变化，激发了农民革命和生产的积极性。翻身农民踊跃参军参战，为人民解放战争的胜利提供了重要的人力、物力保障。</p> <p>——据部颁统编教材《中国历史》（八年级上册）</p>
--	--

(2) 根据材料二，指出解放区土地改革颁布的纲领性文件，以及土地改革对解放战争胜利起到的作用。（4 分）

材料三

云南独龙族：“一步跨千年”的历史巨变

1950 年前	独龙族尚处于原始社会父系氏族公社阶段。
1996 年前	封闭于深谷密林之中，刀耕火种，住草房、走驿道、攀藤桥。
1999 年	交通部投资 1 亿多元，独龙江公路通车。
2010 年	云南省先后投入 14 多亿，省级 32 个部门合力攻坚，上海对口帮扶，100 多名干部驻乡帮扶。
2014 年	农民人均纯收入从 2009 年的 916 元增加到 2525 元。
2017 年	政府全面启动脱贫攻坚、基础设施、特色小镇、旅游发展等 8 大巩固提升行动。
2018 年	独龙族整族脱贫迈向小康，实现“千年跨越”。
2020 年	全乡群众全部住进了新房，特色种植养殖产业遍地开花，4G 网络、广播电视信号覆盖到全乡，村委会全部通柏油路，大病保险全覆盖，孩子们享受十四年免费教育。

——据《云南独龙族：“一步跨千年”的历史巨变》等整理

(3) 根据材料三指出，在党和国家深切关怀下独龙族人民生活发生了怎样的变化？（3 分）



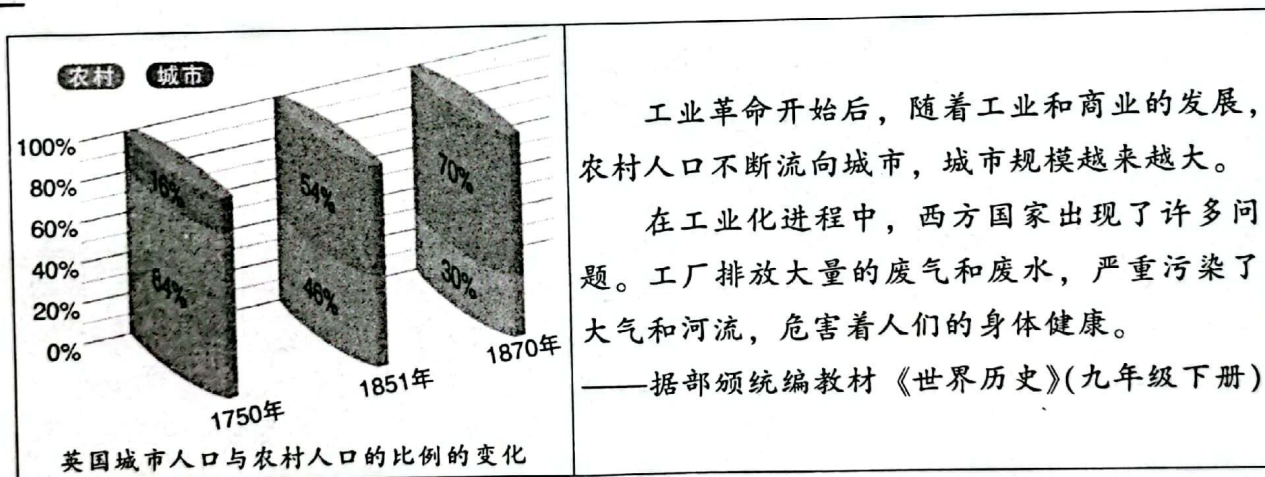
材料四
党的根基在人民、血脉在人民、力量在人民，人民是党执政兴国的最大底气。民心是最大的政治，正义是最强的力量。

(4) 综合上述材料及所学知识,谈谈你对“民心是最大的政治”的认识。(2分)

材料一

——据人民教育出版社教师用书《中国历史七年级上册》

材料二



(2) 根据材料二指出，工业化国家的社会变化有哪些？（4分）

中共十八届五中全会提出了创新、协调、绿色、开放、共享的新发展理念。在中共十八届五中全会第二次会议上，习近平对新发展理念作了重要说明：创新发展注重的是解决发展动力问题；协调发展注重的是解决发展不平衡问题；绿色发展注重的是解决人与自然和谐问题；开放发展注重的是解决发展内外联动问题；共享发展注重的是解决社会公平正义问题。

(3) 根据材料三，指出新发展理念中“绿色发展”着力解决的问题。(2分)

(4) 综合上述材料及所学知识,谈谈你对社会发展与生态文明建设的认识。(3分)



28. (12分) 阅读材料, 结合所学知识回答问题。

材料一

各地的共产党早期组织建立后, 都积极宣传马克思主义和开展工人运动, 为建党工作进行了必要准备。首先, 他们研究和宣传马克思主义理论, 介绍建党学说, 开展对各种反马克思主义思潮的批判, 从组织上纯洁和扩大了共产主义者的队伍。其次, 他们还有计划地从事工人运动, 出版通俗刊物, 对工人进行马克思主义教育。共产党早期组织的建立及活动的开展, 推动了马克思主义的广泛传播, 促进了中国工人运动的发展。马克思主义和工人运动已经日益结合起来了, 中国共产党成立的条件至此已经成熟。

——据人民教育出版社教师用书《中国历史八年级上册》

- (1) 根据材料一, 概括中国共产党成立的条件, 并结合所学知识, 写出中国共产党成立的标志。(4分)

材料二

红军第五次反“围剿”失败, 长征初期严重受挫。1935年1月15日至17日, 中共中央政治局在此召开扩大会议。3天里, 中国共产党人第一次独立自主地运用马克思主义基本原理解决自己的路线、方针和政策问题。3天里, 一个影响中国革命走向的具有历史性意义的重大决议形成。它结束了“左”倾教条主义错误在中央的统治, 确立了毛泽东在中共中央和红军的领导地位。这次会议, 在极端危急的关头挽救了党, 挽救了红军, 挽救了中国革命。伟大的转折自此开始。

——据《人民日报》

- (2) 根据材料二及所学知识, 写出这次会议的名称及意义。(4分)

材料三

党在改革开放的艰辛探索 and 实践中, 创立了邓小平理论, 邓小平理论作为指导思想, 又指引党谱写了改革开放的新篇章。实践永无止境, 理论创新也永无止境。随着中国特色社会主义进入新时代, 在推进伟大社会革命和伟大自我革命的历史进程中, 党的十九大把习近平新时代中国特色社会主义思想确立为党的指导思想并写入党章, 实现了党的指导思想的又一次与时俱进。习近平新时代中国特色社会主义思想是对马克思列宁主义、毛泽东思想、邓小平理论、“三个代表”重要思想、科学发展观的继承和发展, 是马克思主义中国化最新成果, 是当代中国马克思主义、21世纪马克思主义。

——据中国社会科学网《邓小平理论: 中国特色社会主义理论体系的开卷篇》

- (3) 根据材料三指出, 改革开放后马克思主义中国化形成了哪些理论成果?(举两例即可, 2分)

- (4) 综合上述材料及所学知识, 谈谈你从马克思主义中国化历程中得到的启示。(2分)

29. (12分) 阅读材料, 结合所学知识回答问题。

材料一

本宣言签字国政府,

深信完全战胜它们的敌国对于保卫生命、自由、独立和宗教自由并对于保全其本国和其他各国的人权和正义非常重要, 同时, 它们现在正对力图征服世界的野蛮和残暴的力量从事共同的斗争, 兹宣告:






(1) 每一政府各自保证对与各该政府作战的三国同盟成员国及其附从者使用其全部资源，不论军事的或经济的。

(2) 每一政府各自保证与本宣言签字国政府合作，并不与敌人缔结单独停战协定或和约。

——据人民教育出版社教师用书《中国历史九年级下册》

(1) 根据材料一及所学知识，写出材料中宣言的名称及其产生的影响。(4分)

材料二

		
1948年，美、英、法计划将占领区合并，准备发行货币，筹建政权，引起苏联的抗议。结果“柏林危机”爆发。	1999年，以美国为首的北约打着“人权高于主权”的幌子，越过联合国安理会，对南斯拉夫联盟共和国进行了持续78天的轰炸。	2001年，恐怖分子劫持3架飞机，两架撞向纽约的标志性建筑世界贸易中心双塔大楼。

——据部颁统编教材《世界历史》(九年级下册)

(2) 根据材料二指出，二战后威胁世界和平的主要因素。(两点即可，2分)

材料三

1955年，在印度尼西亚的万隆，来自亚洲、非洲的29个国家和地区的代表举行了第一次亚非会议，也就是万隆会议。会议通过了和平相处、友好合作的十项原则。会议体现的亚非国家和地区团结合作、友好相处，共同反对帝国主义和殖民主义，争取和巩固民族独立，保卫世界和平的精神，称为“万隆精神”。从万隆会议开始，发展中国家作为一支新兴独立的政治力量登上了国际舞台。

20世纪50年代开始，一些新独立的民族国家为了维护国家独立，摆脱美国和苏联的控制，实行和平、不结盟的对外政策，发起了不结盟运动。1961年，不结盟运动正式成立。标志着广大发展中国家已经成为国际政治舞台上的一支重要力量。

——据部颁统编教材《世界历史》(九年级下册)

(3) 根据材料三指出，发展中国家为建立国际新秩序作出了哪些努力?(4分)

材料四

中国积极推动建设新型国际关系。习近平总书记指出：“志同道合，是伙伴。求同存异，也是伙伴。”推动建设新型国际关系，前提是相互尊重、平等相待。

今天，面对各种紧迫全球性挑战，各国相互依存、命运与共，合作共赢的价值和意义更加彰显。合作共赢是新型国际关系的核心，是实现和平发展目标的现实路径。

——据人民日报《推动国际关系健康发展的中国方案》

(4) 综合上述材料及所学知识，说说新形势下各国应如何推动国际关系健康发展。(2分)

