

# 遂川县 2022 年初中学业水平模拟考试

## 历史试题

题号	一	二	总分
得分			

一、选择题(本大题共 20 小题,每小题 2 分,共 40 分。在每小题列出的四个选项中,只有一项符合题目要求。请将答案按要求填涂在答题卡的相应位置。)

1. 中国是农业大国,农业生产具有悠久的历史。下列江西省新石器时代历史遗址的考古发现中,与原始农业的兴起无关的是 ( )

- A. 万年仙人洞遗址稻谷 B. 修水山背跑马岭村落  
C. 樟树樊城堆遗址陶窑 D. 新余拾年山遗址石锄

2. 比较法是历史学习的重要方法,有利于历史思维的拓展。试比较商鞅变法和西欧的封君封臣制改革有何共同点 ( )

- A. 都有利于加强中央集权 B. 都有利于封建制度的形成  
C. 都确立了土地的公有制 D. 都实施了鼓励商业的措施

3. 右图为陕西历史博物馆藏品《“汉并天下”瓦当》,此瓦当是为了纪念刘邦率汉军在垓下击败项羽,建立汉朝一统天下而制作。下列成语与该历史事件相关的是 ( )

- A. 四面楚歌 B. 朝秦暮楚 C. 卧薪尝胆 D. 纸上谈兵

4. 河南卫视歌舞节目《唐宫盛宴》在一夜之间火遍大江南北。节目中,参加夜宴的宫女们如同在古画中穿行,她们时而嬉笑打闹,时而梳妆打扮,盛唐时期的文化风貌尽情展现。下列场景有可能出现在节目中的是 ( )

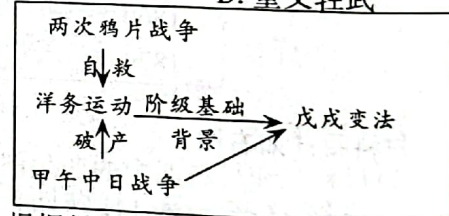
- A. 采用了杂剧表演形式 B. 背景是《清明上河图》  
C. 出现了胡萝卜玉米汤 D. 展示了《三彩骆驼俑》

5. 学者陈旭麓曾评价某一政策:“它是落后的封建自然经济的产物,后期它虽是一种消极防御的手段,但对近代中国社会的发展,却起到了严重的阻碍作用。”这一政策可能是 ( )

- A. 重农抑商 B. 闭关锁国 C. 八股取士 D. 重文轻武

6. 右图为某同学制作的专题学习结构图,他研究的主题最可能是 ( )

- A. 发展中的矛盾  
B. 战争中的自救  
C. 改革中的阻力  
D. 危机中的探索



7. 孙中山曾写出:各方在八国联军后的反应给了他的革命行动新的革命力量,入党人数增多,海外筹款,较前有效。根据材料可以得出辛亥革命爆发的背景是 ( )

- A. 革命团体的纷纷建立 B. 早期革命积累了经验  
C. 民族危机的空前严重 D. 资产阶级思想的传播

8. “她是中国第一个红色政权——中华苏维埃共和国临时中央政府的诞生地,第二次国内革命战争时期中央革命根据地的中心,是驰名中外的红军二万五千里长征的出发地之一。”材料中的“她”可能是我国的哪座城市 ( )

- A. 瑞金 B. 延安 C. 井冈山 D. 南昌

9. 有学者指出:“中国之所以能在 1937 年奋起抗战,西安事变实为契机。西安事变引起中国国内政局的一大变动就是全国军民、男女老幼、朝野上下真心诚意的投入民族解放战争。”由材料及所学知识可知西安事变 ( )

- A. 标志着中国全面抗战的开始  
B. 成为了扭转时局的关键  
C. 彻底解决了国内的阶级矛盾  
D. 改变了日本侵华的政策

10. 北京同仁堂是创建于康熙八年的著名中药老字号,解放前属于私有制的企业。右图是其 1949 年和 1959 年职工数和生产总值变化表。导致这一变化的主要原因是 ( )

年份	职工数(人)	生产总值(万元)
1949	194	16
1959	540	1251

- A. 参加了合作社 B. 实行了公私合营 C. 走集体化道路 D. 参加了人民公社



- 11.《中国共产党第十九届中央委员会第六次全体会议公报》提出：“在这个时期……我国实现了从高度集中的计划经济体制到充满活力的社会主义市场经济体制、从封闭半封闭到全方位开放的历史性转变。”材料中的“这个时期”指的是 ( )
- A. 新民主主义革命时期 B. 向社会主义社会的过渡时期  
C. 社会主义建设的探索时期 D. 社会主义现代化建设新时期
12. 2022 年是“九二共识”达成 30 周年,正是在这一共识基础上,海峡两岸关系虽然波折不断,但是和平统一一直是两岸共同的夙愿。下列图片反映的历史事件与“九二共识”无关的是 ( )



邓小平会见撒切尔夫人



汪辜会谈



胡锦涛会见连战



习近平和马英九会面

13. 九年级(3)班在排演一场古代帝王戏。按照相关的史实,下列帝王的先后出演顺序是 ( )

- ①屋大维首创“元首制” ②亚历山大东征  
③汉谟拉比加强中央集权 ④查理曼下令征收“什一税”  
⑤查士丁尼组织编纂《新法典》

- A. ②①③④⑤ B. ②③④①⑤ C. ①③⑤②④ D. ③②①⑤④

14. 据记载,中国西周时期土地被划分成“井”字形方块,形同井字,称为井田。一井分为 9 个方块,周围的 8 块田由 8 户耕种,谓之私田,私田收成全部归耕户所有;中间是公田,由 8 户共耕,收入全归封邑贵族所有。由材料可知,井田制与西欧庄园的土地制度有何共同点 ( )


- A. 土地都属于国家所有 B. 土地都来自于上级分封  
C. 都存在劳役地租形式 D. 都属于封建土地所有制

15. 英国历史学家赫伯特·乔治·威尔斯在《世界简史》中将 13~16 世纪称之为“欧洲的理性复苏”时期,欧洲再次成为人类精神力量和物质力量的启蒙者。下列哪些历史事件可以佐证他的观点 ( )

- ①大学的兴起 ②新航路的开辟 ③文艺复兴 ④十字军东征  
A. ①②③ B. ②③④ C. ①③④ D. ①②③④

16. 右图漫画直接表明了 ( )

- A. 英国的议会制度由此逐渐确立  
B. 《权利法案》限制了国王的权力  
C. 《权利法案》体现了国王的意志  
D. 国王从此处于“统而不治”的地位



17. “任何生物如果能以任何方式发生纵然微小但却有利于自己的变异,他就将在复杂且时常变化的生活条件下获得较好的生存机会,这样它也才能被自然选择。”以上这段话最有可能出自谁的著作中? ( )

- A. 牛顿 B. 达尔文 C. 马克思 D. 巴尔扎克

18. “每一个强国都缩回到其本国的防护茧壳内(英国缩回到联邦,法国缩回到帝国范围)或者回到本国的计划项目,而希特勒的德国则在动员起来争取民族的强大,重新武装,政府,以及主宰欧洲和世界。”米歇尔·博德的这段话可以用来研究 ( )

- A. 罗斯福新政的作用 B. 一战爆发的历史背景  
C. 经济大危机的影响 D. 逆全球化的主要表现

19. 1944 年秋天,由于德国在巴尔干半岛的撤退,一个由共产党控制的巴尔干半岛的前景,促使丘吉尔于同年 10 月份在莫斯科和斯大林进行了会晤。双方就战后巴尔干半岛的势力范围划分达成了如下共识,根据材料及所学知识此时可知 ( )

	罗马尼亚	希腊	南斯拉夫	保加利亚
苏联	90%	10%	50%	75%
英国及其他国家	10%	90%	50%	25%

- A. 世界反法西斯同盟初步建立 B. 巴尔干成为战争爆发的火药桶  
C. 二战后期英苏同盟开始动摇 D. 冷战大幕已经在欧洲全面展开

20. 2021 年 10 月 25 日,习近平在中华人民共和国恢复联合国合法席位 50 周年纪念大会上说:“中国将始终做世界和平的建设者”。但是当今世界仍有多重因素干扰着世界的和平与发展,这些因素包括 ( )

- ①霸权主义 ②地区冲突 ③宗教纠纷 ④恐怖主义  
A. ①④ B. ②③ C. ②③④ D. ①②③④



二、综合题(本大题共4小题,第21题8分,第22题8分,第23题11分,第24题13分,共40分)

21. (8分)右图为《中国古代政治制度史》部分目录,根据材料,回答下列问题。

(1)目录中第一章和第二章的标题分别可能是什么?(4分)

(2)目录第一章第三节中应包含哪些内容?(至少写出两点)(2分)

(3)根据目录概括中国古代政治制度演变的特征?(2分)

第一章	.....
第一节	秦汉时期
	皇帝制度 三公九卿
第二节	唐宋时期
	三省六部 分割相权
第三节	明清时期
	.....
第二章	.....
第一节	秦汉时期
	郡县制 推恩令 刺史制度
第二节	唐宋时期
	节度使 文官制 通判制度
第三节	元明清时期
	行省制度 三司制 分封诸王

22. (8分)城市发展是人类文明进步的象征,也深刻地改变了人类生活的方式。阅读下列材料,回答问题。

【城市的兴起】

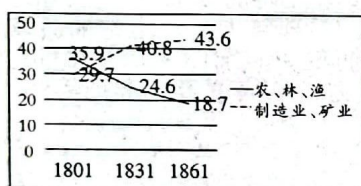
材料一:脱离农业的手工业生产已不再是为了满足领主和生产者自身的需要,其目的在于追求交换价值,各类商人遂应运而生,商品交换日趋活跃。为了方便地购买原料、组织生产和销售产品,手工业者和商人自发聚集到港湾、河口、城堡、寺院、交通枢纽和行政中心附近,随着人口的增长和城墙的矗立,这些地方逐渐演变为中世纪城市。

——摘自王斯德《世界通史》

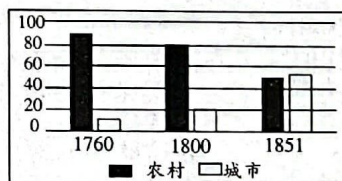
(1)根据材料一概括中世纪西欧城市兴起的原因?(2分)

【城市的发展】

材料二:



表一 英国 1801-1861 年农业劳动力和工业劳动力在全部劳动力中占的比例(%)  
(数据来源——科尔《英国经济增长》)



表二 英国 1760-1851 年农村人口和城市人口占总人口比例(%)  
(数据来源——高德步《世界经济史》)

(2)根据材料二及所学知识,说说表一和表二反映的现象有何关联?(2分)

【城市的崛起】

材料三:这座横空出世的城市曾经响起了改革开放的第一声“开山炮”,创造了闻名全国的“深圳速度”,提出了新的口号——“时间就是金钱,效率就是生命”。……如果说上世纪后期深圳的快速发展得益于贸易增长和快速的工业化,那么进入新世纪以来,其繁荣兴盛则是由于高新技术产业与“深圳创新”的崛起。

——摘自高学思《为什么是深圳》

(3)请根据材料三提出一个相关的历史问题,并解答。(4分)

23. (11分)2021年是中国共产党建党100周年。100年风雨兼程,世纪沧桑巨变,伟大的中国共产党带领中国人民走上了实现中华民族伟大复兴中国梦的新征程。根据以下材料,回答问题。

【探索中收获成功】

材料一:



南昌起义(图一)



秋收起义(图二)



井冈山会师(图三)

(1)从材料中图一到图三的变化,可以看出中国共产党在革命道路上探索上发生了怎样的变化?这体现出中国共产党的何种精神品质?(4分)



### 【苦难中铸就辉煌】

材料二：“10月25日，通过国民党设置的第一道封锁线。中共中央和中央红军离开了中央革命根据地。……谁也不知道一旦迈出第一步，就要走上二万五千里。……开始的无疑是漫漫苦难，也是耀眼的辉煌。”

——摘自金一南《苦难辉煌》

(2) 根据材料及所学知识指出，材料中的红军遭遇的“漫漫苦难”具体表现在哪些方面？(3分)

### 【失误后拨乱反正】

材料三：“勇于自我革命是我们党区别于其他政党的显著标志。……正是因为具备这种独有的政治品格，我们党才能穿越百年风风雨雨，多次在危难之际重新奋起、失误之后拨乱反正，成为打不倒、压不垮的马克思主义政党。”

——摘自习近平《以史为鉴、开创未来 埋头苦干、勇毅前行》

(3) 根据所学知识，试举例论证材料中的观点“失误之后拨乱反正”。(4分)

24. (13分) 自由是人类社会不断追求的理想。阅读下列材料，回答问题。

### 【精神的自由】

材料一：“庄子认为要想实现自由理想，就要顺应自然、‘洗心去欲’，在庄子看来精神自由最大的祸害是欲望，其次是心智。……庄子提出通过‘坐忘’和‘心斋’，实现去欲去智，人就和大道融通为一，就达到了精神自由的境界。”

——陈道德《精神自由与心灵自由》

(1) 根据材料一分析庄子认为实现精神自由的主要途径是什么？(2分)

### 【政治的自由】

材料二：“任何人，只要他能够对国家有所贡献，绝对不会因为贫穷而在政治上湮没无闻。正因为我们的政治生活是自由而公开的，我们彼此间的日常生活也是这样的”。

——摘自伯里克利《在阵亡将士葬礼上的演说》

(2) 根据材料二并结合所学知识回答，“我们的政治生活是自由而公开的”具体的表现是什么？伯里克利又是如何保证雅典公民“绝对不会因为贫穷而在政治上湮没无闻”？(3分)

### 【人身的自由】

材料三：下表为19世纪60-70年代俄国机器制造业统计表

时间	企业数	工人数(人)	产值(千卢布)
1860年	99	11600	7954
1879年	187	42000	51937

——摘编自刘祖熙《改革和革命——俄国现代化研究》

材料四：(如右图)

(3) 材料三和材料四中的变化都得益于本国颁布的法令，这些法令有何共同作用？(至少写出两点)(4分)



1769年美国的贩奴广告 南北战争中北方的黑人士兵

### 【学术的自由】

材料五：“我素信学术上的派别，是相对的，不是绝对。所以每一种学科的教员，即使主张不同，若都是‘言之成理、持之有故’的，就让他们并存，令学生有自由选择的余地。最明白的，是胡适之君与钱玄同君等绝对的提倡白话文学，而刘申叔、黄季刚诸君仍极端维护文言的文学；那时候就让他们并存。”

——蔡元培《我在北京大学的经历》

(4) 请根据材料五并结合所学知识，分析北京大学能成为新文化运动主阵地的原因。(2分)

### 【时间的自由】

(5) 2021年7月24日，中共中央办公厅、国务院办公厅印发《关于进一步减轻义务教育阶段学生作业负担和校外培训负担的意见》，“双减”工作全面展开，孩子们有更多时间锻炼玩耍了，天性得到释放。请你为“双减”提出合理化的建议。(2分)