

# 2021~2022 学年度泉州市初中教学质量监测（二）

## 历史试卷

2022.05

（考试时间：60 分钟；试卷满分：100 分；考试形式：闭卷）

- 一、选择题：本题共 30 小题，每小题 2 分，共 60 分。在每小题给出的四个选项中，只有一项是符合题目要求的。

1. 远古传说蕴含着历史留下的印迹。图 1、图 2 的传说共同体现了



图 1 舜的故事：孝感动天



图 2 大禹治水

- A. 中国原始农业的兴起  
B. 先民与洪水作斗争的场面  
C. 商周世袭制度的作用  
D. 民族优秀品质悠久的历史
2. “二重证据法”强调运用文献记载与考古发现相互印证，以考量历史。以下最符合“二重证据法”的是
- A. 二里头遗址与二里头宫殿复原图  
B. 黄帝陵遗址与远古炎黄传说  
C. 殷墟甲骨文与《史记·殷本纪》  
D. 秦陵兵马俑与电视剧《大秦帝国》

3. 表 1

记述	出处
“鲁、卫、晋、齐四国，又以王室至亲为东方藩篱，夏殷以来的故国，方之蔑矣。由是天子之尊，非复诸侯之长，而为诸侯之君。”	王国维《殷商制度论》

表 1 为西周分封制的有关叙述，据此推知

- A. 分封制加强了诸侯与周王的隶属关系  
B. 西周姬姓封国承担的贡赋较重  
C. 分封制促进了东方诸侯国的社会发展  
D. 周天子权力高度集中局面形成
4. 图 3 文物“直行铭文夔凤镜”出土于中亚地区的吉尔吉斯斯坦，我国洛阳等地的东汉晚期墓葬中也有类似的铜镜出土。这表明
- A. 青铜铸造进入繁荣时期  
B. 丝绸之路沟通中外交流  
C. 手工业品遍销世界各地  
D. 中国冶金技术领先世界

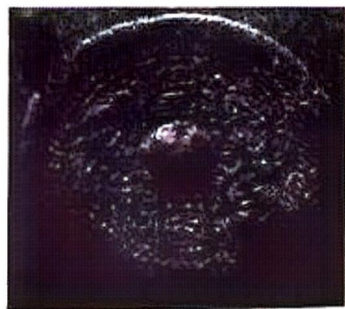


图 3

5. 魏晋南北朝时期，内迁的少数民族被泛称为“五胡”：“一到隋唐时代，而所谓五胡，便已泯然无迹”。材料体现了当时

- A. 政局动荡不安  
B. 民族交融加深  
C. 中原经济发展  
D. 国家统一完成

6. 北宋中期，科举考试录取出现南人多、北人少的情况。为此，司马光提出“逐路（监察区域）取人”之法，指出“国家科第”应“均及中外”；欧阳修则提出应当“惟能是选”。双方争论反映出

- A. 南北区域经济差异  
B. 南北士人群体的能力层次  
C. 不同选拔方式激发的矛盾  
D. 立场迥异导致的政治纷争

7. 表 2

时 间	1684 年	18 世纪初	乾隆时期
事 件	设置台湾府	设置驻藏大臣	设置伊犁将军

表 2 所示历史事件体现了清朝前期

- A. 政治制度的成熟  
B. 君主专制的强化  
C. 封建国家的巩固  
D. 军队建设的成就

8. 马克思指出：“与此同时，在中国，压抑着的、鸦片战争时燃起的仇英火种，爆发成了任何和平和友好的表示都未必能扑灭的愤怒烈火。”这意在说明，鸦片战争

- A. 动摇大清王朝统治根基  
B. 激发中国人们的反抗意识  
C. 直接引发中国抗英斗争  
D. 打破清朝天朝上国的迷梦

9. “如果没有这场洗礼，那么，五年之后中国近代第一部学制系统的颁布和七年之后科举制度的最终被废除，可以肯定地说，不知要推迟多少年”。这表明戊戌变法

- A. 推动了近代教育的变革  
B. 促进民族资产阶级产生  
C. 发挥了思想启蒙的作用  
D. 革除了社会的种种弊端

10. 图 4 体现的是 1912—1921 年外国资本主义在华企业比重的变化。推动这一变化的国内直接因素是

- A. 清政府放宽对民间投资设厂限制  
B. 列强忙于战争暂时放松对华侵略  
C. 政府鼓励及实业救国思想的推动  
D. 国民政府开展国民经济建设运动

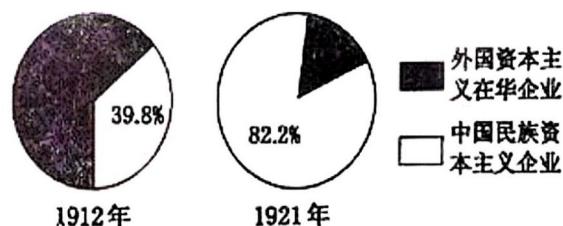


图 4



11. 图 5 中部队高举的红旗上，五角星内有镰刀与锤头的徽标设计。此设计的寓意是

A. 中共开始独立领导武装斗争  
B. 农民运动与工人罢工相结合  
C. 部队是中共领导的工农武装  
D. 土地革命和根据地建设并举



图 5 油画《井冈山会师》局部

12. 图 6 漫画反映的历史事件是

A. 九一八事变  
B. 华北事变  
C. 七七事变  
D. 八一三事变




图 6 《看呀!倭奴把二次世界大战的导火线点燃了!》

13. 《黄河大合唱》的一段朗诵词写到：“中华民族的儿女啊，谁愿意像猪羊一般任人宰割？我们抱定必胜的决心，保卫黄河！保卫华北！保卫全中国！”其叙述的历史事件发生在

A. 国民革命时期      B. 土地革命时期      C. 抗日战争时期      D. 解放战争时期

14. 1937 年，毛泽东指出“中国的革命，自从一九二四年开始，就由国共两党的情况起着决定作用”。1944 年，毛泽东进一步指出“过去二十三年的中国政治进程中的关键问题，一直是国共两党的关系问题”。毛泽东强调国共两党关系旨在

A. 建立广泛革命统一战线      B. 开辟民主革命的新道路  
C. 促进国共两党实现合作      D. 推进民族解放战争发展

15. 1943 年，中国政府先后与美国、英国签署新条约，取消了近代以来美、英在华的许多特权。随后，荷兰、比利时等国相继放弃在中国的不平等权益。这说明

A. 中国取得反帝斗争的完全胜利  
B. 反法西斯同盟取得战争主动权  
C. 抗日战争提升中国的国际地位  
D. 美英等国建立公正的国际秩序

16. 图 7 画面是农民们响应国家号召，排队向合作社出售余粮的情景。这一作品体现了当时

A. 土地改革在全国范围内实施  
B. 农民对抗美援朝前线的支持  
C. 工业化建设在东北有序推进  
D. 农村生产关系开始发生变化



图 7 木刻画《售余粮》(1953 年)

17. 图 8 呈现了当时中美关系的新进展。中美关系出现这一结果的政治前提是

A. 中日两国正式建立外交关系  
B. 美国承认台湾是中国领土的一部分  
C. 中国恢复在联合国的合法席位  
D. 美国支持中国加入世界贸易组织

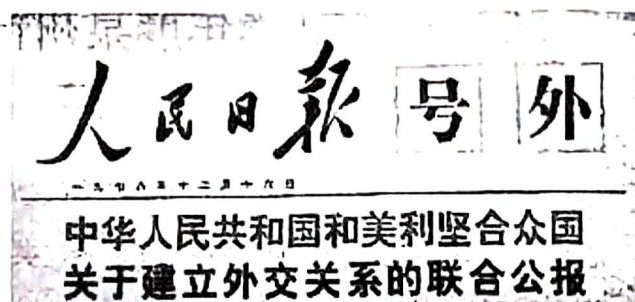


图 8

18. 1979-1999 年，珠海实际利用外资年均增长 24.1%，累计实际利用外资 74.7 亿美元；外贸进出口总额从 1980 年的 1934 万美元增加到 1999 年的 62.86 亿美元，年均增长 35.6%。这主要得益于

A. 农村经济体制改革的深化  
B. 城市经济体制改革的推动  
C. 基础设施等社会环境完善  
D. 国家经济发展战略的调整

19. 表 3 公元前 431 年雅典人口统计表

全部人口	自由民	外邦人	奴隶
40 万（含妇女、儿童）	16.8 万（成年男性公民 4.5 万）	3.2 万	20 万

据表 3 推知，有权参加公民大会的人数至多不超过

A. 4.5 万  
B. 7.7 万  
C. 12.3 万  
D. 16.8 万

20. 图 9 所示是 13 世纪欧洲出现的新现象。这说明

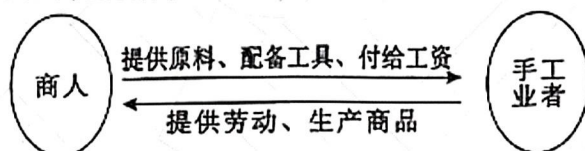


图 9

A. 生产方式资本主义化  
B. 租地农场的出现  
C. 资本原始积累血腥性  
D. 工业革命的兴起

21. 欧洲对人性的看法，彼特拉克等人主张追求现世的幸福；15 世纪，布鲁尼等人则强调关注社会政治事务，主张在佛罗伦萨实行共和政制。其变化体现出

A. 人文主义思潮的扩充  
B. 资产阶级开始掌握政权  
C. 政治斗争是文艺复兴核心  
D. 理性主义成为主流思想

22. 历史解释是在史事的叙述和理解的基础上，对历史事物进行的理性分析和客观评判。下列对美国 1787 年宪法的表述中，属于历史解释的是

A. 1787 年，各州代表齐聚费城，最终制定出美国宪法  
B. 总统和议员由选举产生，联邦政府和地方政府分享权力  
C. 行政、立法、司法三权分立，体现了分权制衡的原则  
D. 不承认妇女、黑人和印第安人具有和白人男子相同的权利



23.

表4 法国儿童读本《法国史》(摘录)

大革命前	大革命后
国王是主权者。	国民是主权者。
社会平等不存在。	社会平等存在。
劳动自由不存在。	劳动自由存在。
司法平等不存在。	司法平等存在。

据表4内容得出的主题是,法国

- A. 大革命的历史贡献                      B. 国王统而不治  
C. 资本主义经济发展                      D. 司法影响深远

24. “忘却六郡天空上弥漫着的黑烟,忘却蒸汽机的喧嚣和活塞的撞击声,忘却那丑陋城市的延伸;我宁愿怀念原野上的驮马,在梦幻中去追忆那个小小的伦敦,那白色而清洁的伦敦”。材料反映了当时英国

- A. 城市化进程以及影响                      B. 生产力水平迅速提高  
C. 蒸汽机的发明和使用                      D. 现代工厂制度的诞生

25. 表5 1790—1815年美国棉花消费情况(单位:千包)

年代	1790年	1800年	1805年	1810年	1815年
全国总消费量	11.0	36.0	44.0	64.0	90.0
其中工厂用棉	—	0.5	1.0	10.0	90.0

表5可以说明,当时美国

- A. 民众生活质量的提高                      B. 棉纺织生产实现机械化  
C. 国内统一市场的形成                      D. 工业化建设的迅速推进

26. 1905年印度人民反英斗争出现新高潮,1905—1911年伊朗发生了立宪革命,1911年中国爆发了辛亥革命。这些事件表明

- A. 各国民族革命取得胜利                      B. 无产阶级登上政治舞台  
C. 古老的亚洲已开始觉醒                      D. 第三世界国家走向联合

27. 图10内容呈现的是

- A. 第一次世界大战的背景  
B. 国际联盟内部隐藏的矛盾  
C. 第二次世界大战的经过  
D. 冷战背景下的对抗和冲突

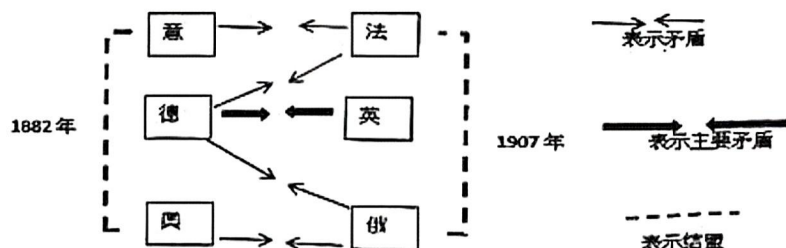


图10

28. “近年来苏联的全盘建设，飞快地进展，已得到了辉煌的结果。这与陷在经济恐慌的泥沼中、走到穷途末路的资本主义世界的衰落，形成一个强烈的对照”。材料说明当时

- A. 苏联新经济政策成效显著  
B. 世界性经济危机的影响  
C. 美国罗斯福新政获得成功  
D. 苏联政治制度优势明显

29. 美国 1947 年的一份备忘录中写道，“没有美国更为迅速的大量援助，除了对世界未来和平与安全产生严重影响外，对我国国内经济的影响也是极为严重的，将失去我国剩余产品的销售市场”。由此可见，美国实施马歇尔计划的主要出发点是

- A. 维护世界和平与安全  
B. 维护自身的经济利益  
C. 促进西欧经济的恢复  
D. 遏制共产主义的渗透

30. 表 6 1990-1994 年欧美国家主要工业部门就业人员变动情况表

工业部门	金属加工	机械	汽车	化工	半导体	电子
就业人员增减比例 (%)	-33	-18	-35	-8	+34	+42

据表 6 推知，导致其比例变化的主要原因是

- A. 工人素质的提高  
B. 宏观调控的加强  
C. 新技术革命推动  
D. 城市化进程加快

二、非选择题：共 4 题，共 40 分。

31. 阅读材料，完成下列要求。（6 分）

材料



图 11 张謇（前右一）与张之洞等人合影（1904 年）



图 12 张謇（1913 年）



图 13 张謇与家人在南通濠南别业（建于 1914 年）合影

（1）根据材料，概述 1904-1914 年张謇服饰的变化。（2 分）

（2）小历根据材料得出“中国近代工业的发展改变了人们的生活”；小史则认为“社会生活的变化受到政治变革的影响”。你对此有何看法？结合所学知识，简要说明理由。（4 分）



32. 阅读材料,完成下列要求。(12分)

材料一

随着北宋经济重心的逐渐转移,南方商业化程度不断提高,少数民族不再排斥民众的经商活动,这为边疆地区商业的发展奠定了基础。经济重心的转移使得北宋纸币相继顺延至东南及西南少数民族地区,基本上颠覆了朴素的物物交换的贸易模式;同时还为周边少数民族地区带去了丰富的劳动力和先进的生产技术,大大推动了民族地区经济的发展。

——摘编自高欣、刘良《北宋经济重心转移对少数民族的影响》

材料二

南宋时,中原的民族民间体育活动、文化影响了南地的体育活动和项目变迁,南方体育日益中原化和统一化。如盛行于中原及北方民族的摔跤运动在南宋有了充分的发展。另一方面,南方土著的体育形式如耍龙、溜索(怒族)、独木舟、抢花炮(侗族)、爬花杆(苗族)等,逐渐影响了中原南迁人口的体育形式和活动习惯,这个过程又是与复杂的宗教冲突、生活习俗矛盾及民族和战相交叠的,其融合和接纳可谓来之不易。

——摘编自宋昱《中国民族民间体育赛事变迁史研究三题》

(1) 根据材料一,简述北宋经济重心转移对少数民族经济发展的影响。(4分)

(2) 根据材料二并结合所学知识,分析南宋时期民间体育发展的原因。(4分)

(3) 综合上述材料并结合所学知识,说明民族交融对中华民族发展的意义。(4分)

33. 阅读材料,完成下列要求。(12分)

材料一

同盟面临的局势十分险峻。英国主张从北非、地中海、意大利方向反攻大陆,其目的是保卫大英帝国的利益。美国的最大威胁是日本而不是德国,自然不愿为维护英帝国的利益而战。苏联几乎是单独与德军作战,它要求同盟国在西欧大陆开辟第二战场,可说是十万火急。但英国绝不愿再冒敦克尔克大溃败的危险,轻率在西欧登陆。美国坚持中国在战后享有大国地位以作为对苏联的平衡力量,而苏联与英国都反对中国进入四大国之列。

——摘编自罗荣渠《辉煌、苦难、艰辛的胜利历程-第二次世界大战若干问题的再认识》

材料二

第二次世界大战彻底打破了依靠欧洲列强之间的力量平衡所建立、并在欧洲主导之下的以国际联盟为代表的旧的国际秩序结构,代之而起的是以美、苏之间力量的相对平衡为基础,

以美、苏、英、中、法五大国为主导的新的国际秩序结构。与此同时，他们将维持世界和平，尊重基本人权和自决原则，加强国际友好合作，促进全球经济、社会、文化和福利发展确定为组织的根本宗旨并写进宪章当中。

——摘编自徐蓝《试论第二次世界大战后国际秩序的建立与发展》

(1) 根据材料一，概述反法西斯同盟成立后面临的主要困难；(3分) 结合所学知识，说明反法西斯同盟克服困难最终取得胜利的主要原因。(4分)

(2) 根据材料二并结合所学知识，简述二战前后国际秩序结构在政治组织上的变化。(2分)

(3) 综合上述材料并结合所学知识，分析“新的国际秩序结构”的作用。(3分)

34. 阅读材料，完成下列要求。(10分)

材料

表7 2003-2017年国家科学技术进步奖特等奖获奖情况

年份	奖项名称
2003年	中国载人航天工程
2004年	东风31导弹武器系统
2006年	歼十飞机工程
2007年	红旗9号导弹武器系统工程(9409工程)
2008年	青藏铁路工程；长剑系列陆基、空射巡航导弹武器系统；导弹反卫系统(805工程)
2009年	绕月探测工程；第三代常规动力潜艇项目；“1110工程”
2010年	大庆油田高含水后期4000万吨以上持续稳产高效勘探开发技术
2011年	青藏高原地质理论创新与找矿重大突破
2012年	特高压交流输电关键技术、成套设备及工程应用；特大型超深高含硫气田安全高效开发技术及工业化应用
2013年	两系法杂交水稻技术研究与应用
2014年	超深水半潜式钻井平台“海洋石油981”研发与应用
2015年	京沪高速铁路工程；高效环保芳烃成套技术开发及应用
2016年	第四代移动通信系统(TD-LTE)关键技术与应用；北斗二号卫星工程
2017年	特高压±800kV直流输电工程；以防控人感染H7N9禽流感为代表的新型传染病防治体系重大创新和技术突破

——资料来源：中华人民共和国科技部

(1) 根据材料并结合所学知识，概述国家科学技术进步奖特等奖涉及的领域。(2分)

(2) 阅读以上材料，围绕其主题提炼一个观点，并结合材料和所学知识加以论述。(8分)

要求：观点明确，史论结合，条理清楚。)



# 泉州市 2021~2022 学年度初中教学质量跟踪监测（二）

## 历史试题参考答案和评分说明

评分说明：

1. 本试卷非选择题答案仅供参考。若学生的作答与本答案不同，可根据试题的考查要求比照本评分参考，制定相应的评分细则。
2. 学科专业术语、专有名词写错不给分。外国人名、地名的书写，除特定和约定俗成的之外，只要与其音译相符即可。

一、选择题：本题共 30 小题，每小题 2 分，共 60 分。

1. D    2. C    3. A    4. B    5. B    6. A    7. C    8. B    9. A    10. C  
11. C    12. A    13. C    14. D    15. C    16. D    17. B    18. D    19. A    20. A  
21. A    22. C    23. A    24. A    25. D    26. C    27. A    28. D    29. B    30. C

二、非选择题：共 4 题，共 40 分。

31. (6 分)

(1) 变化：从传统服饰到新式时装。（日益开放、崇洋逐新）（2 分，能体现出从旧式到新式，中式到西式的变化即可。）

(2) 答案一：

判断：认同小历的观点。（1 分）

理由：20 世纪初，随着中国近代工业的发展，新式交通工具的传入，各具特色的时装相继出现，商品流通进一步发展，逐渐改变了人们的生活方式。因此，近代工业的发展改变了人们的生活。（3 分）

答案二：

判断：认同小史的观点。（1 分）

理由：张謇及家人服饰变化的社会大背景是辛亥革命的影响。辛亥革命后，民国政府颁布了剪辫、易服和劝禁缠足等法令，改变了人们的生活方式和风俗习惯。可见，社会生活的变化受到当时政治变革的影响。（3 分）

答案三：

判断：认同小历、小史的观点。（1 分）

理由：随着中国近代工业的发展，人们的生产方式发生改变，商品进一步流通，为人们生活方式的改变提供了物质条件。辛亥革命推翻了帝制，建立了中华民国。新政府颁布了一系列法令，剪辫、易服等政策，推动了社会生活的变化。所以，人们的社会生活的变化不

仅受到近代工业发展的影响，也受到政治变革的影响。（3分）

答案四：

判断：小历、小史的观点均有不足之处。（1分）

理由：影响社会生活变化的原因有多个方面。例如随着中国近代工业的发展，人们的生产方式发生改变，商品进一步流通，为人们生活方式的改变提供了物质条件。辛亥革命推翻了帝制，建立了中华民国。新政府颁布了一系列法令，剪辫、易服等政策，推动了社会生活的变化。所以，人们的社会生活的变化不仅受到近代工业发展的影响，也受到政治变革的影响。（3分）

32.（12分）

- （1）影响：北宋经济重心的转移为边疆地区商业的发展奠定了基础；改变了少数民族朴素的物物交换的贸易模式；为少数民族地区带去了丰富的劳动力和先进的生产技术；大大推动了民族地区经济的发展。（4分，一点1分）
- （2）原因：经济重心南移的过程中，南北方民族之间的交流、交往、交融（2分，答出交融即可）；宋代市民阶层的兴起、南宋社会经济的发展、南方相对安定的社会环境、政府的鼓励和推动。（2分，答出两点即可）
- （3）意义：民族交融促进了各地区经济上相互补充，促进经济上的共同发展；民族文化互相学习、借鉴，有利于文化繁荣，促进了中华文化多元一体的发展。民族交融是中华民族自我完善发展的强大推力，有利于统一的多民族国家的巩固和发展。（4分，答出两点即可）

33.（12分）

- （1）主要困难：反法西斯同盟各国都把追求自己的国家利益放在最重要的位置；（2分）同盟各国有不同的社会制度和不同的政治信仰，几个主要大国（美、英、法、苏）之间曾长期互不信任甚至相互敌视。（1分，答出大国之间存在敌对、矛盾即可）  
主要原因：法西斯的世界霸权战略威胁到同盟各国的根本利益；反法西斯同盟内部最终达成了妥协和互相支援；同盟采取了例如诺曼底登陆，开辟欧洲第二战场等正确的战略方针；同盟成员国，尤其是以中国为代表的国家作出了巨大的民族牺牲。（4分，一点1分，答国际反法西斯联盟的形成，不给分）
- （2）变化：从国际联盟到联合国。（2分）
- （3）作用：维护了世界的整体和平；加强了国际友好合作；促进全球经济、社会、文化和福利发展；铲除世界殖民制度。（3分，一点1分）

34.（10分）

- （1）领域：涉及重大技术开发、社会公益、国家安全、重大工程等领域。（2分，答出一点给1



分，如答航天，军事，石油，海洋，交通，农业，生物医学等领域的，3个领域给1分，4个领域给2分）

（2）（8分）

**【示例一】（8分）**

观点：社会主义制度能够集聚国家科技力量办大事。（2分）

论述：20世纪六七十年代，在经济极端困难、技术基础薄弱、帝国主义封锁等严峻条件下，全国“勒紧裤腰带”集中力量研制“两弹一星”、勘探和开发大庆油田等，办成了一系列涉及国计民生的大事，捍卫了国家主权、安全和发展利益。

改革开放以来，我国勇于冲破传统模式束缚，既充分发挥市场在资源配置中的决定性作用，又更好发挥政府作用，相继建成三峡水利枢纽、青藏铁路、载人航天、高速公路网、高速铁路网、西气东输、南水北调、特高压电网等许多国家重大工程、重点项目，赢得了关键领域的高效率发展，补齐了发展短板，增强了国家核心竞争力，提升了中国的国际地位。（4分）

结论：改革开放前后，我国在国计民生科技领域取得的重大成就充分体现了社会主义制的优越性。（2分）

**【示例二】（8分）**

观点：科学技术进步为我国参与国际竞争奠定优势。（2分）

论述：当今国际竞争的实质是以经济和技术实力为基础的综合国力的较量。以高速铁路工程、北斗卫星工程、特高压输电工程等为代表的科学技术进步，提高了我国的核心竞争力，进而增强我国的综合国力，使我国在激烈的国际竞争中立于不败之地。

在现代社会中，科学技术不仅是第一生产力，而且也是国家安全的重要保障。以东风31导弹武器系统、歼十飞机工程、长剑导弹武器系统等为代表的国防科技进步，为我国的发展提供了稳定的安全保证，促进我国经济发展和提高我国的国际地位。（4分）

结论：综上所述，科技创新为我国经济发展创造动力，增强了国际竞争力和国际地位。（2分）

**【示例三】（8分）**

观点：科学技术已经成为推动经济社会发展的主导力量。（2分）

论述：当代科学技术发展日新月异，呈现出新的趋势，预示着社会经济结构的重大变革。

科学技术发展不断突破人类传统认识极限，引发新的科学革命和技术革命。以载人航天工程、绕月探测工程、新发传染病防治体系等各种大型科学技术工程都是学科之间、科学和技术之间、自然科学和人文社会科学之间相互交叉渗透的结果。

科技成果产业化周期缩短，不断造就新的追赶和超越机会。例如北斗系统已全面服务于

交通运输、公共安全、救灾减灾等行业领域，融入电力、金融、通信等国家核心基础设施，体现出北斗在各领域广泛应用和充分跨界融合的趋势。（4分）

结论：综上所述，科学技术是现代生产力取得突破性进展和促进经济发展的强大动力，并决定着未来生产力的发展状况。（2分）

**【示例四】**

观点：改革开放为科学技术的进步创造了条件。（2分）

论述：中国共产党十一届三中全会提出了“大力加强实现现代化所必需的科学和教育工作”的决议。1985年，中共中央发布实施了科学技术体制改革。1988年改革开放的总设计师邓小平提出了“科学技术是第一生产力”的著名论断。同年，我国著名的“863”计划和“火炬”计划相继开始实施，一大批国家项目、周年的工程先后上马，这些政策和措施促进了国家科学技术水平获得长足进步。

改革开放以来，我国实现了从封闭型经济弱国向开放型全球经济大国的转变，经济持续快速增长，GDP突破110万亿元，综合国力跃居世界第二。这为青藏铁路、高速公路网、高速铁路网、西气东输、南水北调、特高压电网、载人航天工程等为代表的众多国家重大科技发展提供更多资金和更好物质条件。

结论：综上所述，社会进步与时代变迁是科技发展的原动力，改革开放是现代中国科技进步和创新的根本保证。（2分）