

2022 届河南省中考适应性检测卷

历史

注意事项:

1. 全卷满分 50 分,答题时间为 50 分钟。
2. 请将各题答案填写在答题卡上。

选择题(共 20 小题,20 分)

下列每小题列出的四个选项中,只有一项是最符合题目要求的。请将正确选项的英文字母代号涂写在答题卡相应位置上。


1. 文物是研究历史的重要史料。下列关于出土于河南的三件文物(见下图)的历史价值的表述,最准确的是



图一 二里头遗址出土的青铜爵



图二 商青釉瓷尊



图三 玉柄铁剑

- A. 图一表明商代已经基本掌握青铜冶炼技术
- B. 图二说明了中国的瓷器起源于唐朝
- C. 图三预示着我国的青铜时代行将过去
- D. 上列三件文物是我们研究夏商文化的第二手资料
2. 中国古代的科学技术曾经远超西方。下列关于中国古代科技的观点中最恰当的是
- A. 讲究天人合一,尊重自然
- B. 实用性理论性并行,更重视理论
- C. 研究目的是服务于科技理论研究
- D. 研究方法是重视科学推理研究
3. 百家争鸣虽原则上是各家发表自己的看法,批评别人的意见,但也包含了对其他学派某些思想的吸收。如荀子,虽以礼为思想核心,但也特别重法,以致有人将其当作法家。这主要说明
- A. 荀子主张实行礼治
- B. 诸子百家思想互相借鉴
- C. 法家思想受到各家推崇
- D. 儒家思想成为正统思想
4. 历史学家斯塔夫里阿诺斯认为,“与印度文明的不统一和间断相比,中华文明的特点是统一和连续”。下列最有利于维护古代中国政治实体统一与连续的制度是
- A. 分封制
- B. 中央集权制
- C. 君主专制
- D. 三省六部制
5. 唐太宗以免除徭役为奖励手段,积极地鼓励农民从狭乡到宽乡去开垦占耕,从而有效地保证了农民受田数。这体现了唐太宗
- A. 虚心纳谏,从善如流
- B. 不夺农时,与民休息
- C. 轻徭薄赋,奖励农耕
- D. 重农抑商,打击商贾



6. 贞观年间,吐蕃赞普松赞干布迎娶唐朝公主,唐蕃结为亲家。在此之后,双方近 23 年未发生过战争,友好往来。这说明文成公主入藏

- A. 削弱了吐蕃文化影响力
B. 使西藏归属于唐朝管辖
C. 促进了吐蕃经济发展
D. 增进了唐蕃友好关系

7. 有人认为:“以前一直攻不破的贵族城堡的石墙抵不住市民的大炮,市民的枪弹射穿了骑士的盔甲,贵族的统治跟身披铠甲的贵族骑兵队同归于尽了。”在这里,作者突出强调了火药的西传

- A. 体现了欧洲市民阶层力量的强大
B. 暴露了欧洲封建势力的腐朽落后
C. 对推动欧洲社会变革的积极作用
D. 直接导致欧洲资产阶级民主革命

8. 1842 年《南京条约》签订后,一些有识之士反对脱离实际,注重研究现实问题,主张向西方学习,中国社会由此出现了一股新思潮。这表明《南京条约》

- A. 破坏了中国的领土主权
B. 促使社会矛盾发生巨大转变
C. 客观上促进了中国近代化思潮产生
D. 使清政府形成近代外交理念

9. 1912 年元旦,《申报》刊文:“我四万万同胞如新婴儿新出于母胎,从今日起,为新国民,道德一新,学术一新,冠裳一新,前途种种新事业,胥吾新国民之新责任也。”这段材料主要说明辛亥革命

- A. 打开了中国进步潮流的闸门
B. 结束了中国的君主专制制度
C. 推翻了清王朝的反动统治
D. 使民主共和观念深入人心

10. 邓小平在总结这段历史时反复强调:“整个解放战争最困难是挑这个担子。”这是刘邓大军顾全大局、不怕牺牲,实现毛泽东战略决策的伟大壮举。“伟大壮举”指的是

- A. 辽沈战役
B. 千里跃进大别山
C. 淮海战役
D. 平津战役

11. 某话剧中有这样的台词,新解放区农民对地主说:“你被消灭了。”地主对农民说:“你翻身当家了。”土地兴奋地说:“我要换新主人了。”农民、地主、土地一起说:“一切都变了!”该话剧所反映的史实发生于

- A. 1937~1945 年
B. 1946~1949 年
C. 1950~1952 年
D. 1953~1957 年

12. 某历史学习小组进行专题学习的时候,写下了“在希望的田野上”“在霓虹灯线”“敢问路在何方”等关键词,由此可判断他们学习的主题是

- A. 经济体制改革
B. 对外开放
C. 建设中国特色社会主义
D. 独立外交

13. 一位学者评论:在中美《联合公报》中,尼克松做了一个让步,这或许是达成一项和解的最小让步,但从长远来看,却增进了世界和平的前景。材料中的“让步”指的是承认

- A. 《朝鲜停战协定》
B. 中日邦交正常化
C. 新中国加入联合国
D. 只有一个中国

14. 《汉谟拉比法典》规定:若奴隶忤逆主人,一经定罪,主人可以割下他的耳朵。《十二铜表法》中禁止对奴隶的尸体用香料防腐,举行丧事宴会、奢侈地洒圣水、长行列的花环、用香炉焚香;禁止平民和贵族通婚。以上这些法律都

- A. 维护统治阶级的利益
B. 侵犯了奴隶的权利
C. 促进经济稳定与繁荣
D. 推动社会进步发展



15. 帝国繁荣时期,大量的希腊、波斯、印度典籍被译为阿拉伯文。阿拉伯人改造了古印度人从0到9的计数法,形成了我们现在使用的“阿拉伯数字”,并创造了完整的代数学。据此可知阿拉伯文化具有的显著特点是
- A. 兼容并蓄
B. 吸收借鉴
C. 封闭保守
D. 继承创新
16. 地理大发现是人类历史上最重大的事件之一。欧洲殖民者大量移居美洲,大量非洲黑人被捕捉到美洲,随之出现了一大批混血人种。材料反映了新航路开辟
- A. 使世界开始连成一个整体
B. 给非洲带来了深重的灾难
C. 导致世界人种的大规模流动
D. 为欧洲开辟了殖民扩张的道路
17. 明治维新之后,日本迅速走上了发展资本主义的道路,实现了富国强兵,开始跻身资本主义强国之列。下列事件中和日本明治维新有相似之处的是
- A. 俄国 1861 年农奴制改革
B. 美国独立战争
C. 法国大革命
D. 英国资产阶级革命
18. 英、法为了保护自己的既得利益,防止战火烧到自己头上,决定牺牲其他国家的利益,向法西斯国家妥协。这一行为刺激了法西斯国家的侵略野心,大战一触即发。材料反映了二战爆发的原因是
- A. 政治经济发展不平衡
B. 资本主义世界经济大危机
C. 英、法推行绥靖政策
D. 法西斯国家蓄意发动战争
19. 2022 年 1 月 15 日,汤加火山大规模爆发,引发海啸、火山灰等灾害。中国红十字会向汤方提供 10 万美元紧急人道主义现汇援助。中国政府通过驻汤加使馆紧急筹措了一批价值 28 万元人民币的饮用水、食品等应急物资并于 19 日捐赠汤加政府。材料反映了中国
- A. 坚持走和平发展道路
B. 积极发展全球伙伴关系
C. 积极推动全球治理变革
D. 积极构建人类命运共同体
20. 法朗士深情地说,“他是他那个时代社会洞察入微的历史家。他比任何人都善于使我们更好地了解从旧制度向新制度的过渡”,并特别强调,“从塑造形象和深度来说,没有人能比得上他”。下列作品中印证了这句话的是
- A. 《战争与和平》
B. “人间喜剧”
C. 《物种起源》
D. 《英雄交响曲》


非选择题(共 5 小题,30 分)

21. (6 分)阅读下列材料,回答问题。

材料一



中世纪欧洲大学课堂



西汉讲经图

材料二 公元前 124 年,汉武帝兴办太学,讲授儒家经典。汉代中央官学有太学、宫邸



学和鸿都门学。太学学生入学的年龄没有严格的限制。汉代太学允许自费求学,采用大班上课的形式,高年级辅导低年级,高才生辅导差等生。以自学为主,提倡在自学基础上相互讨论磋商,相互辩论,共同研究,以求得学业上的进步。地方官学则主要是郡国学校。鸿都门学是我国也是世界上第一所文学、艺术专科学院。汉代的官学制度,奠定了以后中国封建官学发展的基本格局。

——摘编自肖世民《论汉代学校教育》

(1)据材料一并结合所学知识,比较古代中外教育的异同点。(2分)

(2)据材料二并结合所学知识,概括汉代官学兴办的背景及特点。(2分)

(3)综合上述材料,你认为古代东西方教育在其教育目的上有何不同?(2分)

22. (6分)阅读下列材料,回答问题。

材料一



图1 《时务报》




图2 《民报》创刊号

材料二 经历了从“师夷长技”到变法维新的探索,人们发现温和的改良无法从根本上改变中国落后挨打的现实,必须彻底埋葬旧制度。于是,人们举起义旗,发动革命,推翻旧王朝,建立了亚洲第一个共和国。接着,又请来了德、赛两位先生,挥动民主、科学大旗,吹响了思想解放的号角。

(1)据材料一并结合所学知识,指出图1和图2两份报刊宣传的主张有何不同。(2分)归纳它们对中国近代社会的变迁产生的共同作用。(1分)

(2)据材料一、二,结合所学知识,用图示法表示中国近代化探索的轨迹。(2分)

(3)说出报刊对你生活的积极影响。(1分)



23. (6分) 阅读下列材料, 回答问题。

材料一 20世纪50年代中期, 中共中央作出研制“两弹一星”的战略决策。1962年成立中央专委会, 全国协同攻关。大批科技工作者包括归国的科学家, 怀着对新中国的满腔热爱, 和广大干部、工人、解放军指战员一起, 在当时经济、技术基础薄弱和条件艰苦的情况下, 突破了原子弹、导弹和人造地球卫星等尖端技术, 取得了举世瞩目的辉煌成就。

——摘编自1999年国务院表彰“两弹一星”功勋奖章颁奖词

材料二 2021年3月18日至19日, 中美高层战略对话在美国举行, 对于美方的“待客之道”, 在首次会议的开场白中, 杨洁篪严正回应, “美国没有资格居高临下同中国说话, 中国人不吃这一套”。

材料三 为了实现中华民族伟大复兴, 中国共产党团结带领中国人民, 自信自强、守正创新, 统揽伟大斗争、伟大工程、伟大事业、伟大梦想, 创造了新时代中国特色社会主义的伟大成就。……为实现中华民族伟大复兴提供了更为完善的制度保证、更为坚实的物质基础、更为主动的精神力量。……实现中华民族伟大复兴进入了不可逆转的历史进程!

——习近平《在庆祝中国共产党成立100周年大会上的讲话》

(1) 请列举一位“两弹一星”功勋科学家, (1分) 并根据材料一分析“两弹一星”研制成功的原因。(1分)

(2) 据材料一和材料二, 结合所学知识, 分析中国外交底气显著增强的根本原因, (1分) 并指出国防科技和外交之间的关系。(1分)

(3) 据上述材料, 概括指出一代又一代中国共产党人在一百年的非凡奋斗历程中铸就的伟大精神品质, (1分) 并举出实例证明这种精神给中国带来的变化。(1分)

24. (6分) 阅读下列材料, 回答问题。

材料一 冷战的结束使世界形势发展的总趋势走向缓和, 原有的两极格局被打破, 世界朝着多极化的方向发展。和平与发展成为时代的主题, 但仍然存在着很多的矛盾与冲突。1999年以美国为首的北约, 越过联合国安理会, 对南斯拉夫联盟共和国进行持续轰炸。2001年9月11日, 恐怖分子劫持3架飞机, 两架撞向世贸中心双塔大楼, 一架撞向五角大楼。

——据《义务教育教科书 世界历史》(九年级下册) 整理

材料二 欧盟成立后, 欧洲的实力进一步增强, 地位进一步提高, 欧盟希望在国际事务中发挥越来越重要的作用; 日本也在积极谋求政治大国的地位; 中国通过改革开放, 经济快



速发展,国家综合实力显著增强……

——据《义务教育教科书 世界历史》(九年级下册)整编

材料三 为了维护国家独立,摆脱美国和苏联的控制,1961年,不结盟运动正式成立,广大发展中国家成为国际政治舞台上的一支重要力量。中国作为最大的发展中国家,始终不渝地走和平发展道路,积极发展全球伙伴关系,推进大国协调和合作,构建人类命运共同体,建设持久和平、普遍安全、共同繁荣、开放包容、清洁美丽的世界。

——据《义务教育教科书 世界历史》(九年级下册)整编

(1)据材料一并结合所学知识,概括指出当今世界政治格局的发展方向以及威胁世界和平的因素。(2分)

(2)据材料二,指出促进世界朝着新格局发展的力量有哪些。(1分)

(3)据材料三并结合所学知识,说出为建立国际新秩序,广大发展中国家作出了哪些努力?(2分)

(4)综合上述材料,结合所学知识谈谈中国应如何应对世界格局的新变化。(1分)

25. (6分)观察下面两幅图片,结合所学知识,写一篇80~120字的小短文。(要求:题目自拟,史实正确,语句通顺,表述完整,体现图片所反映的内容之间的联系性)



联合国驻黎巴嫩维和部队中的中国士兵



2022年北京冬奥会

