

本试卷分为第 I 卷（选择题）和第 II 卷（非选择题）两部分。

第 I 卷

一、单项选择题（本卷共 24 题，每题 2 分，共 48 分。每题给出的四个选项中，只有一项最符合题意。）

1. “立志而圣则圣矣，立志而贤则贤矣。”“志之所向，无坚不入，锐兵精甲，不能御也。”这启示我们在实现梦想的道路上应该

- ①脚踏实地，艰苦奋斗
- ②持之以恒，不懈努力
- ③崇尚自由，无所不为
- ④坚定理想，全力以赴

A. ①②③ B. ①②④ C. ①③④ D. ②③④

2. 面对“双减”后新的变化，同学们需要养成良好的学习习惯和掌握科学的学习方法。

下列行为体现这一要求的有

- ①勤于思考，不懂就问
- ②合理安排，勤学善思
- ③主动学习，养成习惯
- ④尊重权威，唯师是从

A. ①②③ B. ②③④ C. ①②④ D. ①③④

3. “李白乘舟将欲行，忽闻岸上踏歌来。桃花潭水深千尺，不及汪伦送我情。”这首诗主要表现的是

A. 美好的生活 B. 真挚的友情 C. 高尚的情操 D. 岸边的离别

4. 师生交往是学校生活的重要内容。下列属于平等、民主、和谐的师生关系的有

- ①要尊重不同风格老师，事事顺从老师
- ②师生共建班级群，加强课后网络交流
- ③王小刚不服气老师的批评，顶撞老师
- ④老师和学生一起讨论，倾听同学发言

A. ①② B. ③④ C. ①③ D. ②④

5. 观察右图漫画。启示我们要学会

- A. 化解家庭矛盾冲突
- B. 享受父母给予的爱
- C. 孝亲敬长传统美德
- D. 亦师亦友交往之道



《接力棒》

6. 生命的意义需要自己发现和创造，下列做法能让我们绽放生命光彩的是

- ①志愿服务献爱心
- ②劳动创造增技能
- ③经典诵读养精神
- ④无所事事度时光

A. ① B. ①② C. ①②③ D. ①②③④

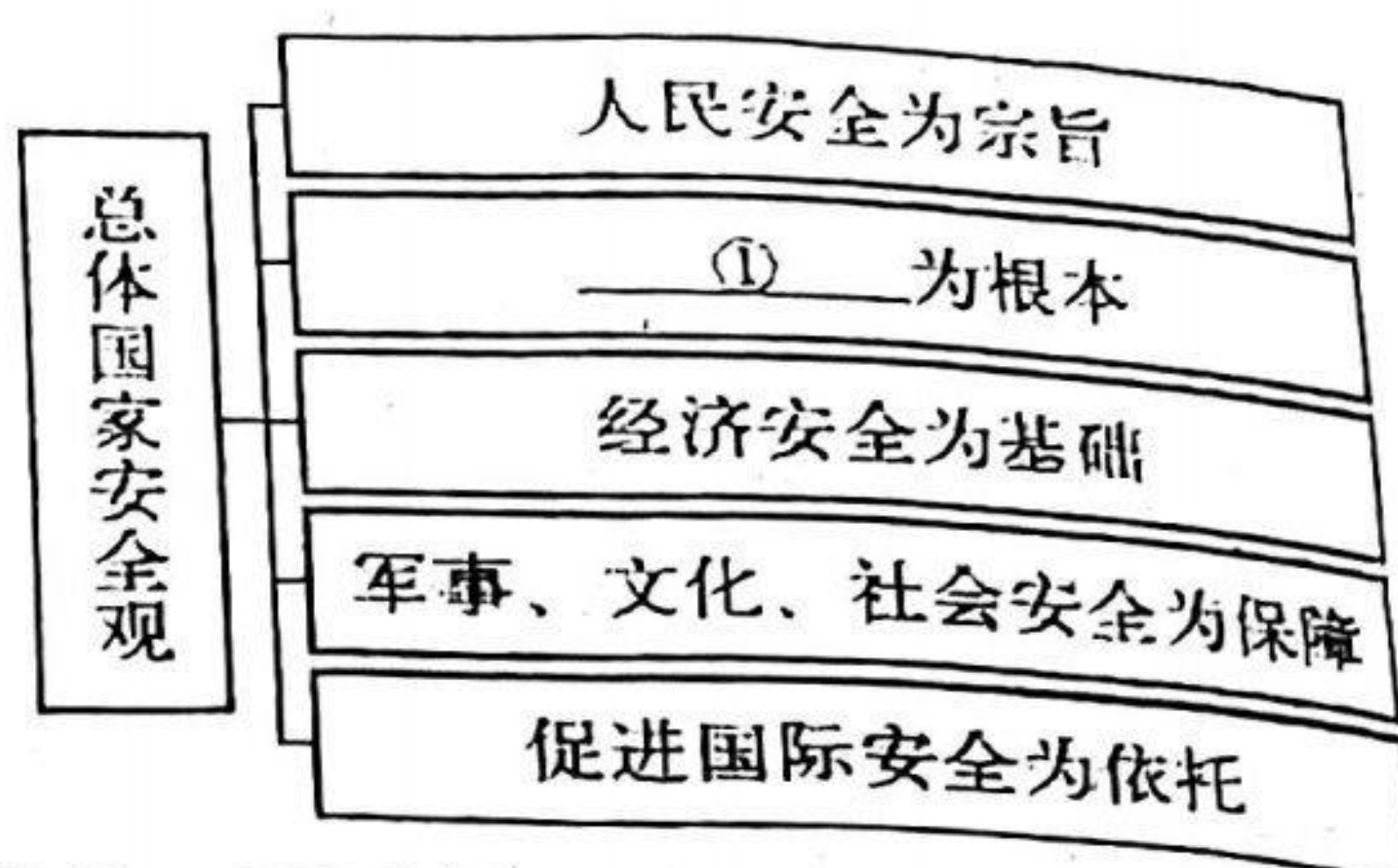
7. 站在青春的起点,我们怀揣美好的梦想,向往永不言败的精神状态。这指引我们应追求
- A. 止于至善的境界
B. 与众不同的形象
C. 诚实守信的品格
D. 独立自我的个性
8. 我们每个人的内心都有一个情感世界,无论是正面的体验还是负面的体验都将丰富我们的人生阅历。下列对情感体验类别表述正确的是
- A. 恐惧感——正面的体验
B. 敬畏感——负面的体验
C. 焦虑感——负面的体验
D. 挫败感——正面的体验
9. 钱学森在“国家杰出贡献科学家”的授奖仪式上曾说:我还要利用这个机会表示对我爱人蒋英同志的感激……在我对一件工作遇到困难而百思不得其解的时候,往往是蒋英的歌声使我豁然开朗,得到启示。这说明传递情感正能量
- A. 决定着我们对生活的判断和选择
B. 有助于开发我们的想象力和创造力
C. 让我们获得新的感受,社会更和谐
D. 能躲避负面情感体验,生活无挫折
10. 北京时间 2021 年 11 月 8 日 1 时 16 分,经约 6.5 小时的出舱活动,神舟十三号航天员乘组密切协作,圆满完成出舱活动全部既定任务。这从集体的角度告诉我们
- A. 集体力量完全取决于成员数量的多少
B. 集体生活能够涵养我们每个人的品格
C. 集体的建设需要每个人的智慧和力量
D. 集体的力量是强大的,个人无足轻重
11. 在经历近 2 个月的“网上上课”后,天津市中小学生陆续进入校园恢复线下读书学习,为了保障安全,天津市教委制定了师生员工入校流程图,织密校园疫情防控安全网。这一措施
- ①体现对未成年人的特殊保护
②能够实现学生的人生价值
③有利于呵护学生的生命健康
④能够增强学生的安全意识
- A. ①②③
B. ①③④
C. ①②④
D. ②③④
12. 国家创制法律的两种基本形式是
- A. 继承和发展
B. 删除和补充
C. 决定和公布
D. 制定或认可
13. 2022 年全国“两会”期间,人大代表、政协委员通过电子邮件、微博等渠道加强与民众互动;民众通过网络积极建言献策,参与政治生活。这表明
- A. 网络是公民建言献策的唯一途径
B. 网络可以促进我国民主政治进步
C. 公民在网上可自由发表各种言论
D. 公民积极利用网络获取新的知识

14. 诚信是中华民族的传统美德，是一个人安身立命之本。下列成语故事中，最能体现这一主题的是

- A. 君子一言，驷马难追
- B. 谦虚谨慎，不骄不躁
- C. 人而无礼，焉以为德
- D. 尺有所短，寸有所长

15. 观察右图思维导图，其中①处应填入的是

- A. 政治安全
- B. 网络安全
- C. 资源安全
- D. 科技安全



16. 作为公民，我们依法享有权利，也应依法履行义务。下列属于自觉履行公民基本义务的是

- A. 小春每天都坚持进行体育锻炼
- B. 小夏高中毕业后积极报名参军
- C. 小秋在地铁上主动给老人让座
- D. 小冬响应学校倡议不带手机入校

17. 十三届全国人民代表大会第五次会议通过了关于修改地方各级人民代表大会和地方各级人民政府组织法的决定并予以公布。其公布的机关是

- A. 行政机关
- B. 监察机关
- C. 司法机关
- D. 国家主席

2022年北京冬奥会举国、举世瞩目。回答18~20题。

18. 北京冬奥会期间，北京交通大学谭夏同学在做好志愿服务的同时兼任对同学的健康监测等任务。他乐观、自信、从容面对工作的作风展现出青年志愿者的使命与担当。他在服务社会的过程中

- A. 获得丰厚物质回报
- B. 荒废了自己的学业
- C. 放弃了自己的利益
- D. 实现了自我的价值

19. 无障碍停车位、无障碍坡道、电梯、卫生间、更衣间、标识系统……北京冬奥会和冬残奥会打造了无障碍的赛事环境。这体现了

- A. 公民的法律地位不同
- B. 践行平等就要反对特权
- C. 不同情况要差别对待
- D. 特定人群不受法律约束

20. 从国家级贫困县，到脱贫摘帽推进乡村振兴；从大山里的小镇，到全球聚焦的滑雪胜地，崇礼今昔巨变让当地百姓发自内心“感谢冬奥会”。这说明北京冬奥会

①促进了当地经济发展

②为当地培养杰出人才

③使当地实现了现代化

④提高了当地的影响力

A. ①②

B. ②④

C. ②③

D. ①④

21. 近年来,“碳中和”、“碳达峰”从一个陌生的专业词语成为高频热词。中国向世界承诺力争在 2030 年前和 2060 年前分别实现碳达峰、碳中和(注:碳达峰即温室气体排放不再增长,达到峰值;碳中和是指将排放的二氧化碳全部捕集或吸收掉)。这表明

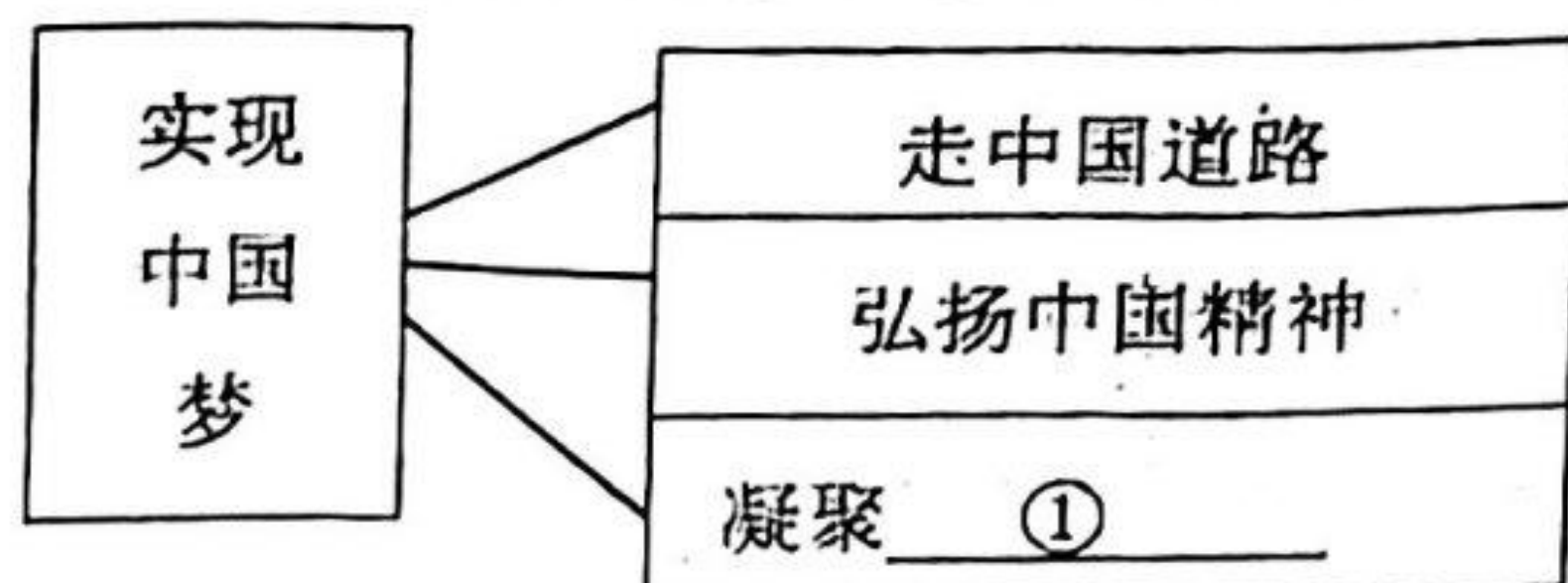
A. 促进发展要把建设生态文明放在首位

B. 影响发展最突出的问题就是环境问题

C. 提高资源利用率有利于实现上述承诺

D. 我国是维护国际和平稳定的决定力量

22. 以下思维导图中的①和②依次应填的内容是



A. 中国智慧、改革创新

B. 中国力量、改革创新

C. 中国智慧、开拓创新

D. 中国力量、开拓创新

23. 一双鞋会以这种方式“旅行”:鞋子的外观和功能设计图纸出自德国、生产流程工艺出自中国、鞋子的制作完成出自东南亚、商品运输出自美国,销售市场出自沙特。这说明

A. 各个国家之间只存在合作不存在彼此竞争

B. 经济全球化对各国的影响都是积极有利的

C. 复杂的生产过程不利于发挥生产者的优势

D. 经济全球化使商品生产在全球范围内完成

24. 截至 2021 年底,中国累计向 120 多个国家和国际组织提供 20 亿剂新冠疫苗,世界各国风雨同舟、团结合作。这表明

①共同抗疫是当今时代主题

②中国致力于构建人类命运共同体

③中国是一个负责任的大国

④各国之间应放弃分歧,加强合作

A. ①②

B. ③④

C. ②③

D. ①④


第Ⅱ卷

二、非选择题（共 52 分）

25.（6分）青春，用创造见证生命的喜悦。在“双减”大背景下，为了不让“减负”变成“减智”，国家给爱好科技创新的青少年学生提供了广阔舞台，寒暑假期间的全国青少年高校科学营、全国青少年科技创新大赛等活动，鼓励越来越多青少年积极参与，勇于探索，保持着对科学的一份好奇和热爱。

青少年应如何开发自身的创造潜能？

26（6分）观察下图漫画。请运用自由和法治的关系，评析漫画中骑行者的言行。



27.（6分）全过程人民民主，是全链条、全方位、全覆盖的民主，是最广泛、最真实、最管用的社会主义。从城乡社区里的村（居）民议事会、村（居）民论坛、民主听证会到党代表、人大代表、政协委员联合进社区，从线下“圆桌会”到线上“议事群”，中国人民在火热的基层生活中，摸索创造了一个又一个充满烟火气的民主形式。

一个个充满烟火气的民主形式，表明人民民主的真谛是什么？我国现有的民主制度有哪些？

走法治道路是实现中华民族伟大复兴的必然选择。根据相关材料作答 28—29 题。（16 分）

28.【材料一】2021 年 3 月 1 日《中华人民共和国长江保护法》正式实施，它是我国第一部流域法律，对促进长江经济带实现人与自然和谐共生具有里程碑意义。

身处法治社会的我们应如何对待国家法律的实施？（8 分）

29. 【材料二】 2022 年元旦，国家主席习近平在新年贺词中这样说：“近年来，我走遍了黄河上中下游 9 省区。无论是黄河长江“母亲河”，还是碧波荡漾的青海湖、逶迤磅礴的雅鲁藏布江；无论是南水北调的世纪工程，还是塞罕坝林场的“绿色地图”；无论是云南大象北上南归，还是藏羚羊繁衍迁徙……这些都昭示着，人不负青山，青山定不负人。”

“人不负青山，青山定不负人”体现出人和自然怎样的关系？在生态文明建设中，国家坚持的基本国策和贯彻的新发展理念是怎样的？（8 分）

2021 年是中国共产党成立 100 周年。根据相关材料作答 30—32 题。（18 分）

30. 【材料一】一百年来，党在生死斗争和艰苦奋斗中经受过各种风险考验、付出巨大牺牲，锤炼出鲜明政治品格，形成了以伟大建党精神为源头的精神谱系。

（1）按照下表对应要求和示例，列举中国共产党人的精神谱系或所处的历史时期。（8 分）

历史时期	中国共产党人的精神谱系
新民主主义革命时期	①
②	示例：抗美援朝精神、雷锋精神
③	④

31. 【材料二】党的百年奋斗史也深刻地影响了世界历史进程。从“坦赞铁路”到“一带一路”，中国向发展中国家提供力所能及的帮助，不断以中国发展为世界提供新机遇；中国率先实现联合国千年发展目标，带头落实 2030 年可持续发展议程，对世界减贫贡献超过 70%；在新冠疫情席卷全球的危难之际，中国向各国输送了大批抗疫物资，面对 2022 年初爆发的俄乌战争，应乌克兰方面的请求，中国红十字会向乌克兰方面提供人道主义援助物资……

结合上述材料，请你为“中国担当”点赞。（6 分）

32. “请党放心、强国有我”是我们青少年向党致以的青春礼赞。让我们带着自信、带着憧憬向未来出发！请对自己的人生规划作一描述。（4 分）

初中毕业后我的选择：_____。

我将在哪些方面更趋于成熟：_____。