

朝阳区 2019-2020 学年度下学期二年级质量监测试题 · 数学


一、我会填

1. 华山海拔约二千一百五十五米，写作（ ）米，请在数线上用 ∇ 标出华山的大致位置。



2. (1) 有 39 根 $|$ ，每 4 根摆成一个 \square 。这些小棒能摆（ ）个 \square ，还剩（ ）根。算式：（ ） \div （ ）=（ ）（个）……（ ）（根）


(2)

折 1 颗  需要 9 厘米长的彩带。



70 厘米



这些彩带最多能折（ ）颗 .

(3)

每片树叶最多乘 6 只蚂蚁。



40 只蚂蚁至少需要（ ）片树叶。

3. (1) 在 \bigcirc 里填 “ $>$ ”、“ $<$ ” 或 “ $=$ ”。

$$999 \bigcirc 1000$$

$$24 \div 8 \bigcirc 9 \times 9$$

$$5000 - 2000 \bigcirc 600 - 300$$

$$11 \text{ 厘米} \bigcirc 1 \text{ 分米}$$

$$1 \text{ km} \bigcirc 1000 \text{ m}$$

$$61 \text{ 分} \bigcirc 1 \text{ 时}$$

- (2) 把下列各数按从大到小的顺序排列起来。

660、


6060、

302、

1200

($>$ $>$ $>$)

4. 填一填。



放学路上：用了（ ）分。

玩了（ ）分。

5. 在括号里填上适当的单位。


(1) 火车每小时行驶大约 230 ()。 (2) 床长约是 2 ()。

(3) 课间操大约需要 30 ()。 (4) 跑 2 米大约需要 3 ()。

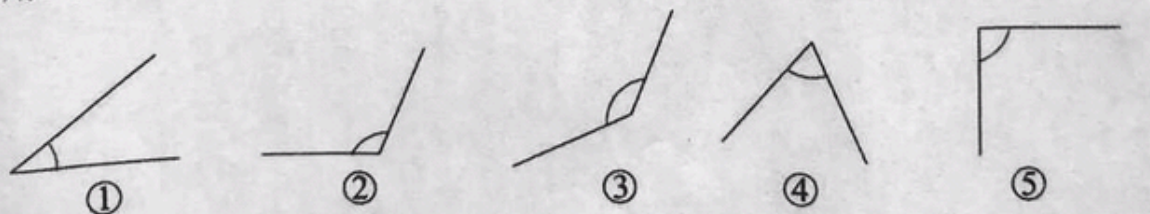
6. 量一量、填一填。

(1) 铅笔长 () cm () mm



(2)  这个图形是 () 形，它四条边的长度都 ()，四个角都是 () 角。

7. 用三角板比一比，填一填。



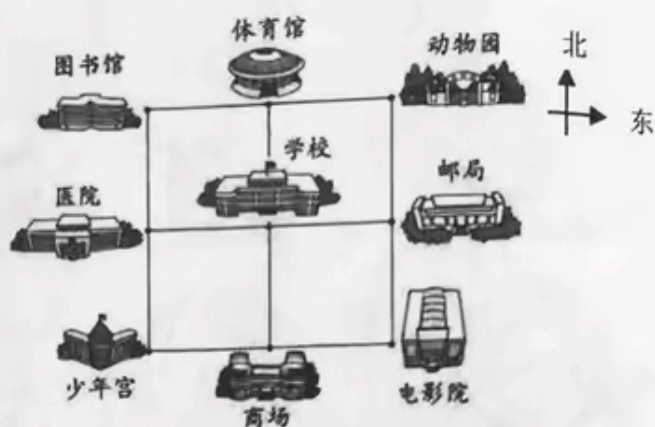
锐角 _____

直角 _____

钝角 _____

8. 看一看，填一填。
少年宫在学校的西南面，

动物园在学校的（ ）面，
（ ）在学校的西北面，
（ ）在学校的东面。



9. 小熊文具店为了解钢笔、铅笔、橡皮和格尺的销售量，做了下面的记录表。

钢笔	铅笔	橡皮	尺子
 	 	 	

（ ）卖得最多，（ ）卖得最少。

二、我会算

1. 直接写得数。

$54 \div 6 =$

$7 \times 6 =$

$35 \div 7 =$

$8 \times 5 =$

$400 + 500 =$

$950 - 50 =$

$6000 + 300 =$

$650 - 650 =$

$6000 + 2000 =$

$1500 - 0 =$

$270 + 20 =$

$5000 - 4000 =$

2. 竖式计算。

$426 + 123 =$

$285 + 15 =$

$47 \div 7 =$


$642 - 531 =$

$843 - 314 =$

$109 - 18 =$

三、我会解决问题

1.



(1) 平均每盘放几个？还剩几个？

$$\square \bigcirc \square = \square (\quad) \cdots \cdots \square (\quad)$$

答：_____。

(2) 每 7 个放一盘，可以放几盘？还剩几个？


$$\square \bigcirc \square = \square (\quad) \cdots \cdots \square (\quad)$$

答：_____。

2.

(1) 两组一共收集了多少张邮票？

$$\square \bigcirc \square = \square (\quad)$$



答：_____。

(2) 淘气组比笑笑组多收集多少张邮票？

$$\square \bigcirc \square = \square (\quad)$$

答：_____。