

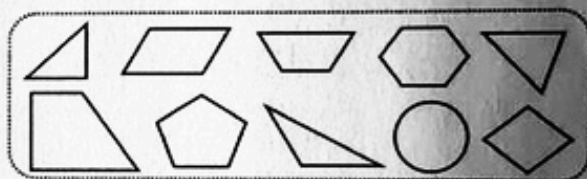
2019-2020 学年度下学期四年级质量监测试题·数学

密

一、我会填

1. 0.8 里面有 () 个 0.1, 16 个 0.01 是 ()。
2. 在括号里填上 “>”、“<” 或 “=”。
 0.729 () 0.8 857 () 85.7 0.9×8 () 8
 5.60 () 5.06 3.200 () 3.20 1×4.6 () 4.6
3. 一个三角形两个内角的度数分别是 75° 和 15° , 第三个内角是 () 度, 它是 () 角三角形。
4. 一辆货车每次运货 x 吨, 运了 10 次, 一共运货 () 吨; 如果 $x=18$, 这辆货车一共运货 () 吨。
5. 笑笑要记录室内气温的变化情况, 需要选用 () 统计图。

6. 数一数, 右图中共有 () 个三角形,
() 个平行四边形, () 个梯形。



二、我会选 (把正确答案的序号填在括号里。)

1. 与 91.05 相等的数是 ()。
 A. 91.5 B. 91.50 C. 91.050
2. 一个三角形两条边的长度分别是 5 厘米和 8 厘米, 第三条边的长度是 ()。
 A. 3 厘米 B. 11 厘米 C. 13 厘米
3. 如果 $35 > \square > 34$, 那么 \square 里填 ()。
 A. 35.01 B. 34.6 C. 33.9
4. 与方程 $2x+4=34$ 的解相同的是 ()。
 A. $2x=30$ B. $2x=34$ C. $2x=38$
5. 一个钝角三角形, 另外两个锐角的和一定 () 90° 。
 A. 小于 B. 等于 C. 大于

姓名:

班级:

学校:

封

线

6. 淘气数学、语文两科测试的平均成绩是 90 分，其中数学是 93 分，他的语文成绩是（ ）分。

A. 91.5

B. 90

C. 87

三、我会算

1. 直接写出得数。

$2.2 + 7.8 =$

$6.8 - 3.8 =$

$5.7 \times 10 =$

$10 - 3.9 =$

$0.7 \times 0.3 =$

$0.2 \times 6 =$

$8.7 + 0.6 =$

$9 \div 10 =$

$0.02 \times 100 =$

$45 \div 100 =$

2. 竖式计算。

3. 解方程。

$9.8 \times 1.1 =$

$3.5 \times 0.2 =$

$4x = 840$

$y - 5.8 = 6.2$

4. 用合理的方法计算，写出计算过程。

$6.8 + 31.5 + 3.2$

$1.6 \times 4.8 - 1.6 \times 3.8$

$0.4 \times 0.7 \times 25$


$1.25 \times (8 + 0.8)$

$3.2 + 1.72 - 2.09$

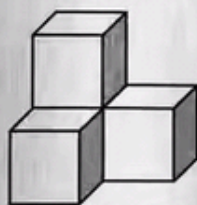
$15 - 4.67 - 5.33$

四、我会画

1. 在点子图上画出一个梯形。



2. 画出从正面看到的立体图形的形状。



五、我会解决问题

1. 妙想去年体检时体重是 26.5 千克，今年增加了 3.5 千克。奇思今年的体重比妙想还重 2.7 千克，奇思今年的体重是多少千克？
2. 一卷彩带，乐乐用它折了 18 颗幸运星，每颗幸运星用 1.2 分米，还剩 3.4 分米彩带，这卷彩带原来长多少分米？

3. 看图列方程解答。



4. 小区里有一个长方形花园，面积是 600 平方米，它的长是 30 米，宽是多少米？

(用方程解)

5. 下表是欣欣超市星期一至星期五售出鸡蛋数量统计表。

(1) 请把表格补充完整。

时间	星期一	星期二	星期三	星期四	星期五	平均数
数量/个	400	500	800	700	1100	

(2) 绘制条形统计图。

