

# 2021~2022 学年度第一学期南开区期末考试试卷

## 九年级道德与法治（开卷）

本试卷分为第 I 卷（选择题）和第 II 卷（非选择题）两部分。答题时，务必将答案填写在“答题卡”上，答案答在试卷上无效。考试结束后，将本试卷和“答题卡”一并交回。

### 第 I 卷

注意事项：

1. 每小题选出答案后，用 2B 铅笔把“答题卡”上对应的信息点涂黑。
2. 本卷共 23 题，每题 2 分，共 46 分。每题给出的四个选项中，只有一项最符合题意。

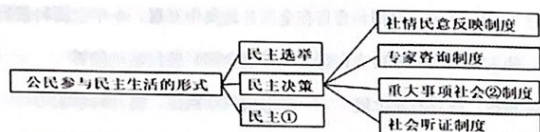
#### 一、单项选择题

1. 上海浦东地区开发开放 30 年，生产总值从 1990 年的 60.24 亿元上升到 2019 年的 1.27 万亿元，以占全国 1/8000 的土地，创造了全国 1/80 的 GDP。这反映了改革开放
  - A. 实现我国城乡发展一体化
  - B. 对世界产生了深远的影响
  - C. 推动了我国经济的飞速增长
  - D. 解决了我国社会的主要矛盾
2. 2021 年 2 月 28 日发布《中华人民共和国 2020 年国民经济和社会发展统计公报》，全年国内生产总值 1015986 亿元，比上年增长 2.3%。每万元国内生产总值能耗下降 0.1%，全员劳动生产率比上年提高 2.5%。这表明我国
  - A. 经济进入高速增长阶段
  - B. 更加重视经济发展的质量
  - C. 绿色发展目标已经完成
  - D. 更加注重经济发展的规模
3. 民族要复兴，乡村必振兴。在脱贫攻坚取得历史性巨大胜利的同时，习近平总书记鲜明提出了全面推进乡村振兴这一重大历史战略，实施这一战略的意义在于
  - ①缩小城乡区域发展差距
  - ②实现同步富裕
  - ③彻底解决主要矛盾
  - ④城乡共享发展成果
  - A. ①②
  - B. ②③
  - C. ②④
  - D. ①④
4. 李克强总理在《政府工作报告》中强调，推动教育公平发展和质量提升……让教育资源惠及所有家庭和孩子。对材料理解有误的是

- A. 政府致力于教育公平
  - B. 教育是民族振兴、社会进步的基石
  - C. 教育为个人人生幸福奠定基础
  - D. 教育是引领发展的第一动力
5. 2021 年 9 月 11 日-17 日，全国科普日在全国各地集中开展。今年全国科普日的主题为“百年再出发，迈向高水平科技自立自强”。开展全国科普日活动能够
    - ①弘扬科学精神，展现科学价值
    - ②形成科学氛围，提升科学素养
    - ③推动科技发展，迅速提升国力
    - ④助力创新发展，建设创新型国家
    - A. ①②③
    - B. ①②④
    - C. ①③④
    - D. ②③④
  6. 2021 年央视春晚，优选科技公司的“拓荒牛”机器人受人瞩目。“拓荒牛”背后蕴含了一系列中国科技企业自主研发的硬核技术。2020 年优选智能防疫机器人共驰援海外 14 个国家和地区，助力疫情防控。这体现了
    - ①企业是社会创新的重要力量
    - ②我国的科技创新能力走在世界前列
    - ③创新的目的是增进人类福祉
    - ④提升创新能力是企业持续发展之基
    - A. ①②③
    - B. ①②④
    - C. ①③④
    - D. ②③④
  7. 某街道推行“书记下午茶”党建项目，拓宽了社情民意了解渠道，通过和居民边喝茶边“聊需求”的方式，精准实现“居民有所呼，我有所应”。推行该党建项目
    - A. 是抽象的民主，在实践中不断得到验证
    - B. 反映出社会主义民主是最真实的民主
    - C. 是人民行使管理国家权力的根本途径
    - D. 是我国公民维护合法权益的最后屏障
  8. “它强调通过充分协商，求同存异，找到最大公约数，画出最大同心圆，具有独特的优势。”“它”是指我国的
    - A. 合作民主
    - B. 选举民主
    - C. 协商民主
    - D. 自治民主
  9. 道德与法治课上，老师给同学们展示了以下材料，其中反映我国基本政治制度的有
    - ①人民通过民主选举选出代表，组成各级人民代表大会
    - ②十三届全国人大四次会议听取和审议了政府工作报告
    - ③某中学校长作为民主党派代表，参加天津市政协会议
    - ④社区居委会进行换届选举工作，居民踊跃推荐候选人
    - A. ①②
    - B. ①④
    - C. ②③
    - D. ③④



10. 如图所示,小敏整理出“公民参与民主生活的形式”的知识示意图,①和②处依次应填写的内容是



- A. 协商 信访 B. 协商 公示 C. 监督 公示 D. 监督 信访
11. 《王安石文集》记载道:“立善法于天下,则天下治;立善法于一国,则一国治。”对此理解正确的是
- A. 有法律制度就能实现法治 B. 实现法治要求实行善治
- C. 法治要求实行良法之治 D. 法治意味着依法治理
12. 民之所望,政之所向。天津市《百姓问政》电视直播栏目让政府官员与人民群众面对面,接受社会的监督。这有利于
- ①防止行政权力的滥用 ②提高政府依法行政水平
- ③人民分享政府的权力 ④贯彻落实司法公正要求
- A. ①② B. ①④ C. ②③ D. ③④
13. 全面依法治国是党领导人民治理国家的基本方略。推进全面依法治国,需要
- ①高度重视发挥法律的教化作用
- ②完善以民法典为核心的中国特色社会主义法律体系
- ③坚持党的领导、人民当家作主、依法治国的有机统一
- ④厉行法治,推进科学立法、严格执法、公正司法、全民守法
- A. ①② B. ①③ C. ②④ D. ③④
14. “全国劳动模范”快递小哥宋学文说:“干一行爱一行,就是要不忘初心,时刻保持对工作的热心,在最平凡的岗位上把自己的价值发挥到极致。”他的行为
- A. 彰显了律己宽人的处事准则 B. 践行了社会主义核心价值观
- C. 勇担了社会责任和法定义务 D. 体现了见义勇为的高尚情操

15. 在边疆哨所、贫困山区、抗疫一线……“80后”“90后”,甚至“00后”,正以昂扬的姿态奔向火热的一线,用行动诠释着自强不息的精神。下列诗句能够体现这一精神的是

A. 路漫漫其修远兮,吾将上下而求索 B. 人生自古谁无死,留取丹心照汗青

C. 山重水复疑无路,柳暗花明又一村 D. 粉身碎骨浑不怕,要留清白在人间

16. 党的十八大以来,我国根据人口变化趋势,先后作出实施单独两孩、全面两孩政策;2021年中央提出一对夫妻可以生育三个子女政策。实施三孩生育政策

①有利于促进人口长期均衡发展 ②有利于缓解人口老龄化的矛盾

③改变了我国计划生育基本国策 ④根本改变了人口与资源的关系

A. ①② B. ①③ C. ②④ D. ③④

17. 自2020年1月1日零时起,长江流域的332个自然保护区和水产种质资源保护区全面禁止生产性捕捞,长江流域各地的重点水域也相继进入为期10年的常年禁捕时期。长江流域休渔

①可以预防和减少对鱼类资源的利用

②有利于实现渔业资源利用的可持续发展

③促进生态文明建设,实现人与自然的和谐发展

④促进区域协调发展,实施乡村振兴战略

A. ①③ B. ②③ C. ①④ D. ②④

18. “三千孤儿入内蒙”讲述上世纪六十年代,生活并不富裕的内蒙古牧民,用博大胸怀接纳来自上海、江苏、安徽等省市的汉族孤儿并精心照料的故事。这段历史佳话说明了我国

A. 各族人民同呼吸、共命运、心连心

B. 各族人民平等享有权利,共同承担义务

C. 加大对少数民族地区支持力度

D. 积极促进各少数民族文化的繁荣和发展

19. 2020年11月8日,人类铁路史上迄今最具挑战性的工程——川藏铁路(雅安至林芝



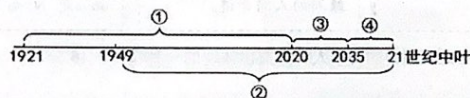
段)开工建设,这是一条穿过广大民族地区的铁路,建成后将会成为一条致富路、文明路、民族团结路。这说明我国

- ①消除各少数民族地区的发展差别 ②大力支持民族地区的经济社会发展  
③坚持各民族共同繁荣的基本原则 ④扩大了各少数民族人民的政治权利  
A. ①③ B. ②③ C. ②④ D. ③④

20. 外交部长王毅表示:我们坚决反对“台独”分子“借疫谋独”,两岸实现统一是历史必然趋势,任何人任何势力都不可能阻挡。“两岸实现统一”的政治基础是

- A. 坚持民族平等、团结和共同繁荣 B. 坚持中国共产党的领导  
C. 坚持“一个中国”原则 D. 坚持社会主义制度

21. 小亮在学习“新时代开启新征程”内容时,用时间轴表述了新时代中国特色社会主义的战略安排,下面能体现出“在全面建成小康社会的基础上”到“基本实现社会主义现代化”阶段的是



- A. ① B. ② C. ③ D. ④

22. “不忘初心,继续前进,万水千山,最美中国道路。”中国道路就是

- A. 改革开放道路 B. 可持续发展道路  
C. 创新发展道路 D. 中国特色社会主义道路

23. 2021年3月12日,《中华人民共和国国民经济和社会发展第十四个五年规划和2035年远景目标纲要》对外公布。要实现该目标,我们应该

- ①走中国道路,弘扬中国精神,凝聚中国力量  
②以改革创新为中心,坚持党的基本路线不动摇  
③坚持创新、协调、绿色、开放、共享的新发展理念  
④贯彻“五位一体”总体布局、“四个全面”战略布局  
A. ①②③ B. ①③④ C. ①②④ D. ②③④

## 第II卷

### 注意事项:

1. 用黑色字迹的签字笔将答案写在“答题卡”上。  
2. 本卷共5题,共54分。

### 二、简答题(共27分)

24. (9分)

小岗“包干到户”、深圳“先行探路”、海南“最大特区”、浦东“开发开放”、雄安“未来之城”……一个个地标,串联起中华民族近代以来最辉煌的40多年,成为世界观察“中国奇迹”的最好窗口;一系列翻天覆地的变化,印证了改革开放是决定当代中国命运的关键抉择。

你认为改革开放是怎样推动中国发展变化的?

25. (9分)

近年来,《国家宝藏》《衣尚中国》《见字如面》《跨越时空的回信》等一批以中华文化为主题的电视节目,通过丰富的艺术形式弘扬了中华文化之美,展示了中国人民的勤劳与智慧、情感与寄托,深受广大观众的喜爱。

材料启示我们应如何坚定文化自信,发展中国特色社会主义文化?

26. (9分)

天津市“十四五”时期计划面向新疆和田、西藏昌都、青海黄南涉藏重点州县实施对口支援项目249个,持续推动援疆“五个百万”工程、援藏蓝天圣洁品牌、援青游渡水等具有天津特色的对口支援模式,继续设立产业扶持资金,引导天津企业因地制宜开展市场支援,用好受援地区资源,实现优势互补、互利共赢。

请你谈一谈天津市对口援疆援藏工作有何重要意义?

### 三、分析说明题 (12分)

27. (12分)

#### 【建设生态文明·践行绿色生活】

材料一：“十四五”规划纲要把“推动绿色发展，促进人与自然和谐共生”作为“十四五”时期的重大任务。进入新发展阶段，我国生态文明建设仍处于压力叠加、负重前行的关键期，我国能耗水平超过世界平均水平40%，能源资源利用效率偏低，绿色生产生活方式尚未根本形成，生态文明建设和生态环境保护任重道远。

(1)材料反映了我国在资源利用上存在哪些问题？(4分)

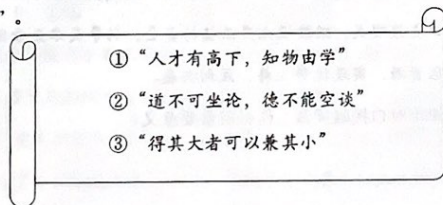
材料二：建设生态文明治理体系，需持续推进生态环境治理能力，重点在监测监管执法能力、环境市场化投入机制、全民绿色行动等方面取得突破。

(2)结合材料，从政府和个人角度，分别就如何“建设生态文明·践行绿色生活”建言献策。(8分)

### 四、探究与实践 (15分)

28. (15分)

材料一：十八大以来，习近平总书记多次通过演讲、座谈等方式与青年频频互动，对当代中国青年寄予了殷切期望。学习路上，让我们一起回顾这些年习近平总书记对青年的那些“青春寄语”。



(1)分别谈谈你对习近平总书记这三则“青春寄语”的感悟。(6分)

示例：“人生的扣子从一开始就要扣好”——广大青年要自觉践行社会主义核心价值观，不断养成高尚品格。

材料二：一百多年来，一代又一代青年用青春和汗水推动着我们的国家从积贫积弱一步步走到今天的繁荣富强。

事例1 100年前，一群平均年龄28岁的青年为了拯救国家、民族于水火之中，冲破重重险阻，在浙江嘉兴南湖的一只红船上成立了中国共产党。中国革命从此掀开了崭新的篇章。

事例2 1962年，一群平均年龄还不到24岁的青年，毅然放弃舒适的生活条件，拉开了塞罕坝林场建设的序幕，用青春和汗水谱写芳华人生，演绎了荒原变林海、沙地成绿洲的人间奇迹。

事例3 2020年7月，我国自主研发、独立运行的北斗卫星导航系统正式开通，成为全球第三个卫星导航系统。参与北斗系统研制任务的是一群平均年龄仅36岁，66%是“80后”的青年人。

(2)分别指出三则事例中的青年人身上突出体现的一种精神。(6分)

材料三：百年后的2021年，中国处在“两个百年”发展目标的交汇点。在2021年“五四”青年节前夕，习近平总书记视察清华大学时寄语广大青年：“当代中国青年是与新时代同向同行、共同前进的一代，生逢盛世，肩负重任。”

(3)请你谈谈，处于“两个百年”发展目标交汇点的青年应如何承担时代赋予的重任？(3分)