

九年级历史

(部编版 C)

注意事项:1. 本试卷共 8 页,满分 100 分,考试时间 90 分钟。

2. 答卷前将密封线左侧的项目填写清楚。

3. 答案需用黑色字迹的签字笔书写。

题号	一	二				总分
		26	27	28	29	
得分						

得分	评卷人

一、选择题(在每小题列出的四个选项中,只有一项符合题意,共 25 小题,每小题 2 分,共 50 分)

- () 1. 14 世纪中叶以后的□□□□,主要依靠雇佣劳动力进行农业生产,以市场为生产的基本目的,具有一定的经营规模,租金也基本固定下来,它存在的目的就是要谋求利润,因而具有明显的资本主义性质。“□□□□”应是
- A. 家庭农场 B. 租地农场 C. 手工工场 D. 机器工厂
- () 2. 下表说明当时欧洲

城市	出现印书坊的时间(年)
罗马	1467
威尼斯	1469
巴黎	1470
纽伦堡	1470
佛罗伦萨	1471
那不勒斯	1471
巴萨罗那	1473
伦敦	1476
布鲁塞尔	1476

- A. 文化趋于活跃 B. 政治变革加速
- C. 市民阶级出现 D. 启蒙运动兴起
- () 3. 1992 年是哥伦布航行到美洲 500 周年,许多国家纷纷举行纪念活动。美洲印第安人的后裔也用一种另类的态度表达了他们的感情。以下最能表达他们感情的标语是
- A. “你们庆祝的是我们的苦难” B. “感谢哥伦布将光明带给我们”
- C. “新大陆的伟大发现者” D. “美洲近代化的开创者”

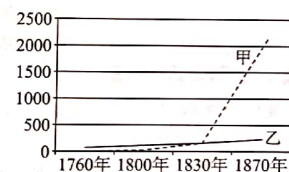
- () 4. “1630 年,美洲加勒比海地区的巴巴多斯经济主要依靠烟草,多数种植者是来自欧洲的佣工,……1680 年……这时甘蔗成为巴巴多斯最重要的经济作物……非洲奴隶已是欧洲人的三倍。”巴巴多斯劳动力构成发生上述变化的直接原因是
- A. 新航路的开辟 B. 奴隶贸易的猖獗
- C. 工业革命的完成 D. 美国的独立
- () 5. 读下表,指出英国资产阶级限制王权的方式

1. 凡未经议会同意,以国王权威停止法律或停止法律实施之僭越权力,为非法权力。……
4. 凡未经议会准许,借口国王特权,为国王而征收,或供国王使用而征收金钱,超出议会准许之时限或方式者,皆为违法。
5. 向国王请愿,乃臣民之权利,一切对此项请愿之判罪或控告,皆为违法。
6. 除经议会同意外,平时在本王国内招募或维持常备军,皆属违法。

- A. 立法 B. 革命 C. 改革 D. 道德
- () 6. 马克垚主编的《世界文明史》中写道:“……从许多方面来看都是美国革命的一个直接后果,但它要解决的问题却不同于美国革命,而和一个半世纪以前的英国革命如出一辙。”材料论述的是
- A. 英国资产阶级革命 B. 美国独立战争
- C. 法国大革命 D. 美国南北战争
- () 7. 对下图甲、乙两线及导致甲、乙线数据变化原因的判断,正确的是

英国固定式动力源装机容量统计图(单位:千马力)

(蒸汽机、水车)



备注:水车,利用水力作为动力的一种运转机械。

- A. 甲线是对水车装机容量的统计;甲、乙数据变化的原因是工业革命
- B. 乙线是对水车装机容量的统计;甲、乙数据变化的原因是第二次工业革命
- C. 甲线是对蒸汽机装机容量的统计;甲、乙数据变化的原因是工业革命
- D. 乙线是对蒸汽机装机容量的统计;甲、乙数据变化的原因是第二次工业革命
- () 8. 马克思和恩格斯及时总结工人运动的经验,批判地汲取德国古典哲学、英国古典政治经济学和英法空想社会主义等优秀的文化成果,创建了科学社会主义。上述内容说明了
- A. 思想解放有利于社会进步
- B. 理论对实践起指导作用
- C. 科学社会主义理论是在一定历史条件下产生的
- D. 科学社会主义理论推动了国际工人运动的发展



- () 9. 1857 年爆发的印度民族大起义,虽然仅仅两年之后就最终失败,却使英国消耗了军费 4000 多万英镑,使大批英国军官和士兵毙命。材料主要说明印度民族大起义
- A. 给英国殖民者以沉重的打击 B. 取得了阶段性的革命胜利
- C. 成为印度历史发展的转折点 D. 改变了英国对印度的统治方式
- () 10. 斯塔夫里阿诺斯在《全球通史》中写道:“旧制度所显示的破产导致旧制度的变革,第一个变革是解放农奴……”与“解放农奴”相关的重大事件是
- A. 日本明治维新 B. 美国南北内战
- C. 俄国 1861 年改革 D. 俄国十月革命
- () 11. 19 世纪,法国著名的历史学家托克维尔认为:“当今世界存在着两个伟大的民族……他们就是俄国人和英裔美国人。这两个民族是在不知不觉中发展起来的,正当世界注意着其他地方的时候,他们却突然加入第一流民族行列。”这“两个伟大的民族”加入“第一流民族行列”的时代背景是
- A. 资本主义的兴起 B. 帝国主义殖民体系的确立
- C. 资本主义制度的扩展 D. 凡尔赛—华盛顿体系的确立

- () 12. 下表能够用来研究日本明治政府

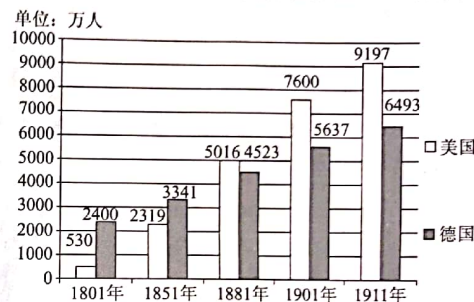
日本明治时期工业成果(部分)

时间(年)	煤矿开采(吨)	蒸汽船数(艘)	铁路铺设(英里)[旧称]
1873	600000	26	18
1894	5000000	169	2100
1904	13000000	797	4700

- A. 废藩置县 B. 殖产兴业
- C. 文明开化 D. 对外扩张
- () 13. 下图为一位学生的读书心得,他读的书是
- 他维护国家的完整,废除奴隶制,解放黑人奴隶。他的遇刺使他成为了国家的殉道者。他是美国人民心中伟大的总统。
- A. 《彼得大帝与俄罗斯帝国》 B. 《罗伯斯庇尔和第三共和国》
- C. 《再造美国的人——林肯》 D. 《1944: 罗斯福与改变世界的一年》
- () 14. 《大国崛起》中说道:“瓦特驯服了地下之火,使之转化为机械能……爱迪生则以天上之火的形式,用于照明和动力……”材料反映了
- A. 两次工业革命的动力机械所使用的主要能源不同
- B. 两次工业革命的发明都来源于工匠的实践经验
- C. 两次工业革命的发明都体现了科学理论与生产的紧密结合
- D. 两次工业革命都是从一个国家率先开始,再扩展到其他国家
- () 15. 1882 年德国的人口调查中,还没有电力工人一栏,可是,1895 年,电力工人就有 25000 人,到 1906—1907 年就达到 107000 人。该材料旨在说明 19 世纪末 20 世纪初的德国
- A. 全国人口持续快速增长 B. 电工发展成为最受欢迎的职业
- C. 电力工业是发展迅速的新兴工业 D. 工业发展催生了人口调查

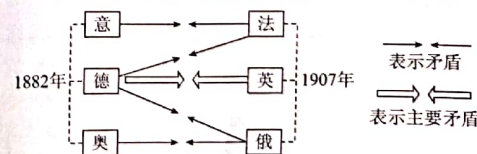
- () 16. 英国学者安德鲁·波特说:“当英国人从陶醉中惊醒,猛然看见帝国上空的夕阳时,新的太阳已经在太平洋另一端的美洲大陆上升起。那将是世界大国命运的又一次兴衰消长。”引起“又一次兴衰消长”的主要原因是
- A. 英国率先完成工业革命成为“世界工厂”
- B. 经济危机加剧了资本主义国家对世界市场的争夺
- C. 英国“世界工厂”的地位受到严重挑战
- D. 第二次工业革命加剧了资本主义国家经济发展的不平衡
- () 17. 下图直接反映出

19 世纪至 20 世纪美国、德国总人口变化统计图



- A. 工业革命促进人口迅速增加 B. 城市化进程加快
- C. 政治格局多极化趋势明显 D. 工业化程度提高
- () 18. 某本书给当时的社会带来的是霹雳般的震荡,像一颗炸弹一样投到“神学阵地的心脏上”,教会势力和老派学者攻击它是“恶作剧”,违背了上帝的启示,是一部“魔鬼的圣经”。这本书是
- A. 达尔文的《物种起源》 B. 莎士比亚的《罗密欧与朱丽叶》
- C. 托尔斯泰的《战争与和平》 D. 牛顿的《自然哲学的数学原理》
- () 19. 有这样一段广告词:“一个苹果让牛顿吸引了世界,一壶沸水让瓦特转动了世界,一个元素让爱迪生点燃了世界……”“牛顿吸引了世界”“爱迪生点燃了世界”分别是指
- A. 开创微积分学;发现电磁感应现象
- B. 发现万有引力定律;发明内燃机
- C. 发现万有引力定律;研制成功耐用白炽灯泡
- D. 开创微积分学;改良蒸汽机

- () 20. 绘制历史示意图有助于从整体上把握历史。下面的示意图可以帮助我们学习



- A. 第一次世界大战的背景 B. 凡尔赛体系下蕴含的矛盾
- C. 第二次世界大战的经过 D. 两极格局下的对抗和冲突



- () 21. 1917 年 7 月,俄国临时政府下令向德军发起进攻,结果俄军损失惨重。同年 9 月,俄军最高总司令科尔尼洛夫发动反政府叛乱,派兵进逼彼得格勒;在布尔什维克党的组织下,首都几万名工人武装起来保卫首都并最终瓦解了叛乱军队。材料旨在表述十月革命爆发的
- A. 背景 B. 经过 C. 结局 D. 影响
- () 22. 20 世纪 30 年代,当有人质疑在五年计划的指导下,苏联却有三分之二的大型企业利用美国的先进技术建成,会造成对资本主义国家的依赖时,斯大林表示:“以为社会主义的经济是一种绝对闭关自守,绝对不依赖周围各国,这就是愚蠢之至。”据此可知,苏联的工业化建设
- A. 缺少基本的技术基础 B. 突破计划经济指令的制约
C. 依赖外资建设重工业 D. 重视引进外国的先进技术
- () 23. 罗斯福说:“在美国,没有人比我对私人企业有着更坚定的信念。客观地说,正是新政挽救了被拖到毁灭边缘的私人利润和自由企业制度。”这说明罗斯福实施新政的根本目的是
- A. 加强国家对经济的干预和指导 B. 稳定资本主义制度
C. 以国有制取代私有制 D. 固守传统的“自由放任”政策
- () 24. 工业生产指数是一些国家用来计算和反映工业发展速度的指标之一。对下图分析恰当的是
- A. 20 世纪 20 年代美国经济空前繁荣,工业快速发展
B. 罗斯福政府加强对工业的计划指导,促进了工业生产的恢复
C. 罗斯福政府通过兴建公共设施,解决失业人口过多问题
D. 第二次世界大战的全面爆发客观上加速了美国工业的发展
- () 25. 1945 年 4 月 16 日,苏联红军向柏林发起总攻。这一天,苏军发射了 120 万吨炮弹,24 小时内,2450 车皮的炮弹,即近十万吨钢铁落到了德军头上。天空中,总数 6550 架次的苏军轰炸机,把成千上万颗重磅炸弹倾泻到柏林城郊和城内。战线后方,苏联为这次战争运送军火物资的列车,如果排成一条直线,总长度超过 1200 千米。这表明影响战争的因素是
- A. 参加战争人数 B. 军事战略思想
C. 后勤保障能力 D. 情报信息搜集

二、非选择题(共 50 分)

得分	评卷人

26. 读图,回答问题。(6 分)



图一 法国《人权宣言》



图二 《共产党宣言》

(1)两部宣言的发表相距多少年?(1 分)

(2)图一所示宣言表达的主要观点有哪些?(2 分)

(3)图二所示宣言的主要起草者是谁?它的发表具有怎样的标志性意义?(3 分)

得分	评卷人

27. 阅读材料,回答问题。(14 分)

十四世纪以来,西欧资本主义工商业萌芽并逐步发展,西欧开始酝酿一场重大的变革,此后西欧接连发生了“人的发现”和“世界的发现”两大历史现象。

材料一 在封建社会向资本主义社会演变的过程中,开创新制度的思想先驱对于传统文化大都有离异与回归两种趋向。资本主义发展最早的西欧是一种类型。那里的离异,主要表现为对中世纪的批判与背离;那里的回归,则主要表现为从希腊、罗马古代精神文明中寻求人文主义的力量源泉。

——章开沅《离异与回归》

材料二 早在 13、14 世纪,连接欧亚非地区的世界贸易网已经形成,欧洲在其中一直处于边缘地位。这不仅因为欧洲的经济总量远远无法与亚洲的中国、印度相比,还由于欧洲人在从亚洲输入香料、丝绸、瓷器、棉织品等商品时,能向亚洲销售的产品极少,多数情况下只能以金、银等贵金属交易,欧洲的贵金属货币日益紧缺。16 世纪欧洲在世界经济贸易中的这种处境开始改善。但一直到 18 世纪,原有的世界经济贸易格局仍没有改变。随着欧洲人越来越广泛深入地融入和利用既存的经济贸易体系,并在其中发挥日益增大的影响力,到 19 世纪欧洲终于成为世界经济贸易的中心。

——摘编自《白银资本》等

(1)据材料一,指出西欧的“离异与回归”是哪个历史事件。(2 分)并结合所学知识,分析其主要影响。(2 分)

(2)据材料二,13 到 18 世纪,在世界经济贸易中居优势地位的是哪个地区?(2 分)结合所学知识,分析 16 世纪欧洲在世界经济贸易中处境开始改善的主要原因。(4 分)

(3)综合上述材料和问题,概括上述历史事件相同的历史作用。(4 分)



得分	评卷人

28. 阅读材料,回答问题。(12分)

材料一 有学者认为,在16—19世纪中叶的世界经济发展中,英国的地位步步上升,最终独占鳌头,成为世界经济体系中的最大剥削者。下表是英国在这一进程中的历史事件。

英国历史大事年表(部分)

1562年英国的非洲奴隶贸易开始
1583年英国开始在北美殖民
1600年伦敦商人开始组建东印度公司
1651年英国议会颁布《航海条例》
17世纪中后期三次英荷战争
1688年英国“光荣革命”
1742年英国与西班牙发生贸易战争
1825年斯蒂芬森的蒸汽机车运行成功
1840年英国发动鸦片战争

材料二 英国的优越地位在十八世纪归功于优越的政治制度……在十九世纪初期则几乎完全归功于机械技术。在1740年,“效法英国”一词已经成为人们的口头禅,而到1830年,英国已成为“工业欧洲的老师”……

——克劳利《新编剑桥世界近代史》第九卷

材料三

《全球通史:1500年以后的世界》摘自

第一编	1500年以前诸孤立地区的世界
第二编	新兴西方的世界,1500—1763年
第三编	西方据优势地位时的世界,1763—1914年
(一)优势的基础	
第十章	科学革命
第十一章	工业革命
第十二章	政治革命
一、政治革命的格局	
二、英国革命	
三、启蒙运动	
四、美国革命	
五、法国革命	
……	

——摘自斯塔夫里阿诺斯著《全球通史:1500年以后的世界》

(1)结合所学知识,为材料一中的“英国历史大事年表”补充两件大事并说明理由。(4分)

(2)据材料二,概括说明英国在政治、经济方面对世界近代历史发展的重要贡献。(2分)

(3)据材料三并结合所学知识,说明近代西方是如何取得“优势地位”的。(6分)

得分	评卷人

29. 阅读材料,回答问题。(18分)

材料一 自1921年结束战争后,反对苏联(俄)是很多国家共同的目标,他们还采取了联合反苏行动。西方各国一致对苏联(俄)采取了敌视政策,在经济上严密封锁,防止任何先进的设备和技术流向苏联(俄)……钢铁电力生产远远不能满足国民经济需要……汽车、飞机制造、化学合成、大型机械、设备制造等大工业更是一片空白。

——摘编自钱乘旦《世界现代化进程》

材料二

苏联两个五年计划成就表

成就一	1937年,钢产量达1770万吨,钢材为1300万吨,生铁为1450万吨,煤为1.28亿吨,发电量为365亿度。
成就二	两个五年计划完成后,苏联重工业飞速发展,建立起钢铁、飞机、汽车、拖拉机、化学、重型机械、精密仪器等部门。在东部地区兴建了乌拉尔—库兹涅茨钢铁、重型机械、煤炭基地,新库兹涅茨钢铁基地,沃尔佳—乌拉尔石油基地等。

材料三 为了不让文化落后拖住工业化的脚步,1928年秋,苏联政府掀起了群众性扫盲运动,全党和全国人民积极投入文化和技术的学习热潮中。从1929年到1939年,熟练工人增加了9倍,工程师增加了5倍多。苏联人民文化、技术水平的提高为社会主义工业化装上了加速器。

材料四 为了摆脱眼前的困境,他们展开激烈的经济战,竞相对外倾销商品和输出资本。仅在1929年,苏联就同西方各国签订了70余个技术援助项目。1930年以后,苏联干脆直接购买成套设备和招请外资包建,快速引进西方的先进技术项目。1931年,美国出口的机器设备中有50%卖给苏联。在美国找不到工作的外国专家近2000人,技术人员1万多人来苏联工作。

——摘编自《苏联社会主义经济史》

(1)据材料一、二,概括苏联工业化建设的特点。(2分)据材料一、二和所学知识探究其原因。(8分)

(2)据材料二,概括20世纪20—30年代苏联工业发展状况。(2分)据上述材料探究其原因。(6分)

