

九年级历史

(满分 50 分,考试时间 50 分钟)

选择题(共 20 小题,20 分)

下列每一小题列出的四个选项中,只有一项是最符合题目要求的,请将正确选项的英文字母代号填写在相应位置上。

1. 下列三幅图片共同反映了



汉谟拉比法典



公民大会



十二铜表法

A. 古代欧洲经济的发展

B. 古罗马帝国的辉煌

C. 古代世界民主与法制

D. 古代亚洲民主的发展

2. “在中世纪的第一个篇章里,就人类进步而言,没有任何民族做出的贡献堪与阿拉伯相比。”

下列符合这一观点的是

A. 《荷马史诗》

B. 儒略历

C. 阿拉伯数字

D. 《罗马民法大全》

3. 美国历史学家斯塔夫里阿诺斯指出:“1500 年至 1763 年的这些岁月是全球开始统一的时期。”这里“全球开始统一”始于

A. 丝绸之路

B. 工业革命

C. 殖民掠夺

D. 新航路开辟

4. 14 世纪中期以后,一些有经济实力的农民通过各种途径扩大耕地面积,同时雇佣少地或无地的农民为自己耕种,由此开始新的生产和经营方式是

A. 庄园经济

B. 工厂

C. 租地农场

D. 手工工场

5. 达·芬奇在《蒙娜丽莎》中,刻画了一个人间妇女的青春之美;米开朗琪罗在教堂巨幅画《创世记》中创作的众多鲜活人物,释放着震撼人心的光芒。这两幅作品体现的核心思想是

A. 人文主义

B. 神权至上

C. 君权神授

D. 理性主义

6. 西欧中世纪城市市民人身自由和财产受法律保护,有贸易自由,有资格参与市政,当时谚语“城市的空气使人自由”表明西欧中世纪城市

- A. 市民享有一定的政治经济权利
- B. 摆脱了教会的控制
- C. 市民阶层尚未享受到自由权利
- D. 空气清新,环境自由

7. 《权利法案》规定:“凡未经议会准许,借口国王特权,为国王而征收,或供国王使用而征收金钱,超出议会准许之时限或方式者,皆为非法。”由此可知,《权利法案》

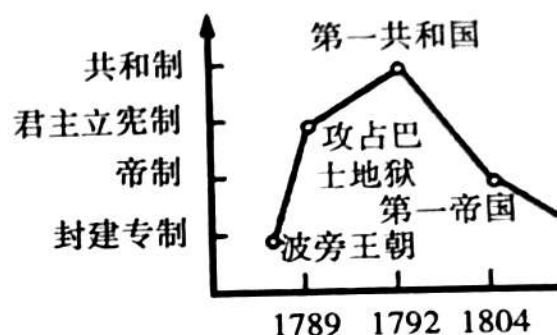
- A. 规定国王没有任何权力
- B. 限制了国王权力
- C. 实现了英国独立
- D. 维护了君主统治

8. “我们取消对英国王室效忠的全部义务,我们与大不列颠王国之间的一切政治联系从此完全断绝……同时以我们的生命、财产和神圣的名誉彼此宣誓来支援这一宣言。”材料中的“宣言”发表

- A. 标志着美国实现了民族独立
- B. 确立了三权分立原则
- C. 宣告北美 13 个殖民地脱离英国独立
- D. 独立战争的开始

9. 右图描述的是某国家革命历程,该国是

- A. 日本
- B. 英国
- C. 德国
- D. 法国



10. “让统治阶级在共产主义革命面前发抖吧。无产者

在这个革命中失去的只是锁链,他们获得的将是整个世界。全世界无产者,联合起来!”这段文字应当出自

- A. 《共产党宣言》
- B. 《拿破仑法典》
- C. 《权利法案》
- D. 《人权宣言》

11. 下面一组图片反映的主题是



解放者——西蒙·破利瓦尔 非暴力不合作运动中的甘地 阿尔及利亚人民庆祝独立

- A. 早期的殖民掠夺
- B. 印度民族大起义
- C. 亚非拉国家的民族独立运动
- D. 巴拿马收回运河主权

12. 19 世纪中期,“农民革命的威胁迫使政府开始准备农村改革。甚至沙皇及其赖以存在的支柱农奴地主也意识到必须破除农奴制。”为此俄国开始

A. 彼得一世改革

B. 废除农奴制改革

C. 颁布《解放黑人奴隶宣言》

D. 十月革命

13. “他反对奴隶制,但他把奴隶制看作是次要问题。……他的主要目的是美国不应当被分裂成显然不同而相互倾轧的两个部分。因此在漫长的四年斗争中,他始终坚持一个不动摇的信念。”

材料表明“他”的“信念”是

A. 废除奴隶制

B. 赢得民族独立

C. 建立社会保障制度

D. 维护国家统一

14. 第一次世界大战期间,英国失去了对外投资的四分之一,法国失去了三分之一,而德国则失去了全部对外投资。第二次世界大战后欧洲失去了其大部分殖民地。此材料意在说明两次世界大战

A. 使欧洲失去国际影响力

B. 给世界人民带来巨大灾难

C. 大大削弱了欧洲的力量

D. 促进殖民地国家民族解放

15. 在工业方面,苏维埃国家仍然直接控制着重要的工业部门,但鼓励私人开设小规模工厂,同时恢复经贸活动,扩大城乡之间的商品交换。材料表明苏俄实行

A. 新经济政策

B. 战时共产主义

C. 农业集体化

D. 两个五年计划


16. 下列材料属于研究巴黎和会的第一手资料是



A. 《凡尔赛条约》文本



B. 漫画《大国的博弈》



C. 一战后的欧洲



D. 油画《凡尔赛宫镜厅》

17. 世界反法西斯同盟的建立,是世界反法西斯战争胜利的根本保证,该同盟建立的标志是

A. 斯大林格勒战役的胜利

B. 欧洲第二战场的开辟

C. 雅尔塔会议的召开

D. 《联合国宣言》的签署

18. 对欧洲来说,这刺激了对战后重建的投资,从而避免了共产主义的扩张。对美国来说,这解决了生产过剩的问题,增加了美国对外出口,“这”是指

- A. 铁幕演说 B. 马歇尔计划 C. 北约的成立 D. 华约的成立

19. 1919 年召开的巴黎和会,在出席和会的国家中,英美法日意五国各有 5 名全权代表,可以出席一切会议;其他国家只有 1~3 名全权代表,只能出席与他们有关的会议,这表明巴黎和会

- A. 是一次分赃会议 B. 被大国操纵
C. 对德国严惩 D. 使各国矛盾激化

20. 牛顿以“万有引力定律”把“造物主”从无生命现象的研究领域驱逐了出去,“他”则把“造物主”从有生命现象的研究领域驱逐了出去。这里“他”是

- A. 贝多芬 B. 巴尔扎克 C. 梵高 D. 达尔文

非选择题(共 5 小题,30 分)

21. (6 分)阅读下列材料,回答问题:


材料一



许昌春秋楼

春秋楼是关帝庙的主体建筑,砖木结构,重檐歇山式。殿顶覆盖绿色琉璃瓦,面阔三间,周围 16 根廊柱,楼上楼下均带回廊,青石柱础上雕有花鸟虫鱼和人物等图案。建筑结构严谨,造型大方。廊轩昂然,金碧辉煌。春秋楼为该庙的最高建筑,有彩塑关羽夜读《春秋》的坐像,形象逼真。

材料二



罗马万神庙

万神庙是古罗马供奉众神的场所,位于罗马。由八柱门廊和圆形神殿组成。殿内空间宏大,周围厚壁上有壁龛七个,内供神像。各部分构图比例合宜,装饰华丽。万神庙采用了穹顶覆盖的集中式形制。基础墙和穹顶都用火山灰水泥制成的混凝土浇筑,穹顶抹灰。

(1) 据材料,概括春秋楼和万神庙在建筑构造上的异同,两座建筑有何研究价值?(4 分)

(2) 建筑是凝固的历史和文化。结合上述探究,你如何看待东西方文化?(2 分)

22. (6分) 阅读下列材料, 回答问题:

材料一 1853年, 美国佩里将军的舰队陈兵东京湾, 日本无力抵御它们。十年前, 美国人在鸦片战争中, 对中国也曾这样耀武扬威……与中国截然不同, 19世纪60年代, 日本宣告了一个迅速改革和西方化时代的到来。

材料二 明治政府认为强有力的经济是国家实力的基础, 因此兴建了现代化交通、通信和教育等基础设施。电报、铁路、以及蒸汽轮船航线的建立把地方和区域市场连接成为一个全国性的经济网络。政府还通过废除行会限制和内部关税, 去除了商业和贸易壁垒。政府引入了普及初等教育和中等教育的体系。这些基础设施支撑了工业化和经济的快速发展。到20世纪初, 日本进入了主要工业化国家的行列。

(1) 据材料一概括 19 世纪五六十年代中日两国面临的相同困境。中日两国出现“截然不同”的结果指的是什么? (3分)

(2) 据材料二, 归纳日本迅速完成工业化的原因。(2分)

(3) 日本改革取得成功, 我们可以借鉴的经验是什么? (1分)

23. (6分) 请依据下面图片反映的历史信息, 并结合所学知识, 写一篇 80 ~ 120 字的小短文。

(要求: 题目自拟, 史实正确, 语句通顺, 表述完整, 体现图片内容之间的比较)



第一个五年计划期间,
苏联修建的第聂伯河水电站



新政期间, 美国“以工代赈”,
投资建设的田纳西水利工程

24. (6分) 阅读下列材料, 回答问题:

材料 19 世纪英国城市的环境问题非常严重, 主要表现为水体污染和空气污染, 由此造成多种传染病的流行及早期公害的发生, 1832 年 3 月, 霍乱遍及英国, 1848 - 1849 年霍乱在英国再次兴起。根据实验研究认识到霍乱的根源是水的污染。19 世纪的英国, 水体污染则是十分严重和普遍的现象。1855 年, 伦敦开始了下水道现代化工程, 到 1875 年全部完工。随着社会中的物质生活水


九年级历史第 5 页(共 6 页)

平的提高和医学的进步,人们的健康状况开始得到改善。在 1873、1880 年和 1892 年,伦敦相继发生的燃煤造成的毒雾事件先后夺取了 1800 人的生命。

- (1)据材料,概括 19 世纪英国城市发展面临的问题。(2 分)
- (2)结合所学知识,分析英国出现上述问题的原因。(2 分)
- (3)综上所述,英国城市治理对我国城市发展有何启示?(2 分)

25. (6 分)阅读下列材料,回答问题:

材料一



商务部发布中国加入世界贸易组织十周年纪念标识 “一部手机走天下”

材料二 苏联解体后的部分世界重要力量

欧盟	欧洲实力进一步增强
中国	改革开放以来,经济快速发展,国家综合实力显著增强
日本	积极谋求政治大国地位
俄罗斯	力求在国际舞台上扮演更重要的角色

材料三 任何国家都没有包揽国际事务、主宰他国命运、垄断发展优势的权力。单边主义没有出路,要坚持共商共建共享,由各国共同维护普遍安全,共同分享发展成果,共同掌握世界命运。要切实提高发展中国家在联合国的代表性和发言权,使联合国更加平衡地反映大多数国家利益和意愿。

- (1)材料一反映了当今世界发展的哪些特点或主要趋势?(2 分)
- (2)请为材料二中的表格拟定一个恰当的主题,并再写出一种整理史实的方法。(2 分)
- (3)面对当今世界新局势,你认为联合国应该如何更好地发挥其作用?(2 分)