

2021—2022 学年第二次练兵试题

（九年级 历史）

一、选择题（本大题共 25 小题，每小题 2 分，共 50 分。在每小题列出的四个选项中，只有一项符合题意）

1. 公元前 344 年，秦国政府下令统度量衡，并颁布了度量衡标准器（如图）。该文物可用于研究（ ）



铜方量

A. 管仲改革 B. 商鞅变法 C. 孝文帝改革 D. 王安石变法

2. 西汉初期，皇帝出巡找不到四匹毛色一样的马驾车。短短几十年后“京师之钱累巨万”。这与下列哪一盛世局面有关？（ ）

A. 贞观之治 B. 光武中兴 C. 文景之治 D. 开元盛世

3. 右图画摹绘自敦煌莫高窟壁画。这些原是北方少数民族的坐具，在魏晋南北朝时期引入内地。这幅图体现了（ ）



A. 少数民族被汉化 B. 政权分立的加剧
C. 南北方习俗相同 D. 民族交融的结果

4. 宋初的大将曹翰写下一首《退将诗》，有“曾因国难披金甲，不为家贫卖宝刀”之句；当时有谚语曰：“做人莫做军，做铁莫做针。”这反映的社会现象是（ ）

A. 外重内轻 B. 重文轻武 C. 藩镇割据 D. 无为而治

5. 右图反映的主题是（ ）

A. 统一多民族国家的巩固 B. 盛世局面形成与发展
C. 历代王朝对西域的统治 D. 西南边疆的巩固措施

西汉在西域设置西域都护
元朝由宣政院统辖西藏
清朝在新疆设置伊犁将军
清朝在台湾设置台湾府

6. 清代旧例：凡内地商人赴外洋者，必戚里具结状，限往返期，逾限者连坐。……过三年不归者，不听回籍。关于该政策的说法，正确的是（ ）

A. 对外国侵略没有起到自卫作用 B. 鼓励对外贸易的发展
C. 使中国逐渐落后于世界的发展 D. 没有起到积极作用

7. 近代有人主张“凡分田，照人口，不论男妇，算其家人口多寡”，力图建立“无处不均匀、无人不饱暖”的理想社会。提出这一主张的是（ ）

A. 农民阶级 B. 洋务派 C. 维新派 D. 革命派

8. 19 世纪末，某条约签订后，法国的画报刊载了一幅漫画（见下图），描绘了列强瓜分中国的情况。和该条约的签订有关的战争是（ ）



A. 鸦片战争 B. 第二次鸦片战争
C. 甲午中日战争 D. 八国联军侵华战争

9. 2021 年 10 月 9 日，纪念辛亥革命 110 周年大会在北京人民大会堂隆重举行。国家主席习近平出席大会并发表重要讲话。我们纪念辛亥革命，是因为这场革命（ ）

A. 改变了中国的社会性质 B. 形成了三民主义
C. 推翻了清王朝反动统治 D. 引进了西方科技

10. 某美籍华人学者认为，淞沪之攻防战损失过重，非中国可能负担，但从抗日局势来看，这场会战（ ）

A. 使抗日战争进入相持阶段
B. 打破了日本三个月灭亡中国的迷梦
C. 是中国军民与日军的第一次正面交锋
D. 是抗战以来中国正面战场取得的最大的一次胜仗

11. “四十星夜风云，三千里路程；雄师南下，越黄泛，铁骑饮马长江滨；壮举谁为者，刘邓常胜军。”材料描写的事件（ ）

A. 粉碎了国民党军队的全面进攻 B. 揭开了解放军战略进攻的序幕
C. 打退了敌人对山东东解放区的重点进攻 D. 发起了渡江战役，占领了南京

12. 右图为魏巍报告文学《谁是最可爱的人》封面影印件，1951 年 4 月 11 日《人民日报》开始刊登此文，它讴歌的是（ ）

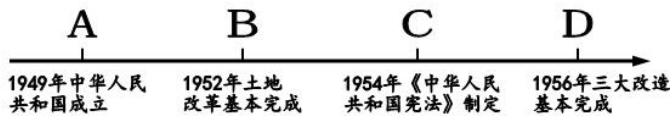
- A. 中国工农红军
- B. 八路军
- C. 中国人民解放军
- D. 中国人民志愿军



13. 一位工人兴奋地说：“今天厂里开会了，以后不吃大锅饭了只要大家努力干，厂子干好了，大家的收入就多了。以后再也不是干多干少一个样了。”这说明当时我国开始进行（ ）

- A. 资本主义工商业改造
- B. 农村经济体制改革
- C. 国有企业改革
- D. 对外开放

14. 我国社会主义初级阶段，是逐步摆脱贫穷、摆脱落后的阶段；是由农业人口占多数的手工劳动为基础的农业国，逐步变为非农产业人口占多数的现代化的工业国的阶段……下图属于社会主义初级阶段起点的标志性事件是（ ）



- A. A
- B. B
- C. C
- D. D

15. 近年来，中国先后举办了以下重要国际会议。这反映出我国外交政策的特点是（ ）



G20 峰会·杭州 金砖峰会·厦门 上合峰会·青岛 “一带一路”高峰论坛·北京

- A. 独立自主
- B. 一边倒
- C. 求同存异
- D. 全方位

16. “他”主政时期，雅典达到全盛，奴隶主民主政治发展到高峰；“他”是希腊文化的积极倡导者，把雅典变成了“全希腊的学校”，“他”指的是（ ）

- A. 伯里克利
- B. 亚历山大
- C. 凯撒
- D. 查理大帝

17. 把握关键词，获取重要信息是学习历史的重要方法之一。引擎搜索某一关键词，得到“耶稣”“救世主”等信息，这一关键词是（ ）

- A. 道教
- B. 基督教
- C. 佛教
- D. 伊斯兰教

18. 《归来没有统帅》记述了欧洲一位航海家的事迹，这名“统帅”的航海证明地球表面大部分地区不是陆地，而是海洋，世界各地的海洋不是相互隔离的，而是一个统一的完整水域。下列和这名“统帅”有关的是（ ）

- A. 打开了绕道非洲南端通往东方的航路
- B. 发现美洲大陆
- C. 绕过好望角到达印度西海岸
- D. 完成了环球航行

19. 1870 年，世界石油产量约为 80 万吨；1900 年，世界石油产量约为 2000 万吨。导致这一变化的主要原因是（ ）

- A. 珍妮机的发明
- B. 蒸汽机的改良
- C. 发电机的发明
- D. 内燃机的发明

20. 1921 年，瞿秋白出访苏俄，他记录道：俄国与国外的通商是政府的专利。英国已经签约，德国就在这几天内，其余边境小国即意大利，都已结通商关系。材料表明当时苏俄（ ）

- A. 实行战时共产主义政策
- B. 实行了新经济政策
- C. 是一个落后的农业国
- D. 完成了工业化

21. 10 月 2 日是一位伟大历史人物的生日，联合国将这一天确定为“国际非暴力日”，希望由此促进宽容和增进人类尊严，远离暴力，远离战争。据此，10 月 2 日应该是下列哪一位历史人物的生日（ ）

- A. 玻利瓦尔
- B. 章西女王
- C. 甘地
- D. 列宁

22. 马克思曾预言，觉悟的工人阶级会以某种方式夺取政权，然后建立一个全新的社会国家，将马克思的预言变成现实是在（ ）

- A. 1848 年
- B. 1861 年
- C. 1871 年
- D. 1917 年

23. 这一事件不仅宣告了希特勒“闪电战战无不胜”神话的破灭，也鼓舞了全世界人民反法西斯的决心。“这一事件”指的是（ ）



- A. 《联合国宣言》签署
- B. 诺曼底登陆
- C. 莫斯科保卫战
- D. 斯大林格勒战役

24. 美国《基督教科学箴言报》曾经发表题为《没有“中国制造”的一年》一文，描述了一个美国家庭抵制中国产品近一年后终于发现，“没有中国产品的生活一团糟”，并表示，以后 10 年都没有勇气再尝试这种日子。文章的内容主要反映了（ ）

- A. 经济全球化 B. 美苏争霸 C. 政治多极化 D 两极格局的形成

25. 它在反法西斯战争年代孕育，它在反法西斯联盟的基础上建立，它为了把战时的友好合关系延续到战后，它反映了世界人民爱好和平的共同愿望。文中的“它”是（ ）

- A. 世界反法西斯联盟 B. 联合国 C. 七十七国集团 D. 世界贸易组织

二、非选择题（本大题共 3 小题，26 题 17 分，27 题 16 分，28 题 17 分，共 50 分）

26. （17 分）稻香话丰年，农业系民生。阅读材料，回答问题。

【中国古代农作物】

材料一

距今 10000 年左右，我国长江中下游的先民开始栽培如图的农作物，……距今 7000 年的浙江余姚某遗址也发现了此作物大量谷壳的堆积。 ——摘编于部编《中国历史》		清朝前期，……在庄家种植方面，改进种植技术，改良新品种，推广玉米、甘薯等……同时，经济作物的种植也有了较大大发展。——部编《中国历史》
---	---	---

（1）结合所学知识，指出“某遗址”是哪一原始居民的生活区域？玉米、甘薯是什么时候引进中国的？这些农作物有哪些共同优势？（3 分）


【中国古代农业发展】

材料二

文帝重视农业，十三年下诏全免田租。景帝元年复收田租之半，即三十税一，并成为汉朝定制。文帝时，丁男徭役减为“三年而一事”，算赋也由每年百二十钱减为四十钱。——翦伯赞《中国史纲要》（上）		
---	---	--

（2）根据材料写出文帝、景帝是怎样发展农业的？写出唐太宗发展农业的措施。图中生产工具的名称是什么？（6 分）

材料三

“苏湖熟，天下足”， “苏常熟，天下足”。 ——宋代谚语	
------------------------------------	---

（3）材料表明我国的经济重心发生了怎样的变化？根据所学知识说说产生该变化的原因。（至少回答一点）（3 分）

【中国古代农业著作】

材料四

顺天时，量地利，则用力少而成功多。任情返道，劳而无获。		
-----------------------------	---	---

（4）分别写出图一、图二著作的作者。材料体现了什么思想？（4 分）

【发展农业的思考】

（5）综合上述材料并结合所学知识，请为我国农业发展提出建议。（2 分）

27. （16 分）无论是顺境还是逆境，中国共产党都矢志不渝，团结带领中国人民以“敢教日月换新天”的豪情壮志，创造了一个又一个奇迹。阅读材料，回答问题。

【近代中国探索之路】

材料一 对于中国人来说，这场战争是一块界碑。它铭刻着中世纪古老的社会在炮口逼迫下赶往近代的最初的一步……鸦片战争不仅是英国对中国的胜利，而且是先进的西方对古老东方的胜利。

——陈旭麓《近代中国社会的新陈代谢》

（1）鸦片战争对中国社会和历史产生了什么影响？（2 分）

材料二



李鸿章 康有为 孙中山 陈独秀

(2) 依次写出图中人物所代表的中国人民近代化探索的四件大事。(4分)

【在苦难中铸就辉煌】

材料三

红船开辟了中国革命的新航道，点燃了中国革命的星星之火，指明了中国革命的正确前进方向，成为实现中华民族伟大复兴的指路明灯。“红船精神”由此诞生。——摘编自李永胜《“红船精神”的历史价值与现实意义》	这是一次丰富多彩、可歌可泣的远征，……艰难困苦、英勇牺牲、……始终如一希望、令人惊叹的革命乐观情绪，……红军终于到达了目的地，其核心力量仍完整无损，其军心士气和政治意志的坚强一如往昔。 ——埃德加·斯诺《红星照耀中国》
---	--

(3) “红船精神”源于哪一重大历史事件？写出该事件的历史意义。材料中的“远征”指的是什么？远征途中对中国共产党最具转折意义的会议是什么？(5分)

【全心全意为了人民】

材料四

	<table><tr><th>主要工业产品</th><th>1952年</th><th>1957年</th></tr><tr><td>钢产量</td><td>134万吨</td><td>535万吨</td></tr><tr><td>原煤产量</td><td>0.67亿吨</td><td>1.31亿吨</td></tr><tr><td>发电量</td><td>72.6亿度</td><td>193亿度</td></tr></table> <p>1952年-1957年我国主要工业产品产量的变化</p>	主要工业产品	1952年	1957年	钢产量	134万吨	535万吨	原煤产量	0.67亿吨	1.31亿吨	发电量	72.6亿度	193亿度	党的十一届三中全会以来，我国农村发生了许多重大变化。其中，影响最深远的是，普遍实行了多种形式的农业生产责任制。——《当前农村经济政策的若干问题》(1983年)
主要工业产品	1952年	1957年												
钢产量	134万吨	535万吨												
原煤产量	0.67亿吨	1.31亿吨												
发电量	72.6亿度	193亿度												

(4) 《中华人民共和国土地改革法》废除了什么制度？图中数据的变化和哪一历史事件有关？材料提到的“多种形式的农业生产责任制”中最主要的是什么责任制？最早实行这一责任制的地方是哪里？(4分)

【奋斗后赢得未来】

材料五

2021年5月28日至30日，中国科学技术协会第十次全国代表大会在北京人民大会堂隆重召开。习近平发表重要讲话强调，在革命、建设、改革各个历史时期，我们党都高度重视科技事业，科技事业在党和人民事业中始终具有十分重要的战略地位、发挥了十分重要的战略作用。	 屠呦呦
---	---------

(5) 新中国成立以来，我国科学家胸怀祖国、追求卓越，在诸多领域都取得了巨大成就。请写出图中人物的成就。(1分)

28. (17分) 14世纪中叶，在意大利一些城市开始出现资本主义萌芽，在资本主义发展过程中，受到多种因素的影响。阅读材料，回答问题。

【思想的力量】

材料一 自14世纪中叶起，欧洲发生了一场思想文化运动。这场运动起源于意大利，传播于欧洲，被认为是资本主义时代的曙光。

——《世界历史》九年级上册

(1) 材料中“资本主义时代的曙光”具体指哪一思想解放运动？它有何重大意义？(3分)

【革命的道路】


材料二

问题的关键不在于法案的条款如何，而在于国王必须是议会选举产生，服从议会的法律，遵从议会的主权。换句话说，在“光荣革命”中，专制的王权连同独立的王权一块儿消失了。 ——朱东来《大国崛起》		“在权利方面，人们生来是而且始终是自由平等的。……法律是公共意志的表现，所有公民有权参与法律的制定。财产权神圣不可侵犯。”——《人权宣言》
---	--	---

(2) 写出英国确立的政治体制的名称。这一体制是通过哪一法律文献确定的？根据图示概括美国政治体制的特点。《人权宣言》是在哪次资产阶级革命中发表的？英、法、美资产阶级革命的共同影响是什么？(6分)

【政治家的作用】

材料三

 <p>美国总统林肯</p>	<p>面对庞大的失业大军和贫穷者，罗斯福政府先后成立了公共工程管理署、国民工程管理署等机构，兴办了许多公共工程，为数以万计的失业者提供了就业机会。1935年，国会又通过了《社会保障法》，该法包括养老金制度、失业保险制度和对无依无靠者提供救济三部分。</p> <p>——摘编自齐涛《世界通史教程》</p>
---	---

(3) 请用一句话概括林肯对美国的贡献。根据材料归纳罗斯福政府为解决失业和贫困问题采取的措施，这些措施的实质是什么？（5分）

【战争的影响】

材料四 在日本海军偷袭珍珠港后，德、意、日法西斯签订联合作战协定。面对法西斯国家的联合行动，加强盟国内部的团结就显得非常重要。美国海报上的文字写着“团结，我们就能强大”、“团结，我们就能获胜”。

——摘编自陈仲丹《墙头政治》

- (4) 根据材料写出盟国最终获胜的关键是什么？二战中盟国的哪一军事行动开辟了欧洲第二战场？（2分）
- (5) 还有哪些因素推动了资本主义的发展？（至少答出一条，1分）