

洪泽区 2021-2022 学年度第二学期九年级学业水平调研测试 (二)

历史试题

(时间: 50 分钟 满分: 50 分)

一、单项选择题 (本大题共 10 题, 每小题 2 分, 共 20 分。每小题只有一个最佳选项。)

1. 有学者指出: “春秋战国之交农业生产有着飞跃的发展……生产量有很大的提高。”这主要是因为

- A. 国家实现了大一统
- B. 农具有了革命性的进步
- C. 北方人口的大量南迁
- D. 高产农作物品种被引进

2. 唐朝时, 唐代社会涌现出一大批天下闻名的女性人物, 其中既有女皇帝武则天、女将军平阳公主, 又有女官上官婉儿、女诗人薛涛、女道人鱼玄机等, 此外, 当时的一些妇女喜好骑马、打球、拔河、弈棋等活动。这种现象

- A. 反映了科举制度的进步
- B. 体现了民族交融的成果
- C. 得益于社会风气的开放
- D. 导致唐朝国势由盛转衰

3. 《宋史》记载: “艺祖(太祖)革命, 首用文吏而夺武臣之权, 宋之尚文, 端本此……自时厥后, 子孙相承。”由此反映出宋朝治国的特点是

- A. 无为而治
- B. 藩镇割据
- C. 闭关锁国
- D. 重文轻武

4. 德国人拉贝在 1937 年 12 月 14 日的日记中写到: “开车经过市区, 我们才晓得破坏的巨大程度。车子每经一二百米就会压过尸首, 那些都是平民的尸首。我检查过, 子弹是从后面射进去的, 很可能是老百姓在逃跑时从后面被打死的。”这段日记所记载的是日军进行

- A. 南京大屠杀
- B. 报复性“扫荡”
- C. 重庆大轰炸
- D. 奴化教育

5. 下面是 1953 年 12 月发表在《解放日报》的漫画《小农经济好比“看鸭船”, 一碰就翻》。该漫画意在说明开展下列哪一运动的必要性

- A. 抗美援朝战争
- B. 农业合作化运动
- C. 土地改革运动
- D. 人民公社化运动



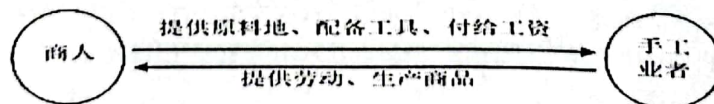
6. 有学者评论: 在《中美联合公报》中, 尼克松作了一个让步, 这或许是达成一项和解的最小让步。从长远来看, 增进了世界和平的前景。尼克松的“让步”是指承认

- A. 《朝鲜停战协定》
- B. 中国重返联合国
- C. 一个中国原则
- D. 中国加入世贸组织

7. 1992 年 2 月开始, 北京市的新增公司以每个月 2000 家的速度递增, 比过去增长了 2-3 倍。到 8 月 22 日, 全市库存的公司执照已全部已全数发光, 市工商局不得不紧急从天津调运一万个执照以解燃眉之急。这种现象的时代背景是

- A. 邓小平南方谈话
- B. 农村经济体制改革
- C. 新发展理念的提出
- D. “一带一路”建设

8. 下图所示是欧洲 13 世纪生产关系出现的新现象。它说明



- A. 租地农场的出现
- B. 资本原始积累血腥性
- C. 工业革命的兴起
- D. 生产方式资本主义化




9. 1689 年《权利法案》为英国国王接受后, 经过几十年的实践, 在国王和议会之间建立起一套稳定运转的工作机制。这说明英国

- A. 国王退出了政坛
- B. 实行君主立宪制
- C. 确立了共和政体
- D. 实现了三权分立

10. 右下图是 20 世纪 40 年代末及 80 年代末联合国成员国各地区分布比重变化统计图, 这一变化反映了

- A. 资本主义出现了新变化
- B. 社会主义力量的壮大
- C. 亚非拉国家取得新发展
- D. 世界多极化趋势发展

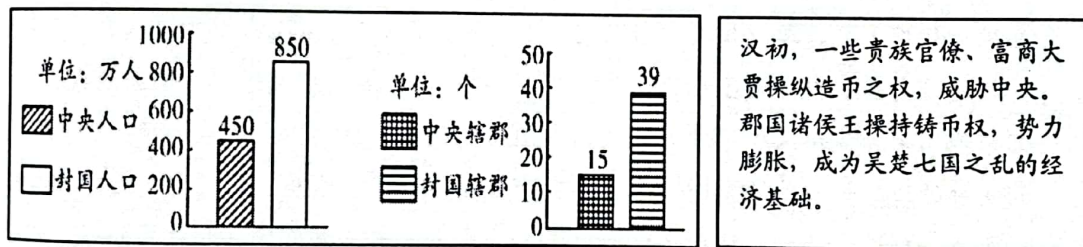


二、非选择题 (本大题共 3 题, 第 11 题 9 分, 第 12 题 10 分, 第 13 题 11 分, 共 30 分。)

11. (9 分) 国家应对各种重大危机和挑战的方案, 彰显着执政者的智慧和国家治理能力。

阅读材料, 完成下列要求。

材料一 汉初面临的政治、经济问题



材料二 清朝前期西北边疆和东南沿海的几件大事

时间	事件	清朝的应对
17 世纪后期	噶尔丹叛乱	康熙帝三次亲征, 平定了叛乱。
17 世纪后期	郑成功父子治理台湾	1683 年清军攻入台湾。次年, 清朝设台湾府。
18 世纪中期	大、小和卓叛乱	乾隆帝平定叛乱, 后设伊犁将军, 管辖整个新疆地区。

材料三 经历了数年战争的苏维埃俄国, 满目疮痍, 经济异常困难, 社会矛盾加剧。农民说: “土地属于我们, 面包却属于你们; 水属于我们, 鱼却属于你们; 森林属于我们, 木材却属于你们。” 列宁在调查后认为, 只有改变战时共产主义政策, 才能恢复和发展生产。

——摘编自中央电视台《大国崛起·俄罗斯》

材料四 美国 1932 年的国民收入下降到不足 1929 年的国民收入的一半, 有 1200 万到 1400 万人失业。……罗斯福新政期间, 美国颁布了《社会保障法》等方案, 内容涉及失业保险、养老保险、最低工资、最高工时、最低存款保险、对困难户的住房保障和廉价住房供应等。

——摘编自张建华主编《世界现代史》(1900—2000) 等

请回答:

- (1) 为解决材料一中呈现的政治、经济问题, 汉武帝主要采取了哪些措施? (2 分)
- (2) 据材料二, 概括指出清朝前期边疆地区面临着怎样的问题? 结合所学知识分析清朝的这些军事政治行动有何重大意义? (2 分)



- (3) 据材料三和所学知识, 归纳 1921 年苏俄实行新经济政策的原因。(2 分)
- (4) 据材料四, 概括美国罗斯福新政的背景。并结合所学知识简要评价罗斯福新政中的社会保障制度。(3 分)

12. (10 分) 近代史上, 为挽救民族危亡, 先进的中国人进行了一系列的探索。历史的重任最终落在了中国共产党人的肩上。阅读下列材料, 回答问题。

材料一 曾国藩及其他自强运动领袖虽走的路线不错, 然而他们不能救国救民族。此其故何在? 在于他们的不彻底。他们为什么不彻底呢? 一部分因为他们自己不要彻底, 大部分因为时代不容许他们彻底。
——摘自蒋廷黻《中国近代史》

材料二 甲午延续到戊戌, 那场昙花一现式的改革, 没有触及帝制的灵魂, 改革不可避免的走向了一条死胡同, 然而, 当时的人们, 依旧可以在胡同的深处看到一缕新生的曙光。
——马勇《中国近代史》

材料三 任何一个新的思想要成为一种物质力量, 就必须成为社会意识。要改造国民性, 在很大程度上就是要改掉民族的落后社会意识。科学观念和意识的改变是比较容易的, 但改变社会意识就非常困难。
——摘自陈旭麓《近代中国新陈代谢》

材料四 他……为灾难深重的中国民族与中国人民指出了达到彻底解放的唯一正确的完整的明确的道路——毛泽东道路。我们党和我国人民跟从这条道路, ……在苏维埃土地革命时, 创造了伟大的红色区域和红军, 毛泽东同志是红色区域和红军的创造者与领导者……
——刘少奇在中共七大作《关于修改党章的报告》

请回答:

- (1) 指出材料一中“自强运动路线”的内涵; 据材料并结合所学知识概括“他们不能救国救民族”的主要原因。(3 分)
- (2) 据材料二和所学知识, 如何理解改革不可避免的走向了一条死胡同? 从思想方面看, “一缕新生曙光”指的是什么?(2 分)
- (3) 据材料三, 以一例史实概括说明, 20 世纪初先进的中国人是如何改变落后社会意识的?(2 分)
- (4) 据材料四和所学知识, 我党在走“毛泽东道路”的探索过程中, 形成了什么思想? 写出毛泽东领导创建的第一个“红色区域”的名称。(2 分)
- (5) 综合上述材料, 你认为怎样才能真正实现国家的独立和人民的解放?(1 分)

13. (11 分) 交通的发展折射着时代的变迁和社会的进步。九年级(1)班同学开展“交通与社会变迁”探究性学习活动, 请你参与下列活动, 并回答相关问题。

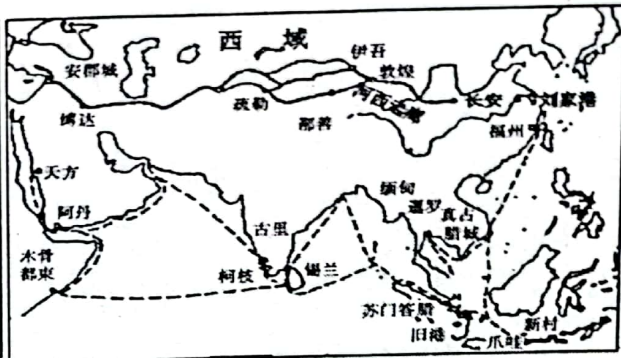
活动一:【感知历史】——了解古代中国的水陆交通

材料一 秦朝统一六国后, 修筑了驰道、直道和五尺道, 构成了以咸阳为中心的全国性道路网, 并统一了车辙宽度; 同时开通灵渠, 沟通湘江与漓江。……隋炀帝开凿大运河, 以洛阳为中心, 沟通南北。
——据孙家驹编《道路概论》等



材料二 古代中国的海洋交通

唐中后期，陆上丝绸之路因战乱受阻，而同一时期中国经济重心已向南方转移，海路又远比陆路运量大、成本低、安全度高，海路便取代陆路成为中外贸易主通道。海上丝绸之路在宋朝达到空前繁盛，明朝海禁后衰落。




活动二：【理解历史】——认识现代中国交通事业的发展

材料三 新中国成立前夕，旧中国只修筑了铁路 2.1 万多公里；到 2017 年底，中国铁路里程达到 12.7 万公里，高铁里程 2.5 万公里，占世界高铁总量的 66.3%。以前，全国铁路平均时速不到 40 公里；如今，时速 350 公里的“复兴号”高铁动车组越来越多，从北京到上海大约 1300 公里的距离，最快只要 4 个多小时。



20 世纪 80 年代的“绿皮”内燃机车

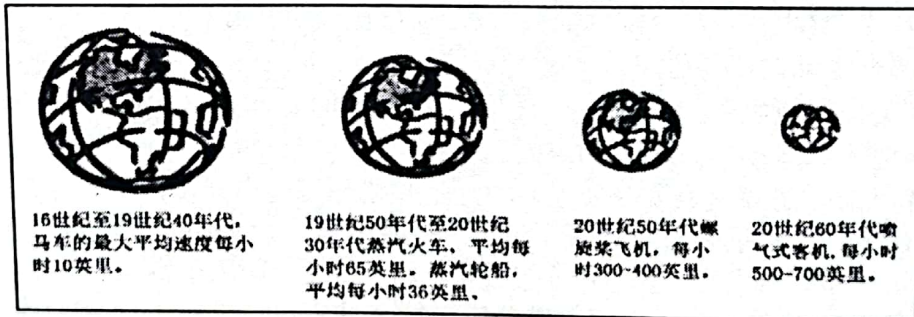


像子弹头的“复兴号”标准动车组

活动三：【探究学习】——探讨交通发展对人类社会历史发展的影响

材料四 15世纪后期,从欧洲出发的航海家们逐渐发现了我们现在所知世界的大部分地区。经过几次艰难的航行,探险家们开辟了新的航线……永远地结束了世界主要文明地区相互隔绝的局面。
——《大国崛起》解说词

材料五 16~20 世纪地球“变”得越来越“小”，与此同时，世界也发生着天翻地覆的变化，世界历史的内容越来越丰富，世界似乎“变”得越来越“大”。



请回答:

- (1) 据材料一并结合所学知识分析,秦、隋两朝采取上述措施的共同目的是什么?并据材料指出,中国古代交通建设有什么特点?(2分)
- (2) 据材料二文本框中的内容分析,导致“海上丝绸之路在宋朝达到空前繁盛”的原因有哪些?据材料二中的路线图,指出郑和为航海事业做出的伟大贡献?(3分)
- (3) 据材料三,20世纪80年代以来我国铁路交通事业有什么巨大发展?(2分)
- (4) 据材料四、五,从交通的角度概括,导致16~20世纪世界(地球)“变化”的因素有哪些?(2分)
- (5) 综上所述,交通事业的发展对社会、生产和生活有怎样的意义?(2分)

