

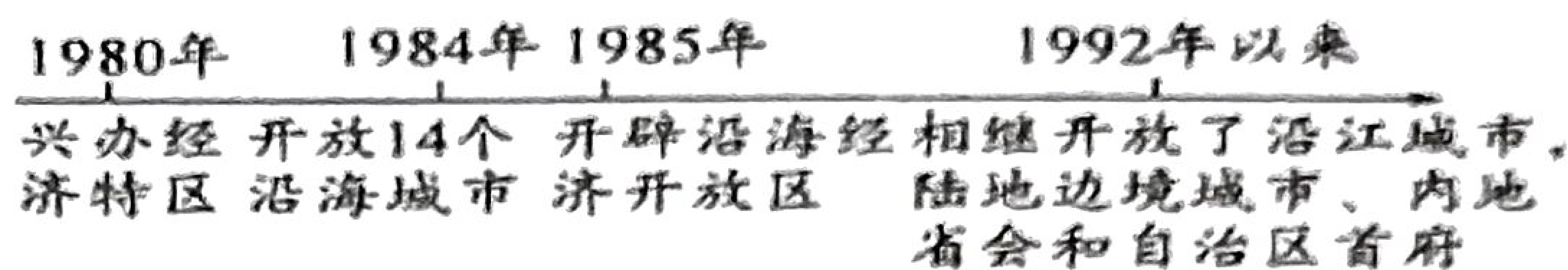
2022 年朝阳区初中毕业生模拟试题（历史）

一、选择题（每小题 1 分，共 25 分，每小题只有一个正确选项）

1. 他被称为是站在文明门槛上的一位伟人，他还具有“部落联盟首领”和“奴隶制国家国王”的双重身份。“他”是
A. 黄帝 B. 尧 C. 舜 D. 禹
2. 汉初，统治者推行“无为而治”的政策，主张“顺民之情，与之休息”。其思想来源于
A. 道家学说 B. 墨家学说 C. 法家学说 D. 儒家学说
3. “一次次地回望，回望长安城内的万家灯火。……你为干戈而来，为凿空西域而来，匈奴虏你十年，你……却收获了一条灿烂千年的丝路。”材料中的“你”指的是
A. 甘英 B. 张骞 C. 班勇 D. 班超
4. 有学者认为：“北宋时期，中国仿佛进入现代，物质文化蓬勃发展。”下列不能体现这一观点的史实是
A. 交子的出现 B. 热闹的瓦子
C. 景德镇的兴起 D. 经济重心南移的最后完成
5. 《全球通史》中写到：“这是第一次，也是唯一的一次，中国完全由游牧民族统治…”这里的“游牧民族”指哪一民族
A. 满族 B. 氐族 C. 鲜卑族 D. 蒙古族
6. 小赵从历史辨析栏目中下载了四句话，请你帮他找出与历史事实相符合的一句
A. 春秋时，有人在野外行走，带着司南辨识方向
B. 秦朝时，有人在纸上书写一种小篆字体
C. 西汉时，有人用活字排版《伤寒杂病论》
D. 唐朝末年，火药开始运用到军事领域
7. 梁启超针对明清时期的社会状况说过：“郑和之后，再无郑和”，中国逐渐脱离世界发展潮流，他指的是明清时期
A. 重农抑商 B. 闭关锁国 C. 君主专制的加强 D. 八股取士
8. 右图所示的起义的发动者自称是上帝的次子，受命下凡来铲除妖魔，拯救百姓。他发动这次武装起义的背景不包括
A. 鸦片战争失败，加深了清政府统治危机
B. 农民阶级的反抗斗争不断在各地发生
C. 洪秀全创立了“拜上帝会”，并积极传教
D. 洪秀全初步建立起太平天国政权组织
9. 101 年前是中国共产党历史的开端，有一首歌曲赞颂了中国共产党的诞生。这首歌的歌词应该是
A. 1992 年，那是一个春天 B. 南湖的船啊，党的摇篮
C. 我为共产主义把青春贡献 D. 解放区的天，是晴朗的天
10. 大生纱厂《厂约》中说：“通州之设厂，为通州民生计，亦为中国利源计。”由此可见，张謇办厂的目的是
A. 师夷长技 B. 抵御外侮 C. 实业救国 D. 自强求富



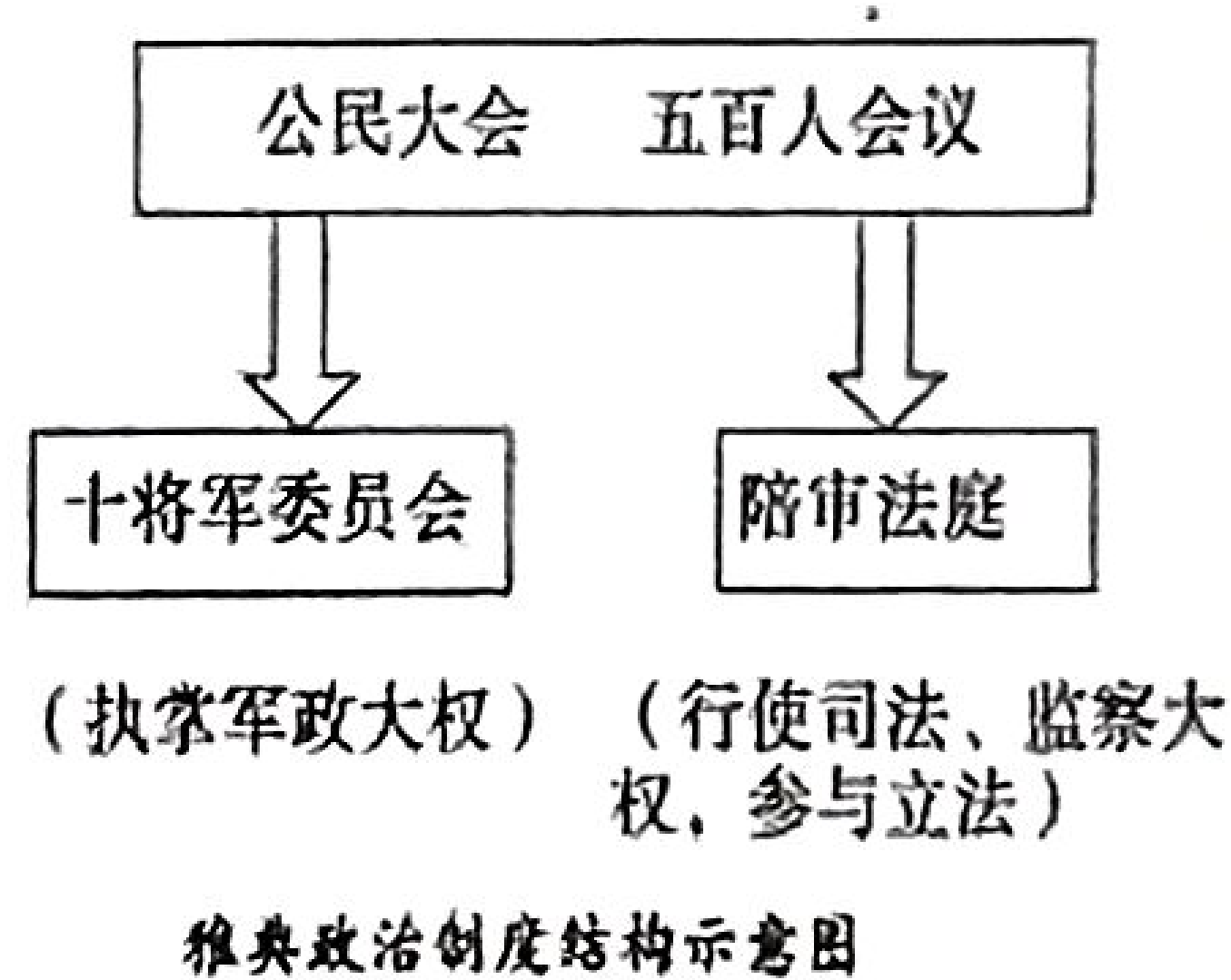
11. 在“一五计划”取得的建设成就中，密切了祖国内地与边疆地区联系的工程项目是
A. 川藏、新藏、青藏公路 B. 第一汽车制造厂
C. 武汉长江大桥 D. 鞍山钢铁公司
12. 两岸关系改善与发展的基础是坚持“九二共识”，台湾当局不承认“九二共识”，两岸双方就不可能进行良性互动，坚持“九二共识”最根本的就是要坚持
A. 一国两制构想 B. 和平统一方针
C. 一个中国原则 D. 两岸三通政策
13. 右图为对外开放进程示意图，据此推断对外开放格局的特点是



14. “计划多一点还是市场多一点，不是社会主义与资本主义的本质区别，计划经济不等于社会主义，资本主义也有计划……”邓小平的这段讲话
A. 指导建立社会主义计划经济体制 B. 进一步解放人们的思想
C. 确立了改革开放的政策 D. 推动中共十一届三中全会的召开
15. 动荡不安的伊拉克是当今世界关注的焦点，伊拉克所在的两河流域曾是世界文明的发祥地之一，下列哪一文明成果出自该地区

- A. 梵文 B. 楔形文字
C. 伊斯兰教 D. 象形文字

16. 如下图，古代文明成果的共同主题是



- A. 两河流域的统一
B. 古代民主政治的高峰
C. 罗马帝国的辉煌
D. 古代世界的民主与法制

17. 地中海见证了一个城市——罗马的成长，它从七个山丘到庞大的帝国，从一个默默无闻的地区变成了整个地中海的主人，被授予“奥古斯都”称号的是

- A. 屋大维 B. 亚历山大大帝 C. 伯里克利 D. 孝德天皇

18. “通过封建契约和分封仪式，如臣服礼、授职礼，领主和附庸形成依附关系。”材料体现的制度是

- A. 种姓制度 B. 共和制 C. 西欧封建等级制度 D. 联邦制

19. 我国古代四大发明中，为欧洲航海家进行环球航行和发现美洲，提供了重要条件的是
A. 造纸术 B. 印刷术 C. 指南针 D. 火药

20. 19世纪，英国宪法权威沃尔特说：“议会如果做出决定，就是把女王本人的死刑判决书送到她面前，她也不得不签字。”这从实质上说明

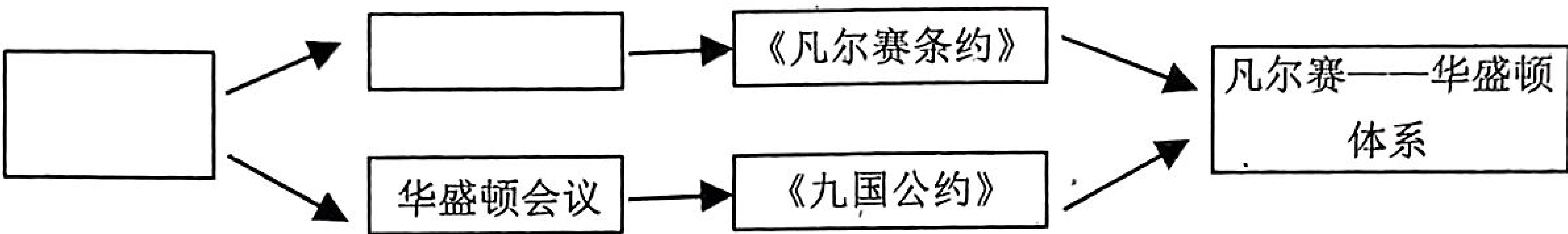
- A. 拥有实权的议会可以随意处死国王 B. 女王在国家政治生活中无作用
C. 议会在国家政治生活中的最高地位 D. 英国还没有推翻君主专制制度

21. 《共产党宣言》指出：“共产党人不屑于隐瞒自己的观点和意图。他们公开宣布：他们的目的只有用暴力推翻全部现存的社会制度才能达到。”无产阶级实现这一“目的”的第一次伟大胜利是

- A. 十月革命 B. 第一国际 C. 巴黎公社 D. 苏联成立

22. 民主政治的进步推动社会发展。对以下史实的影响表述不正确的是
- A. 英国的《权利法案》加强了王权
 - B. 日本进行明治维新，扬起近代化的船帆
 - C. 俄国解放农奴，促进了资本主义的发展
 - D. 俄国十月革命把社会主义从理论变为现实

23. 一位同学制作了知识结构图(如下图)，其中空白处分别填入的是



- A. 第一次世界大战 巴黎和会
 - B. 第一次世界大战 雅尔塔会议
 - C. 第二次世界大战 巴黎和会
 - D. 第二次世界大战 雅尔塔会议
24. 1945 年 8 月 8 日，苏联政府宣布对日作战。这是苏联兑现其在哪次国际会议上的承诺
- A. 巴黎和会
 - B. 慕尼黑会议
 - C. 波茨坦会议
 - D. 雅尔塔会议
25. 今年在应对新冠疫情过程中，云展览、云课堂、线上购等发挥了积极作用。这反映出
- A. 教育促进科技发展
 - B. 科技改善生态环境
 - C. 科技是一把双刃剑
 - D. 科技拓展生活空间

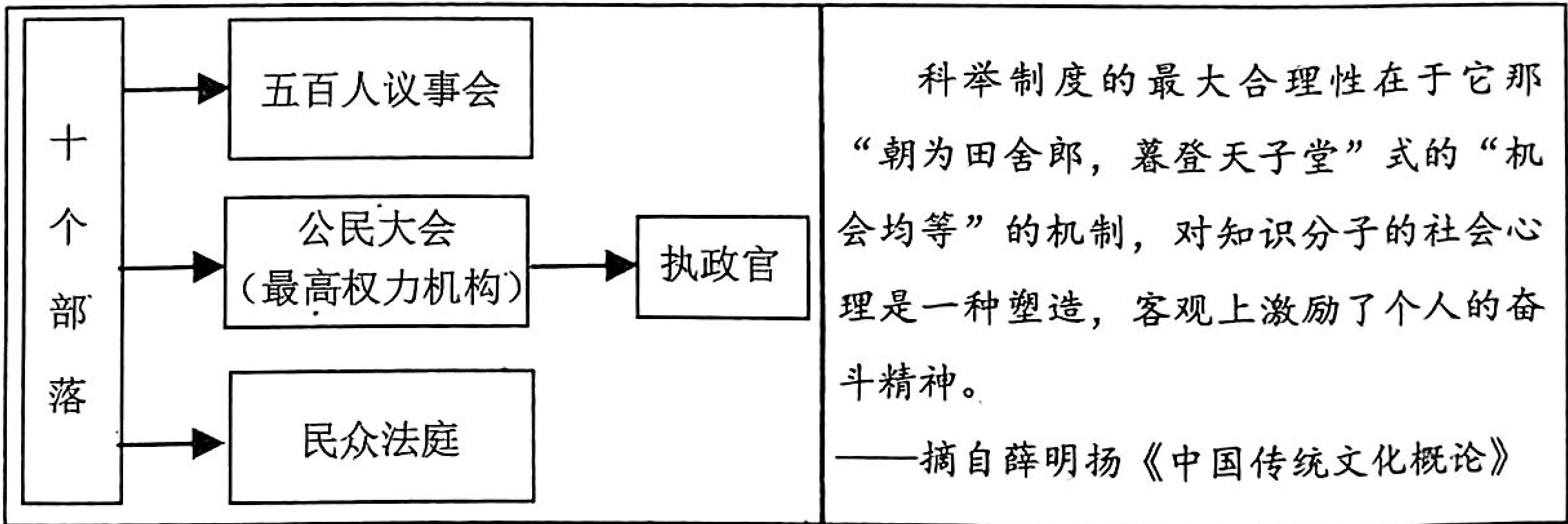
二、非选择题（2 小题，共 35 分）

26. 阅读下列材料，回答问题。

公平是国家、社会的根本价值理念，也是法律所追求的基本价值。老师以“公平”为主题，设计了下面的学习任务单，请你一起参与完成。

任务一 解读图文——谋求制度公平

- (1) 根据下面的图文信息，左栏的制度是如何体现公平的？右栏中的制度发挥了怎样的作用？（2 分）



任务二 释读文献——法律保障公平

- (2) 下面两部法律文献在保障公民的自由、平等等方面，有何历史贡献。（4 分）



图一《拿破仑法典》



图二《中华民国临时约法》

任务三 对比分析——社会福利公平

西方国家社会保障制度的建立历程	2021 年两会体现“公平”的话题
<ul style="list-style-type: none">• 1935 年美国颁布了《社会保障法》，实行了养老金制度、失业保险制度，向无依无靠者提供救济。• 1948 年，英国宣布全面实现了社会保障，建成福利国家。不久，法国和联邦德国也宣布成为“福利国家”。• 20 世纪六七十年代，西方主要资本主义国家的社会保障制度进一步发展。	<ul style="list-style-type: none">• 提高退休人员基本养老金、优抚对象抚恤和生活补助标准。• 高校招生继续加大对中西部和农村地区倾斜力度，让广大学生健康快乐成长，让每个孩子都有人生出彩的机会。• “全体人民共同富裕，取得更为明显的实质性进展”成为 2035 年远景目标。• “全面实施乡村振兴战略”写入纲要草案。
(3) 你如何看待西方国家的社会保障制度？（2 分）	(4) 上述材料中的两会“话题”从哪些方面体现了公平原则？（2 分）

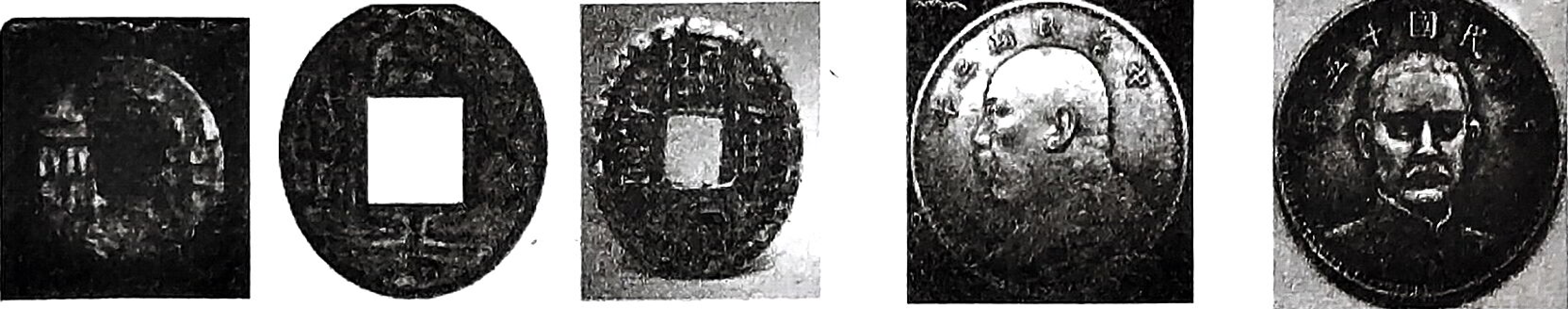
任务四 阐述史实——致力争取公平

(5) 从下面的关键词中任选三个，结合相关史实，以“公平促发展”为题写一篇 150 字左右的小短文。（7 分）

解放黑人奴隶宣言 俄国 1861 年改革 新中国土地改革
1954 年中华人民共和国宪法 世界贸易组织

27. 观察以下图片：古代货币给当时社会带来的影响；近代货币中反映的人物对中国历史进程的影响；现代货币发行的时间和货币图案的内容反映了当时的社会背景及简要的评价

(1) 以《货币》为题，阅读和观察图文材料后说明你的理解。（14 分）



古代 图1 半两钱 图2 五铢钱 图3 开元通宝 近代 图4 图5



现代 图6 （1953 年） 图7 （1960 年）

(2) 根据右图欧元的图案，归纳欧盟谋求的发展理念。（2 分）



图8 2 欧元硬币的正面图案采用统一的设计方案

2 欧元硬币背面：
德国，中间为德国国徽上的图案，联邦之鹰。
法国，中间图案为一颗象征着生命、坚强和增长的树，树外围绕着共和国格言“自由、平等、博爱”；
意大利，中间图案为著名的作家但丁的肖像。

(3) 观察各国各时期的货币，货币图案的设计中发现了哪些规律。（2 分）

2022 年朝阳区初中毕业生模拟试题

道法 答 题 卡

姓 名 _____

班 级 _____

准 考 证 号 _____

条形码粘贴处

缺考标记，考生
填涂！由监考员
用黑色字迹的
签字笔填涂。

- 注 意 事 项
1. 答题前考生先将自己的姓名、准考证号码填写清楚。
 2. 请将准考证条形码粘贴在[条形码粘贴处]的方框内。
 3. 选择题必须用 2B 铅笔填涂；非选择题必须用 0.5 毫米黑色字迹的签字笔填写，字体工整。
 4. 请按照题号顺序在各题的答题区域内作答，超出范围的答案无效，在草稿纸、试卷上答题无效。
 5. 保持卡面清洁，不要折叠、弄破、弄皱，不准使用涂改液。

正 确 填 涂

错 误 填 涂

样 例

- 选择题
- | | | |
|-------------------|--------------------|--------------------|
| 1 [A] [B] [C] [D] | 6 [A] [B] [C] [D] | 11 [A] [B] [C] [D] |
| 2 [A] [B] [C] [D] | 7 [A] [B] [C] [D] | 12 [A] [B] [C] [D] |
| 3 [A] [B] [C] [D] | 8 [A] [B] [C] [D] | 13 [A] [B] [C] [D] |
| 4 [A] [B] [C] [D] | 9 [A] [B] [C] [D] | 14 [A] [B] [C] [D] |
| 5 [A] [B] [C] [D] | 10 [A] [B] [C] [D] | 15 [A] [B] [C] [D] |

非选择题

16. (1) (2分) _____

(2) (2分) _____

(1分) _____

17. (1) (2分) _____

(2) (2分) _____

(3) (2分) _____

18. (1) (3分) _____

(2) (4分) _____

请在各题目的答题区域内作答，超出黑色矩形边框限定区域的答案无效

(3) (2分) _____

19. (1) (2分) _____

(2) (4分) _____

(3) (2分) _____

20. (1) (2分) _____

(2) (2分) _____

(3) (4分) _____

(4) (2分) _____

(5) (2分) _____

请在各题目的答题区域内作答，超出黑色矩形边框限定区域的答案无效

请 勿 在 此 区 域 作 答

考号 _____ 班级 _____ 姓名 _____ 学校 _____ (正式中考无此栏)

请在各题目的答题区域内作答，超出黑色矩形边框限定区域的答案无效

请在各题目的答题区域内作答，超出黑色矩形边框限定区域的答案无效

请在各题目的答题区域内作答，超出黑色矩形边框限定区域的答案无效