

中盐中 2021-2022 学年度第二学期一模考试 初三年级道德与法治 (2022.05)

(卷面总分: 50 分

考试时间: 50 分钟)

第 I 卷 (选择题) (共 28 分)

一、单项选择题 (下列每题只有一个最符合题意的答案, 选出该答案并填涂到答题纸的对应位置。每小题 2 分, 共 28 分)

() 1. 右侧漫画启示我们

- A. 梦想能激发生命的热情与勇气
- B. 努力是梦想与现实之间的桥梁
- C. 遇到挫折时更需增强生命韧性
- D. 及时调整自己以保持乐观心态



() 2. 2022 年 5 月 3 日, 我市射阳籍袁某某故意隐瞒市外行程, 未按要求落实健康监测措施, 后在核酸检测中发现结果呈阳性, 存在新冠肺炎传播危险。因其行为涉嫌妨害传染病防治罪, 射阳县公安局已对其立案侦查。袁某某的行为警示我们

- A. 自由是相对的、有限制的
- B. 做一个负责任的人首先要对他人负责
- C. 违法行为要受到刑罚处罚
- D. 不诚信的行为必将受到法律严厉制裁

() 3. 下面三幅图片反映的共同主题是



跟着爸爸学做饭



学校组织消防逃生演练



未成年人犯罪记录档案封存

- A. 要建设学习型家庭
- B. 学会抵制不良诱惑
- C. 应发掘生命的力量
- D. 护航未成年人成长

() 4. 2022 年 4 月 20 日, 十三届全国人大常委会第 34 次会议表决通过了《中华人民共和国期货和衍生品法》和新修订的《中华人民共和国职业教育法》, 两部法律的第一条都强调“依据宪法, 制定本法。”这表明

- A. 全国人民代表大会代表人民行使决定权
- B. 全国人大代表代表人民依法行使立法权
- C. 宪法是其他法律制定的立法依据和基础
- D. 法律对全体社会成员具有普遍的约束力

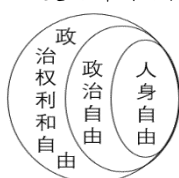
() 5. 为贯彻落实中央《关于加强打击治理电信网络诈骗违法犯罪工作的意见》, 中央宣传部、公安部于 2022 年 5 月 10 日联合启动“全民反诈在行动”集中宣传月活动, 进一步加强反诈宣传教育, 营造社会反诈浓厚氛围。从法律的角度看, 公民应该

- A. 完善法律法规, 营造法治氛围
- B. 自觉履行义务, 维护合法权利
- C. 提高媒介素养, 辨析网络信息
- D. 学会自我省察、追求止于至善

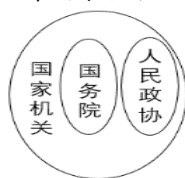
() 6. 2022 年 3 月 5 日, 李克强总理在政府工作报告中指出: 去年新增减税降费超过 1 万亿元, 对制造业中小微企业、煤电和供热企业实施阶段性缓交税费。出台上述政策的依据是

- A. 我国积极鼓励、支持、引导非公有制经济发展
- B. 非公有制经济是我国经济社会发展的重要基础
- C. 国有经济已经在我国国民经济中居于主导地位
- D. 公有制经济为主体是社会主义经济制度的基础

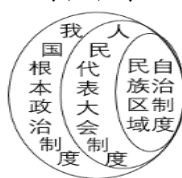
() 7. 复习中采用图示法有利于把握知识间的内在联系。下列图示表述正确的个数是



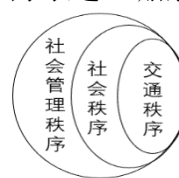
A. 1 个



B. 2 个



C. 3 个



D. 0 个

() 8. 盐城市中级人民法院党组书记李江蓉在市九届人大一次会议上所作的《法院工作报告》中指出:过去的五年,我们坚决推进肃贪惩腐,审结贪污、受贿犯罪案 201 件 248 人,让腐败分子违法所得无处隐匿。下列对材料解读观点不正确的是

- A. 人大产生同级法院并受法院监督
B. 公平正义是法治社会的核心价值
C. 人民法院能依法独立行使审判权
D. 我国积极实施依法治国基本方略

() 9. 2022 年 5 月,我市阜宁县阜城街道人大代表第七联络站成立。群众“急难愁盼”的问题可以在接待日向人大代表当面反映,可以扫码“云家”反映,也可以在非接待日约见代表反映。该联络站的建立

- A. 进一步扩大公民的民主政治权利
B. 是社会主义民主政治建设的基础
C. 说明社会主义民主是真实的民主
D. 为地方经济的发展注入新的活力

() 10. 2022 年 2 月,面临香港来势汹汹的第五波疫情,党中央迅速成立内地支援香港抗疫工作专班。支援人员的及时到位、内地援建的 6 所方舱如期交付等都极大提振了香港市民战胜疫情的决心和信心。香港抗疫信心的提振得益于

- A. 香港与祖国内地优势互补、共享伟大荣光
B. 我国坚持民族团结,筑牢民族共同体意识
C. 中国共产党正确领导、全国人民戮力同心
D. 将“一国两制”作为两岸关系的政治基础



() 11. 某小区里住着一对父子,父亲八十多岁,儿子六十多岁。每到阳光明媚的日子,总能看到头发斑白的儿子用轮椅推着老父亲,不时轻轻地替父亲掖一掖衣服,擦一擦头发……花甲之年的儿子将耄耋老父亲照顾得无微不至,成为佳话。材料中儿子的行为告诉青少年应该

- ①配合家庭保护,顺从父母的意见与教导
②尽孝在当下,履行赡养父母的法定义务
③积极承担责任,弘扬中华优秀传统美德
④关切他人生命,做社会主义道德践行者
A. ①③
B. ③④
C. ①②
D. ②④

() 12. 从积极参与联合国维和行动,到推动各方对话协商解决全球和地区热点问题;从共建“一带一路”推动高质量发展,到提出全球发展倡议,让世界分享中国发展机遇;从坚持走多边主义之路,到向 120 多个国家和国际组织提供超过 21 亿剂疫苗……中国始终是世界和平的建设者、全球发展的贡献者、国际秩序的维护者。这说明

- ①世界多极化促使各国通过协商解决各种问题
②中国始终身体力行推动构建人类命运共同体
③中国对其他国家倾囊相助,共谋和平与发展
④中国广泛参与国际事务,积极承担大国责任
A. ②④
B. ①③
C. ③④
D. ①②

() 13. 2021 年 10 月,我国正式设立三江源、大熊猫、武夷山等第一批国家公园。国家公园坚持生态保护第一、实行最严格保护的同时,肩负改善民生等重任,具备科研、教育、游憩等综合功能。国家公园的建设带来的影响有

- ①当地居民有机会获得更多相关就业岗位,奔向同时富裕
②景区资源得到更好整合与开发,消除我国社会主要矛盾
③科研机构深入开展科研任务,推动生态领域的研究创新
④动植物资源得到妥善保护,有利于实施可持续发展战略
A. ①②
B. ①④
C. ②③
D. ③④

() 14. 2021 年 11 月 30 日,工信部正式发布《“十四五”信息化和工业化深度融合发展规划》,提出到 2025 年,信息化与工业化在更广范围、更深程度、更高水平上实现融合发展,新一代信息技术向制造业各领域加速渗透、范围显著扩展、质量大幅提升,促使全国两化融合发展指数要达到 105。该目标预期影响路径是

- ①加快生产模式转型升级
②推动建设现代化经济体系
③催生新兴的经济增长点
④促进科技与经济深度融合
A. ①→③→④→②
B. ②→①→④→③
C. ④→①→③→②
D. ④→②→①→③

第Ⅱ卷（非选择题）（共 22 分）

二、简要分析题（结合材料运用所学知识对问题进行简要分析和说明。共 8 分）

15. 法安天下，德润人心。法治与德治相辅相成，相得益彰，协同发力，共筑未来。

材料一：近日我市市民曹苏家庭获评“2022 年全国最美家庭”。作为“三警”之家，2016 年阜宁遭受特大龙卷风袭击时，曹苏全家齐上阵，第一时间到达灾区参与救援。2020 年初，在新冠疫情防控阻击战中，曹苏和丈夫“疫”不容辞，坚守在防疫第一线，用忠诚与担当筑牢疫情防控的铜墙铁壁。他们还热心公益，经常带着孩子参与志愿服务活动，回馈社会。

（1）请结合所学知识，简要分析曹苏家庭获评“2022 年全国最美家庭”的社会价值。（4 分）



图一

图二

材料二：

（2）请联系图一的政策和家庭教育促进法的相关规定，对图二中妈妈的教育观念进行评析并对女儿的想法进行正确的引导。（4 分）

三、实践与探究题（结合背景材料进行探究，能够发现问题、提出问题，并能综合运用有关知识分析问题、解决问题。共 14 分）

16. 稳中求进谋发展、坚定不移铸辉煌。面对复杂严峻的国内外形势和诸多风险挑战，2022 年全国上下共同努力，统筹疫情防控和经济社会发展，“十四五”实现良好开局。盐城市某初级中学九（1）班同学以“关心祖国发展 提升自身素养”为主题开展系列探究活动，请你参与。

【关注国家发展】第一小组同学通过网上搜集资料并整理 2022 年政府工作报告部分内容如下：

【关键词：创新】

深入开展大众创业万众创新，加大企业创新激励力度，强化企业创新主体地位，深化产学研用结合。

【关键词：实干】

我们要更加紧密地团结在以习近平同志为核心的党中央周围，攻坚克难，努力完成全年目标任务。

【关键词：就业】

在 2022 年政府工作报告中，多次提及就业”，要大力拓宽就业渠道，完善灵活就业社会保障政策。

【关键词：修改】

会议期间，国务院听取并吸收人大代表和政协委员意见建议，对《政府工作报告》共补充修改 92 处。

（1）请结合所学知识，说说 2022 年我国政府采取上述举措的理论依据。（4 分）

【助力家乡建设】第二小组同学通过实地调研查找到以下材料：

落实乡村振兴是“十四五”规划的重要环节之一。近年来盐城市坚持以“新思路”撬动乡村“大发展”，着力打造盐城特色名片，如：优化产业布局，鼓励本地企业围绕产业链培育；积极接轨长三角城市群，深度融入长三角一体化发展；深入实施“黄海湿地人才计划”、“汇盐行动”等政策，为本土发展招才引智；积极搭建全球滨海论坛等国际合作平台，为推动人类生态共同体贡献智慧和经验等。但与此同时，我市还存在农村地区 60 岁以上人口占比远超全国比例；盐城杂技、淮剧等优秀本土传统文化后继乏力等现实挑战。

（2）请运用所学知识概括乡村振兴中盐城的特色“新思路”，并任选一个挑战谈谈怎样才能进一步擦亮盐城名片。（6 分）

【提升自身素养】第三小组通过查阅报刊资料了解到以下信息：

新时代对职业有新的要求。一方面，随着全球科技的不断发展，我国对“专精特新”的复合型、中高端人才的需求日益增长。另一方面，据我国人才吸引力最新指数显示：长三角、珠三角人才集聚，高能级城市人才跨区流动性减弱；东部人才持续集聚，中部、西部、东北却持续净流出。

（3）“博学而约修、厚积而薄发”，请根据材料分析青少年如何才能成为新时代所需要的人才。（4 分）

人才紧缺指数较高的行业（部分）

嵌入式软件开发、智能网联工程师、智能驾驶系统工程师

芯片设计工程师、结构部机械员

生物制药/工程、生物医药

项目管理、市场运营

半导体行业人才

注：人才紧缺指数越高，表示人才越抢手，企业招聘难度提升。