

2022 年和平区九年级教学质量监测(二)

文科综合试卷

(考试时间: 110 分钟 满分: 100 分)

历史部分

(满分 60 分)


注意事项:

1. 考生务必将考场 / 座位号、姓名、班级填写在答题卡相应位置上。
2. 考生应把试题答案答在答题卡上对应题目处, 答在试卷上无效。
3. 选择题, 需用 2B 铅笔涂黑在答题卡对应的选项中。

第 I 卷 选择题(30 分)

一、单项选择题(本题15小题, 每小题2分, 共30分) 在每小题列出的四个选项中, 只有一项是符合题目要求的, 请将其前面的字母符号填涂在答题卡的指定位置上。

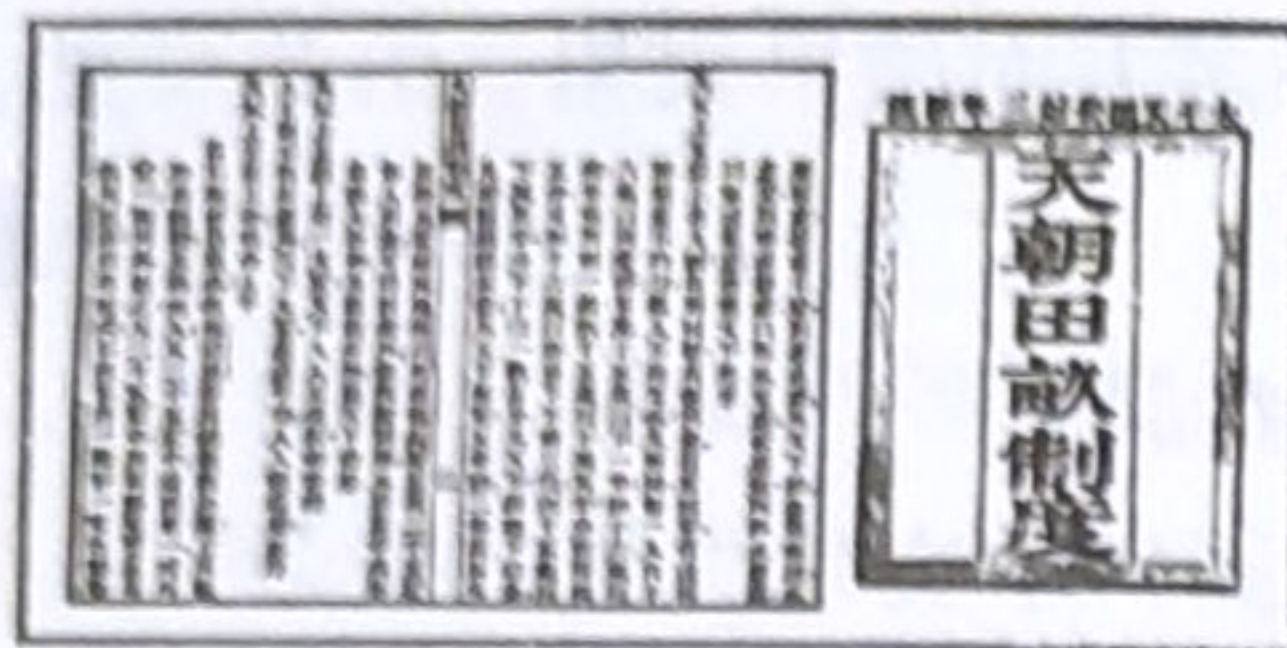
1. 时空观念是在特定的时间和空间联系中对事物进行观察、分析的意识和思维方式。下面中国历史时间轴, 关于古代史上朝代及其阶段特征的表述, 正确的是 ()




- ①是秦汉时期, 大一统国家的建立和巩固
 - ②是宋元时期, 民族关系发展和社会变化
 - ③是隋唐时期, 大一统国家的巩固和发展
 - ④是明清时期, 封建社会繁荣与对外开放
2. 右图为宣化辽代墓葬中发现的壁画《备茶图》, 尽管辽地并不产茶, 但壁画中描绘的茶具与烹茶程序, 皆体现出唐宋茶法在辽地的影响。这一发现最能证明宋辽时期 ()
- 农业生产的发展
 - 海外贸易的兴盛
 - 科学技术的繁荣
 - 民族文化的交融
3. 辛亥革命后, 民国政府取消了清朝规定的种种商业注册费用。商人承办厂矿企业, “只要资本实业……于民生主义, 国计前途, 大有裨益”的, 政府即予批准, “力为保护”。民国政府的这些举措 ()
- 完备了民族工业各部门
 - 改变了人们的思想观念
 - 提高了中国的国际地位
 - 促进了民族工业的发展



4. 把下面图片所反映内容前的序号与下方的相关事件前的字母符号连接,正确的一组是



①《天朝田亩制度》



②“誓死力争,还我青岛”



③《新青年》

a. 五四运动

b. 新文化运动

c. 太平天国运动

A. ①——b ②——c ③——a

B. ①——c ②——a ③——b

C. ①——c ②——b ③——a

D. ①——a ②——b ③——c

5. 1872年《申报》创刊于上海,之后成为中国近代影响最大的报纸之一。“凡国家之政治,风俗之变迁,中外交涉之要务,商贾贸易之利弊,与夫一切可惊可愕可喜之事,足以新人听闻者,靡不毕载”。这一现象的出现,说明了

- A. 《申报》是近代中国创办最早的报纸 B. 报纸作为大众传媒工具刊登的内容广泛
C. 《申报》是最受当时人们喜欢的报纸 D. 报纸是反映社会习俗和时政的唯一途径

6. 给下图所示的大事表添加一个标题,最符合的是

事件	内容或意义
南昌起义	打响了武装反抗国民党反动派的第一枪
八七会议	提出了“政权是由枪杆子中取得”的著名论断
秋收起义	找到了一条农村包围城市的正确革命道路
古田会议	确立了思想建党,政治建军的原则

A. 中国近代化的探索

B. 新民主主义革命的兴起

C. 井冈山道路的开辟

D. 从国共合作到国共对立

7. 玄奘在《大唐西域记》中记载:“若夫族姓殊者,有四流焉:一曰婆罗门,净行也。”“二曰刹帝利,王种也。”“三曰吠舍,商贾也。”“四曰首陀罗,农人也。”书中记录的是

A. 埃及的法老制度

B. 印度的种姓制度

C. 雅典的民主制度

D. 西欧的封建制度

8. 右图的青铜钱币上铸有东罗马帝国皇帝的头像。这位君主将公元2世纪初以来历任罗马皇帝颁布的法令收集起来,编成法典。他是

A. 查理大帝

B. 伯里克利

C. 查士丁尼

D. 君士坦丁



9. 文艺复兴时期,达·芬奇等艺术大师创作了许多杰出作品。16世纪以后,文艺复兴从意大利传播到欧洲其他国家,在文学、艺术、思想、科学等许多方面硕果累累。由此可见,文艺复兴运动 ()

- A. 主要在艺术领域成果突出
B. 以复兴古希腊古罗马文化为目的
C. 使世界开始连为一个整体
D. 推动了欧洲科学文化思想的繁荣

10. 改革是社会发展的强大动力。把下列改革按时间先后排序,正确的是 ()

①建立中央集权的行政体制 ②创建新式常备军 ③鼓励兴办手工工场 ④推行文化教育 ⑤学习西方的礼节与生活方式	政治方面	废藩置县,加强中央集权	政治上	建立天皇为中心的中央集权制度,地方设国、郡、里三级,由中央派官员治理
	经济方面	“殖产兴业”大力兴办近代资本主义工商业		
	社会生活方面	“文明开化”,向西方学习,改造日本的教育、文化和生活方式	经济上	废除一切私地、私民,将土地、部民收归国有,成为公地、公民 国家定期将土地分给公民,统一收税
	军事方面	实行征兵制,建立新式军队		

a. 彼得一世改革

b. 明治维新

c. 大化改新

A. cab

B. cba

C. abc

D. bac

11. 多数历史学家认为,第一次世界大战的爆发应由欧洲列强分摊责任,德国不是战争的唯一发动者。下面可以证明这一观点的是 ()

- A. 第二次工业革命使德国迅速发展
B. 三国同盟和三国协约扩军备战
C. 交战双方都使用了许多新式武器
D. 战争给世界人民带来巨大灾难

12. 俄国十月革命后,西方国家的劳动人民在摆脱贫困、文盲、缺乏公民权和经济权的道路上向前迈出了一大步:争取到40小时工作周、增加工资、妇女选举权、强制性社会保险、罢工和工会组织合法化等权益。上述材料表明,十月革命 ()

- A. 推动了资本主义制度在世界扩展
B. 促进了国际无产阶级运动走向联合
C. 推动了资本主义国家民主化进程
D. 鼓舞了世界被压迫民族的解放运动

13. 一战后,战胜国先后召开了巴黎和会和华盛顿会议,与会各国缔结了一系列国际条约,建立起帝国主义的国际新秩序。这些国际公约包括 ()

- A. 《凡尔赛条约》《九国公约》
B. 《凡尔赛条约》《三国协约》
C. 《和平法令》《华盛顿公约》
D. 《巴黎和约》《北大西洋公约》

14. 右图漫画《活力少年》发表于1941年12月29日。面对即将到来的新年,画家将罗斯福和丘吉尔同框,用漫画的形式提前祝福反法西斯战争中新的世界组织和安全机制的诞生。下面对漫画内容解读最准确的是 ()



- A. 英国与美国结盟遏制了苏联
B. 英国庆祝美国即将参加二战
C. 斯大林格勒保卫战取得胜利
D. 世界反法西斯同盟即将成立

15. 1961年不结盟运动在其宣言中表示:“我们一开始就坚持反对集团政策和外国统治,反对一切形式的政治和经济霸权,而主张每一个国家拥有自由、独立和自主发展的权力。”这一运动

()

A. 在一定程度上冲击了两极格局

B. 标志欧洲区域合作进入新阶段

C. 标志世界殖民体系的最终瓦解

D. 推动了世界政治、经济一体化

第Ⅱ卷 非选择题(30分)

二、读图说史(本题2小题,16题5分,17题6分,共11分)

16. 在2022年3月31日揭晓的“2021年度全国十大考古新发现”中,三星堆遗址祭祀区位列其中。观察下面图片并阅读文字材料,回答问题。



图一 河南安阳殷墟妇好墓及妇好方鼎



图二 四川广汉三星堆遗址及大立人铜像

图一:妇好墓于1976年被考古工作者发掘,是殷墟科学发掘以来发现的唯一保存完整的商代王室成员墓葬。墓葬内葬品极为丰富,共出土青铜器、玉器、宝石器、象牙器等不同质地的随葬品1928件。墓葬中青铜礼器组合,体现了中原文明繁盛的青铜文化。

图二:位于四川省广汉市的三星堆古遗址,是迄今在西南地区发现的范围最大、文化内涵最丰富的古蜀文化遗址。这段完全不见于文献记载的历史,通过考古发现揭示出一个前所未有的区域文明。遗址中出土上千件青铜器、金器、玉石器、象牙等,造型奇特、制作精美,表现出浓厚而神秘的宗教文化色彩,具有独特的民族特色和地域特征,皆与中原文化有显著区别。三星堆文化不仅是古蜀文化的典型代表,亦是长江上游的一个古代文明中心,昭示了长江流域与黄河流域一样,同属中华文明的母体。

(1)从以上图文介绍中,你能获得哪些历史信息点?(写出三点即可,3分)

信息点一:

信息点二:

信息点三:

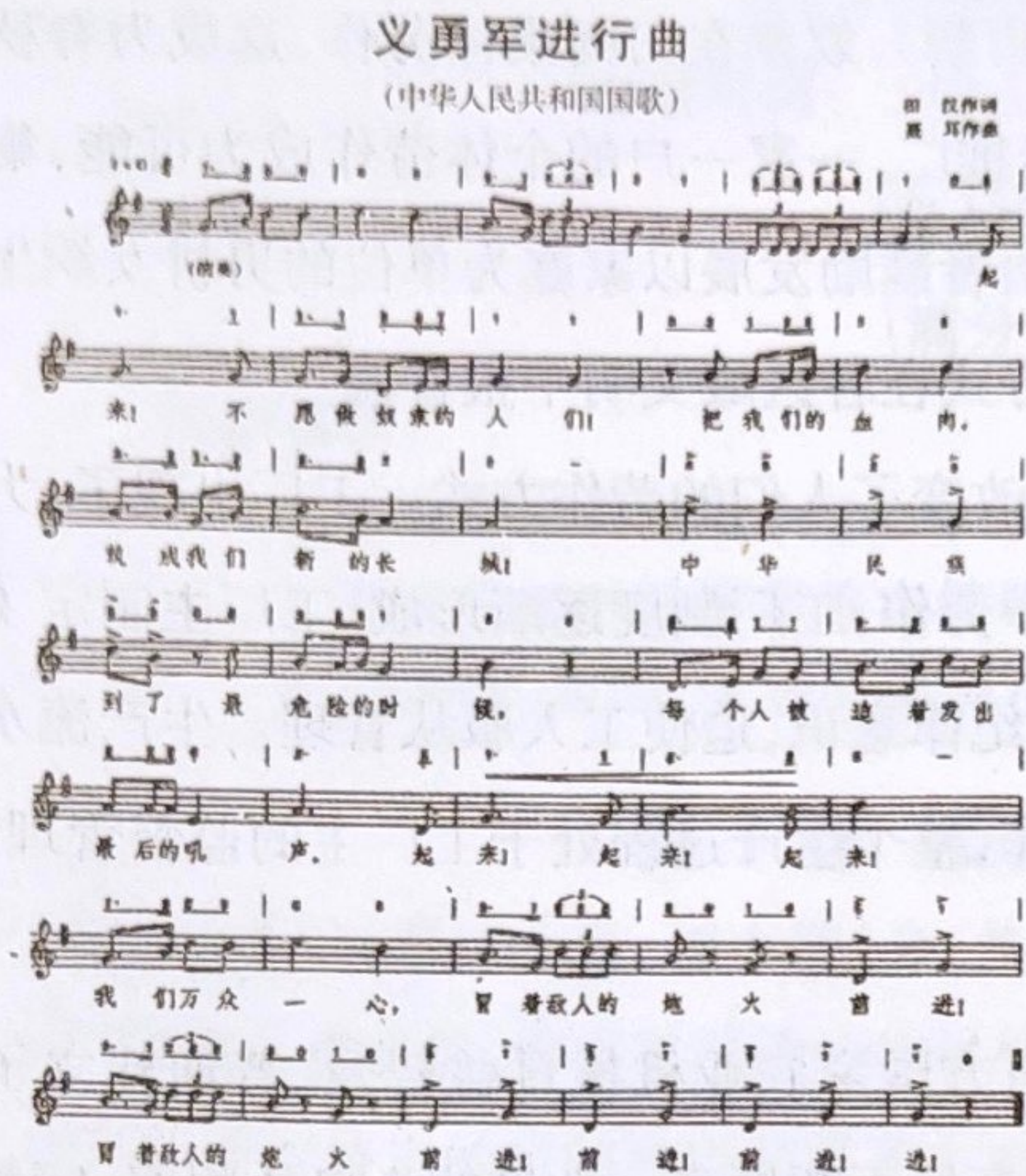
(2)根据上述图文介绍,分析中华文明的起源与发展具有什么特征?(1分)

请勿在此区域答题

(3)结合上述图文介绍,说明考古发现对于历史研究有何意义?(1分)

请勿在此区域答题

17. 国歌是国家神圣的象征。国歌里承载着民族的文化与历史,是每一位公民对国家表达感情的载体。观察下面图片并阅读文字材料,回答问题。



图一《义勇军进行曲》



图二《马赛曲》歌片

图一:《义勇军进行曲》由田汉作词、聂耳作曲、创作于 1935 年,后成为中华人民共和国国歌。歌词内容:起来! 不愿做奴隶的人们,把我们的血肉筑成我们新的长城。中华民族到了最危险的时候,每个人被迫着发出最后的吼声。起来! 起来! 起来! 我们万众一心,冒着敌人的炮火,前进! 冒着敌人的炮火,前进! 前进! 前进! 进! 歌曲铿锵的节奏、明亮雄伟的旋律,增强了战斗气氛,给人以坚定不移、势不可当之感。

图二:1792 年 4 月,法国上尉鲁日·德·李尔满怀爱国热情,写下《莱茵军团战歌》。两个月后,普鲁士、奥地利联军攻入法国,法国各地纷纷招募新兵,开赴巴黎,抗击外敌入侵。法国最南端城市马赛也迅速组织起 500 人的结盟军向巴黎进发。大家一路高唱着这首战歌:“前进! 前进! 祖国的儿女,光荣的时刻已经来临! ……公民们,拿起武器! 公民们,投入战斗! 前进! 前进! 万众一心,把敌人消灭干净! ……”这首歌激越高昂,很快就传遍了巴黎的大街小巷,后来被改名为《马赛曲》。1795 年,《马赛曲》被确立为法国国歌。

(1)从以上图文介绍中,你能获得哪些历史信息点?(写出三点即可,3 分)

信息点一: 信息点二: 信息点三:

(2)《马赛曲》的创作与法国历史上哪一事件相关?(1 分)

请勿在此区域答题

(3)结合上述图文介绍及所学回答,国歌诞生前后,两国面临的共同危机是什么?(1 分)两首国歌起到了怎样的作用?(1 分)

请勿在此区域答题

三、材料解析题(本题 3 小题,18 题 6 分,19 题 6 分,20 题 7 分,共 19 分)

18. “振兴新突破,我要当先锋”。沈阳,一座串起近代中国历史的城市,如今披荆斩棘、做全方位振兴辽宁的排头兵。阅读下面材料,回答问题。

材料一:1931 年 9 月 18 日晚,日本关东军制造了震惊中外的九一八事变。次日清晨,攻占沈阳城。九一八事变后,中国共产党发表宣言,号召全国民众行动起来,把日本侵略者驱逐出中国。东北人民自发组织义勇军,抗击日军侵略。中国共产党派杨靖宇等人组织东北抗日联军,开展游击战争。全国大中城市纷纷组织抗日救国联合会,发表抗日通电。工商业者抵制日货,呼吁实行对日经济绝交。青年学生结队赴南京请愿,要求国民政府对日宣战,收复失地。

——王斯德《中国历史》

材料二:1948 年 9 月,林彪、罗荣桓遵照中共中央军委的战略部署,指挥东北野战军,发起辽沈战役。当时国民党在东北的军队固守沈阳、锦州、长春等地。解放军先攻克锦州,堵绝敌人向关内撤退的后路,对东北敌人造成“关门打狗”之势。被围困的长春守敌在解放军强大压力下投降。长春解放后,国民党从海上和沈阳调兵增援,企图夺回锦州。解放军在塔山、黑山、大虎山进行顽强狙击,全歼沈阳援敌。11 月 2 日,攻克沈阳。

——王斯德《中国历史》

材料三: 新中国的“第一”

时 间	成 就
1953 年	我国第一座大型露天煤矿——辽宁阜新海州露天煤矿建成投产
1956 年	中国第一辆解放牌汽车在长春第一汽车制造厂生产出来
1956 年	中国第一架喷气式歼击机在沈阳试制成功
1956 年	中国第一个制造机床的工厂——沈阳第一机床厂建成投产

——人教版《中国历史》八年下册

材料四:22 年前(1986 年),沈阳市防爆器械厂宣布破产,成为新中国第一家宣布破产的公有制企业。它朝着打破“大锅饭”迈出了新的一步,给予中国当时数以万计的国有企业一个剧烈的震动。同年的 12 月 31 日,全国开始试行《破产法》,其蓝本和基础,就是沈阳防爆器械厂破产案。而破产的意义就在于,破产机制带来竞争效应,企业的经营自主权因此得到发挥。破产引进了市场机制,甩掉了多年的包袱,使企业真正步入了市场化的轨道。“破产”这个词语,由此被赋予了新的含义。

——王晓倩《新中国第一家公有制企业破产案》

(1)材料一反映了九一八事变后中国人民抗日救亡的方式有哪些?(写出两点即可,2 分)

(2)根据材料二,归纳辽沈战役取得胜利的原因。(写出两点即可,2 分)

(3)材料三中新中国的“第一”实现于哪一时期?(1 分)

(4)根据材料四,概括指出“破产”的新含义是什么?(1 分)

19. 2020年5月25日,美国白人警察暴力执法导致黑人男子乔治·弗洛伊德窒息死亡。这一事件引发人们的极大愤慨,产生了广泛的国际影响。阅读下面材料,回答问题。

材料一:16世纪初,欧洲殖民者将第一批黑人掠到美洲,卖为奴隶。到1775年独立战争爆发时,13个殖民地共有50万黑人,占全部人口的20%。种植园主不给黑奴以任何权利,让其从事笨重的体力劳动,每日工作十五六个小时以上。这样的劳动与生活,只要六七年时间就能把一个健康者折磨致死。

——人教社《世界历史教师教学用书》

材料二:1775年4月,来克星顿枪声打响了美国独立战争的第一枪,黑人立即投入到了争取民族独立的战斗中去。这些黑人或者是得到主人应允,或者是代替主人服役,还有的是逃亡到北方来的。在整个独立战争期间至少有5000名黑人士兵在前线参战。在后方担任后勤工作的黑人有8000至10000人,他们为前线运送给养、子弹等。还有的黑人妇女服务于后方医院。不少黑人在战争中献出了宝贵的生命,也有一些黑人由于作战勇敢获得了政府的表扬和嘉奖,这为他们自身的解放争取了胜利。……北方各州先后宣布解放奴隶。1787年,美国政府公布俄亥俄以北的西部地区为自由区。1808年,美国禁止从非洲贩运黑人的奴隶贸易活动。

材料三:自公元1863年1月1日起,任何一州或州内指定地区要是仍蓄有奴隶,当地人民将被视为反叛合众国政府。一切被蓄为奴的人应获得自由,并永享自由。合众国政府,包括陆海军部门,承认并维护上述人员之自由。……我还要宣布周知,上述人员如条件符合,可为合众国征集入伍以警卫堡垒要塞……亦可在各种军舰上服务。

——《解放黑人奴隶宣言》

材料四:其实直到今天,美国社会“黑白分离”的现象仍然随处可见。2005年的《非洲裔家庭》的调查报告数据显示,非裔家庭收入只有白人家庭收入的1/10,黑人享受的福利占白人的3/4。2004年,非裔美国人贫困率高达24.7%,拉美裔的比例高达21.9%,白人贫困率所占比例却只有8.6%。这场战争将会漫长而持久。

——徐晓芹,张世昌《美国黑人社会地位的昨日今朝》

(1)材料一表明黑人的生存状况如何?(1分)

请勿在此区域答题

(2)根据材料二,你能得出什么结论?(2分)

请勿在此区域答题

(3)材料三中的“我”是谁?(1分)

请勿在此区域答题

(4)材料四说明当今美国仍然存在的社会问题是什么?(不得照抄原文,1分)它违背了《独立宣言》中的哪一内容?(1分)

20. 纵观人类文明史,劳动实践带来的生产方式变革对人类社会具有革命性意义。阅读下面材料,回答问题。

材料一:商周时期,实行土地国有制(井田制),奴隶在田间集体劳作,这成为春秋晚期之前的主要劳作方式。随着铁犁牛耕的逐步推广,一家一户的个体劳作成为可能,集体劳作的形式逐渐瓦解。战国时期,各诸侯国统治者鼓励发展以家庭为单位的男耕女织生产模式。在工业时代来临之前,农业家庭式劳作方式在各区域文明中很普遍。

材料二:工业革命推动了技术的进步,也改变了人们的劳作方式。工厂出现了,大批产业工人被工厂主聚集起来,在专门化的厂房中劳作,工厂制度逐渐形成。工厂主制定了严格的规章制度,以罚款、体罚和解雇等方式强化纪律意识,迫使工人服从管理。生产流水线被广泛应用到生产过程中,各生产环节协同劳作,整个生产过程处于工厂主的监督管理之下,以保证生产效率与产品质量。

材料三:工业革命后,以英国为代表的西方国家农业机械日益普及、普遍建立了大农场,农业现代化不断发展,生产效率和农作物产量不断提高。大量的人口从闭塞、宁静的乡村田园生活中走出,人们的眼界开阔了。

——以上材料摘编自《历史·经济与社会生活》

材料四:从前习惯于做农活的人们很快明白季节、日出日落和气候波动不再决定劳动日程了。相反,钟表、机器和车间规定创造了新的节奏。产业工人一般每周工作6天,每天工作12至14小时。工厂的汽笛声从早响到晚,在一整天里,工人的步伐都要跟上机器单调的运转……打个盹或和同伴说句话都不行。

——杰里·本特利《新全球史》

(1)根据材料一,指出古代社会人们的劳作方式发生了怎样的变化?(2分)

请勿在此区域答题

(2)根据材料二,概括工厂制度有哪些特点?(写出两点即可,2分)

请勿在此区域答题

(3)材料三说明了什么?(2分)

请勿在此区域答题

(4)根据材料四回答,工业革命带来了哪方面的变化?(1分)

请勿在此区域答题

2022年和平区九年级教学质量监测（二）

历史参考答案及评分标准

一、单项选择题（本题15小题，每小题2分，共30分）

1.A 2.D 3.D 4.B 5.B 6.C 7.B 8.C 9.D 10.A 11.B 12.C 13.A 14.D 15.A

二、读图说史（本题2小题，16题5分，17题6分，共11分）

16. (1) 可从墓葬（遗址）地点、发掘时间、墓葬（遗址）地位、随葬品数量等方面回答。（写出三点即可，3分）

(2) 多元一体（1分）

(3) 为历史研究提供重要而丰富的资料；与文献资料相印证，弥补文献的不足等。（言之有理即可，1分）

17. (1) 可从歌曲名称、创作者、创作时间、歌曲内容、歌曲地位、国歌由来等方面回答。（写出三点即可，3分）

(2) 法国大革命（1分）

(3) 遭到外来侵略（1分）鼓舞人民斗志（1分）

三、材料解析题（本题3小题，18题6分，19题6分，20题7分，共19分）

18. (1) 发表宣言、组建军队（武力反抗）、创建组织、请愿、抵制日货等。（写出两点即可，2分）

(2) 中国共产党的领导；正确的军事战术；解放军的顽强作战（写出两点即可，2分）

(3) 一五计划时期（1分）

(4) 提升企业竞争力；发挥企业经营自主权；步入市场化等（意思相近即可，1分）

19 (1) 悲惨（意思接近即可，1分）

(2) 黑人为美国独立战争作出巨大贡献，同时也推动了自身的解放运动。（2分）

(3) 林肯（1分）

(4) 种族歧视（1分）人人生而平等（1分）

20. (1) 由集体劳作到家庭式劳作（2分）

(2) 严格的规章制度；强化纪律意识；使用机器流水生产；分工细致协作高效（写出两点即可，2分）

(3) 工业革命促使乡村发生改变（2分）

(4) 劳动（生活）节奏（1分）