

# XCS2022 年第二次中招模拟考试试卷

## 九年级历史

### 注意事项:

1. 本试卷共 6 页,分为选择题和非选择题,满分 50 分,考试时间 50 分钟。
2. 开卷考试,可查阅参考资料,但应独立答题,禁止交流资料。
3. 本试卷上不要答题,请按答题卡上注意事项的要求直接把答案填写在答题卡上,答在试卷上的答案无效。

### 第一部分 选择题(共 20 小题,20 分)

下列每小题列出的四个选项中,只有一项是最符合题目要求的。请将正确选项的英文字母代号涂写在答题卡相应位置上。

1. 下列三幅图片反映的共同主题是



中岳庙



观星台



龙门石窟(局部)

- A. 天地之中、多元一统
  - B. 建筑艺术、成就卓著
  - C. 雕塑技艺、影响深远
  - D. 厚重河南、文化荟萃
2. 春秋中后期至战国时期,社会的各阶级、阶层的思想家都能够按照自己的认识著书立说和四处奔走宣传自己的思想和主张,并不受到地主阶级统治思想的排挤和束缚。这说明百家争鸣局面的出现得益于
- A. 人们认识水平的提高
  - B. 文化垄断局面的打破
  - C. 新兴地主阶级的崛起
  - D. 宽松自由的学术氛围
3. 有学者认为:文字的统一是避免秦朝政令混乱的前提,而政令的统一又是保证国家统一的必要措施。由此可见,秦始皇统一文字的最大意义在于
- A. 巩固国家统一
  - B. 避免政令混乱
  - C. 便利文化沟通
  - D. 维系民族感情
4. 唐代女子着装大胆,百媚竞呈,着男装、胡服已蔚然成风。这反应出唐代
- A. 男女已经实现平等
  - B. 政治清明和经济繁荣
  - C. 文学艺术日益兴盛
  - D. 社会风气的开放包容

5. 下图说明宋代:



《清明上河图》中的灯箱广告



已知世界上最早的宋代商标广告

- A. 完全改变了传统重农抑商政策  
B. 商业空前发达  
C. 广告是商业竞争的最重要手段  
D. 城市繁荣昌盛
6. 乾隆四十六年(1781年),黄河“河滩地亩,尽皆耕种棉苗……并多居民村落。筑围打坝,填塞日多。”造成这一现象的主要原因是  
A. 人口过快增长      B. 引进高产作物      C. 对外闭关锁国      D. 封建统治腐败
7. 某著作展现了一批闺阁佳人的百态以及中国古代社会世态百相,展现了真正的人性美和悲剧美,堪称一部具有世界影响力的史诗性著作。这部著作应该是  
A. 《水浒传》      B. 《西游记》      C. 《牡丹亭》      D. 《红楼梦》
8. 第二次鸦片战争期间,侵略军所到之处,中国人民群众都自发进行了抵抗。恩格斯当时指出:“这是一场维护中华民族生存的人民战争。”中国民众自发抵抗侵略的行为  
A. 彰显了爱国主义情怀      B. 推动了洋务运动的开展  
C. 维护了国家主权完整      D. 避免了中国半殖民地化
9. “日月光华,旦复旦兮。时哉夫,天下非一人之天下也。”这首歌于1912年成为民国的“临时国歌”。该国歌  
A. 歌颂革命手段      B. 充满复辟意识      C. 强调发展竞争      D. 礼赞民主共和
10. 毛泽东在《井冈山的斗争》中充满自信地指出:“边界红旗子始终不倒,不但表示了共产党的力量,而且表示了统治阶级的破产,在全国政治上有重大的意义。所以我们始终认为罗霄山脉中段政权的创造和扩大,是十分必要和十分正确的”。毛主席的自信源于:  
A. 共产党找到了正确道路      B. 国民党的统治已经瓦解  
C. 共产党的力量遍布全国      D. 地主阶级已倒向共产党
11. 1895年,中国有三个名人各自做出人生最为重要的选择:康有为选择了变法,孙中山选择了革命,张謇选择了实业。三人的选择都是为了  
A. 学习西方、维新图强      B. 推翻清政府腐朽统治  
C. 救亡图存、振兴中华      D. 建立资产阶级共和国
12. “雄师南下,越黄泛,铁骑饮马长江滨;壮举谁为者,刘邓常胜军。”材料描写的事件  
A. 揭开了解放军战略进攻序幕      B. 粉碎了国民党军队全面进攻  
C. 开启了敌后战场的局部反攻      D. 发起了渡江战役并占领南京


13. 周恩来在政协某次会议上指出：“由新民主主义到社会主义虽然是一场革命，但可以采取逐步的和平转变的办法，而不是在一天早晨突然宣布实行社会主义。”这里“逐步的和平转变的办法”是指

- A. 开展全国性土地改革
- B. 实施社会主义改造
- C. 掀起人民公社化运动
- D. 召开人民代表大会

14. 1992 年，邓小平发表的南方谈话成为把改革开放推进到新阶段的又一个的宣言书。从此，市场经济的改革和实践释放了巨大经济活力，成就了中国的长期快速发展。材料强调

- A. 思想解放推动社会进步
- B. 社会主义的本质的发展经济
- C. 南方谈话促进改革开放
- D. 市场经济是改革的首要目标


15. 把下列图片归纳为一个主题，最恰当的是



帕特农神庙（古希腊）



万神庙（古罗马）



索菲亚大教堂（拜占庭）

- A. 宗教信仰的一脉相承
- B. 古罗马文化兼收并蓄
- C. 建筑艺术的传承发展
- D. 不同文明的交流互鉴

16. 7 世纪前半叶，部民制逐渐衰落，贵族拥有世袭特权，势倾朝野，朝廷地位受到严重影响。为此，日本的改革派掌权后

- A. 建立中央集权制度
- B. 发动倒幕运动
- C. 大力推行幕府统治
- D. 土地收归国有

17. 学者指出，英国若无 1624 年《专利法》，那么“对十八世纪纺织工业中资本主义发展具有决定性的那些发明就未必有可能。”这段话反映了

- A. 科技发展是大国崛起的重要因素
- B. 法律是社会进步的重要保障
- C. 政治制度确立刺激工业革命发生
- D. 科技创新推动工业革命发展

18. 1928—1937 年，苏联建成大型企业 6000 多个，建立了拖拉机、汽车、飞机制造以及化工、电力等部门，修建了几千千米铁路，兴建了钢铁煤炭基地和石油基地。苏联的工业建设成就

- A. 有赖于新经济政策的实施
- B. 标志着苏联模式的形成
- C. 为战胜法西斯奠定物质基础
- D. 巩固了新生苏维埃政权

19. 右面的《二战后非洲国家的独立》表，展示出

二战后非洲国家的独立

- A. 非洲逐步摆脱了殖民枷锁
- B. 打破了两级格局的束缚
- C. 非洲贫困问题已得到解决
- D. 终结了霸权主义的困扰

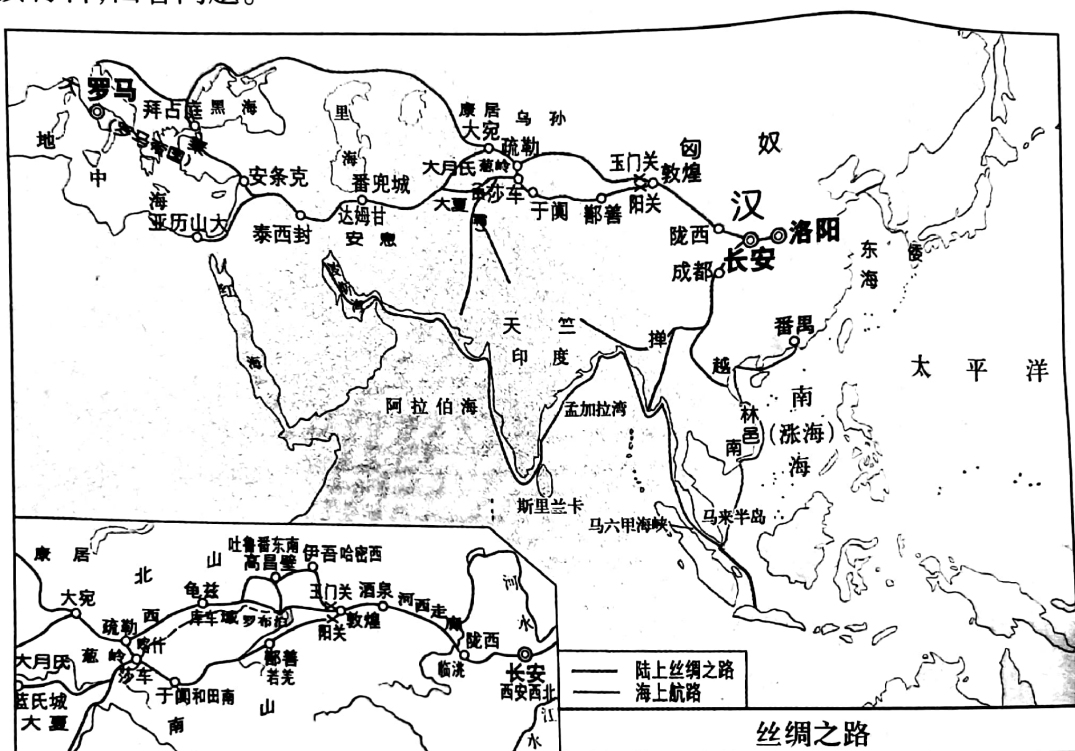
时间	重大事件
1951	利比亚独立
1952	埃及独立
1960	17 个国家获得独立
1962	阿尔及利亚独立
1990	纳米比亚独立

20. 他是欧洲批判现实主义文学奠基人,他的作品被誉为“资本主义社会的百科全书”,更被誉为“法国社会的一面镜子”。下面属于其作品的是
- A.《罗密欧与朱丽叶》 B.《欧也妮·葛朗台》
- C.《安娜·卡列尼娜》 D.《巴黎圣母院》

## 第二部分 非选择题(共5小题,50分)

21. (6分) 阅读材料,回答问题。

材料一



——地图出自《历史地图册·中外历史纲要(上)》

材料二



意大利出土古罗马壁画上  
身穿中国丝绸的罗马女祭司



洛阳出土的东罗马金币



洛阳白马寺

材料三 从出现伊始,丝绸之路就始终主宰着人类文明的进程。它仿佛是一条无形的纽带,将沿途的一个个亚欧文明紧密地联系在一起,各民族、各文明的科技、制度和文化不断地发生剧烈碰撞,最终相互影响、相互交融。

——摘编自(英)彼得·弗兰科潘《丝绸之路:一部全新的世界史》

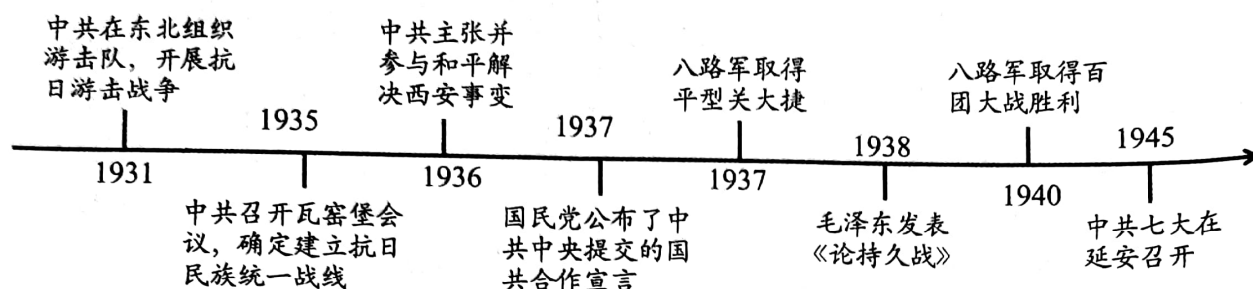
(1) 据材料一观察丝绸之路的起点发生了怎样变化?(1分) 结合所学指出这一变化的历史原因。(1分)

(2) 材料二中的历史文物反映了怎样的历史现象?(1分) 据材料二、三,概括这一历史现象的特征。(2分)

(3)综上所述,说明丝绸之路所体现的本质内涵。(1分)

22. (6分)阅读材料,回答问题。

材料一



材料二 中国共产党在抗日战争中与国民党相比更好地解决了三个方面地问题:一是把一盘散沙的广大民众凝聚起来,形成抗日的铜墙铁壁;二是坚持打赢一场持久战,并有一套行之有效的对日作战的战略方针,促使持久战的有效进行;三是把抗日战争与社会变革结合起来,为当时的中国民众指明前途,成为唤起民众、持久抗战的有效激励。

——《思想理论教育》

(1)请为材料一的年代尺拟定一个恰当的主题。(1分)

(2)任选年代尺中的一件史实,论证材料二中的任一观点。(3分)

(3)综上所述,你从中共的抗战历程中得到哪些历史启迪?(2分)

23. (6分)阅读材料,回答问题。

材料一 新中国科技发展简史

序号	科技发展事件
①	1966年,成功发射导弹核武器试验
②	1970年,成功发射东方红一号。
③	1978年,中共十一届三中全会召开
④	1986年,制定“863计划”
⑤	2003年,神舟五号载人飞船成功返回地面
⑥	2012年,“蛟龙号”载人潜水器下潜7062米并创造世界记录
⑦	2015年,屠呦呦获得诺贝尔生理学或医学奖。
⑧	2020年,“神威·太湖之光”超级计算机研制成功。
⑨	2021年,神州十三号载人飞船将三名字航员送入太空。

材料二 “两弹一星”的成功,是在党和国家领导下,以钱学森、邓稼先为代表一大批中国科学家自力更生,克服重重困难取得的伟大成就,极大地鼓舞了中国人民的之气,振奋了中华民族精神。……20世纪60年代,中国药学家屠呦呦领导科研团队,从中医药古典文献中获得灵感,在极为艰苦的科研条件下,经过数百次实验,终于在70年代初发现了能够有效



抵抗疟疾的青蒿素。

——《中国历史》八年级下册

(1) 请从材料一中任选三个有关联的历史事件,通过设计示意图的形式将其关系展示出来(注:历史事件可用序号代替),并说明设计理由。(3分)

(2) 据材料二分析我国科技取得巨大成就的原因。(2分)

(3) 综上所述,请你谈谈科技进步在社会发展中的作用。(1分)

24. (6分) 阅读材料,回答问题。

**材料一** 工业革命是资本主义发展史上的重要转折。它是由技术革命引起的资本主义工业化的起点,是从工场手工业生产向以工厂制为基础的大机器工业生产的重大飞跃。它改变了整个社会的经济结构,开始摆脱长期以来的传统农业社会,代之以工业化、技术化和城市化的近代工业社会。

——刘宗绪《世界近代史》

**材料二** 社会主义之所以出现,是因为工业化犯了错误……马克思、恩格斯亲眼目睹了工业革命造成的苦难,他们想找到一种办法治疗社会的诟病,纠正社会不公正现象;他们希望建立一个幸福、公正、人人平等的社会,让每一个人都生活得愉快。

——钱乘旦《西方那一块土》

**材料三** 马克思主义诞生于十九世纪四十年代的欧洲,决不是偶然的……毛主席指出:“由于欧洲许多国家的社会经济情况进到了资本主义高度发展的阶段,生产力阶级斗争和科学均发展到了历史上未有过的水平,工业无产阶级成为历史发展的最伟大的动力,因而产生了马克思主义的唯物辩证法的宇宙观。”

——摘编自《毛泽东选集》

(1) 结合材料一,谈谈你对“工业革命是资本主义发展史上的重要转折”的理解。(2分)

(2) 据材料二、三并结合所学,说明马克思主义诞生“绝不是偶然的”。(3分)

(3) 综上所述,你能从中得到怎样的历史认识?(1分)

25. (6分) 阅读材料并提炼一个观点,围绕该观点,结合所学写一篇80—120字的小短文。(要求:题目自拟,观点明确,史实正确,条理清晰,语句通顺,表述完整,体现论从史出、史论结合的方法)

**材料:** 法国和德国曾经有过长达千年的对抗与冲突的苦涩历史,两国在二战后选择超越夙仇和积怨,走上了和解与合作的道路。法德和解促成了欧洲一体化的起步,并继续推动着欧盟一体化的深化与扩大。1993年,欧共体发展成了欧盟,欧盟的成员国在外交、防务、司法和内务等主要政治领域不断加强协调与合作,提升了欧洲的实力,开创了欧洲和平繁荣的新秩序。

——摘编自和春红《法德和解与欧洲一体化》