

## 历史训练题

**注意事项:**

1. 答题前请将答题纸上的考生信息填写(涂)清楚,然后将试题答案认真书写(填涂)在答题卡的规定位置,否则作废。
2. 本试卷共8页,两个大题19个小题,考试时间60分钟。
3. 考试结束只交答题纸。

一、单项选择题(本大题 15 小题。在每小题所列的四个选项中,只有一项符合题目要求。

请将正确答案涂在答题纸相应的位置。)

- 1.《史记》中记载：“蜀守\_\_\_\_\_凿离堆，辟沫水之害，穿二江成都之中。此渠皆可行舟，有余则用溉浸，百姓飡其利。”横线处应填的人物是  
A.李冰 B.商鞅 C.韩非 D.大禹



3. 汉顺帝去世后，梁太后临朝。……梁氏一门前后有七人封侯，女子七人被封君，二人为大将军，三人为皇后，六人为贵人；娶公主为妻者三人，文武大臣五十七人。这说明当时
- A. 标志着西域正式归属中央政权  
B. 进一步加强了对西藏地区的管辖  
C. 极大地促进了东西方文化的交流  
D. 为张骞出使西域创造了有利条件
4. 某校虚拟现实(VR)社团准备选取以下元素再现中国古代的场景，该 VR 场景体现的主题应是
- A. 梁氏一门人才辈出  
B. 东汉时期外戚专权  
C. 东汉时期宦官专权  
D. 东汉豪强地主横行

地点	元素	地点	元素	地点	元素
开封		临安		大都	
	大相国寺		瓦子场景想象图		关汉卿从事戏剧活动



A.宋朝的重文轻武  
C.宋元的都市生活

B.元朝的辽阔疆域  
D.宋元的中外交通

5.近代西方列强在一次打劫中国时，英法联军使劲地摇晃这棵结满果实的“晚清”大树，但许多果子却被另外一个人给抬走了。材料中“被抬走的果子”最有可能指的是

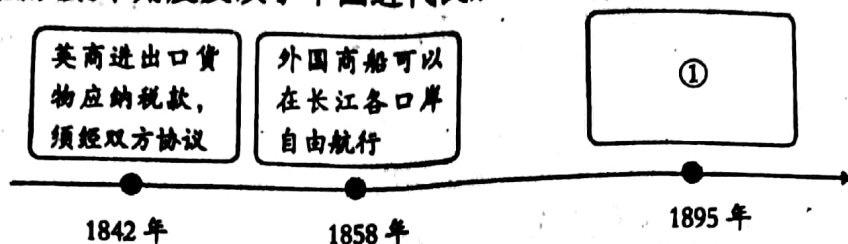
A.洗劫焚毁皇家园林圆明园

B.割占中国 150 多万平方千米领土

C.划分势力范围；瓜分中国

D.抢夺福州船政局等中国近代企业

6.下方示意图从某个角度反映了中国近代民族危机的不断加深，其中①处的内容应为



A.增开天津为商埠

B.清政府赔款白银 4.5 亿两

C.划定北京东交民巷为使馆界

D.允许日本在通商口岸开设工厂

7.下表是抗战时期某次战役的阶段中心任务。根据表格信息判断出该战役是

阶段	时间	中心任务
第一阶段	1940 年 8 月至 1940 年 9 月	摧毁正太路交通
第二阶段	1940 年 9 月至 1940 年 10 月	继续破坏日军的交通线
第三阶段	1940 年 10 月到 1941 年 1 月	反击日军的报复性“扫荡”

A.平型关大捷

B.淞沪会战

C.台儿庄战役

D.百团大战

8.2020 年，武汉因战胜新型冠状病毒引发的疫情，成为了中国的焦点！历史上，武汉也是一座革命与英雄的城市！下列有关武汉的史实正确的是

A.武汉三镇之一的武昌，在 1912 年率先爆发革命，揭开了辛亥革命的序幕。

B.武汉三镇之一的汉口，见证了八七会议的召开，标志中国开始了艰苦的抗日战争。

C.武汉会战使日本企图迅速灭亡中国的既定战略彻底破灭，抗日战争进入相持阶段。

D.武汉长江大桥在新中国成立的第一年正式建成通车，“天堑变通途”。

9.1978 年秋天，由安徽凤阳小岗村开启的包产到户，自负盈亏的农村改革，迅速在全国推广，家庭联产承包责任制的成功实践为城市国有企业改革作出了榜样。下列最有利于增强企业活力办法的是

A.逐步废除国有企业的自主经营权

B.强化按劳分配的单一分配制度

C.“大锅饭”与多种分配方式并存

D.实行政企分开，扩大企业自主权

10.如下图，“两个辛丑年的对比”的图片在互联网热传。1901 年（辛丑年），包括美国在内的列强强迫中国签下丧权辱国的《辛丑条约》；2021 年（辛丑年），中央外事工作委员会办公室主任杨洁篪在中美高层战略对话中正告美国：“美国没有资格居高临下同中国说话，中国人不吃这一套。”这种外交情况变化的根本原因是





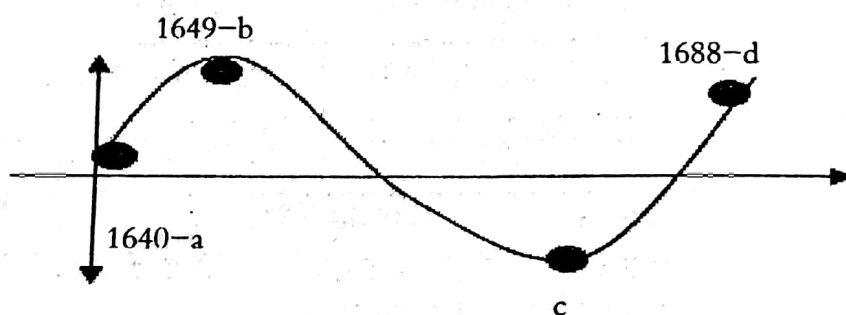


- A. 美国全球霸权地位的衰落  
B. 中国奉行独立自主的外交政策  
C. 美国改变了对外交往的方法  
D. 中国综合国力和国际地位的提高

11. “亚历山大的士兵们纷纷放下兵器，改行成了当地人的老师，曾经的军营变成了学习希腊文明的宁静课堂。”材料反映亚历山大东征


- A. 推动了希腊文化向外传播  
B. 促进了东西方文化的交流  
C. 给东方人民带来巨大灾难  
D. 加强了东西方的经济联系

12. 下图是英国资产阶级革命过程示意图，判断下列说法与史实相符的是



- A. a 点处，克伦威尔开始独揽大权  
B. b 点处，查理一世被处死，随后英国进入共和国时期  
C. c 点处，波旁王朝封建统治复辟  
D. d 点处，议会通过《权利法案》，开启了资本主义道路

13. 某历史公众号推送了如图专题资源包。请判断该专题是



明治维新简史



俄国农奴制改革教案

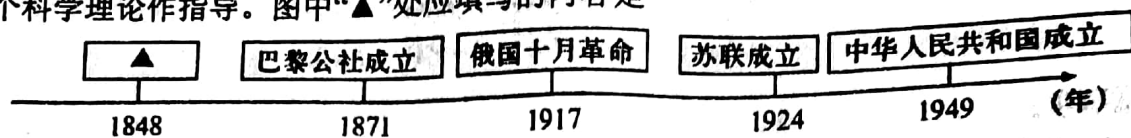


美国南北战争练习

- A. 资本主义的萌芽产生  
B. 资本主义制度的初步确立  
C. 资本主义制度的扩展  
D. 资本主义进入帝国主义阶段



- 14.如下图所示,巴黎公社是历史上第一次无产阶级革命夺取政权的伟大尝试;俄国十月革命胜利、苏联成立、中华人民共和国成立是成功建立社会主义制度的实例。它们都有一个科学理论作指导。图中“▲”处应填写的内容是



- A.《独立宣言》发表  
B.《人权宣言》发表  
C.《共产党宣言》发表  
D.《科学社会主义》发表
- 15.在2021年10月30日开幕的20国集团领导人峰会上,意大利总理呼吁向最不发达国家提供新冠疫苗,推动全球疫苗的公平分配;英国首相表示20国集团首要任务是推动新冠疫苗的快速、公平和全球分配。这说明国际社会在应对危机时应
- A.各自为政,独善其身  
B.加强国际合作,推动全球治理  
C.顺应经济全球化的趋势  
D.打击霸权主义和强权政治
- 二、非选择题(本大题4小题。第16题7分,第17题9分,第18题10分,第19题9分,共35分。)

- 16.在我国历史上,中外文化交流广泛开展,不仅使中华文明更加辉煌,也促进了世界文明的发展。阅读下列材料,回答问题。

材料一 唐代中国,经济繁荣,社会稳定,国力强盛。唐文化融合域外文化,深为当时世界各国人民向往。……唐朝把域外文化带入唐土,又把大唐文化传播四方,促进了中外文化大交流。

——王介南《中外文化交流史》

- (1)“唐朝把域外文化带入唐土,又把大唐文化传播四方”,请结合所学知识举出两例说明。

材料二 宋朝时期值得注意的是,发生了一场名副其实的商业革命,对整个欧亚大陆有重大的意义。……宋朝时期的中国正朝着成为一个海上强国的方向发展。

——【美】斯塔夫里阿诺斯《全球通史》

- (2)宋朝对海外贸易持什么态度?宋朝设置什么机构来管理海外贸易?

材料三 600多年前,明朝皇帝派出一支大型商船队,探索与世界其他地方的贸易。这些远征大大展示了明朝的强大和富足。更重要的是,它们给到访过的那些国家留下了持久的影响。

——李光耀

- (3)材料三评述的这一历史事件有着怎样的意义?

材料四 (清朝前期)在广州,外国人也是不自由的,夏秋两季是买卖季,他们可以住在广州的十三行,买卖完了,他们必须到澳门去过冬。……他们在十三行的时候,照法令不能随便出游。

——蒋廷黻《中国近代史》





(4) 材料四反映了清朝前期实行怎样的对外政策？这一政策对中国产生了怎样的消极影响？

17. 民主与法治是文明社会的重要基石。一部人类社会的发展史也是一部从专制、人治走向民主、法治的历史。某校九年级(2)班同学以“探寻民主法治之路”为主题设计了下面的研究清单，请你一起来完成学习任务。

**任务一：【追根溯源—探寻中国古代制度建构】**

材料



秦朝的政治制度体系

秦来六国，建立了中国历史上第一个统一的王朝，构建了一套完整的政治制度体系。

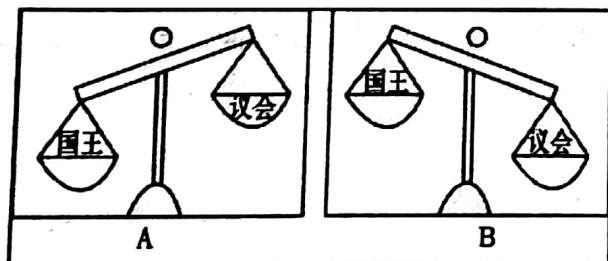
(1) 根据材料一并结合所学知识回答，秦朝建立起怎样的国家体制？这一体制在明清时期逐渐强化，其中明朝初期朱元璋废除自秦朝开始设立的哪一制度？

**任务二：【追根溯源—探寻西方民主法治之源】**

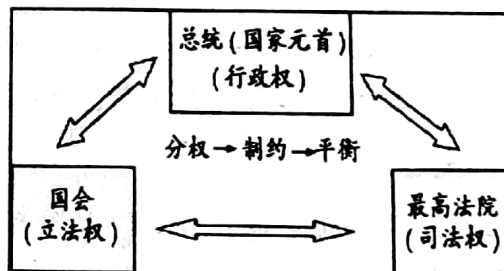
(2) 结合所学知识，将下面表格中内容填写完整。

西方民主政治的源头	罗马法学体系
雅典城邦的民主政治被誉为是西方民主政治的源头， <u>          ①          </u> 的改革将其民主政治发展到古代世界的最高峰。	罗马成文法诞生的标志是《 <u>          ②          </u> 》的颁布，是后世罗马法典乃至欧洲法学的渊源。

**任务三：【浴火重生—探寻近代西方民主法治之路】**



图一 17世纪的英国国王和议会



图二 18世纪美国确立的政治体制

(3) 17、18世纪的欧美在伴随着资产阶级革命的洗礼中，再次开创了各具特色的西方民主法治之路。写出与图一和图二对应的法律文献分别开创了怎样的政治体制？

**任务四：【曲折前行—探寻近代中国民主法治历程】**

“中华民国由中华人民组织之。中华民国之主权属于国民全体。”“中华民国之立法权，以参议院行之”；“临时大总统代表临时政府，总揽政务，公布法律”；“参议院议



决事件，咨由临时大总统公布施行”；……

——人教版《中国历史》八年级上册

(4) 上述材料出自近代中国最早规定公民享有各项民主自由权利的一份文件，这一文件是什么？

任务五：【感悟提升一探寻现代中国民主法治之梦】

中国社会主义民主政治的基本内容

制度 A	是我国的根本政治制度，为社会主义民主政治建设奠定了基础，昭示着中华人民共和国的最高权力属于人民。
制度 B	是党领导人民实现祖国和平统一大业的一项重要制度，是中国特色社会主义的一个伟大创举，为香港和澳门回归祖国开辟了途径。


(5) 根据材料四，写出表格中 A、B 所代表的制度名称。

18. 2021 年是中国共产党成立 100 周年，泰安市某学校举行了“学党史，颂党恩，跟党走”的纪念庆祝活动。

第一组 六年级观红色影视剧，学先辈革命精神




图一 电视剧《觉醒时代》




图二 电影《建党伟业》

(1) 以陈独秀、李大钊为代表的“觉醒”知识分子于 1915 年领导了哪一运动？标志着中国共产党诞生的是哪一事件？该事件确定的党的中心工作是什么？

第二组 七年级研学红色教育基地，感悟我党伟大精神



图三 井冈山爱国教育基地



图四 延安革命纪念馆

(2) 请你写出把井冈山作为“爱国主义教育基地”的历史因素是什么？1945 年党中央在





延安召开了中国共产党第七次全国代表大会，这次会议对中国革命前途产生了怎样的影响？

第三组 八年级搜集分析史料，感悟时代变革

材料一


1952 年和 1956 年各种所有制经济在国民总收入中所占比例（单位：%）					
年份	资本主义经济	合作社经济	私营经济	个体经济	国营经济
1952 年	6.9	1.5	0.7	71.8	19.1
1956 年	0.1	53.4	7.3	7	32.2

材料二 2018 年，我们迎来改革开放 40 周年。海南，因改革开放而生，因改革开放而兴。如今，海南全面融入“一带一路”建设，不断加强与沿线国家和地区交流合作。2018 年 4 月，党中央决定支持海南全岛建设自由贸易试验区。

(3) 分析材料一中表格的信息，你认为出现表中这种情况的原因是什么？

(4) 依据所学知识指出，材料二中海南岛成为经济特区，主要得益于什么政策？这一政策是哪次大会上做出的历史抉择？

第四组 九年级学习特色理论，共圆中国梦



图五《邓小平文选》



图六《习近平谈治国理政》

(5) 结合所学知识回答，党的哪次会议上把邓小平理论确立为党的指导思想？中共十九大确立党的新的指导思想是什么？



19. 一路巡看交相兴替的大国演变，我们要做的，其实就是一件事——让历史照亮未来的行程。阅读材料结合所学知识，回答有关问题。

### 【思想引领】

材料一 一个国家要崛起，它思想得创新，如果全是老思想，国家崛起不了。所以，思想和文化的作用在这里出现了。……在成为大国的过程中，戏剧家莎士比亚的作品提升了英国的人文精神；伏尔泰等进步思想家们，猛烈抨击法国的封建制度，……为法国大革命作了重要的理论准备。

(1) 在欧洲，有两次思想解放运动推动了资本主义社会的产生和发展。其中，莎士比亚参与的哪次思想解放运动提升了英国的人文精神？伏尔泰参与的哪次思想解放运动为法国大革命作了重要的理论准备？

### 【科技强图】

材料二 19世纪70年代，美国发明家爱迪生发明了白炽灯泡，并在纽约建立了美国第一座火力发电站。此后，在各国发明家的共同努力下，发电机、电动机、电焊机、电钻、电话、电报等纷纷问世，人类社会进入了一个新时代。在这个新的时代里，电力成为新的能源进入生产生活领域。由电力使用引发的一系列技术革命，被称为第二次工业革命。

(2) 材料中说“人类社会进入了一个新时代”，请写出这个“新时代”的名称。第二次工业革命的特点是什么？

### 【利益纷争】

材料三 所有的大国都试图建立符合自己利益的世界秩序，所以它们总是为世界秩序出谋划策。于是，战争，大国之间的战争，似乎成为历史上打破和重建世界秩序的必由路。……1913年，当德国全面超越英国，成为仅次于美国的世界第二经济强国时，德意志战车启动了。

(3) “德意志战车启动了”，指的是德国在20世纪上半叶所发动的两次世界大战，这两次世界大战中前者的导火线和后者的转折点分别是什么？

### 【格局变化】

材料四 1945年1月，苏联红军解放了波兰首都华沙，战争就要结束，人们相信和平就要来临。半个月后，苏联的斯大林、美国的罗斯福和英国的丘吉尔，在雅尔塔开会商议战后事宜。两年后，美国总统杜鲁门在国会发表演说，宣称美国将领导和帮助所有选择“自由制度”、抵抗集权统治的力量，从此，冷战开始。46年后，苏联解体，冷战结束，世界格局发生了很大变化。

(4) 根据材料四，结合所学知识，写出苏美英三巨头在雅尔塔会议上商定的二战后将成立的国际组织的名称。冷战时期形成了怎样的世界格局？冷战后世界格局的走向是什么？





## 历史训练题参考答案及评分说明

## 一、选择题（每小题 1 分，共 15 分）

题号	1	2	3	4	5	6	7	8	9	10	11	12	13	14	15
答案	A	A	B	C	B	D	D	C	D	D	A	B	C	C	B

## 二、非选择题（本大题共 4 小题，第 16 题 7 分，第 17 题 9 分，第 18 题 10 分，第 19 题 9

分，共 35 分。）

16. (1) 日本派遣唐使来中国；鉴真东渡日本；玄奘西行天竺。（任举两例，每例 1 分，共 2 分）

(2) 宋朝鼓励海外贸易（1 分）；市舶司（1 分）。

(3) 郑和下西洋不仅增进了中国与亚非国家和地区的相互了解和友好往来，而且开创了西太平洋与印度洋之间的亚非海上交通线，为人类的航海事业作出了伟大贡献（1 分）。

(4) 闭关锁国（1 分）；清廷故步自封，闭关自守，使中国逐渐落伍于世界历史的发展进程（1 分）。

17. (1) 大一统的中央集权制度（1 分）；丞相制度（1 分）。

(2) 伯里克利（1 分）；《十二铜表法》（1 分）。

(3) 英国确立了君主立宪制（1 分）；美国确立了联邦制（或总统制）（1 分）。

(4) 《中华民国临时约法》（1 分）。

(5) A：人民代表大会制度（1 分）；B：一国两制（1 分）

18. (1) 运动：新文化运动（1 分）；事件：中共一大的召开（1 分）；中心工作：领导和组织工人运动（1 分）。

(2) 历史因素：井冈山是中国共产党创建的第一个革命根据地，中国革命从此走上了工农武装割据、农村包围城市、武装夺取政权的道路（1 分）；影响：中共七大为争取抗日战争的最后胜利准备了条件，并为中国共产党和中国人民指明了战后的奋斗方向（1 分）。



- (3) 三大改造的基本完成 (1 分)。
  - (4) 改革开放 (1 分)。中共十一届三中全会 (1 分)。
  - (5) 会议：中共十五大 (1 分)；指导思想：习近平新时代中国特色社会主义思想 (1 分)。
19. (1) 文艺复兴运动 (1 分)；启蒙运动 (1 分)。
- (2) 电气时代 (1 分)；第二次工业革命的特点是科学技术与工业生产紧密结合 (1 分)。
  - (3) 萨拉热窝事件 (1 分)；斯大林格勒战役 (1 分)。
  - (4) 联合国 (1 分)；两极格局 (1 分)；世界朝着多极化的方向发展，出现了一超多强的局面 (1 分)。

