

二〇二二年九年级复习质量检测

历史试题(B)

2022.05

温馨提示:

1. 本试卷分第 I 卷和第 II 卷两部分, 共 8 页, 满分 100 分。考试用时 60 分钟, 考试结束后, 将试题卷和答题卡一并收回。
2. 答卷前, 考生务必用 0.5 毫米黑色签字笔, 将自己的姓名、准考证号、座号填写在试题卷和答题卡规定位置上。
3. 第 I 卷每小题选出答案后, 请务必用 2B 铅笔把答题卡上对应题目的答案标号涂黑; 如需改动, 用橡皮擦干净后, 再涂其它答案标号。答案不能写在试卷上。
4. 第 II 卷必须用 0.5 毫米黑色签字笔作答, 答卷必须写在答题卡各题目指定区域内相应的位置, 不能写在试题卷上, 如需改动, 先划掉原来的答案, 然后再写上新的答案; 不准使用涂改液、胶带纸、修正带。不按以上要求作答的答案无效。

第 I 卷(选择题 共 50 分)

一、选择题(本大题共 25 个小题, 每小题 2 分, 共 50 分, 每小题所列出的四个选项中, 只有一项是符合题意的)

1. 下列材料都记载了武王伐纣的历史。其中史料价值最高的是
A. 周初青铜器铭文
B. 司马迁《史记》
C. 小说《封神演义》
D. 京剧《哪吒》
2. 边蜀原认为: 秦始皇扫平六国统一天下是必然的, 因为秦国打下了统一天下的基础。秦国代表了当时的先进生产力, 农业生产发达……组织好最强大最合理的军团。据此可知, “秦始皇扫平六国统一天下” 得益于
A. 管仲改革
B. 商鞅变法
C. 独尊儒术
D. 孝文帝改革
3. 东汉梁太后之兄梁冀独揽朝政 20 余年。梁冀一门“前后七封侯, 三皇后, 六贵人, 二大将军……其余卿、将、尹、校五十七人”, 宗室姻亲充斥朝廷和郡县。这说明当时
A. 官僚机构臃肿
B. 宦官把持朝政
C. 豪强地主横行
D. 外戚势力膨胀
4. 220 年, 曹操的儿子曹丕在洛阳称帝, 221 年, 刘备在成都称帝, 229 年, 孙权在建业称帝。三国鼎立的局面形成于
A. 公元 2 世纪前期
B. 公元 2 世纪后期
C. 公元 3 世纪前期
D. 公元 3 世纪后期
5. 古诗云“喜中青钱选, 才高压俊英”(注: “青钱选” 比喻科举考试时文章写得好, 每次都被选中)。这说明科举制在选官上注重
A. 血缘
B. 品德
C. 门第
D. 才学
6. 北宋时期, 最高军事机构枢密院的正副长官累计超过 200 人, 其中文臣出身者 162 人, 武将出身者 39 人。这说明北宋

- A. 与辽保持长期的和平
- C. 解除统兵将领的兵权

- B. 军队战斗力得到提高
- D. 实行重文轻武的政策

7. 老师在上课时用“夕阳无限好，只是近黄昏”形容清朝社会的表现。下列能分别体现“夕阳无限好”和“只是近黄昏”的

- A. 西方侵略威胁国家安全、实行闭关锁国政策
- B. 巩固了“大一统”的王朝、地方分裂割据严重
- C. 统一多民族国家的建立、西方殖民主义侵略
- D. 巩固了统一多民族国家、君主专制达到顶峰

8. 为宣扬爱国主义精神，某班同学设计了一期题为《列强凌辱下的近代中国》的黑板报，其中符合历史事实的是

- A. 鸦片战争大大加深了中国的半殖民地化程度
- B. 黄海海战中北洋舰队全军覆没
- C. 第二次鸦片战争中英法联军火烧圆明园
- D. 1902 年中国人居住在北京东交民巷

9. 曾国藩，湖南湘乡人（今双峰县人），晚清重臣，故居内有如下事迹记载。这说明他兴办洋务的背景是

- A. 清朝面临内忧外患
- B. 列强侵略加剧
- C. 学习西方先进科技
- D. 开启中国近代化

1851 年，洪秀全发动起义，太平天国运动爆发
1856 年，英法发动第二次鸦片战争
1861 年，创办安庆内军械所
1865 年，与李鸿章在上海创办江南制造总局

10. 在党的十九大胜利闭幕一周之际，习近平总书记带领中共中央政治局常委前往浙江嘉兴南湖参观一艘游船，90 多年前它见证的那场会议

- A. 毛泽东参加会议并最终被推选为中央局书记
- B. 做出了和国民党合作的决定
- C. 是中国共产党历史上的重要转折点
- D. 正式宣告了中国共产党的诞生

11. “由于两党在一定纲领上的合作，发动了一九二四年至一九二七年的革命在仅仅两三年之内，获得了巨大的成就。”“革命”取得的“巨大的成就”有

- ①基本消灭了吴佩孚、孙传芳的主力
- ②工农革命运动蓬勃发展
- ③革命军队从珠江流域打到长江流域
- ④结束了封建君主专制统治

- A. ①②③
- B. ①③④
- C. ①②④
- D. ②③④

12. 史学界对“张学良为何陪送蒋介石回南京”存在以下许多观点。这表明

观点 1	张学良之所以亲自送蒋，西安事变是张拥蒋抗日思想的继续和发展，逼蒋是拥蒋的特殊手段。
观点 2	日本灭我中华的事实，使国内各种矛盾降为次要，蒋介石也可能考虑准备抗日，这是张送蒋的前提。
观点 3	国内外主流舆论拥护张杨主张，并呼吁和平解决事变，张躬亲送蒋返宁是和平解决事变的重要环节。
观点 4	张扣蒋后检视了蒋的机密文件，从中发现国民政府 1935 年初开始的对日备战工作的论述。

- A. 历史不存在真实的事实
C. 历史结论不需史料支撑

- B. 对历史事实存在不同解释
D. 历史研究完全受主观支配


13. 观察下列两则材料,其反映出

“顽寇陆续增兵,企图扫荡华北,截断我西北国际交通,兄等抽调劲旅,事以迎头袭击,粉碎其阴谋毒计,至深佩慰。”
——第一战区司令长官卫立煌致朱德电

“贵部窥此良机,断然出击,予敌甚大打击,特此嘉奖。……希速飭所部积极行动,勿予敌喘息机会,彻底断绝其交通为要。”

——蒋介石致朱德电

- A. 中国共产党成为抗战的中流砥柱
C. 敌后战场在抗战中起了重大作用
B. 敌后战场成为抗日战争的主战场
D. 敌后战场推动抗战进入相持阶段
14. 毛泽东曾说:“这是一个历史的转折点。这是蒋介石的二十年反革命统治由发展到消灭的转折点……这个事实一经发生,它就将必然地走向全国的胜利。”这个“转折点”揭开了人民解放军战略进攻的序幕,它是
- A. 辽沈战役
B. 淮海战役
C. 平津战役
D. 挺进大别山
15. 抗美援朝时期,涌现出了一批“最可爱的人”,黄继光、邱少云等成为这个时代的典型代表。他们身上共同体现了
- A. 开天辟地、立党为公的红船精神
B. 忧国忧民、敢于斗争的五四精神
C. 保家卫国、不怕牺牲的上甘岭精神
D. 艰苦创业、无私奉献的“铁人”精神
16. 从1953年到2021年,从“一五”计划到“十四五”计划,每一个五年计划,都是一幅治国蓝图。如下图中属于“一五”计划主要成就的是



A. 港珠澳大桥

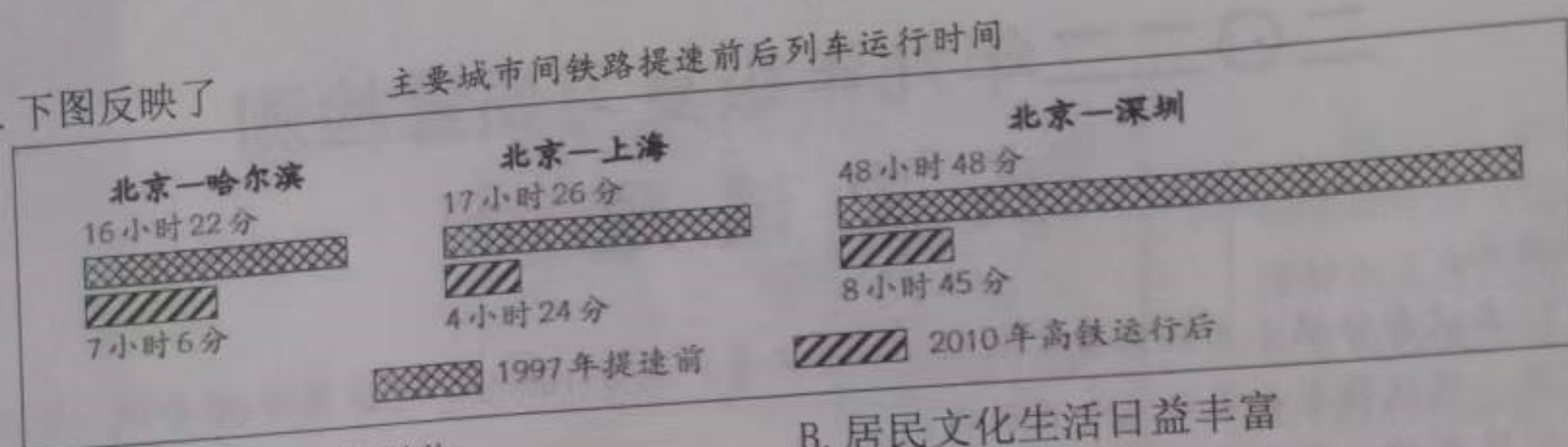
B. 青藏铁路

C. 武汉长江大桥

D. 天问一号

17. 1983年至1987年综合改革试点期间,没有现成的模式,重庆从改进计划体制、企业管理体制、流通体制、财政税收金融体制等重点方面摸着石头过河,试点后的重庆,经济实力明显增强,中心城市地位进一步凸显。文中的“综合改革”指的是
- A. 三大改造
B. 土地改革
C. 实行家庭联产承包责任制
D. 城市经济体制改革
18. 习近平主席在庆祝澳门回归20周年活动时指出,回归祖国以来的20年,是澳门历史上经济发展最快、民生改善最大的时期。澳门取得历史性成就主要得益于
- ①“一国两制”方针的成功实践
②中央政府和内地的大力支持
③民族区域自治制度的实行
④澳门社会各界的团结奋斗
- A. ①②③
B. ①②④
C. ①③④
D. ②③④

19. 下图反映了



- A. 人们出行方式的多样化
B. 居民文化生活日益丰富
C. 我国经济建设重大成就
D. 居民收入大幅度增长
20. 13世纪, 中国的指南针经阿拉伯人传入欧洲, 使得欧洲航海家的寻金梦得以实现, 也证明了“地圆说”的正确性。这段话强调的是
- A. 中国文化的进步性
B. 阿拉伯人的桥梁作用
C. 文化交流的推动性
D. 欧洲航海家的殖民性
21. 报载, 96岁高龄的英国女王伊丽莎白二世在丈夫菲利普亲王离世后, 继续从事一些公共服务性工作, 参加一些仪式性活动……以维持其国家权力象征的地位。英国女王的工作和地位源于英国实行
- A. 联邦制
B. 君主专制
C. 民主共和制
D. 君主立宪制
22. 世界近代出现了辉煌灿烂的科技文化。下列搭配不正确的一组是
- A. 达尔文——《物种起源》
B. 梵高——《战争与和平》
C. 巴尔扎克——《人间喜剧》
D. 列夫托尔斯泰——《复活》
23. 2021年1月7日, 美国在国会大厦举行联席会议, 对2020年总统大选的投票进行清点和认证, 经过这次会议的结果确认, 特朗普再无反转机会, 拜登在选举中击败对手特朗普, 当选美国第46任总统。这一过程说明了美国
- A. 是缺乏自由的联邦制国家
B. 国会掌握了美国的最高权力
C. 三权分立, 权力之间相互制约
D. 总统的权力受到了国会的限制
24. 2021年是中国“入世”20周年, 中国“入世”是指中国加入



A.



B.



C.



D.

25. 据下图推断, 漫画作者认为欧洲福利制度的推行





- A. 维护了社会公平
B. 加剧了财政负担
C. 抑制了贫富分化
D. 降低了就业热情

第 II 卷（非选择题 共 50 分）

二、非选择题（本大题共 3 小题，26 题 18 分，27 题 18 分，28 题 14 分，共 50 分）

26. (18 分) 史料·史实·史论。阅读下列材料，回答问题。

材料一

 <p>①1995 年在西安出土的秦代右丞相印封泥</p>	<p>②唐初，唐因隋制，以三省之长中书令、侍中、尚书令共议国政，此宰相之职也。其后，以太宗尝为尚书令，臣下避，而不居其职，由是仆射为尚书省长官，与侍中、中书令号为宰相。</p> <p>——《新唐书·百官志》</p>	 <p>③明朝谢环《杏园雅集图》（局部），描绘了明成祖时期杨士奇等多位内阁大臣议事的场景。</p>
--	---	--

(1) 指出材料一中①②③的史料类型。结合所学，任选一个史料，说明它印证了中国古代中枢机构创新的史实。（5 分）

材料二 中世纪早期，农奴制度促进了西欧主要农业组织形式——采邑的发展。采邑是大型庄园，包括土地、草场等，以及束缚在土地上的农奴。由于地区性国家建立了越来越有效的政治组织，地方上的封君和封臣管理着政治和军事事务，这一体系一般被历史学家称为封建制度。

——[美]杰里·本特利等《简明新全球史》

(2) 根据材料二，概括西欧封建社会的主要特征。（4 分）

材料三 以中国民主革命的伟大先行者孙中山为代表的革命党人站在时代前列，率先发出“振兴中华”的呐喊。武昌起义的枪声，敲响了清王朝的丧钟；中华民国的成立，实现了近代中国第一次历史性巨变。辛亥革命成为中华民族伟大复兴征程上一座巍然屹立的里程碑！

——川教版《中国历史》（八上）

(3) 结合所学知识，指出辛亥革命的指导思想。根据材料三，归纳辛亥革命最主要的历史功绩。（3 分）

材料四



说明：1999年，美、英、俄、中等世界上最重要的经济体成立二十国集团（G20集团），是国际经济合作的主要论坛，是全球经济治理的新机制，也是世界多极化的重要表现。

（4）结合所学，指出材料四示意图反映了国际政治格局怎样的发展趋势？任选其中两个事件，说明该事件在这一历史趋势中所起的作用。（6分）

27.（18分）经济·发展。阅读下列材料，回答问题。

材料一 秦与西汉前期，实行盐铁包商政策，国家把大部分盐铁资源包给商人生产和运销，国家向其征课一定数量的税收。……但一些大盐铁商人的牟利行为，“上争王者之利，下锢齐民之业”，严重威胁专制集权统治。

西汉武帝时期，连年征战，尤其对匈奴长期用兵，耗费巨大，财政困难，国家“笼天下盐铁诸利”，实行盐铁官营政策，垄断盐铁产销，打击商人势力，也充实了国家财政，缓和了财政危机。

——摘编自曹大为等《中国大通史》

（1）依据材料一和所学，概括秦汉时期盐铁政策的变化，简要分析其原因。（6分）

材料二 1801—1850年英国外贸额增加了6倍，1850年英国占世界贸易总额的21%，英国出口商品中工业消费品和工业生产资料占85%以上，伦敦成为国际贸易中心。英国占据了世界经济的中心地位，世界其他国家和地区在很大程度上成为向英国这个“世界工厂”“殖民帝国”提供原料和粮食的附庸地。

——摘编自余建华《世界市场和科技革命：经济腾飞的两个巨轮》

（2）依据材料二，概括19世纪上半期英国对外贸易的特点。（4分）

材料三 1932年的工业生产与1929年相比，美国下降了46%，德国下降了47%。国际贸易总价值减少65%以上。为摆脱危机，各国起初“各自求生”，采取“以邻为壑”的措施与政策。1931年11月英国颁布《紧急进口税条例》，对进口货物征税50%，美国国会也于1930年通过了历史上最高税率的关税法《霍利—斯穆特关税法》，实际平均税率达53.2%。国际贸易体系在各区域贸易集团圈和各国关税壁垒的作用下，处于割裂与封闭状态。

——摘编自金卫星《1929—1933年大萧条与伦敦世界经济会议》

（3）依据材料三，分析20世纪30年代国际贸易额大幅减少的原因。结合所学，指出美国是如何摆脱这一“危机”的？（3分）

材料四



进入 21 世纪，中国成为所有新兴经济体中最开放的市场。我国外向型经济特别是加工贸易迅速发展，使我国对外贸易迅速扩张，进出口总额 2001 年比 1992 年增长了 3 倍，利用外资的水平也明显提高。2001 年，我国正式加入 WTO，标志着对外开放进入新阶段。中国经济发展取得显著进步，经济结构进一步优化，人民生活水平迅速提高。

——摘编

自龚关《中华人民共和国经济史》

(4) 观察上图，指出中共十一届三中全会后我国形成了怎样的对外开放格局？依据材料四和所学，围绕“开放与发展”谈谈你的认识。(5 分)

28. (14 分) 开放·共享。阅读下列材料，回答问题。

材料一 《全唐诗》是清康熙 44 年(1705 年)在康熙皇帝主导下搜罗唐诗的合集，“得诗四万八千九百余首，凡二千二百余人”，共计 900 卷，目录 12 卷，是中国规模最大的一部诗歌总集。某同学在图书馆看到后摘录了以下诗句。

序号	唐诗	出处
①	自从贵主和亲后，一半胡风似汉家。	陈陶《陇西行》
②	九天阊阖开宫殿，万国衣冠拜冕旒。	王维《和贾舍人早朝大明宫之作》
③	百千家似围棋局，十二街如种菜畦。	白居易《登观音台望城》

(1) 按照下表标准对材料一中的诗句进行分类。并根据诗句内容确定一个合适主题。(5 分。填序号)

标准	序号
经济繁荣	
民族和睦	
中外交流	

材料二 彼特拉克(1304-1374 年)是意大利诗人和学者。他从修道院的图书馆中清理出古希腊、罗马文献的抄本，并用人文主义观点进行解释。随后，他的著作借印刷术流传开来。彼特拉克最先应用“人文主义”一词，将“人的学问”与“神的学问”作出对比，被尊为“人文主义之父”。

——摘编自杨子竞《外国图书馆史简编》

(2) 依据材料一并结合所学，分析彼特拉克做法所产生的影响。(2 分)

材料三 五四运动是中国新民主主义革命的开端，新中国成立标志着新民主主义革命的结束。某同学在图书馆检索到以下信息。

①照片： 1919年5月4日学生游行照片，美国人拍摄，照片中的学生手持标语“青岛是我们的”。	②报刊： 《每周评论》五四运动期间重要刊物，对五四学生游行、上海工人罢工等均有详细报道。	③档案： 《共和国脚步—1949年档案》第三十八集：收录了第一届政协会议宣言、会议的决议草案及决议案等。
④口述： 《百年名人自述》第十四编：围绕开国大典编述了领导者、亲历者亲口述说的原始材料。	⑤电影： 《开国大典》：故事片，展现了从三大战役胜利至举行开国大典的历程。	⑥专著： 《五四与中国现代化》研究了五四运动前后中国社会的变化，包括“从欧化到以俄为师”。“从放足到服饰革命”等章节。

(3) 仿照示例，结合所学，选择一个研究主题和相应的一则材料，并说明选择材料的理由。(3分。不得选用示例)

研究主题 1	研究主题 2	研究主题 3
五四运动在全国的扩展	五四运动的影响	开国大典的真实场景

示例：研究主题 2：五四运动的影响

选择材料：⑥

理由：本书从社会思潮演变、社会习俗现代化等角度说明五四运动的影响。

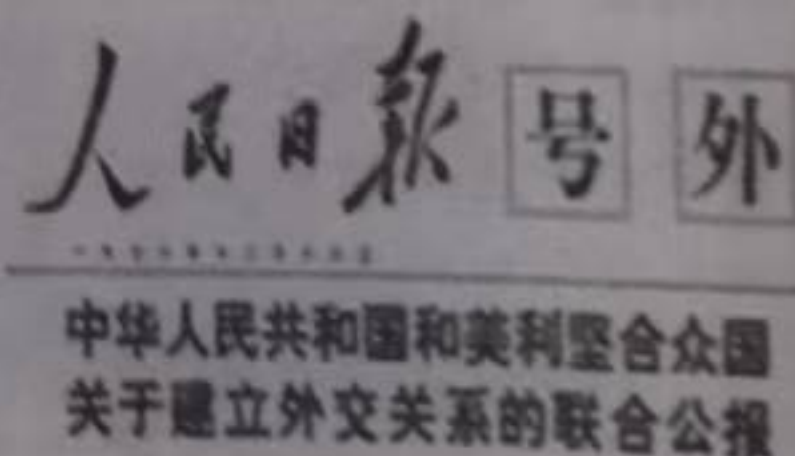
材料四 报刊作为一种近代以来新兴的传媒方式，记载了国家历史与社会变迁，在图书馆某同学查阅到了以下报纸。



图一

全世界人民的胜利 美帝国主义的惨败
联大以压倒多数通过恢复我在联合国合法权利
驱逐蒋帮的阿尔巴尼亚、阿尔及利亚等国提案

图二



图三

(4) 图一、图二、图三为新中国成立之后《人民日报》刊登的部分重大事件。根据材料四并结合所学知识，概括其表达的共同主题。任选其中一个事件，谈谈该事件的重大意义。(4分)

二〇二二年九年级复习质量检测

历史试题（B） 参考答案

说明：1. 选择题依据参考答案评分。

2. 非选择题依据考生表达采意给分，不必拘泥于参考答案原文。

一、选择题（每小题 2 分，共 50 分）

题号	1	2	3	4	5	6	7	8	9	10	11	12	13
答案	A	B	D	C	D	D	D	C	A	D	A	B	C
题号	14	15	16	17	18	19	20	21	22	23	24	25	
答案	D	C	C	D	B	C	C	D	B	D	B	B	

二、非选择题（本大题 3 个小题，共 50 分）

26.

（1）史料类型：①实物史料；②文献史料；③图像史料。（3 分）

史实：①秦朝确立丞相制度，丞相辅佐皇帝；②隋唐时中央设三省，三省长官都是宰相，相权分散；③明朝废除丞相制度，设立内阁。（2 分。任选一个史料回答即可）

（2）主要特征：在经济上实行庄园制度或农奴制度；在政治上实行封君封臣制度。（4 分）

（3）指导思想：三民主义。（1 分）

历史功绩：推翻了清王朝的统治，结束了君主专制，建立了资产阶级民主共和国。（2 分）

（4）趋势：从两极格局形成到多极化趋势发展。（2 分）

作用：北约成立，加剧了美苏“冷战”的程度；

华约成立，欧洲出现了两大军事政治集团对峙局面，两极格局正式形成；

万隆会议的召开，标志着发展中国家作为一支新兴独立的政治力量登上了国际舞台，冲击着两极格局；

欧共体成立，推动了西欧的崛起，开始摆脱了美国的控制，削弱了美国的霸权地位；

苏联解体，标志着两极格局瓦解，“冷战”宣告结束；

欧盟成立，欧洲一体化加强，世界多极化趋势进一步发展；

G20 杭州峰会，多国领导人共商全球治理，有利于多极化趋势发展。（4 分。任选两个回答即可）

27.

（1）变化：秦与西汉前期实行盐铁包商政策，到汉武帝时期实行盐铁官营政策。（2 分）

原因：汉初实行休养生息政策，减少对经济的干预；汉武帝为抗击匈奴，增加政府财政收入；打击商人势力，加强中央集权。（4 分。任答两条即可，必须是概括，不能照抄原文）

（2）特点：对外贸易额增长迅速；商品结构中，工业制成品占绝对优势；在国际贸易中居于主导地位。（4 分。任答两条即可，必须是概括，不能照抄原文）

（3）原因：经济危机的打击下各国工业生产下降；经济危机发生后各国纷纷提高关税设置关税壁垒，不利于国际贸易的发展。（2 分。任答一条即可，不能照抄原文）

方式：罗斯福新政。（1 分）

（4）格局：形成了“经济特区—沿海开放城市—沿海经济开放区—内地”的全方位、多

层次、宽领域的对外开放格局。（2分）

认识：对外开放推动了中国经济的发展。对外开放格局的逐步形成，促进了外贸发展，吸引了大量外资，学习了外国先进的管理经验，优化了中国的经济结构，促进了高新技术产业的发展，提高了人民的生活水平。经济发展需要进一步扩大开放。随着社会主义市场经济体制的完善，需要实现与世界经济全面接轨，2001年中国加入WTO，对外开放进入新阶段。（3分。能答出开放促进发展即可得1分，用1-2个史实来证明即可）

28.

(1) (3分)

标准	序号
经济繁荣	③
民族和睦	①
中外交流	②

主题：盛唐气象或盛唐表现。（2分）

(2) 保存、传播了古典文化，推动了文艺复兴的发展，促进了思想解放。（2分。意思相近即可）

(3) 研究主题 1：五四运动在全国的扩展

选择材料：②（1分）

理由：报刊反映了五四运动从北京扩展到上海等地，参加者从学生扩展到工人等阶层。（2分）

研究主题 3：开国大典的真实场景

选择材料：④（1分）

理由：开国大典亲历者的口述是了解开国大典真实场景的重要证据。（2分）（选一个主题即可）

(4) 共同主题：新中国外交事业的发展（或“新中国的外交成就”）。（2分）

事件及意义：1955年，中国参加亚非会议（万隆会议），周恩来提出“求同存异”的方针，促进了会议的圆满成功，加强了中国同亚非各国的团结与合作；

1971年，中国恢复在联合国的合法席位是中国外交的重大胜利，有利于中国积极参与国际事务，在国际社会中发挥更重要的作用；

1979年中美正式建交，有利于中美两国政治、经济和文化交流的发展，提高了中国的国际地位，出现了许多国家与中国建交的高潮。（2分。任选一个回答即可）