


2022 年淮滨县九年级第三次模拟考试 历史试题

题号	选择题	非选择题					总分
		21	22	23	24	25	
分数							

得分	评卷人

一、选择题（每小题 1 分，共 20 分。）

1. “海纳百川，有容乃大。”中国文化能够传承数千年而未中断的一个重要原因就在于强大的文化包容性。以下河南历史文化遗产最能体现这一内涵的是（ ）



- A. 安阳殷墟 B. 登封中岳庙 C. 洛阳龙门石窟 D. 大运河（河南段）
2. 钱穆在《中国历史研究法》中说道：“自秦汉以来的这一制度，到今天民国时代还存在，中国之永为一统一国，此项政治制度实贡献过其甚大之绩效。”这一制度是（ ）
- A. 统一度量衡 B. 君主专制 C. 郡县制 D. 科举制
3. 某历史小组走进中国国家博物馆，看到了如下一组文物照片和文字介绍。由此可以看出此文物的历史价值在于（ ）

唐三彩骑驼乐舞俑，1957 年出土于陕西西安。骆驼昂首挺立，驼背平台上铺彩色条毯，上面有由 3 名胡人 2 名汉人组成的乐舞队，表现的应该是长安百戏中的一个杂技节目。



- A. 反映了唐朝开放的社会风气 B. 凸显了唐朝制瓷工艺水平高度领先
- C. 印证了唐朝繁荣发达的经济 D. 见证了唐朝艺术水平优于周边民族
4. 《史记太史公自序》中写道“网罗天下放失旧闻，王迹所兴，原始察终，见盛观衰”：神宗认为《资治通鉴》“鉴于往事，有资于治道”。这说明我国的史书（ ）
- A. 以搜罗天下异闻为主 B. 编写体例多样 C. 关注人与自然的的关系 D. 重在以古鉴今
5. 《梦粱录》卷十三记载南宋首都临安“万物所聚，诸行百市”“自大街及诸坊巷，大小铺席，

连门俱是，即无虚空之屋”。这一现象反映了（ ）

- A. 古代经济重心南移 B. 宋朝城市商业繁荣 C. 宋朝海外贸易兴盛 D. 政府重视经济发展的盛况。这些史事表明郑和下西洋（ ）

6. 1416 年，郑和完成第 4 次下西洋任务后，出现了亚洲、非洲 17 个国家和地区派遣使节来华的盛况。这些史事表明郑和下西洋（ ）

- A. 开辟了海上丝绸之路 B. 增进了中外友好往来
C. 促进了明朝经济发展 D. 解除了东南沿海倭患

7. 有学者这样描述我国古代的君臣关系：在宋以前大臣“坐而论道”，从宋太祖以后“站而论道”，到了清代只能“跪奏笔录”。这种变化表明我国古代政治制度演变的特点是（ ）

- A. 中央集权日益加强 B. 君臣关系越加紧张 C. 等级制度逐渐消失 D. 君主专制不断强化

8. 史学家陈旭麓指出：“英国割取香港，意味着获得了经营中国的基地；而五口开放则提供了由沿海推向内地的孔道。”英国获得这些权益始于同中国签订（ ）

- A. 《南京条约》 B. 《北京条约》 C. 《马关条约》 D. 《辛丑条约》

9. “中国历史上的多次革命，唯有辛亥革命在破旧与立新两方面，堪称历史性的首创之举。”辛亥革命在“破旧”方面的“首创之举”是（ ）

- A. 创立了中华民国 B. 1912 年颁布《中华民国临时约法》

- C. 结束了封建君主专制制度 D. 完成了反帝反封建的任务

10. “得出结论”是新课标要求培养的能力之一。中共“二大”与中共“一大”相比，最重要的贡献是制定了（ ）

- A. 以工人运动为中心任务 B. 实现共产主义的奋斗目标

- C. 党在民主革命阶段的革命纲领 D. 民主集中制的组织原则

11. 1937 年某日伦敦《泰晤士报》对中国的某次战役这样报道“此次两军作战，双方伤亡惨重，但十周之英勇抵抗，已造成中国堪称军事国家之荣誉……上海一隅之抵抗，对于整个中国均有极大影响。”这则材料描述的是（ ）

- A. 平型关大捷 B. 淞沪会战 C. 台儿庄战役 D. 百团大战

12. 著名史学家金冲及先生著有《转折年代——中国 1947》一书，下列史实可以作为此“转折”主要依据的是（ ）

- A. 中华民族实现抗日战争的完全胜利 B. 国共重庆谈判达成和平建国的共识

- C. 人民解放战争进入了战略反攻阶段 D. 人民解放战争完成了三大战略决战

13. 1947 年 9 月，中国共产党在河北省西柏坡举行的全国土地会议上通过了《中国土地法大纲》。到 1948 年下半年，解放区大约有 1 亿农民分得了土地。得到土地的农民纷纷表示“解放军打到哪里，我们就支援到哪里。”淮海战役中，解放军官兵 60 万，支前民工达到 230 万。材料主要说明了（ ）

- A. 中国共产党在土地改革中的领导地位 B. 国民党失败原因是政府和军队的腐败

- C. 土地改革使新生的人民政权更加巩固 D. 土地改革为解放战争提供了重要保障

14. 1957 年，一位诗人写道：请看，中国张开了翅膀————桥飞架，天堑变通途！车轮追风，“屋脊”建新路！这首诗表达了（ ）

- A. 新中国成立的喜悦 B. 抗美援朝战争胜利的喜悦

- C. “一五”计划超额完成的喜悦 D. 三大改造胜利完成后的欢乐

15. 1972 年 9 月，日本首相田中角荣访华，中日两国政府正式宣布建立外交关系。推动两国实现邦交正常化的关键是（ ）

- A. 中美关系的正常化 B. 和平共处五项原则的提出

C. 第一届亚非国际会议召开

16. 《共产党宣言》指出：“美洲的发现、绕过非洲的航行，给新兴的资产阶级开辟了新的活动场所。”材料评述的是（ ）

A. 欧洲手工工场的作用

C. 欧洲垦殖运动的意义

D. 中美建立外交关系

B. 文艺复兴产生的背景

D. 新航路开辟的影响

17. 美国的开国元勋杰斐逊认为：“自由政府是建立在猜疑之上，而不是建立在信任之上的。”基于这一理念，美国制定的 1787 年宪法（ ）

A. 允许奴隶制度存在

B. 践行三权分立原则

C. 规定总统任期两届

D. 建立中央集权体制

18. 蔡和森称它是“美帝国主义协同英、日、法各国帝国主义用门户开放、国际共管的网络宰制中国”的“吸血同盟”。它是（ ）

A. 《凡尔赛条约》

B. 《九国公约》

C. 《北大西洋公约》

D. 《华沙条约》

19. 1921 年，列宁意识到农民们陷入了危机，他们把余粮交给政府而换回的只是没有价值的纸币。列宁决定“把时间往回拨一下”，于是农民受到激励，种植更多的谷物并在市场上出售。其中“把时间往回拨”是指（ ）

A. 领导十月革命

B. 实行战时共产主义政策

C. 实施新经济政策

D. 完成两个五年计划

20. 莎士比亚在作品中赞叹道：“人是一件多么了不起的杰作！在才能上多么无限！”如果用杰出人物列夫·托尔斯泰的成就来证明的话，那就是（ ）

A. 出版了《物种起源》

B. 撰写了《战争与和平》

C. 创作了《向日葵》

D. 撰写了《英雄交响曲》

得分	评卷人

二、非选择题（5 小题，共 30 分）

得分	评卷人

21. 阅读材料，回答下列问题。（6 分）

材料一：东汉南阳张仲景曾经仔细研读过《素问》、《灵枢》、《难经》、《阴阳大论》、《胎产药录》等古代医书，根据自己的临床实践对《素问》中的“热病”，“伤寒”理论作了发展，他认为伤寒是一切热病的总名称。经过几十年的奋斗写出了《伤寒杂病论》，该书籍不仅对中医药学影响深远，还对亚洲各国如日本、朝鲜、越南、蒙古等国的影响很大。

——摘编自《张仲景的科学精神探析》

材料二：阿拉伯人伊本·西那所著的《医典》，书中不仅总结了东、西方的医学知识，还加上了本人的思考 and 实践心得，涉及解剖、病源，诊断，用药和妇产科等方面，尤为重要的是，书中还对作为中医需要掌握的诊脉术和中草药加以介绍，可以说是一部医学百科全书。

——《唐代关中地区医药学发展与中外文明交流》



《伤寒杂病论》书影



《医典》手稿

(1) 根据两则材料，概括《伤寒杂病论》与《医典》成书过程的异同点。并

说明分别体现两个民族怎样的文化特征?(5分)

(2) 请再举出中国古代同一领域的成就一例。(1分)

得分	评卷人

22. (6分) 阅读下列材料, 回答问题。

材料一: 第二次鸦片战争后, 清朝统治集团内部一些比较开明的官员, 主张利用西方先进技术, 强兵富国, 维护清王朝的统治。他们掀起了一场旨在“自强”“求富”的洋务运动。洋务运动刺激了中国民族资本主义的产生。

——部编教材八上

材料二: 甲午中日战争后, 《马关条约》签订的消息传到北京后, 群情激奋。发生了著名的“公车上书”, 拉开了变法维新运动的序幕。戊戌变法运动最终以失败告终, 证明资产阶级改良道路在中国行不通。

——部编教材八上

材料三: 八国联军侵华战争后, 《辛丑条约》签订后, 清政府沦为帝国主义统治中国的工具, 国内革命情绪日趋高涨。资产阶级革命思想得到迅速传播。为辛亥革命奠定了思想基础。


——部编教材八上

(1) 依据上述三则材料结合所学知识, 请概括促进中国近代化起步的因素有哪些?(2分)


(2) 依据上述材料反映的近代化历程, 结合所学知识, 用示意图表示上述材料中近代化探索典型历史事件之间的关系。并选取其中一个联系进行说明。(4分)

得分	评卷人

23. (6分) 请依据下面图片反映的历史场景, 并结合所学知识, 写一篇80-120字的小短文。(要求: 题目自拟, 观点明确, 体现图片内容之间的联系性, 史实正确, 条理清晰, 语句通顺, 表述完整)



我国第一颗人造地球卫星发射成功



全球首个智慧体育场馆：“冰丝带”

得分	评卷人

24. (6分) 阅读下列材料, 回答问题。

材料一: 当英、法两国工业蓬勃发展的时候, 德意志民族仍处于分崩离析之中。长期的分裂局面使得德意志民族无法作为整体来追求国家现代化, 因此远远落在英、法等国后面……1870年后, 旧的容克地主贵族通过对外战争实现国家统一, 并掌握了现代化领导权……到19世纪后期, 在德国高等教育结构中, 商业高等学校和技术高等学校不断涌现, 这些高校通常针对社会现实需要来设置相应的系科。

——摘编自刘雄《大国崛起的产业政策及其特征》

材料二: 1922年, 法国国防部长马奇诺说: “要追念那些伟大的逝者, 再没有比这里更好的地方了……德意志帝国在这片具有历史意义的空地上吞下败果。”

——摘编自江天岳《贡比涅森林“停战空地”历史文化聚落的形成及其意义》

材料三: 20世纪50年代, “停战车厢”重回贡比涅森林, 两国民众面对过往时, 愈发呈现出一种平和、包容、理性的态度。2018年11月10日下午, 法国总统与德国总理在贡比涅“停战车厢”前共同参加一战停战百年的纪念活动, 携手跨越历史恩怨, 开创了合作的新篇。

——摘编自江天岳《贡比涅森林“停战空地”历史文化聚落的形成及其意义》

(1) 据材料一, 指出影响德国发展的主要因素, 并概括推动近代德国崛起的因素。(3分)

(2) 材料二中马奇诺所说德意志帝国“吞下败果”指的是什么?据材料三并结合时代背景,分析法德两国“开创了合作的新篇”的历史影响。(2分)

(3) 综合上述材料,谈谈你对大国崛起的认识。(1分)

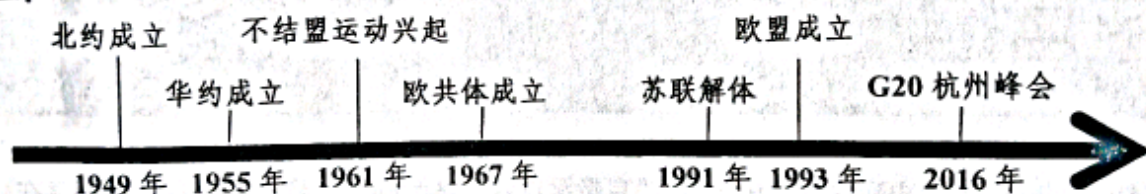
得分	评卷人

25. (6分) 阅读下列材料, 回答问题。

材料一: 1914—1918年第一次世界大战后形成的凡尔赛—华盛顿体系, 是战胜国为分赃和维护既得利益而构建的国际体系。二战结束后形成了雅尔塔体系, 它虽然维持了战后基本稳定的世界格局, 但充斥着大国称霸、大国支配小国、强国支配弱国的霸权主义。以美苏为首的两大阵营的“冷战”, 导致了两极格局的形成。

——摘编自于沛《国际格局演变中的世界大变局》

材料二:



(1) 据材料一并结合所学知识, 归纳两次世界大战后所形成的两个世界格局的异同点。(3分)

(2) 据材料二, 指出 20 世纪下半叶国际政治格局的发展趋势, 任选一个事件说明该事件与这一趋势的关系。(2分)

(3) 中国为顺应上述趋势作出了怎样的努力? 请举出相关史实。(1分)