


# 历史试题（开卷）


**注意事项：**本试卷分试题卷和答题卡两部分。考生应首先阅读答题卷上的文字信息，然后在答题卡上作答，在试题卷上作答无效，交卷时只交答题卡。

## 一、选择题（共 20 小题，20 分）

1. 以下图片所反映的共同主题是（ ）



开封铁塔



登封观星台



洛阳老君山金顶道观群

- A. 老家河南，民族起源  
B. 神秘中原，宗教圣地  
C. 礼乐河南，文明之源  
D. 多彩河南，文化荟萃
2. 下列历史人物中，在治国方面主张“仁政”的思想家是（ ）  
A. 孔子  
B. 孟子  
C. 庄子  
D. 韩非子
3. 任继愈先生曾说：“如果没有一种通行的文字，中央政令不能通行全国，中国将分成多个国家……我国是多民族统一的大国……我们这个综合国力来自多民族的统一大国，汉字是不可缺少的联系纽带。”这反映了（ ）  
A. 汉字是传达政令的唯一途径  
B. 汉字是综合国力提升的重要因素  
C. 汉字推动统一多民族国家的发展  
D. 汉字是我国所有民族的文字
4. 2022 年亮相中央广播电视总台春节联欢晚会舞台的青铜大面具是三星堆文化典型器物，让人们领略了中国古代青铜文明的绚烂多彩。青铜文明主要反映的是我国（ ）  
A. 原始社会居民的生活  
B. 春秋战国时期的纷争  
C. 商周时期的文明成就  
D. 秦汉时期的统一局面
5. 《齐民要术》记载，胡人在烹饪牛羊肉时都加入了米面；胡人喜食的酪浆、甜乳、酸乳、干酪等各种乳制品也逐渐在汉人中普及。这体现了（ ）  
A. 胡人擅长农业耕作  
B. 汉人开始发展畜牧业  
C. 胡汉之间的民族交融  
D. 《齐民要术》是一部饮食书
6. 有学者认为，“它（科举制）是唯一没有被动摇过基础的制度，是在权威一再崩溃和颠覆中唯一能维持全面而广泛影响的制度”，“中国竞争性文士考试制度是该国特有的制度，并持续了一千多年”。材料表明科举制（ ）  
A. 有利于选拔人才  
B. 有利于加强中央集权  
C. 可以推动教育发展  
D. 在历史上影响广泛而持久
7. （宋高宗说）市舶之利最厚，若措置合宜，所得动以百万计，岂不胜取之于



民？朕所以留意于此，庶几可以少宽民力耳。宋代发展海外贸易是为了（ ）

- A. 减轻人民负担 B. 增加财政收入 C. 扩大对外交往 D. 促进民族融合

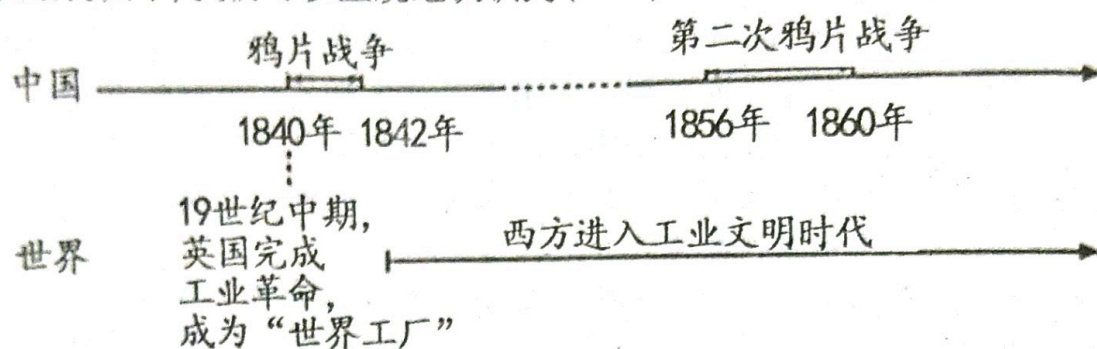
8. 在行省制度下五岭地区被纵向切开，以江西、广东合为江西行省，湘、鄂、桂并入湖广行省。分设治所于南昌、武昌。于是五岭不复为凭险割据的条件，又呈以北制南之势。可见这一制度着眼点是（ ）

- A. 顺应山川之势 B. 遏制地方割据 C. 发展南方经济 D. 推进民族交融

9. “（他）把明朝的铁锚抛扎在诸洋沿岸的港湾，奉行‘以德睦邻’政策，肩负‘与天下共享太平之福’的重任。下列关于‘他’的这一事迹表述正确的是（ ）

- A. 为海上丝绸之路的开通奠定基础 B. 加强了中国与亚欧各国的友好往来  
C. 发生在明朝后期 D. 体现了明朝的对外友好交往

10. 从结构图中，我们可以直观地认识到（ ）



- A. 虎门销烟是英国发动鸦片战争的根本原因  
B. 中国一步步陷入半殖民地半封建社会的深渊  
C. 英国工业革命后开启了对中国资源的掠夺  
D. 19世纪中期的中国与西方存在巨大的差距

11. 《中华民国临时约法》规定：“中华民国的主权属于全体国民：国民不分种族、阶级、宗教信仰，一律平等；国民有人身、居住、言论、出版、集会、结社、宗教信仰等自由的权利”这说明，中华民国的立国原则是（ ）

- A. 独立富强 B. 民主、平等、自由 C. 分权制衡 D. 民族、民权、民生

12. 五四运动不仅有青年学生的参与，广大工人、商人、教师、市民都积极主动地参与其中，相互呼应，取得了运动的初步胜利。这说明五四运动的胜利是由于（ ）

- A. 爱国学生发挥先锋作用 B. 取得了斗争的彻底胜利  
C. 各阶层人民的广泛参与 D. 工人阶级登上政治舞台


13. “通州之设纱厂，为通州民生计，亦即为中国利源计。”（张謇《大生纱厂约》）从材料能够得出的主要结论是（ ）

- A. 中国民族工业集中于轻工业  
B. 实业救国思潮推动了民族工业发展  
C. 实业家是民族工业发展的重要因素  
D. 民族工业在官僚资本主义的压迫下艰难发展

14. 1953—1956年，全国工业总产值平均每年递增19.6%，农业总产值平均每年递增4.8%，重要经济部门之间比例协调，市场繁荣，物价稳定，人民生活得到改善。这说明当时（ ）



- A. 我国摘下了农业大国的帽子  
C. “一五计划”以改善民生为重点  
15. 下列图片共同体现了( )
- B. 生产力发展与生产关系变革相适应  
D. 社会主义公有制加速“一五计划”实施



《人民日报》号外：中国第一颗原子弹爆炸成功



中华人民共和国成立70周年阅兵上东风-5B核导弹方队压轴出场

- A. 改革开放，科技强军  
C. 多元兵种，装备先进
- B. 钢铁国防，振奋人心  
D. 优化结构，铸就军魂
16. 中世纪早期的教会不仅收集、翻译古代希腊、罗马时期的作品，编写史籍，还直接创办学堂，据此可知，当时( )
- A. 西欧经济的发展促使基督教主动革新  
B. 欧洲的科技文化成就显著  
C. 基督教对西欧文化起到一定的传承作用  
D. 西欧的大学的广泛兴起
17. 人不是生来虚度光阴的，而是应当积极创造丰功伟业。与材料反映思想一致的人物是( )
- A. 莎士比亚      B. 克伦威尔      C. 伏尔泰      D. 马克思
18. 1774-1781年间，瓦特分别申请了“分离式冷凝蒸汽发动机”和新型号“旋柄齿轮转动”的技术专利，这些技术给莫兹利发明的“螺丝切削”机床提供了持久和稳定的新动力，使得批量生产机器零件具备了可能性。这反映了( )
- A. 动力革命推动工业革命的发展      B. 专利制度开启了工业革命的进程  
C. 机器零件生产是工业革命的主流      D. 新能源的使用催生新技术的出现
19. 21世纪初，一些发展中国家相继被认为是未来新兴市场及投资焦点所在地，这些国家的国名的英文首字母组合形成了“金砖四国(BRICS)”“展望五国(VISTA)”“灵猫六国(CIVETS)”等新词汇。这一现象反映出( )
- A. 多极化趋势的日益加强      B. 经济全球化的趋势受挫  
C. 全球化的主导国已转移      D. 贸易保护主义重新抬头
20. 截止2021年5月10日，全球新冠肺炎累计确诊病例超过1.5亿例，累计死亡病例超过330万例。除疫情以外，环境污染、资源耗竭、人口问题、粮食问题等全球问题导致人类陷入困境。要解决人类面临的这些全球问题，应该( )
- A. 减缓发展速度      B. 优先发展农业      C. 转向海外投资      D. 加强国际合作

## 二、非选择题(共5小题，30分)

21. (6分) 中国人自古以来就有一种盛世情结，历史上也确实出现过多次盛世。



## 材料一



李四民打天下时的坐骑之一——飒露紫

太宗励精为理，至八年、九年，频至丰稔，米斗四五钱，马牛布野，外户动辄数月不闭。至十五年，米每斗值二钱。

——杜佑《通典》卷七

忆昔开元全盛日，小邑犹藏成家室。稻米流脂粟米白，公私仓廩俱丰实。

——杜甫《忆昔》

材料二 它是在一个相对封闭体系中发展而来的盛世。纵向比较，康乾盛世创造了中国政治、经济实力的空前高峰……建立起一个版图空前广大而且稳定的大一统帝国……但不幸的是，从横向比较，它却与当时世界最先进文明之间的差距越拉越大。康乾盛世是中国传统帝制的最后一抹斜阳，最后一首挽歌，只是已经走到了尽头。

(1) 材料一反映了我国最鼎盛时期，据材料指出这一时期出现的两个盛世。(2分)

(2) 据材料二，一种观点认为“康乾盛世”是“古代盛世的顶峰”；另一种观点认为“康乾盛世”是“落日余晖”。请选择其中一种观点，根据材料并结合所学知识说明理由。(至少两点)(2分)

(3) 综合上述内容，你认为盛世局面出现应具备哪些条件？(2分)

## 22. (7分) 阅读下列材料，回答问题。

### 材料一 李鸿章的“创业清单”

1879年	中国第一条电报线
1880年	中国第一个船坞——天津大沽船坞
1881年	中国第一家近代化煤矿——开平矿务局
1882年	中国第一个海军基地
1885年	中国第一所陆军军官学校——天津武备学堂
1888年	中国第一支近代化舰队——北洋舰队

材料二 就今日而言，建设工业，实为要图，即以纺织一业而论，吾国人口四百万万，只有纱锭二百万枚，较诸欧美各国人口与纱锭之比例，我国现有之纱锭，实不能供国民之需求；唯其如此，是以他国在吾国设厂，以遂其经济侵略之野心，而使我纺织业受重大之打击。纱布为人生必需之品，乃至仰给他人，痛心之事，无逾于此。

——荣宗敬《振兴实业发展经济以惠民生计划》



材料三 民生实业股份公司主要事迹表（1926—1947 年）

年份	事迹
1926 年	卢作孚创办民生实业股份公司
1927—1936 年	民生实业股份公司在竞争中挤垮了美商的捷江公司，并迫使怡和太古等外国公司退出川江，基本垄断了川江航运。
1938 年 10 月	武汉失守后，面对恶劣形势，民生公司与各界民众一起合力，以长江航运史前所未有的意志与力量的拼搏艰难前行，经过 40 天抢运，奇迹般地运完了滞留在宜昌的全部人员及三分之二的机器设备及物质抵川。这次“宜昌大撤退”被誉为“中国实业上的敦刻尔克撤退”。据统计，民生轮船公司的船只被日军飞机炸沉了 9 艘，严重损毁 7 艘，共有 117 名船员牺牲，76 人伤残，民生轮船公司付出惨重的代价，抢运出来的钢铁厂、兵工厂和纺织厂相继在长江上游的大后方建立起来，在接下来的持久抗战中发挥了至关重要的作用。
1945 年	卢作孚赴美国参加国际通商会议，提出维护我国航运利益的三条议案，获得大会一致通过。
1947 年	组成了“太平洋轮船公司”，航运于东南亚及日本。

（1）根据材料一，从清单中归纳出李鸿章的创业活动主要集中在哪两个方面。（2 分）

（2）材料二中，“他国在吾国设厂，以遂其经济侵略之野心”指的是什么？（1 分）荣宗敬投资实业的基本出发点是什么？（1 分）

（3）根据材料三，分析“中国实业上的敦刻尔克撤退”的时代背景。（1 分）指出民生实业股份公司 1945 年主要活动的作用。（1 分）

（4）综合以上材料及探究，谈谈你对近代中国民族工业发展的认识。（1 分）  
23.（6 分）阅读下列材料，回答问题。

材料一 1980 年我国首次参加冬奥会，当时的中国冰雪运动装备还十分匮乏。精明的日本公司为代表团提供了服装赞助，但他们的装备比较适合雪上项目，参加冰上项目比赛的选手没有合适的比赛装备，只能穿自己平时的训练服或秋裤比赛。单兆鉴回忆，“秋裤不防风、不防水，就是有保暖作用”。

材料二 中国科研团队打破了比赛服依赖进口的状态，实现了超世界水平的“中国造”。科研团队为 400 多名国家运动员进行了三维测量，追踪运动员的动作，细化研究运动员的皮肤伸展规律，进而精细化设计比赛服的结构，最大程度符合运动员的动作规律。国家体育总局在 2020 年建成两大两小体育风洞，冬奥赛服所用的所有面料和设计都要提前进行风洞测试，在风洞里吹过 900 个小时，110 件不同款式，逐步确定各速度类项目的比赛服减阻设计，并运用自主研发的炽热科技和防水透湿科技。

——摘编自李亚静《护航北京 2022 冬奥会，展现中国纺织产业时代精神》

（1）据材料一、二，指出我国运动员从 1980 年到 2022 年的冬奥会参赛服装发生了哪些变化？（2 分）



(2) 据材料二和所学知识, 指出中国冬奥会运动员服装发生变化的主要原因。(3分)

(3) 综上所述, 你认为 2022 年北京冬季奥运会充分印证了哪些理念。(1分)

24. (6分) 阅读下列材料, 回答问题。

材料一 有学者认为: 17 世纪末的英国, 既实现了“地上(指社会)的平衡”, 又建立起“宇宙体系平衡”。有了对“地上的平衡”的信心, 才推动人们去研究、认识宇宙中的平衡体系。

材料二 英国, 这个地处边缘的小国, 却在历史性的转变中抢占了先机, 已经率先到达现代文明的入口处, 即将一步步稳健地走向世界的中心。在下两个世纪里, 它将傲视全球。

——纪录片《大国崛起》解说词

材料三 法国大革命比其他同时代的革命重大得多, 而且它所产生的后果也要深远得多……在它先后发生的所有革命中, 唯有它是真正的群众性社会革命, 并且比任何一次类似的大剧变都要激进得多。

——摘自唐晋主编《大国崛起》

(1) 材料一中“地上的平衡”指的是什么? 据材料一和材料二概括它对英国社会产生了哪些影响?(3分)

(2) 据材料三, 结合史实说明“它是真正的群众性社会革命。”(2分)

(3) 综上所述材料和探究, 我们可以从中汲取哪些历史智慧?(1分)

25. (5分) 请对比下面图片反映的历史信息, 并结合所学知识, 写一篇 80—120 字的小短文。(要求: 题目自拟, 史实正确, 语句通顺, 表述完整, 体现两幅图片反映内容的比较)



三国协约与三国同盟示意图



欧洲共同体成员示意图