

南召县初中第一次模拟考试历史试卷


注意事项:

1. 本试卷共 6 页, 分为选择题和非选择题, 满分 50 分, 考试时间 50 分钟。
2. 开卷考试, 可查阅参考资料, 但应独立答题, 禁止交流资料。
3. 本试卷上不要答题, 请按答题卡上注意事项的要求直接把答案填写在答题卡上。答在试卷上的答案无效。

选择题 (共 20 小题, 20 分)

下列每小题列出的四个选项中, 只有一项是最符合题目要求的。请将正确选项的英文字母代号涂写在答题卡相应位置上。

1. 下列图片内容共同反映了 ()



河南新郑出土的裴李岗文化石镰



河南舞阳贾湖遗址中发现的“野大豆”



河南辉县出土的战国铁犁

- A. 原始农业, 文明初现
 - B. 长江流域, 农耕之源
 - C. 中原农耕, 悠久辉煌
 - D. 铁犁牛耕, 社会变革
2. “祸兮福之所倚; 福兮祸之所伏”“天下万物生于有, 有生于无”。这些话体现的思想源自 ()
- A. 《道德经》
 - B. 《论语》
 - C. 《墨子》
 - D. 《韩非子》
3. 西汉初年和唐朝初年, 吸取农民起义的教训, 轻徭薄赋, 分别出现文景之治与贞观之治的局面。这说明 ()
- A. 我国封建社会进入繁荣时期
 - B. 阶级斗争是历史发展的推动力
 - C. 杰出的皇帝是历史的创造者
 - D. 我国古代社会以农为本
4. 《伤寒杂病论》中写道: “若人能养慎, 不令邪风干忤经络。”这体现了作者重视 ()
- A. 养生防病
 - B. 辨证施治
 - C. 考证药理
 - D. 五禽戏的作用
5. 隋朝大运河是在已有的天然河道和古运河基础上开凿的。它利用了黄河南北水流的自然地形趋势, 贯通了不同水系之间的水路交通, 成为连接富庶地区与国都的纽带。这反映了大运河 ()
- A. 结束了南北朝的分裂
 - B. 是世界上最长的运河
 - C. 加速了隋王朝的灭亡
 - D. 体现了古人的创造力
6. 英国著名学者李约瑟博士曾说: “每当人们在中国文献中查找任何一个具体的科技史料时, 往往会发现它的主要焦点就在宋代。”下列能佐证此观点的是 ()
- A. 造纸术的发明和改进
 - B. 活字印刷术的发明
 - C. 火药开始运用于军事
 - D. 司南的发明和使用
7. 下表是古代帝王的治国措施, 他们这样做的共同目的是 ()

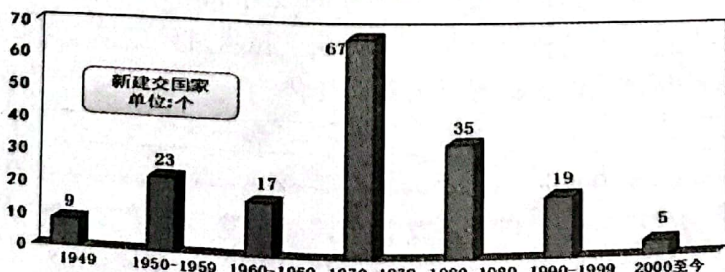


古代帝王	采取措施
秦始皇	废分封设郡县
汉武帝	罢黜百家，尊崇儒术
隋文帝	通过考试选拔人才
明太祖	废丞相，设三司
清雍正帝	设立军机处

- A. 推进政治经济改革
B. 严密控制知识分子
C. 保证国家长治久安
D. 杜绝官员贪污腐败
8. 如果没有太平天国运动，曾国藩、左宗棠、李鸿章等人绝不可能成为清廷的中流砥柱。这体现了太平天国运动（ ）
A. 打击了外国列强侵略
B. 阻止了殖民化的进程
C. 促成了辛亥革命发生
D. 客观上推动洋务运动的兴起
9. 陈旭麓先生说：“辛亥革命之后的巨大希望，同民国初年的中国社会的黑暗产生了巨大的落差，巨大的落差就产生了巨大的浪潮。”这“巨大的浪潮”（ ）
A. 推翻了两千多年的封建帝制
B. 促进了国人思想的空前解放
C. 标志着新民主主义革命的开端
D. 推动了国民革命运动的爆发
10. “暗夜南湖亮斗星，燎原烈火向天明。征程二万经风雨，宝塔擎旗进北京。”其中“燎原烈火向天明”指的是（ ）
A. 南昌起义爆发
B. 工农红军长征
C. 开辟井冈山道路
D. 中国共产党诞生
11. 据《盛京时报》（日本在华创办）报道：18日午后，北大营西方，突然有中国正规军，依将校指挥之下，炸毁南满铁路，并向日本守备巡逻兵一齐开枪攻击……”该报道（ ）
A. 揭露了日本法西斯的罪行
B. 歪曲了历史事实
C. 反映了日本全面侵华战争开始
D. 表现了中国人民抗战的英雄气概
12. 下面图片反映了民国时期生活方式变化的特点是（ ）



- A. 全面西化
B. 不平衡性
C. 崇洋逐新
D. 新旧并呈
13. 《中国共产党简史》一书中称此事件为“新中国成立以来党的历史上具有深远意义的伟大转折”。下列史实可以作为此“转折”主要依据的是（ ）
A. 社会主义基本制度建成
B. 提出建设中国特色社会主义
C. 实行改革开放的历史性决策
D. 邓小平理论确立为指导思想
14. 下图是1949年至今我国新建交国家数目统计图，据此可以得出的结论是（ ）



- 杨奎松《冷战时期的中国对外关系》
- A. 六十年全方位外交成就辉煌
B. 新中国外交从孤立走向强盛
C. 冷战时期的外交活动多于冷战以后
D. 中日建交起到决定性影响



15. 古埃及人因经常测量被尼罗河定期泛滥冲毁田亩的面积的需要,催生了古埃及的数学与几何学。这反映了古埃及()

- A. 是世界上最先进文明
- B. 农业经济促进文明产生
- C. 奠定了西方文明基础
- D. 经济发展的水平较高

16. 查士丁尼在法典中并没有废除垂死的奴隶制度,但是赞成“释奴的善举”,并且一律给予完全的自由和公民资格。这反映了《罗马民法大全》()

- A. 保护了私有财产
- B. 实现了自由平等
- C. 强调了君主权力
- D. 改善了奴隶地位


17. “文艺复兴时代……偶像破坏矣。而代之以无数之新头脑,奔逸驰放,各极其致,真蝉蜕时代之大观也。”这体现了文艺复兴时期()

- A. 古典文化复兴
- B. 自然科学产生
- C. 个性得到解放
- D. 资本主义发展


18. 美国的创新在于,它建立了这样一个政府,它分权但不分裂,制衡却不执衡,它使真正意义上的美国诞生了。这里“美国诞生”指的是()

- A. 《独立宣言》发表
- B. 1787 年宪法颁布
- C. 约克镇战役胜利
- D. 英国承认美国独立

19. 下面两幅图片反映事件的影响是()



阿芙乐尔号巡洋舰



攻占冬宫

- A. 马克思主义从理论开始实践
- B. 巩固了苏维埃社会主义共和国联盟
- C. 马克思主义从理论变成现实
- D. 标志着马克思主义思想的正式诞生

20. 它是 19 世纪伟大的作品,使我们能够更直接、更准确地了解俄罗斯人民的性格和气质,以及整个俄罗斯的生活。这部作品应是()

- A. 《高老头》
- B. 《哈姆雷特》
- C. 《解放黑人奴隶宣言》
- D. 《战争与和平》

非选择题(共 5 小题, 30 分)

21. (6 分) 阅读下列材料, 回答问题。

材料一 宋代,蹴鞠除了是皇室庆典的表演项目之外,也是很受欢迎的民间体育项目。热爱踢球的宋代人还组织成立了世界上最早的民间蹴鞠俱乐部——“齐云社”, 又称“圆社”。古籍《事林广记》中收录了《齐云社规》, 即蹴鞠俱乐部守则, 里面还有“狂风起不踢”“酒后不可踢”等关于踢球的严格规定。加入圆社, 不是球技高超, 而是道德品质优良、讲义气。



南阳汉画像石中的蹴鞠图

材料二 在古希腊各城邦的考古发掘中, 有大量绘制着各种运动竞技项目的陶制器具……最初, 奥运会运动员的选拔只面向贵族阶级开放。然而, 由于体育教育在古希腊的普及, 从公元前 5 世纪开始, 越来越多的平民进入选拔并参与竞赛。古希腊社会推崇身体之美, 因此十分重视体能与体型的训练。



有“赛跑”图案的古希腊陶瓶

(1) 依据材料一、二, 概括指出中西方体育活动各自的特点。



结合所学知识，说明这两件文物有何共同的历史研究价值。（4分）

(2) 综合上述探究，谈谈你对东西方体育文化的认识。（2分）

22. (6分) 阅读下列材料，回答问题。

材料一 19世纪八、九十年代，王韬、郑观应、薛福成等早期维新派知识分子对西方的议会制度做了不同程度的介绍，并强调中国也应该设议院，选举议员。甲午中日战争后，梁启超发表了一系列政治论文，主张中国之兴在于兴民权、开议院，并进一步指出君、臣都是为民办事者，民权代替君权是历史发展的必然趋势。

——摘编自雷颐《面对现代性挑战：清王朝的应对》

材料二 戊戌变法大事记

时间	史实
1895年4月	公车上书
1895年8月	强学会成立
1896年8月	《时务报》在上海创刊
1897年10月	《国闻报》在天津创刊
1898年4月	保国会成立
1898年6月	光绪帝颁布“明定国是”诏书
1898年9月	慈禧太后发动戊戌政变

(1) 依据材料一，概括戊戌变法的背景。（2分）

(2) 依据材料二，概括维新派为救亡图存做了哪些方面的努力。（2分）

(3) 综上所述，谈谈你对近代化探索的认识。（2分）



23. (6分) 阅读下列材料, 回答问题。

材料一 三十几年的经验教训告诉我们, 关起门来搞建设是不行的。发展经济, 不开放是很难搞起来的。世界各国的经济发展都要搞开放, 西方国家在资金和技术上就是互相融合、交流的。

——摘编自《邓小平文选》

材料二



中国加入世界贸易组织签字仪式



亚洲基础设施投资行开业仪式

材料三 40年来, 我们始终坚持以经济建设为中心, 不断解放和发展社会生产力, 我国国内生产总值由3 679亿元增长到2017年的82.7万亿元。我国国内生产总值占世界生产总值的比重由改革开放之初的1.8%上升到15.2%, 多年来对世界经济的增长贡献率超过30%。

——习近平《在庆祝改革开放40周年大会上的讲话》

(1) 依据材料一, 概括我国对外政策的变化。(2分)

(2) 依据材料二、三, 概括我国对外政策的变化带来的影响。(3分)

(3) 综上所述, 改革开放40多年来我们积累了哪些有益的经验?(1分)

24. (6分) 阅读下列材料, 回答问题。

材料一 长期以来, 波旁王朝为巩固其封建统治, 不断利用政权和宗教的力量宣传“帝就是国家”“帝就是法律”以及君权神授等思想, 攻击一切主张从事工商业活动的思想和言论。资产阶级为了批判这些封建思想意识形态, 在18世纪进行了一场思想启蒙运动。同时, 由于宫廷挥霍无度, 以及不断的对外战争, 使得国库空虚, 造成财政危机。国王路易十六几次企图通过征税的财政改革来摆脱危机, 但都以失败而告终。

——摘编自于群、董小川《世界史纲》

材料二 在法律的眼里, 一律平等的所有公民皆能按照他们的能力平等地担任一切公共官职、职位与职务, 除他们的德行和才能以外不受任何其他差别。财产是不可侵犯与神圣的权利, 除非合法认定的公共需要对它明白地提出要求, 同时基于公正和预先补偿的条件, 任何人的财产皆不可受到剥夺。

——摘编自《人权宣言》



材料三 波拿巴像一切开明专制君主那样将法律编纂成典，共编成五部法典，即《民法典》《民事诉讼法典》《刑事诉讼法典》《商法典》和《刑法典》。这些法典使法国在法律上和司法上统一起来。它们保障法律平等，所有法国公民拥有同样的公民权利。法典系统地阐述了新的财产法，还提出了契约、债务、借贷、股份公司以及类似事务的法律，建立起私人企业经济的法律框架。

——摘编自 R.R.帕尔默《现代世界史》

(1) 依据材料一，概括法国当时面临的社会问题。(2 分)

(2) 依据材料二、三，概括这些问题是如何解决的。结合所学知识，指出这两则材料有何内在联系。(3 分)

(3) 综上所述材料及回答，你对西方近代文明的崛起有了哪些认识？(1 分)

25. (6 分) 阅读下面材料，从中提炼一个观点，并结合相关史实予以说明，写一篇 80—120 字的小短文。(要求：题目自拟，观点明确；至少用到两例史实说明，且史实正确，史论结合；语句通顺，表述完整)

冷战结束后，随着世界多极化趋势的发展，建立国际政治经济新秩序，成为大多数国家的要求。各国致力于增强经济实力，在新的世界格局中占有利地位。中国作为最大的发展中国家，反对各种形式的霸权主义和强权政治，积极发展全球伙伴关系，扩大同各国的利益交汇点，推进大国协调和合作，构建人类命运共同体，建设和平安全、开放包容、清洁美丽的世界。同时，中国还积极推动全球治理变革，为解决人类问题贡献中国智慧和方案。

——摘编自统编版义务教育教科书《世界历史》九年级下册

