

2022 年初中毕业年级第一次模拟考试试卷

历史（开卷）

注意事项：

- 1. 本试卷共 6 页,分为选择题和非选择题,满分 50 分,考试时间 50 分钟。请用铅笔把正确选项的英文字母代号涂在答题卡相应的位置。
- 2. 开卷考试,可查阅参考资料,但应独立答题,禁止交流资料。
- 3. 答卷前将答题卡上的项目填涂清楚。

第 I 卷 选择题（共 20 分）

选择题（本大题共 20 小题，每小题 1 分，共 20 分）

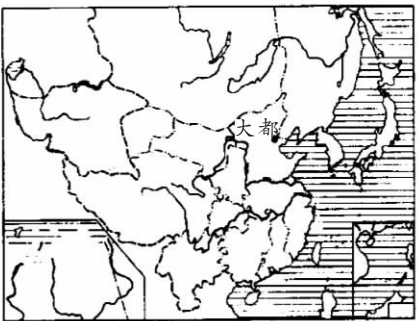
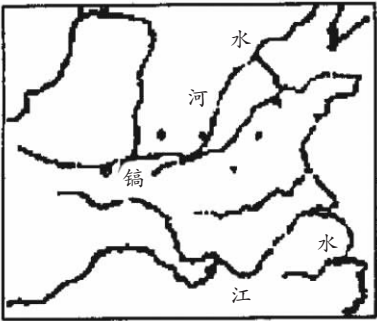
下列每小题列出的四个选项中，只有一项是最符合题目要求的。请将正确选项的英文字母代号涂写在答题卡的相应位置上。

- 1. 下面是上海一个古文化遗址出土的部分文物。根据下面信息推断此地文化特点具有

		
箭镞等小型青铜器件	类似山东岳石文化的蘑菇形陶器盖	带有南方印纹传的陶器残片

- A. 封闭性
- B. 原创性
- C. 商业性
- D. 开放性
- 2. 战国时期“天下”成为流行语汇。孟子说：“仁者无敌于天下”，墨子说：“一同天下”，庄子也说：“一心定而王天下”，韩非说：“令行禁止于天下”。这反映出当时
- A. 各家思想日益趋同
- B. 儒学思想影响扩大
- C. 统一观念已经孕育
- D. 中央集权观念出现
- 3. 《后汉书》《宦者列传》记载：“伦乃造意，用树肤、麻头及敝布、渔网以为纸。元兴元年奏上之，帝善其能，自是莫不从用焉，故天下都称蔡侯纸。”此材料可证明
- A. 造纸术起源于中国
- B. 蔡伦改进了造纸技术
- C. 纸的制造工艺复杂
- D. 纸的发明对世界影响

- 4. 下图所示的两个王朝，实行的地方行政制度分别是



- A. 分封制和郡县制
- B. 分封制和集权制
- C. 分封制和行省制
- D. 郡县制和行省制
- 5. 解释是历史的生命血液，没有解释就没有历史。下图是出土于甘肃嘉峪关的魏晋时期的墓砖壁西“犁耕图”，下列对该出土文物信息解释正确的是



- A. 展现了该地区当时农业生产的场景
- B. 体现了当时游牧民族生活情况
- C. 是我国开始出现牛耕的历史证明
- D. 说明当时民族融合趋势不断加强
- 6. 南宋诗人陆游临终前写下的《示儿》：“死去原知万事空，但悲不见九州同。王师北定中原日，家祭无忘告乃翁。”当时在中原建立的政权是
- A. 西夏
- B. 辽
- C. 金
- D. 元
- 7. 今天我们数学课本中的平行线、三角形、平行四边形等术语的出现，应该归功于为下列哪两个人的贡献

- A. 徐光启与利玛窦
- B. 毕昇与马可·波罗
- C. 徐光启与祖冲之
- D. 沈括与马可·波罗

- 8. “中国文武制度，事事远出西人之上，独火器万不能及”。这种观点当时出现的直接原因主要是

- A. 清朝实行闭关锁国的政策
- B. 汲取两次鸦片战争的教训
- C. 总结了中日甲午战争的教训
- D. 清朝官员盲目自大排外

- 9. 20 世纪初，梁启超倡议“为全体国民写史，写全体国民的历史”，由此掀起了“史界革命”。梁启超提出这一主张主要是由于

- A. 新文化运动的发生
- B. 工人阶级登上历史舞台
- C. 俄国十月革命的影响
- D. 中国近代社会的转型

- 10. 1917 年《新青年》发表了胡适的诗：“两个黄蝴蝶，双双飞上天。不知为什么，一个忽飞还，剩下那一个，孤单怪可怜。也无心上天，天上太孤单。”该诗

- A. 具有明显的反封建斗争精神
- B. 否定了传统的道德观念
- C. 宣传了民主科学的思想理念
- D. 体现了文学革命的成果

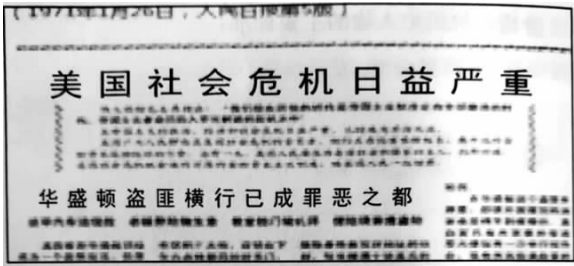
- 11. 1935 年，南京国民政府指示：“凡各兵工厂尚未装成之机器，应暂停止，尽量改运川黔两地，并不露形迹。”这一指示在当时

- A. 是为了进一步围剿红军
- B. 是国民党消极抗日的表现
- C. 是为了反侵略战争做准备
- D. 促进了民族工业的发展

- 12. 1953 年，《人民日报》出现了 12 次“共同富裕”，主要集中在“向农民宣传总路线”专栏，鼓励“大家联合起来，用大规模生产和新的农具、农业机器，使大家能够共同富裕”。对这种现象解释正确的是

- A. 是人民公社化运动的成果
- B. 目的是支援抗美援朝战争
- C. 适应社会主义改造的需要
- D. 说明我国初步实现了工业化

- 13.下图是 1971 年 1 月 26 日，人民日报第五版的截图。该版的标题有《美国社会危机日益严重》《空气污染居民遭灾，污水四溢河流有毒》《吸毒之风甚盛行》等。这表明



- A. 我国对美国了解更加全面深入
- B. 新闻报道受意识形态的影响
- C. 美国工业化造成了严重的污染
- D. 中美关系由对抗开始走向缓和

- 14. 下表所示内容反映了我国

时间	20 世纪 70 年代	20 世纪 80 年代	20 世纪 90 年代
“三大件”	自行车、缝纫机、手表	电视机、电冰箱、洗衣机	手机、空调、汽车

- A. 经济快速发展
- B. 文化教育进步
- C. 国际地位提高
- D. 饮食结构优化

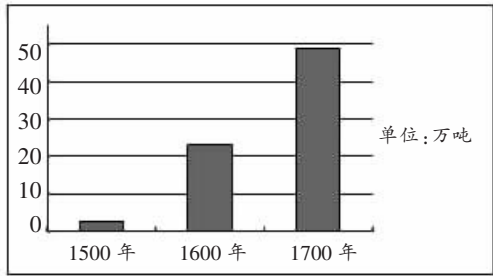
- 15. 古希腊的城邦一般以独立的城市为中心，向周围的乡村辐射；多数城邦的经济都以手工业和商业为主；人口从数万到数十万不等。由此可见，希腊城邦的特征是

- A. 中央集权
- B. 海外贸易
- C. 小国寡民
- D. 民主政治

- 16. “这个帝国对外抵抗亚洲游牧民族的入侵，对内直接或间接地保存了古典文化。其后它所形成的文化至今仍存留于俄罗斯、巴尔干半岛和希腊一带。”这个帝国是

- A. 西罗马帝国
- B. 拜占庭帝国
- C. 阿拉伯帝国
- D. 罗马帝国

17. “下图是美洲流入西欧的贵金属数量变化图。下面对图表信息解释正确的是



- A. 欧洲对美洲掠夺日趋加强
B. 促进了北美经济的飞速发展
C. 英国成为世界最大殖民国家
D. 工业革命加速了殖民扩张步伐

18. 2020 年美国大选，一个支持民主党候选人拜登的组织“林肯计划”，批评特朗普领导的不是美利坚“合”众国而是美利坚“分”众国。这个组织以“林肯”为名，旨在呼吁

- A. 自由
B. 民主
C. 解放
D. 团结

19. 右图是 1947 年画的一幅漫画（黄鼠狼给鸡拜年），它讽刺的是美国的

- A. 冷战政策
B. 杜鲁门主义
C. “北约”的建立
D. 马歇尔计划



20. 一篇论文中心词主要有“欧洲共同体的形成”、“日本成为世界经济大国”、“不结盟运动的兴起”和“苏联解体”。此论文研究的主题应该是

- A. 世界格局多极化的趋势
B. 美国霸权地位的衰落
C. 世界经济全球化的趋势
D. 二战后大国崛起历程

第Ⅱ卷 非选择题（共 30 分）

21.（6 分）《史记》和《历史》是东西方的两部史学巨著。阅读下列材料，结合所学回答问题

材料一 司马迁所著的《史记》，……是一部具有世界眼光，记叙当时中华民族所处的那个世界的历史。在《史记》中，司马迁记述了朝鲜、越南、印度以及中亚各国的历史。

材料二 学界认为，古希腊历史学家希罗多德（约公元前 484—425 年）是第一个具有“世界眼光”的史学家，所著《历史》是西方最早的一部“世界史”。……他笔下的世界，除希腊本土外，还包括西亚、北非、黑海沿岸、地中海沿岸、意大利等许多地方。

- （1）根据材料一二指出，司马迁和希罗多德作为历史学家所具有的共同品质是什么？（2 分）
- （2）根据材料一二中的信息概括说明《史记》和《历史》都是世界史的含义是什么？（2 分）
- （3）上述两位历史学家都生活在伟大的历史时代，请分别指出他们所处时代的政治形势特点？（2 分）

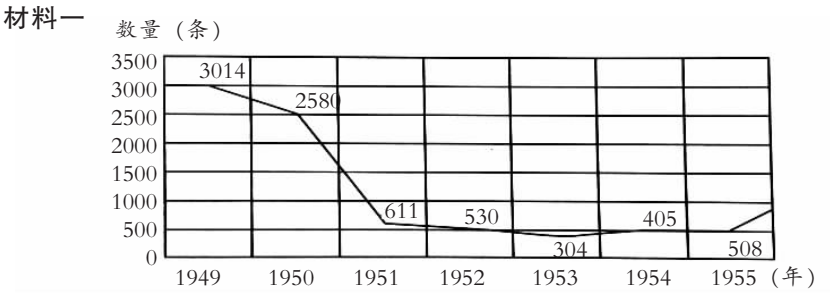
22.（6 分）画家沈嘉蔚 1988 年创作油画《北大钟声》（又名《宽容》《兼容并包》）共描绘了 16 位学人，众望所归的蔡元培被群像簇拥在画面的中心，这也是作者突出表现的重心所在。



油画《宽容》1988 年沈嘉蔚，中国历史博物馆收藏

- （1）这幅油画反映了我国近代史上哪一个历史事实？（2 分）
- （2）这幅油画作为史料反映了作者对该历史事件的什么思想情感。（2 分）
- （3）我们学习历史的时候，如果把一副油画作为史料的话，你认为应该注意什么？（2 分）

23.（6 分）阅读下列材料结合所学知识回答问题



材料二 “广告就是市场”意识在 70 年代末迅猛复苏。1978 年广州市机电局和红卫汽车工业公司等，自行组织员工绘制产品宣传画，悬挂在海珠广场产品展销会场内外。1980 年后工商广告红遍广东。“广交会”周边以及珠江岸的商业广告及公益广告成行成阵，一度被视为繁荣的风景区。《深圳特区报》1981 年 6 月试刊之始就刊出很多商业广告。

材料三 2011 年下半年，“微博卖土豆”成为网络热点话题。先后有陕西、内蒙古等地的农民通过微博发出求助信息，成功卖出了滞销的土豆。



- （1）根据材料一指出这一时期我国广告发布数量的总体趋势（2 分）
- （2）根据材料二并结合所学知识，指出 20 世纪 70 年代末以来广东广告行业迅猛发展

的原因。（2 分）

（3）材料三描述的新媒体广告出现的时代背景是什么？（2 分）

24.（6 分）阅读下列材料回答问题

20 世纪 30 年代美国，寒冷的冬天。茅草屋内灯光昏暗，外面狂风挟裹着漫天飞雪摇撼着整个小屋。蜷缩在墙角冻得瑟瑟发抖的孩子和妈妈的一段对话：

小孩：“妈咪天这么冷，咋不生火炉呢？”

妈妈：“因为咱家里没有煤。”

小孩：“咱家为啥不买煤呢？”

妈妈：“因为恁爸爸失业了，咱家没有钱”

小孩：“妈妈，俺爸爸为啥失业？”

妈妈：“因为煤生产的太多了”

- （1）这段对话说明 1929 年经济危机爆发的直接原因是什么？（2 分）
- （2）罗斯福“新政”过程中，小孩儿的爸爸重新找到工作，这主要得益于新政的哪一项措施？（2 分）
- （3）生产关系只有适应生产力发展才能促进生产力的发展。二战后面对生产力的巨大发展，请举一例说明西方资本主义国家如何调整生产关系以避免重现 1929 年经济危机的？（2 分）

25.（6 分）获取解读下列图片中的信息，写一篇 80—120 字的历史小论文（要求：题目自拟，观点明确，体现图片联系，紧扣图片反映的信息。运用史实正确，论证方法恰当，条理清晰，表述完整）

