

# 2021——2022 学年第二学期九年级二练历史试题

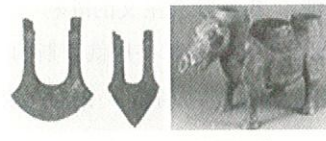
(考试时间: 70 分钟 满分: 100 分)

一、单项选择题: 共 25 道题, 每题 2 分, 共 50 分。在每题所列出的四个选项中, 只有一项是最符合题目要求的。

1. 实物史料和图片材料, 有助于我们认识历史的发展变化。观察下面图一、图二, 通过比较最能说明 ( )



图一 石斧和骨耜



图二 铁农具和牛尊

A. 建筑技术的发展 B. 冶铸工艺的提高 C. 战争武器的改进 D. 生产力不断进步

2. “商鞅之法, 良法也。变法之令出, 其法惩奸以保人民之权利, 务耕织以增进国民之富力, 尚军功以树国威”。材料涉及的改革措施是 ( )

A. 奖励耕战 B. 允许土地买卖 C. 推行县制 D. 统一度量衡

3. 构建历史知识结构体系是历史学习的重要方法, 而最佳的体系就是时代特征。下面是通过中国古代时间轴图建构的时空定位, 其中②的特征是 ( )



A. 统一多民族国家的建立和巩固 B. 政权分立和民族交融

C. 民族关系发展和社会变化 D. 繁荣与开放的时代

4. 人民群众是创造历史的主体, 他们在历史的长河中谱写了浓墨重彩的篇章。下面是小明同学整理的部分历史人物事迹, 你认为对应正确的是 ( )

A. 张骞——开通了汉代海上丝绸之路  
B. 北魏孝文帝——494 年迁都到长安, 推行汉化措施  
C. 戚继光——“封侯非我意, 但愿海波平”的诗句反映了他满腔的爱国情怀  
D. 洪秀全——领导了太平天国运动, 推翻了清朝的统治和打击了外国侵略势力

5. 2020 年, 美国国会众议院于当地时间 3 月 4 日通过了所谓的“台北法”, 严重挑战“一中”红线。下列能证明台湾自古以来就是中国固有领土的史实有 ( )

①元朝设宣政院管理台湾及澎湖地区 ②元朝设澎湖巡检司管理台湾及澎湖地区 ③郑成功收复台湾, 促进了台湾的开发 ④康熙年间, 设台湾府, 隶属福建省

A. ①②③ B. ①②④ C. ①③④ D. ②③④

6. 文物是历史的“活化石”。下列文物按所属朝代先后顺序排列正确的是 ( )



①半两钱

②殷墟甲骨

③京剧早期戏服

④三彩骆驼俑

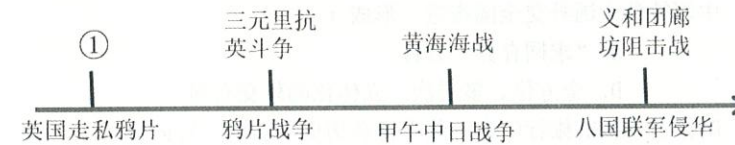
A. ①②③④

B. ②③④①

C. ②①④③

D. ①②④③

7. 下侧示意图中①处应填的是 ( )



A. 雅克萨之战 B. 林则徐虎门销烟 C. 《马关条约》签订 D. 筹建新式的海军

8. 对右图《中国近代民族工业发展示意图》解读正确的是 ( )

A. 中国近代民族工业起步时间较早 B. “一战”期间民族工业发展较快  
C. 抗战期间民族工业继续较快发展 D. 中国近代民族工业持续稳定发展

9. 新文化运动的倡导者一直为这场运动缺乏传统文化支撑、处于浮游漂离状态而苦恼, 五四运动令他们眼前豁然一亮, 找到了传统价值的立足点。这里的“立足点”是 ( )

A. 尊孔复古 B. 三民主义 C. 民主科学 D. 爱国主义

10. 在抗日战争中, 中国人民向世界展示了天下兴亡、匹夫有责的爱国情怀, 视死如归、宁死不屈的民族气节, 不畏强暴、血战到底的英雄气概。下列事件发生在这一时期并体现中国人民民族气节和英雄气概的是 ( )

①创作《义勇军进行曲》 ②黄海大战 ③台儿庄战役 ④百团大战 ⑤南京大屠杀

A. ①②③⑤ B. ①③④ C. ①③④⑤ D. ①②③④

11. 学校组织同学们参观某纪念馆。初至纪念馆, 映入眼帘的便是主馆两个斜指天空的“船首”, 大有一番乘风破浪, 一揽江河的豪迈魄力。走进主馆, 巨大的群雕“胜利之师”呈现在同学们的眼前。“百万大军勇, 蒋敌难阻攻。长江天堑梦, 今夜彻底崩”。该馆纪念的战役 ( )

A. 基本上消灭了国民党军队的主力军 B. 解放了长江中下游以北的广大地区  
C. 结束了国民党在大陆的统治 D. 解开了人民解放军战略进攻的序幕

12. 1956 年, 看到几亿农民走向了社会主义的道路, 毛泽东对人说, 我现在很高兴, 甚至比新中国成立还要高兴, 因为他觉得这件事情使中国的情况发生了一个“根本的变化”。这个变化指的是 ( )

A. 土地改革完成, 农民获得了土地, 成为了土地新主人  
B. 农民实行包干到户, 自负盈亏, 带来生产力的大解放  
C. 三大改造完成, 实现了向社会主义公有制的转变  
D. 全国掀起人民公社化的热潮

13. 《联合早报》指出: “新时期中国经济发展经历了三个阶段: 第一个阶段是对外开放, 让世界进入中国; 第二个阶段还是对外开放, 但中国开始走向世界; 第三个阶段依然是对外开放, 中国已经开始改变世界了。”其中, “中国开始走向世界”是指 ( )

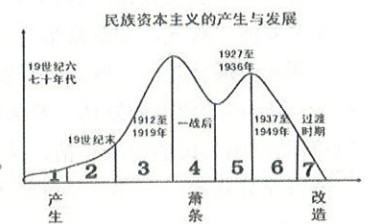
A. 中国恢复在联合国的合法席位 B. 深圳等经济特区的建立  
C. 中国加入世界贸易组织 D. 提出“一带一路”战略

14. 中国共产党人把马克思主义基本原理同中国具体实践结合起来, 从苏联模式走出来, 走出了中国特色社会主义道路, 使得中国特色社会主义取得举世瞩目的伟大成就, 创造了人类社会发展史上惊天动地的发展奇迹。其中马克思主义中国化的最新理论成果是 ( )

A. 毛泽东思想 B. 科学发展观  
C. 邓小平理论 D. 习近平新时代中国特色社会主义思想

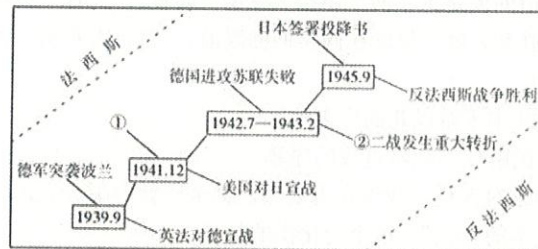
15. 邓小平说“港人治港”有个界线和标准, 就是必须由以爱国者为主体的港人来治理香港, 我们不要求他们都赞成中国的社会主义制度, 只要求他们爱祖国, 爱香港。”下列对这句话理解正确的是 ( )

A. 全体香港人都有治理香港的权利 B. 坚持“一国两制”的方针治理香港






- C. 坚持社会主义制度是治港的前提 D. 香港回归后只能由港人自己治理
16. 习近平总书记指出：“中国坚定不移走和平发展道路，始终是维护世界和平的坚定力量。”改革开放以来，我国继续奉行独立自主的和平外交政策，中国特色大国外交全面推进，形成（ ）
- A. 和平共处五项原则 B. “求同存异”方针  
C. 睦邻友好对外政策 D. 全方位、多层次、立体化的外交布局
17. 某公司为配合某中学学生研学旅行，制作了下面的旅行广告，其中符合历史事实的广告词是（ ）
- A. 沿着印度河而行，了解阿拉伯数字，领略金字塔的壮美  
B. 参观罗马历史博物馆，看狮身人面像，感叹海洋文明的魅力  
C. 在尼罗河岸观光，了解楔形文字，感受古代印度的风采  
D. 在两河流域驻足，了解《汉谟拉比法典》，感叹人类社会法制传统的源远流长
18. “由于商业贸易的发达，雅典的商税成为重要的财政来源，有了充足的国家财政，城邦才能利用工资和津贴调动贫困公民的参政热情，从而保证民主制度的持续发展。”这段材料主要说明雅典民主制度（ ）
- A. 值得充分肯定 B. 具有较大局限性 C. 拥有经济基础 D. 建立在农耕文明上
19. 历史事实指的是历史的客观存在，历史观点是对历史事实的主观理解。下列选项中属于历史事实的是（ ）
- A. 1804 年，贝多芬创作出《英雄交响曲》 B. 南北战争是美国历史上第二次资产阶级革命  
C. 日本明治维新以后走上了发展资本主义的道路 D. 巴黎和会的实质是一次分赃的会议
20. 下图展示了第二次世界大战的进程。其中的①②分别是指（ ）



- A. 凡尔登战役；诺曼底登陆 B. 雅尔塔会议召开；斯大林格勒战役  
C. 慕尼黑阴谋；诺曼底登陆 D. 日军偷袭珍珠港；斯大林格勒战役
21. 《后美国世纪》：近 500 年来发生过三次结构性的权力转变……第一次是西方世界（欧洲）的崛起，此转变始于 15 世纪，在 19 世纪急剧加速；第二次转变发生在 19 世纪末美国的崛起……20 世纪的全球经济、科技、文化和理念，大半时间由美国主导；我们目前正在经历的则是现代历史上的第三次权力转变，或可称为“群雄竞起”的时代。导致三次权力转变的因素分别是（ ）
- A. 新航路开辟—第二次科技革命—东欧剧变、苏联解体  
B. 第二次工业革命—美国南北战争—美日欧三足鼎立  
C. 资本主义民主制度的确立—第一次世界大战—第二次世界大战  
D. 英国、荷兰的殖民扩张—美国南北战争—两极格局彻底瓦解
22. 纵横比较是学习历史的重要方法之一。列宁实施的“新经济政策”与罗斯福“新政”的相同是（ ）
- A. 都使国家的社会性质发生了改变 B. 都使资本主义制度得到了调整和巩固  
C. 都有利于本国经济的恢复和发展 D. 都为促成二战的战时同盟奠定了基础
23. 下列历史事件，体现了哪一共同主题（ ）



周恩来在万隆会议上发言



埃及收回苏伊士运河



纳米比亚宣布独立

- A. 殖民体系的崩溃 B. 社会主义的胜利 C. 世界多极化发展 D. 经济全球化趋势
24. 俄乌战争的原因在于北约东扩挤压俄罗斯的生存空间。一位西欧外交官说，如果欧洲国家团结起来，我们的力量不会比美国弱，通过北约东扩，我们向成员国以外的国家证明了一种有用的东西。他认为北约东扩（ ）
- A. 标志着两级格局形成 B. 提高了欧洲国际地位  
C. 宣告了欧洲联盟成立 D. 加快了苏联解体进程
25. 当你踏进家门的一刻，生活变得更智慧。一键开启空调、电视、扫地机器人……回家即是安心，这一切的便利得益于计算机网络技术的发展。网络技术的发展带来的影响有（ ）
- ①直接影响人类的经济活动 ②人类新的生活模式和文化观念产生  
③世界开始连为一个整体 ④网络安全问题日益凸显
- A. ①②③ B. ②③④ C. ①②④ D. ①③④

## 二、非选择题：共 3 道题，第 26 题 16 分，第 27 题 17 分，28 题 17 分，共 50 分。

26. （16 分）某学习小组进行“中华文明之美”的探究性学习活动，请你参与。

### 【文治武功】

材料一：他（秦始皇）废除了所有的封建国家和王国，将广阔的国土划分为若干行政区，每一行政区都配备一批由中央政府任命，并向中央政府负责的官员。……公元前 127 年时，汉皇帝又下了一道法令，规定嫡长子只可继承封地的一半，余下的封地分给其他子弟。于是，封地不断缩小，其重要性也不断下降，仅仅成为大地产。

——[美]斯塔夫里阿诺斯《全球通史》

（1）根据材料一并结合所学知识，指出秦、汉在地方分别采取了什么措施？（4 分）

### 【哲思一脉】

材料二：中国历史进程之指示，中国文化理想之建立，具有最深影响最大贡献者，殆无人堪与孔子相比伦。

——钱穆《孔子传·序言》

（2）根据材料二并结合所学知识，孔子的核心思想和政治主张分别是什么？（2 分）

### 【盛世华彩】

材料三：唐朝诗人创作了大量诗歌，谱写了丝路明珠长安的繁华。俯瞰长安城，“百千家似围棋局，十二街如种菜畦”。街市上，熙熙攘攘，“水门向晚茶商闹，桥市通宵酒客行”。在唐朝的宫殿上，“万国衣冠拜冕旒（借指皇帝）”。考试吸引着越来越多的读书人，“喧喧车马欲朝天，人探东堂榜已悬”。妇女引领者时尚，“女为胡



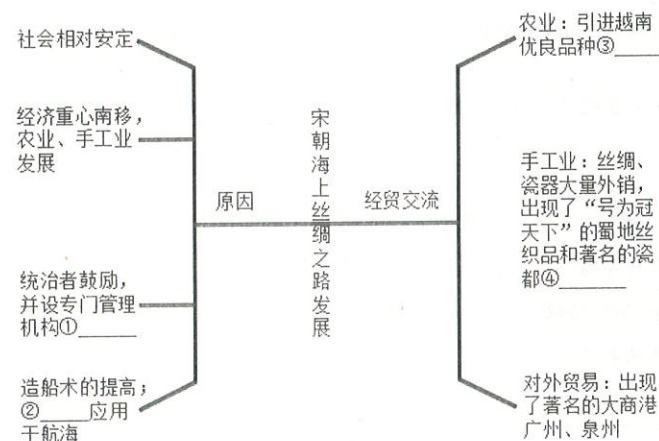
妇学胡妆……胡音胡骑与胡妆，五十年来竞纷泊”。

——摘编自《以诗证史——以唐诗看唐都长安的繁华》

(3) 根据材料三和所学知识，以长安为例，归纳唐朝繁盛的表现。(2分)

### 【经贸繁荣】

材料四：时间转回宋代……那些满载着中国瓷器和丝绸的商船，从广州或泉州出发后，经南海海域，将货物运送到菲律宾、占城、波斯湾等地，再由波斯商人把这些中国商品销往西亚各地甚至欧洲。



(4) 材料四反映了宋朝海上丝绸之路的繁荣。请将上面知识卡片补充完整。(4分)

### 【巨匠风采】

材料五：



图1 张仲景像



图2 毕昇像



图3 宋应星(邮票)

(5) 图1、图3两位“巨匠”的代表著作分别是什么？图2“巨匠”的发明对世界有何重大影响？他们身上什么精神值得我们学习？(4分)

27. (17分) 走怎样的道路关系着国家前途、民族命运和人民幸福，中国道路是在对近代以来170多年中华民族发展历程的深刻总结中走出来的。结合所学知识，回答问题。

### 【探索之路】

材料一：资产阶级上层改良运动主要由康有为、梁启超等人倡导，(却)以下跪的方式祈求改良，最终由于触动了封建统治阶层核心利益和统治体制而夭折，以孙中山为首的下层资产阶级的暴力革命派，夺取了国家的政权，是中国人民为改变自己命运而奋起革命的一个里程碑，却以袁世凯称帝断送了建立共和的伟大主张。

——摘编自赵传宇、孙琰《浅论近代中国道路选择的曲折性》

(1) 材料中的“改良运动”与“暴力革命”分别指什么事件？根据材料指出“改良运动”夭折的原因。根据所学知识指出孙中山建立的“共和”受哪一个国家的影响最大？(4分)

### 【革命之路】

材料二：毛泽东是一位杰出的共产党领袖，他无视莫斯科的共产国际，制定出新的革命策略。他拒绝了只能依靠城市无产阶级进行革命这一传统的马克思主义原则。他根据对农村的直接考察断定，占人口70%的贫农是“革命的先锋……没有贫农便没有革命”。

——斯塔夫里阿诺斯《全球通史》

(2) 结合所学知识，概述毛泽东制定的“新的革命策略”。(2分) 根据材料指出毛泽东制定“新的革命策略”的依据。(1分)

材料三：



①中共一大会址



②南昌起义




③井冈山会师



④遵义会议会址



⑤中共七大会场



⑥渡江战役



⑦开国大典



⑧十一届三中全会

(3) 请为下列有关党史的主题选取适合的图片：(在横线上填写图片的序号)(4分)

A 开天辟地一声雷 \_\_\_\_\_； B 生死攸关大转折 \_\_\_\_\_；  
C 开辟历史新纪元 \_\_\_\_\_； D 改革开放新征程 \_\_\_\_\_。

### 【创新之路】

材料四：他和他的同事找到了一条富国强民的道路。在达成这个目标的过程中，邓小平也引领了中国根本转型，不论它与世界的关系方面，还是它本身治理结构和社会方面。

——傅高义《邓小平时代》

(4) 根据所学知识指出，材料中“富国强民的道路”是指什么道路？(2分) 什么体制使中国的经济结构发生了“根本转型”？(2分)

### 【中国道路】

材料五：每个国家和民族都具有自身的特殊性，不能简单移植嫁接他国的道路和模式。中国特色之“特”，……在于守正创新。在坚持发展道路和基本原则的基础上，立足国情世情、感知时代脉搏；在战略决断上，以不变应万变；在策略方法上，以不断自我革命应对新的挑战。

——习近平《坚定道路自信走好中国道路》

(5) 综合上述内容及材料五，你对国家制度和发展道路的选择有何认识？(2分)



28. (17分) 人类对文明的追求既需要薪火相传、代代守护,更需要交流互鉴、推陈出新。阅读材料,完成下列要求。

【思想指引】

材料一: 14世纪一场重视继承古代文化遗产,追求个人精神自由的思想解放运动到来了,自然科学和文化艺术相继取得了璀璨而辉煌的成就,群星闪烁,灿若霓虹。

——摘编自《图说天下,世界历史系列》

(1) 材料一反映的是哪场运动? (1分) 结合所学知识,指出该运动的核心思想并列举一位代表人物。(2分)

材料二: 让统治阶级在共产主义革命面前发抖吧。无产者在这个革命中失去的只是锁链,他们获得的将是整个世界。

——《共产党宣言》

(2) 材料二中文件的发表标志着哪一思想的诞生? (1分) 在这一思想的引领下,无产阶级通过哪一次革命第一次将理想变成了现实? (1分)

【工具革新】

材料三: 三次科技革命,极大地促进了人类社会的进步,改变了人类生产生活方式,人与人之间的时空距离不断缩短,整个世界紧缩成一个“村落”。

(3) 第一次工业革命与第二次工业革命在交通领域的重大发明各一例。第二次工业革命使人类进入了什么时代? (3分)

【制度保障】



材料四: 17世纪的英国革命标志欧美政治革命开始,随后的美国革命和法国革命标志其更进一步的发展,然后在19世纪时影响了整个欧洲。

——《全球通史》

(4) 材料四中的英国革命最终确立了什么政体? “美国革命”指什么重大历史事件? (4分)

【合作共赢】

材料五: 历史照片见证了人类在不同时期的合作。



①《联合国宣言》签署      ②亚太经合组织领导人非正式会议      ③万隆会议



④诺曼底登陆      ⑤不结盟国家和政府首脑会议      ⑥欧洲经济共同体成立大会

(5) 阅读材料五,运用已提炼的A、B两个合作主题将下列表格补充完整(4分,要求:将合作主题的相关字母和照片序号填入答题卡的相应位置。)

合作主题:	合作主题 (只填写字母)	照片所反映的历史事件 (只填写序号)
A. 反对霸权主义,发挥发展中国家的作用,建立国际新秩序	抵抗法西斯侵略,	
B. 面对经济难题,谋求成员国协同发展	赢得世界和平	
		②⑥

材料六: 世界各国要尊重世界文明多样性,以文明交流超越文明隔阂、文明互鉴超越文明冲突、文明共存超越文明优越,各国人民同心协力,推动人类命运共同体建设,共同创造人类的美好未来。

——摘编自国家主席习近平的系列讲话

(6) 结合所学知识,面对今天的霸权主义、民族矛盾、地区冲突等现象,你有哪些建议? (1分)(不得照抄材料)

## 参考答案

### 一、选择题（50分）

1-5 D A B C D

6-10 C B B D B

11-15 C C C D B

16-20 D D C A D

21-25 A C A B C

### 二、非选择题（50分）

26.（16分）

（1）郡县制；推恩令；（4分）

（2）“仁”，（1分）以德治国或实行德政；（1分）；

（3）表现：经济高度繁荣，文化高度发达，商业十分繁华，中外交流频繁，社会风气开放，文学艺术灿烂辉煌等等。（回答两点即可满分，2分）

（4）①市舶司；②指南针；③占城稻；④景德镇（4分）

（5）《伤寒杂病论》，（1分）《天工开物》；（1分）对人类文明的发展产生了重大的影响；（1分）以民生为本；热爱科学，善于学习、创新、总结等。（言之有理即可，1分）

27.（17分）

（1）戊戌变法；（1分）辛亥革命；（1分）触碰了封建统治阶层核心利益和统治体制；（1分）美国。（1分）

（2）农村包围城市、武装夺取政权（2分）。对农村的直接考察；贫农占农村人口的70%。（1分）

（3）A① B④ C⑦ D⑧（4分）

（4）建设有中国特色社会主义道路；（2分）社会主义市场经济体制（2分）

（5）适合本国国情的国家制度和发展道路才富有生命力，并能推动国家的发展和社会的进步；国家制度和发展道路的选择受本国历史和现实等因素的影响，必然会对本国甚至世界产生影响。（2分。言之有理即可）

28.（17分）

（1）文艺复兴；人文主义；但丁、达芬奇、莎士比亚、拉斐尔、米开朗琪罗（写一个人物即可。3分）

（2）马克思主义；十月革命（2分）

（3）蒸汽机车；汽车或飞机；电气时代（3分）

（4）君主立宪制；美国独立革命（4分）

（5）（4分）

合作主题： A. 反对霸权主义，发挥发展中国家的作用，建立国际新秩序 B. 面对经济难题，谋求成员国协同发展	合作主题 （只填写字母）	照片所反映的历史事件 （只填写序号）
	抵抗法西斯侵略，赢得世界和平	①④
	A	③⑤
	B	②⑥

（6）建议：大国要承担自己的责任；发展中国家要积极拥抱全球化；珍爱和平，远离战争；尊重文明的不同，取长补短；各国应该用对话来解决矛盾冲突，等等。（合理即可，1分）