

历史试卷(二模)

一、选择题(每题 4 分, 共 48 分)

1. 刘向《战国策·书录》中载“田氏取齐, 六卿分晋, 道德大废, 上下失序……上无天子, 下无方伯。力功争强。胜者为右。”材料意在说明

- A. 分封制下等级森严
- B. 世袭制度被彻底废除
- C “天下共主” 局面丧失
- D. “尊王攘夷” 被认同

2. 图 1、图 2 为南北朝时期的文物图片, 由此可知



图 1 北魏《皇帝着汉服礼佛图》

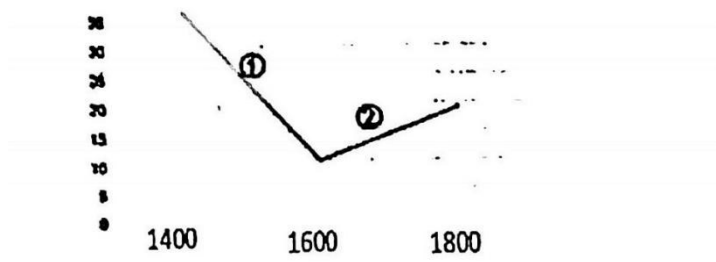


图 2 南朝墓出土“军人着胡人袴褶”画像砖

- A. 北魏汉化改革非常彻底
 - B. 南北军事交流进一步发展
 - C. 胡服更加具有使用价值
 - D. 民族交融推动服饰的变迁
3. 清初, 政府颁布法令, 严禁“商民船只私自下海”, 规定“凡沿海地方口子, 处处严防, 不许片帆入海”。这一政策的最大影响是
- A. 沉重打击了海外航运业的发展
 - B. 直接丧失了对外贸易的主动权
 - C. 使中国逐渐落后于世界的潮流
 - D. 导致沿海商民的经济收入锐减
4. 李鸿章说:“中国积弱, 由于患贫。必须先求富, 而后才能自强。”下列体现李鸿章“求富”思想的企业是
- A. 江南制造总局
 - B. 上海轮船招商局
 - C. 汉阳铁厂
 - D. 福州船政局
5. 八国联军统帅瓦德西承认:“无论欧美日本等国皆无脑力与兵力统治此天下生灵四分之一, 故瓜分一事实为下策。”列强于是采取“以华制华”的策略侵略中国, 下列条约内容最能体现这一策略的是
- A. 中英协定关税
 - B. 允许日本在通商口岸开设工厂
 - C. 划定北京东交民巷为使馆界
 - D. 清政府保证严禁人民参加反帝活动
6. 2021 春节档热映电影《你好, 李焕英》中, 贾玲饰演的女儿穿越回到 1981 年, 其中有一段买电视机的情节, 当时老百姓买电视机需要排队凭电视机票购买, 此情景反映了
- A. 百姓生活受制于计划经济
 - B. 城市经济体制改革已经开始
 - C. 各种商品均需要凭票购买
 - D. 改革开放已经取得伟大成就
7. 公元前 4 世纪, 雅典演说家德摩斯梯尼在演说中提到雅典人皮洛斯被剥夺了公民权, 由于生活贫困, 他混入陪审法庭骗取津贴, 结果被判处死刑, 据此分析正确的是
- A. 该演说家生活在伯里克利改革之后
 - B. 所有雅典人都能获得城邦发放的津贴
 - C. 雅典民主适用于所有雅典居民
 - D. 该演说家对雅典民主制度非常不满
8. 在中世纪西欧, 封臣必须随时准备跟随封君进行军事远征, 如果封君没了马骑, 封臣必须把自己的坐骑让给他; 如果封君被囚禁, 封臣必须把自己作为人质以换取他的获释。材料表明
- A. 封臣是封君的私有财产
 - B. 血缘关系是封君封臣制度的前提
 - C. 封臣没有任何人身自由
 - D. 封臣对封君要履行一定的义务

9. 对 1400-1800 年拉丁美洲人口变化解读正确的是

1400-1800 年拉丁美洲人口变化图(单位: 百万)



A. ①阶段人口减少, 原因是黑奴贸易盛行

B. ①阶段人口减少, 背景是英国殖民活动

C. ②阶段人口增加, 原因是黑奴和移民到来

D. ②阶段人口增加, 背景是工业革命扩展

10. 第二次世界大战后, 经济区域合作组织相继成立。其中 20 世纪 60 年代以“通过共同的商业政策, 促进国际贸易限制的逐步废除”“汇集各国的资源以维护和增进和平与自由”为主要目标的是

A. 欧洲经济共同体

B. 世界贸易组织

C. 联合国

D. 欧洲联盟

11. 湘西素以美丽神奇著称, 她与国家森林公园张家界毗邻, 境内景观密布, 异彩纷呈。有一座蜿蜒近 200 公里的中国南方长城; 有历史悠久, 被称为我国南方最美的两座小城之一的凤凰古城等。下列作品生动勾画了一幅古朴神奇的湘西风情的是

A. 《暴风骤雨》

B. 《山乡巨变》

C. 《太阳照在桑干河上》

D. 《边城》

12. 中国工程院院士、“共和国勋章”获得者袁隆平因病医治无效, 于 2021 年北京时间 5 月 22 日上午在长沙逝世, 享年 91 岁。国人纷纷沉痛缅怀。袁隆平深受人民爱戴的原因之一是他

A. 培育籼型杂交水稻

B. 发现青蒿素

C. 合成结晶牛胰岛素

D. 研制“银河”系列巨型计算机

二、非选择题(共 54 分)

13. 古今中外思想的演变和科技的发展对人类社会产生了广泛而深远的影响。阅读材料, 回答问题。(10 分)

材料一 从儒学的发展过程看, 董仲舒思想体系的建立, 标志着儒学进入理论创造的阶段, 它的政治教化和伦理教化功能在这一阶段得到突出和强化……到了宋明时代, 儒学已完全演变为不可动摇、不可替代的官方哲学。

李道湘《儒学历史演变及其现代价值》

材料二 火药、指南针、印刷术——这是预告资产阶级社会到来的三大发明。火药把骑士阶层炸得粉碎, 指南针打开了世界市场并建立了殖民地, 而印刷术则变成新教的工具, 总的说来变成科学复兴的手段, 变成对精神发展创造必要前提的最强大的杠杆。

马克思《机器、自然力和科学的应用》

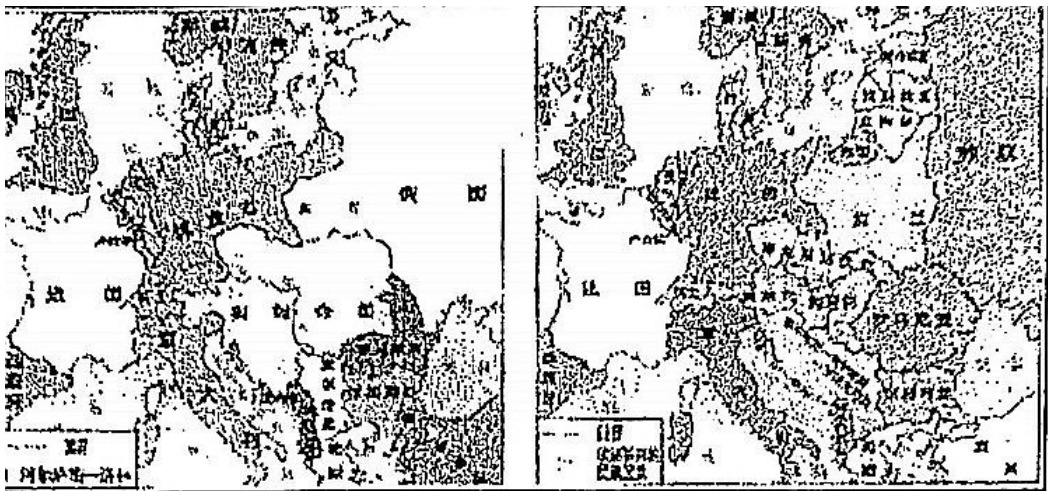
(1) 根据材料一归纳董仲舒思想体系建立的意义。(2 分) 根据所学知识, 请任举一例来说明“到了宋明时代, 儒学已完全演变为不可动摇、不可替代的官方哲学。”(2 分)

(2)读材料二，根据所学从社会转型的角度概括三大发明对欧洲产生的共同影响。(2 分)它们“变成对精神发展创造必要前提的最强大的杠杆”，其中“精神发展”具体是指在欧洲兴起的什么事件?(2 分)这一事件对欧洲的科学技术发展产生了怎样的影响?(2 分)



14. 阅读材料，回答问题(14 分)

材料一



图一 “一战”前的欧洲 图二 “一战”后的欧洲

材料二 二战结束时，美、苏势力迅速膨胀，成为世界两大强国。因制度不同、利益冲突，双方由战时盟友转为战后对手。伴随杜鲁门主义的出台和“遏制战略”的推出，美国开始对苏联实行冷战。苏联则利用实力控制东欧，对美反击，从而出现了以美、苏冷战为主要特征的两极格局。

-摘编自齐涛主编《世界通史教程。现代卷》

材料三 海湾战争加强了美国在中东的主导地位。北约东扩和俄罗斯的削弱使俄无力同美国争夺欧洲和世界。科索沃战争……为北约干涉成员国以外的事务开了先例。……美国在同日本的经济竞争中重新占据国际竞争力第一的位置，成为新经济的领头羊。美国的智库估计，在 2015 年以前，没有一个国家能够对美国的优势地位构成挑战。

摘编自刘山《世界格局变化的启示》

请回答：

(1) 对比图一和图二后回答，“一战”前后欧洲版图发生了哪些变化？(2 分)根据所学分析导致欧洲版图发生变化的因素。(2 分)

(2) 材料二认为美苏由盟友转为对手的原因是什么?(2 分)美国的“遏制战略”不止针对苏联，也针对新中国，试举一个发生于 20 世纪 50 年代初的例子。(2 分)

(3) 根据材料三,分析冷战结束后美国外交政策的主要目标是什么?(2分)在和平与发展为主题的当今,又有
哪些力量制衡着美国这一目标的实现?(2分)综上所述,如果你是执政者,你会带领中国怎样做?(2分)

15. 多元起源的中华民族,几千年来不断向一体化迈进,保持着对中华文明较高的认同感。阅读材料,完成下列要求(14分)

材料一 两汉是中国统一多民族国家的巩固时期。西汉初期民族关系上则主要是采取和抚四夷的政策,在一定程度上保证了边境的安宁。到了汉武帝时期,随着西汉国力的增强,汉武帝采取了一系列巩固统一的强有力措施。

—商鑫《两汉正史民族史提述与统一—多民族国家的巩固》

材料二 唐朝时期,周边各族迅速发展。吐蕃赞普松赞干布仰苏唐朝多次向唐朝求婚,太宗将文成公主嫁给他……唐中期在西域先后设置安西都护府和北庭都护府,统辖天山南北……唐玄宗时期册封东北地区粟末靺鞨首领大祚荣为渤海郡王。

—《中国通史》

材料三 清朝继承了历代中原王朝的疆域,也继承了历史上周边民族活动的领地,清朝的所谓“开疆拓土”,就是国家对边疆地区实行行之有效的管辖,对边疆各民族直接进行行政管理。

—成崇德《论清朝疆域形成与历代疆域的关系》

(1) 根据材料一。指出从汉初到汉武帝时期处理民族关系的举措上发生了怎样的变化?(2分)根据材料结合两个不同时期汉朝经济状况分析导致这些变化的原因。(2分)

(2) 根据材料二,指出唐太宗和唐玄宗处理民族关系的方式有何不同?(2分)结合所学知识谈谈你如何看待唐朝的民族政策?(2分)

(3) 根据材料三并结合所学知识,说明为了加强“对边疆各民族直接进行行政管理”清政府(1840年前)在东南和西北地区分别采取了怎样的措施?(4分)哪位皇帝统治时期湖南省正式成为中国本部的18个行省之一?(2分)

16. 中国共产党自诞生以来，已经走过了 100 年的光辉历程。阅读材料，回答问题（14 分）

材料一 100 年的历史岁月，见证了无数共产党人为了民族解放和国家富强前仆后继的奋斗历程，见证了从上海开始到北京其间，中共中央所在地几经变更的历史。

上海——中国共产党的发祥地；武汉——中共中央的第二个驻扎地；


迫于形势，中共中央迁回上海；江西瑞金——中共中央的第三个驻扎地；

中央红军踏上长征路，中共中央随军长征；长征结束，中共中央“落户”陕北；

革命胜利前夕，中共中央迁至西柏坡；北平（北京），中共中央的永久驻地

——摘编自杨飞《中共中央所在地变迁史》

材料二



图一 南昌起义旧址



图二 井冈山会师（绘画）



图三 人民解放军占领南京

(1) 如何理解“上海——中国共产党的发祥地”？(2 分) 在哪一省份召开的党代会上确立了“思想建党、政治建军”的建党建军原则？(2 分) 根据所学知识，分析中共中央所在地数次变迁的主要原因是什么？(2 分)

(2) 某中学初三团支部打算以“党的光辉历程：开辟正确道路，领导革命胜利”为主题进行一次党史学习，请你结合材料二中三幅图片提示的相关内容为该团支部写一篇简要的党史学习材料。（要求：条理清晰、层次分明、史论结合、体现图片内容之间的联系性。8 分）

二模答案

1-12 CDCBD AADCA DA

13 (1) 标志着儒学进入到理论创造阶段，他的政治教化和伦理教化功能在这一阶段得到了突出和强化（儒家学说成为封建社会的正统思想）。八股取士。

(2) 欧洲由封建社会向资本主义社会转变。文艺复兴。为近代自然科学的产生与发展奠定了基础。

14 (1) 德国领土被瓜分，奥匈帝国被肢解，沙皇俄国瓦解。一战后巴黎和会中《凡尔赛条约》的签订。

(2) 因为制度和国家利益的不同。美国干预朝鲜战争并派第七舰队进驻台湾海峡。

(3) 建立单级世界。欧盟、日本和中国。以经济建设为中心，提高综合国力；加强国际合作，反对霸权主义；努力构建国际新秩序。

15 (1) 从和抚四夷变为武力战争。汉初经济萧条无力抵抗边疆少数民族，汉武帝时期有文景之治的经济基础，国力强盛。

(2) 唐太宗：和亲和设置机构，唐玄宗：册封。实行开明的民族政策，因地制宜

(3) 设置台湾府和伊犁将军。雍正帝

16 (1) 中共一大最先在上海召开。福建。国内主要矛盾的变化为适应革命形势的需要

(2) 党的光辉历程：开辟正确道路，领导革命胜利

①南昌起义，揭开了武装反抗国民党的第一枪，是中共独立领导武装的开始

②井冈山会师，井冈山革命道路将马克思主义与中国的国情相结合，农村包围城市武装夺取政权

③解放军攻占南京，标志国民党在中国大陆的统治结束，推翻了压迫在人民身上的三座大山，为新中国的成立奠定基础。

综上所述，中国共产党领导中国人民取得了新民主主义革命的胜利。