

2022 年初中学业水平模拟检测（二）

历史试题

注意事项：

1. 本试题分第 I 卷和第 II 卷两部分，共 8 页。考试时间 60 分钟。共 50 分。
2. 答题前，考生务必先核对条形码上的姓名、准考证号和座号，然后用 0.5 毫米黑色墨水签字笔将本人的姓名、准考证号和座号填写在答题卡相应位置。
3. 答第 I 卷时，必须使用 2B 铅笔填涂答题卡上相应题目的答案标号，如需改动，必须先用橡皮擦干净，再改涂其它答案。
4. 答第 II 卷时，必须使用 0.5 毫米黑色墨水签字笔在答题卡上书写。务必在题号所指示的答题区域内作答。
5. 考试结束后，将本试卷和答题卡一并交回。

第 I 卷（选择题 20 分）

一、选择题（下列各题的四个选项中，只有一项符合题意。每题 1 分，共 20 分）

1. “顺物自然而无容私焉，而天下治矣。”材料反映的思想出自

- A. 儒家学派
- B. 道家学派
- C. 墨家学派
- D. 法家学派

2. “尽并兼天下诸侯，黔首（百姓）大安，立号为皇帝。”与此相关的人物是

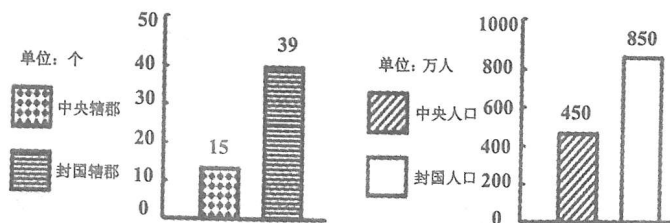
- A. 秦始皇
- B. 汉武帝
- C. 唐太宗
- D. 明成祖

3. 为解决右图所反映的问题，汉

武帝采取的措施是

- A. 罢黜百家，独尊儒术
- B. 建立刺史制度
- C. 实行休养生息政策
- D. 实施“推恩令”

西汉初期封国与中央力量对比图



4. 中医在抗击新冠肺炎方面发挥了重要作用。我国古代中医学著作《伤寒杂病论》

- A. 记载了作者发明“麻沸散”的方法
- B. 作者是李时珍
- C. 是一部规模空前的药物学著作
- D. 提出了“治未病”理论

5. 根据右边卡片中提供的信息，
判断图中人物是

- A. 蔡伦
- B. 祖冲之
- C. 贾思勰
- D. 王羲之

姓名：_____

朝代：南北朝

称谓：科学家

主要贡献：创制《大明历》

首次将圆周率精确到小数点以后第七位



6. 著名历史学家黄仁宇在《中国大历史》中把唐朝称为“最具世界色彩的朝代”。

下列史实可以印证这一观点的是

- A. 张骞出使西域
- B. 文成公主入藏
- C. 鉴真东渡日本
- D. 郑和下西洋

7. 下图所示为中国某朝代的社会现象，据此可以推断该朝代是

- A. 隋朝
- B. 唐朝
- C. 宋朝
- D. 元朝

◆ 实行行省制度

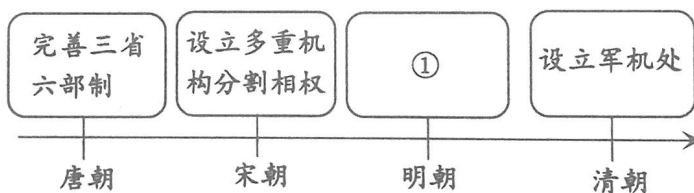
◆ 形成回族

◆ 设宣政院

◆ 杂剧流行

8. 下面示意图反映了我国古代四个时期政治制度的发展和演变，其中①处应填的是

- A. 开创科举制度
- B. 提倡重文轻武
- C. 废除丞相制度
- D. 设立转运使



9. “……英国伦敦的茶商和丝商要求中国开放更多港口城市，降低关税，为此他们不惜推动政府再次发动侵华战争。”这场战争使

- A. 中国开始沦为半殖民地半封建社会
- B. 中国的半殖民地化程度进一步加深
- C. 中国的半殖民地化程度大大加深
- D. 中国完全陷入半殖民地半封建社会的深渊

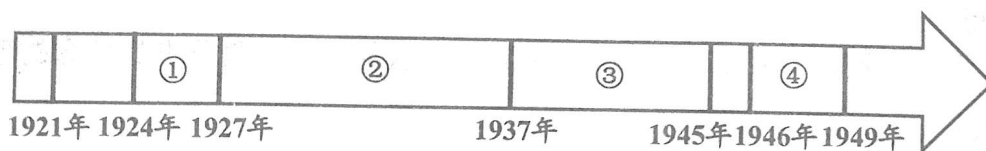
10. 有学者指出“太平天国运动坚持斗争 14 年，势力扩展到 17 省……它促进了封建社会的崩溃，迟滞了中国半殖民地化的进程，在中国历史上留下极其重要的一页”。该学者主要是强调太平天国运动

- A. 是中国历史上规模最大的农民战争
- B. 推翻了我国的封建制度
- C. 使中国摆脱沦为半殖民地半封建社会的命运
- D. 沉重打击中外反动势力

11. 近代中国, 提出并努力践行“实业救国”思想的实业家是

- A. 严复
- B. 荣氏兄弟
- C. 张謇
- D. 侯德榜

12. “打倒列强, 打倒列强, 除军阀, 除军阀! 国民革命成功, 国民革命成功! 齐欢唱, 齐欢唱!” 这首《国民革命歌》反映的历史事件发生在下列



- A. ①阶段
- B. ②阶段
- C. ③阶段
- D. ④阶段

13. 下列诗句再现了中国近代史上波澜壮阔、跌宕起伏的一些重大历史事件, 其中与遵义会议有关的是

- A. 革命声传画舫中, 诞生共党庆工农
- B. 日头一出红又红, 朱德来会毛泽东
- C. 舵手一易齐桨橹, 革命从此上新途
- D. 虎踞龙盘今胜昔, 天翻地覆慨而慷

14. 某历史公众号准备推送一期以“中华民族的抗日战争”为主题的资源包, 右边所提供的资源包内容与主题相符的是

序号	资源包	内容
①	视频	《地道战》《平津战役》
②	图片	《李宗仁在台儿庄》《百团大战示意图》
③	文献	《论持久战》《人民解放军战领南京》
④	遗址	南昌起义总指挥部旧址 西安事变谈判旧址

- A. ①
- B. ②
- C. ③
- D. ④

15. 新中国成立以后奉行的外交政策是

- A. 和平共处五项原则
- B. 共赢共享的理念
- C. 独立自主的和平外交
- D. 对外开放政策


16. 根据下表所提供的信息可以判断★处的历史人物是

姓名	生卒年	科学贡献	著作
★	1809 年-1882 年	提出进化论	《物种起源》


- A. 瓦特
C. 达尔文

- B. 牛顿
D. 法拉第

17. 与下面两幅图片相关的历史事件是



“阿芙乐尔号”巡洋舰



攻占冬宫

- A. 俄国二月革命
C. 俄国十月革命

- B. 法国大革命
D. 第一次世界大战

18. “1941 年是战争的一个关键的转折点，战争变成了一场真正的全球性冲突。”

下列事件能为上述观点提供史实依据的是

- A. 德军闪击波兰
C. 珍珠港事件

- B. 斯大林格勒保卫战
D. 诺曼底登陆

19. 《美国的梦想》中有这样一个论断——“马歇尔计划：一箭双雕。”这里的“双雕”是指

- A. 输出资本、对抗苏联
C. 复兴欧洲、干涉中国

- B. 遏制欧洲、称霸世界
D. 控制欧洲、遏制苏联

20. 下图所示的国际组织中，具有“制定和规范多边贸易协定，组织贸易谈判，解决贸易争端等”职能的是



A



B



C



D

第II卷 (非选择题 30分)

二、材料解析题 (共3个小题, 30分)

21. 中学历史课程将培养和提高学生的学科核心素养作为发展目标。阅读材料, 回答问题。(10分)

【史料实证】

材料一 一场全国规模的革命想取得哪怕是部分的成功, 都需要在人们面前提出一个与以往不同并被众多人接受的新的理想和目标, 使人们重新燃起新的希望, ……这就需要新的社会力量站在民族解放运动的前头。辛亥革命与此前的戊戌维新运动、义和团运动不同的地方, 就在这里。

——摘编自金冲及《二十世纪中国史纲》

(1) 结合所学知识, 列举史实印证材料一作者所认为的辛亥革命与此前运动的不同之处。(1分) 如何理解辛亥革命是“部分的成功”? (2分)

【历史解释】

材料二 严格地讲, 我们研究党史, 只从一九二一年起还不能完全说明问题……从五四运动说起可能更好……

——摘自1943年毛泽东《如何研究中共党史》

(2) 结合所学知识, 对材料二中毛泽东的观点作出合理解释。(2分)

【时空观念】

材料三 右图

(3) 结合所学知识, 写出右图所反映的历史事件发生的时间及其历史意义。(3分)



【家国情怀】

材料四 当今全球面临极为严峻的挑战，任何政府、企业和个人都不可能独自应对。2013年，中国首次在国际场合提出构建“人类命运共同体”的倡议，顺应了历史潮流，回应了时代要求，为人类社会实现共同发展、持续繁荣、长治久安绘制了蓝图。“人类命运共同体”理念在国际场合获得普遍认同。从理念到共识，彰显了中国方案对全球治理的巨大贡献。

——摘编自王立培《中华魂》

(4) 根据材料四，谈谈你对“人类命运共同体”理念积极意义的认识。(2分)

22. 民主与法治是治国理政的重要方略，在不同时代、不同国家有不同的表现。阅读下列材料，回答问题。(8分)

材料一	材料二
凡未经议会同意，以国王权威停止法律或停止法律实施之僭越权力，为非法权力……除经议会同意外，平时在本王国内征募或维持常备军，皆属违法……	人生来是而且始终是自由的，在权利方面是平等的：自由、财产、安全和反抗压迫是天赋而不可剥夺的人权，国家主权属于人民……在法律面前人人平等。

(1) 结合所学知识，从材料一、二中任选其一，判断其出自哪部法律文献，并简要说明理由。(3分)

材料三 不同的政治家评价 1787 年美国宪法的观点

序号	政治家	观点
A	威廉·格莱斯顿（英国）	美国 1787 年宪法是迄今为止，在特定的历史时期人类智慧和意志所创造出的最美妙的杰作。
B	马丁·路德·金（美国）	一个向上帝要求赋予自由的民族，没有迈出同时给予非洲人自由的第一步，是不应该的。

——据《近代社会的民主思想与实践》等

(2) 从材料三中选择任一政治家观点，结合所学知识对这一观点做出合理解释。(2 分)

材料四 (1954 年 9 月) 毛泽东……指出，这次会议是标志我国人民从 1949 年建国以来的新胜利和新发展的里程碑，会议所制定的宪法将大大促进我国的社会主义事业。

——摘编自《中华人民共和国史》(第二版)

(3) 请写出材料四中这次会议的名称。(1 分) 结合所学知识，列举能够说明“这次会议是标志我国人民从 1949 年建国以来的新胜利和新发展的里程碑”的史实。(2 分)

23. 自古以来，中国就为世界的进步和发展做出重要贡献。阅读下列材料，回答问题。(12 分)

材料一 这三种东西，改变了世界面貌。第一种在文学上，第二种在战争上，第三种在航海上，由此引起了无数的变化。这种变化如此之大，以致没有一个帝国、一个宗教派别、一个赫赫有名的人物能比这三种发明在人类的事业中产生更大的力量和影响。

——英国作家培根

(1) 结合所学知识，以材料一中的“第三种东西”为例，说明其在改变世界面貌过程中发挥的作用。(2 分)

材料二 中国是世界上最早拿起武器同法西斯战斗的国家。比如,《第二次世界大战史纲》一书,专章阐述“中国开辟了世界上第一个反法西斯战场”。正如毛泽东同志所指出的:“我们的敌人是世界性的敌人,中国的抗战是世界性的抗战;伟大的中国抗战,不但是中国的事,东方的事,也是世界的事。”

——《以史为鉴——中国二战史研究综述》

(2) 依据材料二,结合所学知识,列举史实说明“中国是世界上最早拿起武器同法西斯战斗的国家”。(2分) 如何理解“中国的抗战是世界性的抗战”? (2分)

材料三 它宣布了旧中国完全死亡,宣布了人民的新中国的诞生。中国,中国人,将不再是屈辱的殖民地与殖民地奴隶的代名词,而要永远地受到全世界爱好和平民主的人民的尊敬了。

——摘自金冲及《二十世纪中国史纲》

材料四 也许,我们应该把1989年看成是20世纪的结束,而将1978年看作21世纪开始的标志。1978年开启了一个新的纪元,尽管在那时没有人意识到这一点。

(3) 依据材料三并结合所学知识,你怎样理解划线部分的观点?(1分) 材料三所反映的历史事件有何世界意义?(2分)

(4) 结合所学知识,指出材料四中“1978年开启了一个新的纪元”的起点是什么历史事件?(1分) 这一事件开启了一个怎样的伟大征程?(2分)