

2022 年中招第二次模拟考试  
历史 试题

注意事项

- 1. 本试卷共 6 页,分为选择题和非选择题,满分 50 分,考试时间 50 分钟。
- 2. 开卷考试,可查阅参考资料,但应独立答题,禁止交流资料。
- 3. 本试卷上不要答题,请按答题卷上注意事项的要求直接把答案填写在答题卷上。答在试题卷上的答案无效。

第一部分 选择题(20 小题,共 20 分)

下列每小题列出的四个选项中,只有一项是最符合题目要求的。请将正确选项的英文字母代号涂写在答题卷相应位置上。

1、下列三幅图片共同反映了



二里头遗址青铜礼器



三星堆遗址青铜面具



殷墟妇好墓出土青铜器

- A. 冶铁技术,精妙绝伦
  - B. 神话传说,丰富多彩
  - C. 青铜技艺,发端中原
  - D. 青铜文明,辉煌灿烂
- 2、北京冬奥会在立春这一天开幕,并用“二十四节气”倒计时。谚语“立春一年端,种地早盘算”体现了二十四节气服务于
- A. 运动健身
  - B. 饮食调理
  - C. 农时安排
  - D. 商业贸易
- 3、如表反映了西汉时期的铸币情况。表中铸币情况的变化反映出

发行时间	名称	是否垄断发行
前元五年(公元前 175 年)	四铢钱	允许民间私铸
建元元年(公元前 140 年)	三铢钱	不准私铸
元狩五年(公元前 118 年)	郡国五铢	由郡国垄断
元鼎二年(公元前 115 年)	赤仄五铢	由中央垄断

- A. 冶铸技术不断进步
  - B. 古代货币制度的完善
  - C. 王国问题日趋严重
  - D. 中央集权不断地加强
- 4、唐代中上层人士的墓葬中,陪葬骆驼俑的现象蔚然成风。许多陶骆驼背上驮着丝绸,驭手几乎都是表情各异的胡人,做工精美异常。由此可见,唐代
- A. 社会贫富差距悬殊
  - B. 经济交流影响社会习俗
  - C. 民间手工业很发达
  - D. 棉布还未成为主要衣料



5、如表所示古诗资料主要反映了

<p>春节习俗诗句赏析</p> <p>爆竹声中一岁除,春风送暖入屠苏。 千门万户曈曈日,总把新桃换旧符。 ——宋·王安石《元日》 习俗的沿革:贴春联,驱邪保平安</p>	<p>元宵节诗句赏析</p> <p>今夕知何夕,团圆事事同。 汤官寻旧味,灶婢诧新功。 ——宋·周必大《元宵煮浮圆子》 习俗的沿革:吃汤圆,寓意团圆美满</p>
--	--

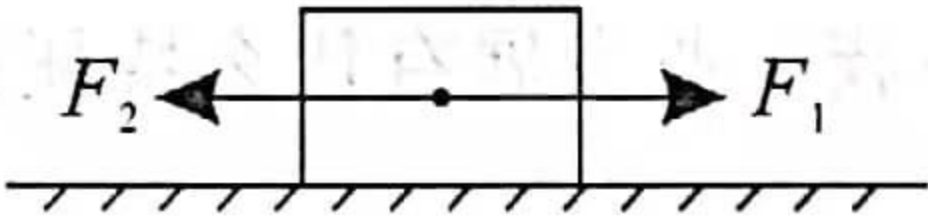
- A. 中华优秀传统文化的传承

B. 春节传统的起源与变化
- C. 都市娱乐方式的多样

D. 古代诗歌中的迷信色彩
- 6、传教士利玛窦曾被中国的某一制度所折服,并描述明代的中国称:“他们全国都是由知识阶层,也就是一般叫做哲学家的人来治理。”对这种被利玛窦盛赞的制度认识正确的是
- A. 以血缘和门弟为选官依据

B. 明清时期解放了人们的思想
- C. 促进社会阶层之间的流动

D. 开创了地方行政的基本模式
- 7、在某节历史课上,老师在讲述中国古代的思想文化时,使用到如图图片,中间的方块代表着明清时期的思想文化,向右的  $F_1$  代表着思想前进的推动力,向左的  $F_2$  代表着思想进步的阻力,其中  $F_2$  最有可能是

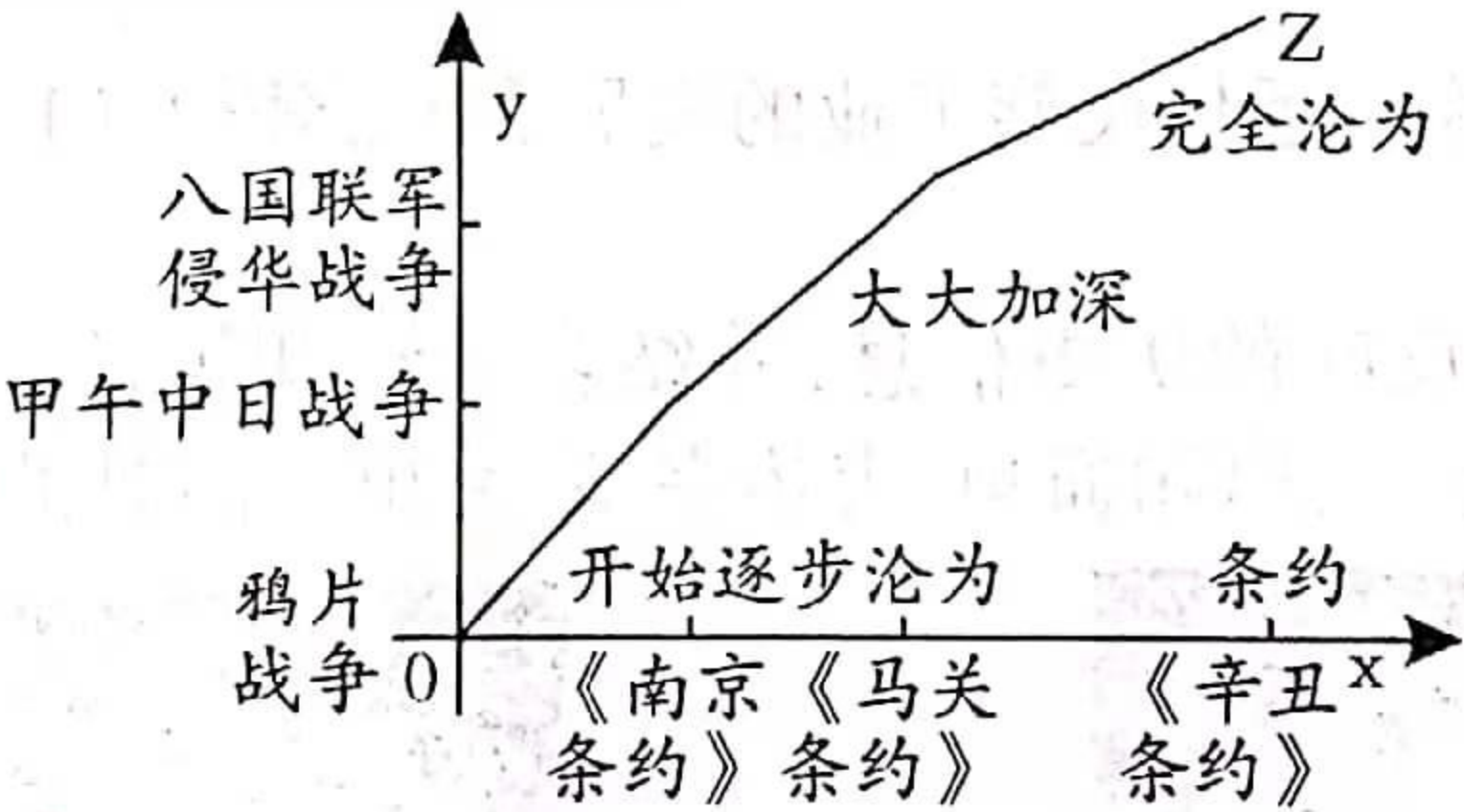


- A. 商品经济的发展

B. 文化的专制

C. 社会矛盾的加剧

D. 闭关锁国的政策
- 8、如图所示坐标图中,中间的Z曲线体现的是



- A. 旧民主主义革命发展进程

B. 中国近代化探索历史进程
- C. 近代列强发动的侵华战争

D. 半殖民地半封建社会程度
- 9、谭嗣同在宣传维新思想时,毫不避讳地谴责专制君主是“大盗”,号召人们冲破君主和伦常的网罗,同封建束缚彻底决裂。谭嗣同这一思想产生的时代背景是
- A. 皇权空前强化

B. 民族危机深重

C. 民众普遍觉醒

D. 革命势在必行
- 10、义和团的一些宣传品中出现过这样的句子“最恨和约,一误至今,割地赔款,害国殃民”“最恶洋货,如洋灯、洋瓷碗,见即怒不可遏,必毁而后快”。由此判断下面对义和团的性质概括最准确的是
- A. 抗争与革新

B. 自强与排外

C. 爱国与蒙昧

D. 反清与灭洋
- 11、吴玉章曾言:“以往搞革命的人,眼睛总是看着上层的军官、政客、议员,如今在五四运动对比之下,上层的社会力量显得何等的微不足道。”吴玉章旨在强调
- A. 发展民主革命

B. 关注民众力量

C. 重视学习西方

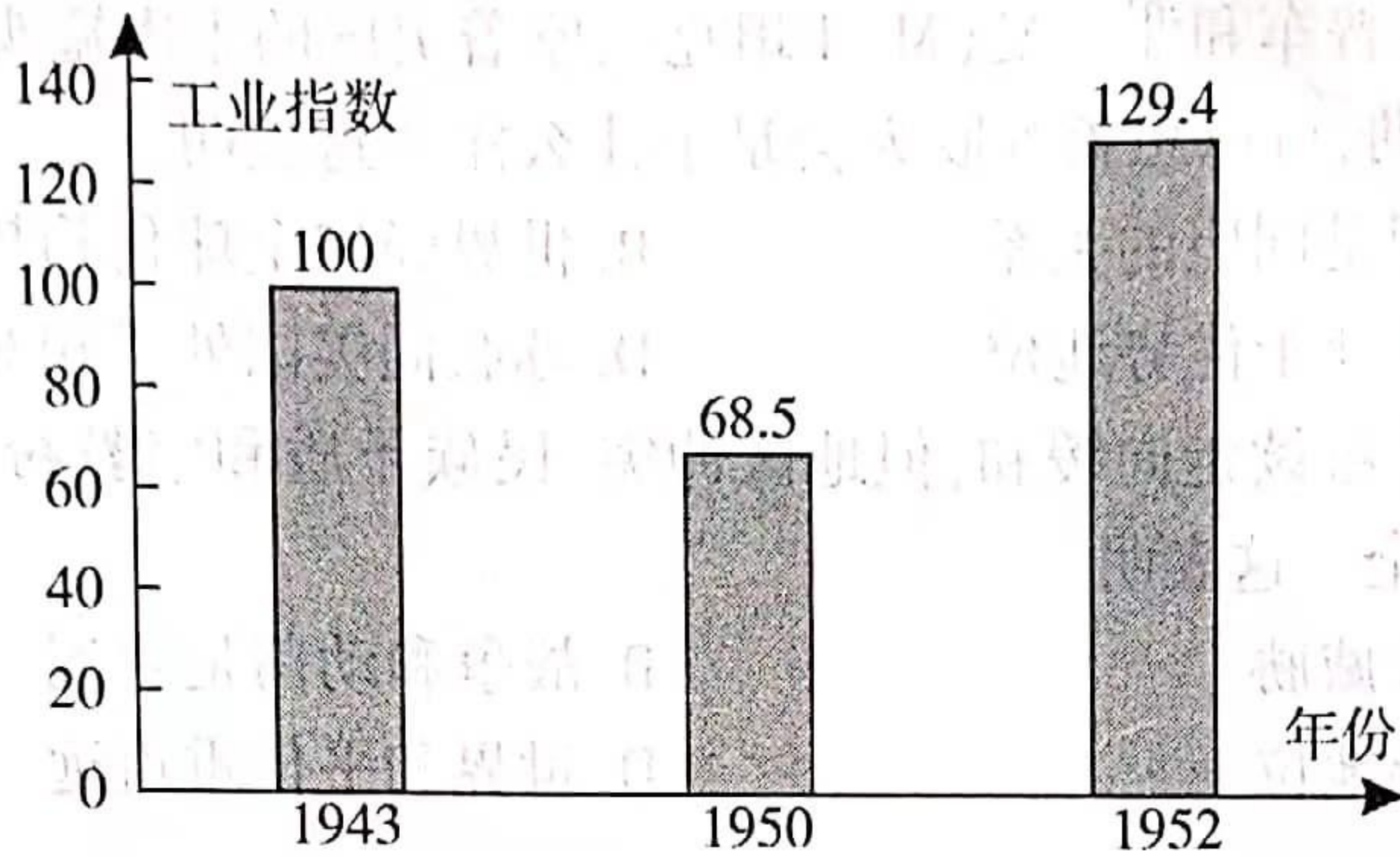
D. 降低政客地位



12、“这是解放战争中规模最大的一次战役,是敌我双方的最后一次主力会战,是从农村为中心向城市为中心转折的标志性战役,彻底粉碎了划江而治的企图。”材料中描述的战役是

A. 平津战役      B. 辽沈战役      C. 淮海战役      D. 渡江战役

13、如图是中国东北地区工业指数变化情况。该时期东北工业发展的直接原因是



- A. 解放战争的持续影响      B. 社会主义改造的完成  
C. 抗美援朝战争的推动      D. 国家一五计划的开展

14、下面三幅图片能够反映出我国



深圳经济特区的建立      浦东开发区的建立      中国(河南)自由贸易试验区成立

- A. 农村经济改革逐步推开      B. 对外开放程度不断深化  
C. 城市经济体制改革开启      D. 西部大开发政策的实施

15、尼罗河定期泛滥,淹没全部谷地,水退后,居民要重新丈量耕地面积。由于这种需要,多年积累起来的测地知识便逐渐发展成为几何学。材料体现了古埃及文明

- A. 凝聚了顺应自然的智慧      B. 奠定了西方文明的基础  
C. 受益于文明的交流互鉴      D. 成为了人类文明的源头

16、大学校徽诠释了大学特有的历史、理念、追求。如图所示牛津大学的徽标设计体现了中世纪教育



主照亮我

- A. 深受宗教影响      B. 摆脱王权控制      C. 享有司法特权      D. 促进经济发展

17、15 世纪后期,一个西班牙人说:“人人都受着一种心病的折磨,这种病只有黄金才能治愈。”该“心病”的病因是

- A. 海外扩张的开始      B. 文艺复兴的兴起  
C. 商品经济的发展      D. 美洲大陆的发现



- 18、“对俄国来说,亚历山大二世属于一种新型的改革者,他像是两面神亚奴斯,一张脸孔望着未来,一张脸孔望着过去。”这里“未来”是指
- A. 农奴获得人身自由权利                      B. 走上资本主义发展道路  
C. 俄国跻身欧洲强国行列                      D. 俄国保留大量封建残余
- 19、“苏联人开着美国吉普车和谢尔曼(M-4 坦克),吃着美国的牛肉罐头,嚼着美国的口香糖。如果没有美国的援助,可以想象苏联人会是个什么样。”这表明
- A. 美苏在二战时期是同盟的关系                      B. 世界经济全球化趋势不断加强  
C. 美苏争霸中苏联处于优势地位                      D. 苏联同美国处于相对开放状态
- 20、21 世纪初,国际形势继续走向缓和,但地区冲突、民族矛盾和宗教纷争不断,霸权主义、恐怖主义威胁世界安全。这表明
- A. 恐怖主义是最大威胁                      B. 战争和动荡是主流  
C. 霸权主义占主导地位                      D. 世界和平任重道远

## 第二部分 非选择题(5 小题,共 30 分)

21、(6 分)阅读下列材料,回答问题。

材料一:

东汉末年,疫病流行。张仲景痛下决心,仔细研读古代医书,根据自己的临床实践对“热病”“伤寒”理论作了发展,他认为伤寒是一切热病的总名称。经过数十年含辛茹苦的努力,终于写成了一部名为《伤寒杂病论》的不朽之作。《伤寒杂病论》是集秦汉以来医药理论之大成,并广泛应用于医疗实践的巨著,还对亚洲各国如日本、朝鲜、越南、蒙古等国的影响很大。



——摘编自《张仲景的科学精神探析》

材料二:

伊本·西那,又名阿维森纳,阿拉伯哲学家、医学家,他所著的《医典》,不仅总结了东西方的医学知识,还加上了本人的思考 and 实践心得,涉及解剖、病源、诊断、用药和妇产科等方面,尤为重要,书中还对作为中医需要掌握的诊脉术和中草药加以介绍,可以说是一部医学百科全书,代表了当时阿拉伯医学的最高成就。



——摘编自《唐代关中地区医药学发展与中外文明交流》




(1) 根据两则材料,概括两位著名医学家在创作过程中的异同点。这分别体现两个民族怎样的文化特征?(5 分)

(2) 综合上述材料,请谈谈你对社会上中西医优劣之争的认识。(1 分)



22、(6分) 阅读下列材料,回答问题。

材料一:

“面粉大王”荣宗敬	“烟草大王”刘鸿生	“火柴大王”简玉阶
		
福新面粉厂、申新纺织厂 地址:香港、上海等	南洋兄弟烟草公司 地址:无锡、上海等	鸿生、大中华火柴公司 地址:上海、苏州、香港等

材料二:

第一次世界大战使中国工商业获得前所未有的发展机会,同时日本在华企业亦获得同样侵略机会,中国的民族经济仍不易与之抗衡,以致归于失败。……中国民族经济之不能前进,以致渐趋衰退,不当尽归咎于外来压力。国内情况之日益恶化,亦为重大因素。政府之无扶植诚意,自然有关,战乱不止,兵额激增,尤为致命打击。

——摘编自郭廷以《近代中国史纲》

(1) 据材料一,概括我国早期民族工业发展有什么特征?(2分)

(2) 中国近代民族工业的产生与哪一历史事件有直接关系? 据材料二并结合所学知识,分析一战前后民族工业发展艰难的原因。(3分)

(3) 综上所述,请谈谈你对近代民族工业的发展有何感悟?(1分)

23、(6分) 请根据下面图片反映的历史信息,并结合所学知识,写一篇 80-120 字的小短文。  
(要求:题目自拟,史实正确,语句通顺,表述完整,突出中国对世界的贡献)



1997年7月1日,江泽民把“香港明天更好”题字赠予特区



2017年5月15日,习近平宣布“一带一路”国际合作高峰论坛圆桌峰会开始

24、(6分) 阅读材料,回答问题。

材料一:

这个国家的出现,虽然只有 230 年的历史,但却演绎了大国兴起的罕见奇迹。它在欧洲文明的基础上,独创性地走出了一条自己的发展道路,将世界第一经济强国的位置占据了一个多世纪。

——《大国崛起》解说词



材料二：

我走到了门口,不觉大吃一惊,我本以为来的是一个由独立主权州组成的联邦式组合,没想到却见到了一个国家级的中央政府。	亚当斯
“大功告成”“不啻奇迹”	华盛顿
我终于可以欣慰地发现,这毕竟是旭日,不是落日。	富兰克林
“不曾就基本人权有所宣示”“允许南部各州继续进口二十年奴隶……令人大为泄气”	乔治·梅森

——[美] 凯瑟琳·德林克·鲍恩《民主的奇迹》


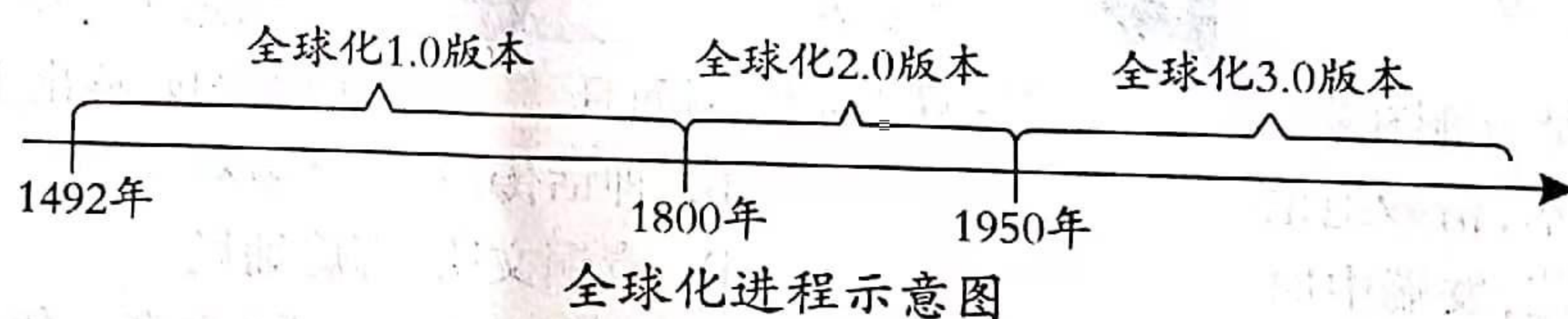
(1)据材料一并结合所学知识指出“这个国家”“将世界第一经济强国的位置占据了一个多世纪”的原因。(3分)

(2)依据材料二并结合所学知识,分析说明代表们对宪法有不同认识的理由?(2分)

(3)概括上述材料涉及的历史事件的共同历史影响。(1分)

25、(6分)阅读下列材料,回答问题。

材料：



经济全球化的领跑者

(1)据材料并结合所学知识指出推动全球化进程第一阶段开启的关键性事件。并说明理由。(2分)

(2)根据材料结合所学知识,分析推动全球化“版本”不断升级的主要原因。(2分)

(3)综合材料并结合所学知识,谈谈你对“全球化”的认识。(2分)