

2022 年陕西省宝鸡市陇县初中学业水平考试模拟试卷

历史

注意事项:

1. 本试卷分为第一部分(选择题)和第二部分(非选择题)。全卷共 4 页,总分 60 分。考试时间 60 分钟。
2. 考试形式为闭卷。
3. 领到试卷和答题卡后,请用 0.5 毫米黑色墨水签字笔,分别在试卷和答题卡上填写姓名和准考证号,同时用 2B 铅笔在答题卡上填涂对应的试卷类型信息点(A 或 B)。
4. 请在答题卡上各题的指定区域内作答,否则作答无效。
5. 考试结束,本试卷和答题卡一并交回。

第一部分(选择题 共 20 分)

一、选择题(本部分共 10 道试题,每题 2 分,计 20 分。每道题只有一个选项符合题意)

1. 右图反映的是东汉某一生产活动的工艺流程图。改进该工艺,使其质量大大提高的历史人物是

- A. 蔡伦
B. 徐光启
C. 毕昇
D. 宋应星



2. 唐太宗曾对大臣说:“为君之道,必须先存百姓,若损百姓以奉其身,犹割股以啖腹,腹饱而身毙。”以下措施中最能体现这一言论的是

- A. 发展完善三省六部制
B. 注重文教,编修经籍
C. 励精图治,重用贤能
D. 减轻劳役,减省刑罚

3. 右图文献反映了千百年来农民要求得到土地的强烈愿望,提出建立“有田同耕,有饭同食,有衣同穿,有钱同使,无处不均匀,无人不保暖”的理想社会。关于该文献的说法正确的是

- A. 带有很大的空想色彩,在实践中难以实施
B. 使全国土地得到平均分配
C. 解决了广大农民的土地问题
D. 有利于消除社会的不平等现象



4. 在中国共产党组织和推动下,从 1922 年初到 1923 年春,全国爆发的罢工斗争达 100 多次,参加人数达 30 万以上。由此可见,当时党的中心工作是

- A. 发展党的组织
B. 领导工人运动
C. 解决农民问题
D. 开展军事斗争

5. 历史学家张荫麟评述某一重大历史事件时说:“我们正处在中国有史以来最大转变关头,第一次全民族一心一意地在血泊和瓦砾场中奋争以创造一个赫然在望的新时代。”该历史事件是

- A. 抗日战争
B. 解放战争
C. 北伐战争
D. 南京解放

6. 在中国人民政治协商会议第一届全体会议开幕式上,毛泽东说:“占人类总数四分之一的中国人从此站立起来了。”下列对“中国人从此站立起来了”理解最准确的是

- A. 祖国大陆获得统一
B. 中国实现了民族独立
C. 社会主义基本制度在我国建立起来
D. 中国实现了国家富强

7. 改革开放后,中国特色大国外交全面推进。下列外交成就属于这一时期的有

- ①举办亚太经合组织领导人非正式会议 ②恢复在联合国的合法席位 ③举办“一带一路”国际合

作高峰论坛 ④提出“求同存异”方针

A. ①②

B. ②③

C. ①③

D. ②④

8. 阅读表格,与表格中反映内容相关的是

学校	成立时间	学校	成立时间
博洛尼亚大学	1088 年	维也纳大学	1365 年
牛津大学	1096 年	科因布拉大学	1290 年
剑桥大学	1209 年	巴黎大学	1150 年

①国王与教皇的支持 ②城市的自由和自治 ③选拔官吏的需要 ④教师和学生行会的出现

A. ①②③

B. ①②④

C. ②③④

D. ①③④

9. 马克思曾预言说:“自然科学正在准备一次新的革命。蒸汽大王在前一世纪中翻转了整个世界,现在它的统治已到末日,另外一个大的无比的革命力量……将取而代之。”这场“新的革命”

A. 促使现代工厂制度最终确立

B. 标志着铁路时代的到来

C. 使电力成为新的能源进入生产生活领域

D. 标志着人类社会开始进入“信息时代”

10. 1920 年底,苏维埃俄国国内战争逐渐平息。但是,工厂停工,农业产量急剧下降,饥荒严重。对此,苏俄(联)采取的措施包括

①颁布废除农奴制的法令 ②允许私人经营中小企业 ③实行按劳取酬的工资制 ④建立单一生产资料公有制

A. ①②

B. ①③

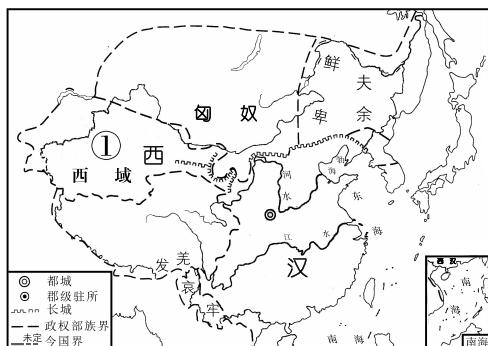
C. ③④

D. ②③

第二部分(非选择题 共 40 分)

二、填空题(共 5 道试题,每题 2 分,每空 1 分,计 10 分)

11. 公元前 60 年,西汉朝廷在①处设置_____,标志着该地区正式归属中央政权;乾隆时期,清朝在②处设置_____,管辖包括巴勒喀什池在内的整个新疆地区。



12. 宋朝时,实行_____政策,杜绝了武将跋扈和兵变政移的情况发生,有利于政权的稳固和社会的安定;为维护集权统治,清朝实行_____政策,一方面,大力提倡尊孔读经,另一方面,把认为是对清朝统治不利的书籍列为禁书,收缴并销毁。

13. _____年,《中华民国临时约法》颁布,这是中国历史上第一部具有资产阶级共和国宪法性质的重要文件;_____年,《中华人民共和国宪法》颁布,这是我国第一部社会主义类型的宪法,也是我国有史以来真正反映人民利益的宪法。

14. 古希腊哲学家_____主张人应该“认识你自己”,这对认识人的内心世界具有重要意义;英国科学家_____是近代自然科学的奠基人之一,由他所编撰的《自然哲学的数学原理》使物理学成为一门独立的学科。

15. 《_____》是第一个以国家名义明确表述资产阶级政治要求的纲领性文件,被称为“第一个人权宣言”;《_____》的签署,标志着世界反法西斯同盟的正式形成。

三、问答题(7分)

(以下两道试题,请任选一题作答,如果两题都答按第16题计分)

16. 战国时期出现的“百家争鸣”产生了哪些影响?(2分)指出秦朝采取的治国思想及其实践措施。(2分)这些措施产生了怎样的效果?(3分)

17. 概括宋朝商业贸易繁荣的表现。(2分)分析宋朝商业贸易繁荣的原因。(2分)繁荣的商业对宋朝社会发展产生了怎样的影响?(3分)

四、材料解析题(共2道试题,计23分)

18. (10分)阅读材料,回答问题。

材料一

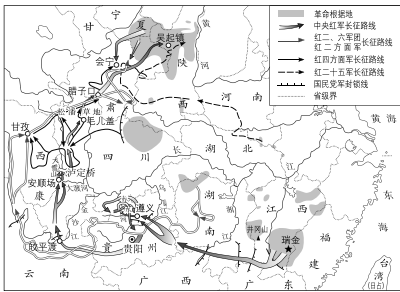


图 A 中国工农红军长征路线示意图

一切都变了,这是分水岭——毛泽东牢牢地掌握了领导权,并且中国共产主义运动宣布独立于莫斯科的指挥棒。从某种意义上说,这二十几个人在这里开会,是为了正式确定长征的领导和方向的彻底改变,从更深远的意义上说,则是中国共产主义革命运动的领导和方向的彻底改变。后来很多人都说,这是整个中国革命史上最重大的一个事件。

——哈里森·埃文斯·索尔兹伯里《长征:前所未闻的故事》

(1)依据材料一,结合所学知识,回答被指为“分水岭”的事件为什么被视为“整个中国革命史上最重大的一个事件”? (2分)材料一示意图反映出中国革命的中心发生了怎样的转移? (1分)该转移对中国革命产生了什么影响? (1分)

材料二



图 B 邓小平在中共十一届三中全会上

胡乔木在谈到十一届三中全会时写道:“我们不是为革命而革命,不是为阶级斗争而斗争。我们的目的还是为了建设社会主义、共产主义,来提高全体人民的物质文化生活水平。”

——金冲及《二十世纪中国史纲》

(2)中共十一届三中全会确定的指导方针是什么? (1分)依据材料二,结合所学知识,指出我国建设“社会主义、共产主义”的目的。(1分)为此,我国的工作中心发生了怎样的变化? (2分)

(3)中国共产党自成立以来,总能带领中国人民历经磨难,化解危机。综合上述材料,谈谈你对中国共产党的责任和使命的认识。(2分)

19. (13分)某校九年级(1)班同学以“美国国家战略”为主题展开探究活动,请你参与。

【门户开放】

材料一

国别	强租租借地	“势力范围”
德国	胶州湾	山东
沙俄	旅大	长城以北、新疆、东北
法国	广州湾	广东、广西、云南
英国	九龙、威海卫	长江流域
日本	\	福建

列强在华强租租借地和划分“势力范围”情况表

在国内反帝爱国运动的压力下,华盛顿会议上,中国代表据理力争,达成山东问题之解决。随后,会议通过的《九国公约》又规定:“施用各种之权势,以期切实设立并维持各国在中国全境之商务实业机会均等之原则。”

——吴于廑、齐世荣《世界史:现代史编(上卷)》

(1)列强在中国掀起瓜分狂潮是在什么条约签订以后?(1分)依据材料一,结合所学知识,分析华盛顿会议上山东问题解决的原因。(2分)概括《九国公约》产生的影响。(1分)

【利益为先】

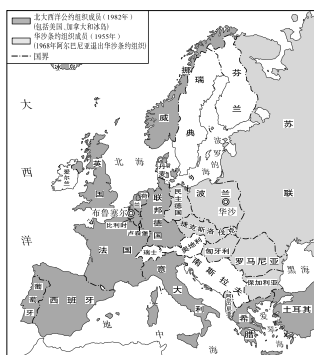
材料二 第一次世界大战后,美国在经济上大力扶植德国。1933年,希特勒成为德国元首……但从1933到1936年,罗斯福政府对纳粹政府的做法并未做出积极反应。不仅如此,美国国会还在1935至1937年间通过了三个中立法,规定政府不得从政治和军事上干预国际争端,尤其是欧洲事务……1939年1月,罗斯福指出,如果让希特勒达到了统治欧洲的目的,美国的和平与安全就将受到危害……此后,美国与英法结盟,并于1941年12月11日对德国宣战。

——陈兼《一九三七至一九四一年美国的对德政策》等

(2)依据材料二,结合所学知识,指出美国政府在1933至1936年对纳粹政府的做法未做出积极反应的原因。(2分)并分析“1941年12月11日对德国宣战”的影响。(1分)

【冷战风云】

材料三



数十年的核军备竞赛,以其恶性循环加剧了冷战,但也控制了冷战,因为它确立和维持了“恐怖平衡”,使得两个超级大国能够彼此对抗和斗争而不兵戎相见。冷战使美国在世界政治的多个重要问题领域和地理领域,形成了显著的美国霸权。

——时殷弘《美苏冷战史:机理、特征和意义》

北大西洋公约组织和华沙条约组织

(3)依据材料三,结合所学知识,分析北约成立的背景。(1分)概括美苏冷战产生的影响。(2分)

【称霸世界】

材料四



苏联解体后,美国成为唯一的超级大国。美国认为自己“最有能力领导这个世界”,企图凭借强大的经济、军事和科技力量,建立一个以美国为主导的“单极世界”。为实现其野心,美国不断加强对其他国家和地区的军事干预,严重干扰着世界的和平与发展。如1999年,以美国为首的北约对南斯拉夫联盟共和国进行了持续78天的轰炸;2003年,美国拉拢部分国家,对伊拉克发动战争;等等。

中美作为世界前两大经济体和联合国安理会常任理事国,应该加强沟通和合作,既办好我们各自国内的事情,又承担起应尽的国际责任,共同推进人类和平与发展的崇高事业。这是中美两国和世界各国人民的共同愿望,也是中美两国领导人的共同使命。

——国家主席习近平同美国总统拜登举行视频会晤时的讲话(2021年11月16日)

(4)依据材料四,结合所学知识,指出威胁当今世界和平与安全的因素。(1分)综合上述材料,你认为在当前的国际形势下,应如何处理好我国与美国的关系?(2分)