

2022 年津南区初中毕业生学业考试模拟试卷

历史

本试卷分为第 I 卷（选择题）和第 II 卷（非选择题）两部分。试卷满分 100 分。考试时间 60 分钟。考试结束后，将试卷和答题卡一并交回。祝各位考生考试顺利！

第 I 卷（选择题 共 50 分）

一、选择题（本大题共 25 小题，每小题 2 分，共 50 分。在每小题所列出的四个选项中，只有一项是符合题目要求的。）

1. 文字是一种文化的载体。文字的出现是社会进入文明阶段的重要标志之一。我国有文字可考的历史开始于

- A. 夏朝
- B. 商朝
- C. 西周
- D. 春秋

2. 某同学在研究成语起源时，有如下发现。这说明百家争鸣

成语	揠苗助长	杞人忧天	滥竽充数	东施效颦
来源	《孟子》	《列子》	《韩非子》	《庄子》

- A. 各派提出各种政治主张和治国方略
- B. 在当时引起了各诸侯国之间的战争
- C. 为中华民族的起源奠定了思想基础
- D. 为中国古代文化的发展奠定了基础

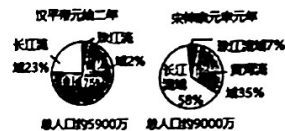
3. 汉武帝在全国产盐铁的地方设立盐铁专卖署，并任命当地的大盐铁商为盐官或铁官，管理煮盐、制造铁器和买卖盐铁等事务。上述措施指的是

- A. 推恩令
- B. 罢黜百家，独尊儒术
- C. 盐铁专卖
- D. 统一度量衡

4. “汉家西域是谁开，博望功成事可哀。斯送壮夫知几许，换将胡物过东来。”诗歌意在强调

- A. 张骞为东西交流作出巨大贡献
- B. 汉武帝以武力促进东西方交流
- C. 班超开通西域带来的积极影响
- D. 丝路开通的意义在于物品交换

5. 下图反映了中国古代不同时期人口区域分布状况，据此推断准确的是



- A. 边疆地区获得开发
- B. 经济重心不断南移
- C. 宋元科技成就显著
- D. 民间贸易十分活跃

6. 下图是小明同学制作的历史知识复习卡片，依据卡片信息判断他复习的历史主题是

●设置澎湖巡检司、管辖澎湖和琉球
●设置北庭都元帅府，管辖西域的军政事务
●设立宣慰使司都元帅府，掌管西藏的军民各项事务

- A. 元初对全国的统治
- B. 元朝在新疆的建制
- C. 元朝对边疆的管辖
- D. 元朝加强对外交往

7. 在中华民族历史发展的长河中，涌现出一大批可歌可泣的民族英雄。戚继光被称为民族英雄，是因为他

- A. 抗辽
- B. 抗金
- C. 抗倭
- D. 抗清

8. “若鸦片一日未绝，本大臣一日不回，誓与此事相始终，断无中止之理。”与此相关的历史人物是

- A. 左宗棠
- B. 林则徐
- C. 洪秀全
- D. 邓世昌

9. 历史学习需要区分历史事实和历史结论，下列属于历史事实的是

- A. 虎门销烟显示了中华民族反抗外来侵略的坚强意志
- B. 第二次鸦片战争进一步加深中国的半殖民地化程度
- C. 第二次鸦片战争前后沙俄割占中国 150 多万平方千米的领土
- D. 鸦片战争改变中国历史发展的进程，成为中国近代史的开端

10. 以下表格内容反映的历史事件的意义是

内容	起止时间：19 世纪 60—90 年代
	代表人物：奕訢、曾国藩、李鸿章
	近代企业：江南机器制造总局、汉阳铁厂

- A. 中国近代化的开端
B. 促进民族工业的进一步发展
C. 确立了民主共和制度
D. 促使封建自然经济开始解体

11. “辛亥革命从根本上确立了中国‘民主共和’的政治方向，因此促进了中华民族的复兴。”这主要体现在当时

- A. 提出三民主义
B. 推翻封建制度
C. 建立民国和颁布《临时约法》
D. 完成反帝反封建的革命任务

12. 在五卅运动中，学生们提出“外争主权，内除国贼”“誓死力争，还我青岛”“废除二十一条”“拒绝在和约上签字”等口号。单从口号中我们可以看出五四运动

- A. 是中国旧民主主义革命的开端
B. 无产阶级登上了历史舞台
C. 是一次反帝反封建的爱国运动
D. 促进了马克思主义的传播

13. 20 世纪 30 年代初，《申报》将“求学、职业、婚姻”栏目改为“我国对国际联盟采取何种主张最为适”、“义勇军的训练怎样能推广开来且持久有效”、“怎样使全国人心团结一致对外”三个问题专版，以下主题适合放入这“三个问题专版”的是

- A. 凡天下田，天下人同耕
B. 外争主权，内除国贼
C. 政权是由枪杆子中取得
D. 大声疾呼，共赴国难

14. 汽车已进入寻常百姓家，新中国汽车工业的发展起步于

- A. 国民经济恢复时期
B. “一五”计划期间
C. “文化大革命”期间
D. 十一届三中全会后

15. 在我国改革开放的创业路上，有两座城市注定大名鼎鼎。一座作为“试验田”，在 1980 年率先拥抱世界；另一座虽为“旧窗口”，却在 1990 年焕发出了新活力。这两座城市分别是

- A. 宁波、汕头
B. 深圳、厦门
C. 海口、珠海
D. 深圳、上海

海南区九年历史试卷 第 3 页 (共 8 页)

16. 观察下图，形成图中所示现象的原因是



- A. 人民公社化运动的推行
B. 农村改革的成功
C. 城市改革的实施
D. 经济特区的建立

17. 新中国成立后，在实现祖国统一大业进程中取得的成果，按时间先后排列正确的是

①西藏和平解放 ②中国对香港恢复行使主权 ③澳门回归祖国 ④海峡两岸隔绝状态被打破

- A. ①④②③
B. ①④③②
C. ②①③④
D. ④①②③

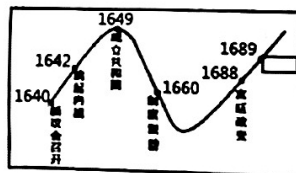
18. 把邓小平理论确定为党的指导思想的会议是

- A. 中共七大
B. 中共八大
C. 中共十三大
D. 中共十五大

19. 透过现象看本质是认识和评价历史现象的重要方法。下列表述属于揭示历史现象本质的是

- A. 1492 年，意大利人哥伦布发现美洲新大陆
B. 1498 年，达·伽马绕过好望角到达印度
C. 1522 年，麦哲伦船队完成了环球航行
D. 新航路的开辟有利于欧洲资本主义的发展

20. 观察下图，方格内最适合填写的内容是



- A. 《权利法案》
B. 《人权宣言》
C. 《独立宣言》
D. 《解放黑人奴隶宣言》

海南区九年历史试卷 第 4 页 (共 8 页)

21. 工业革命是以机器生产取代手工劳动的过程,使人类进入“蒸汽时代”最重要的发明是

- A. 珍妮机 B. 改良蒸汽机 C. 内燃机 D. 发电机

22. 2021 年起,我国餐饮行业禁止使用不可降解一次性塑料吸管。与现代塑料工业诞生有关的人物是

- A. 戴姆勒 B. 海厄特
C. 诺贝尔 D. 夏尔多内

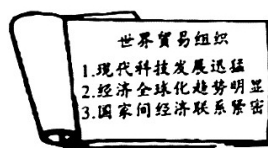
23. 第一次世界大战“大约 900 万人战死,2000 多万人受伤,350 万人终身残疾。德、俄、法、奥的伤亡人数占全部伤亡人数的 66.66%。”材料印证了第一次世界大战

- A. 持续时间特别长 B. 欧洲是主要战场
C. 重新划分了世界 D. 美国的收益最大

24. 在第二次世界大战中,正义力量携手合作,共同抵抗邪恶和暴力。世界反法西斯联盟正式形成的标志是

- A. 三国协约的建立 B. 三国同盟的建立
C. 雅尔塔会议的召开 D. 《联合国宣言》的发表

25. 下图所示是九年级某同学整理的历史课学习笔记要点。由此判断他学习的是世界贸易组织的



- A. 背景 B. 性质 C. 职能 D. 作用

第 II 卷 (非选择题 共 50 分)

二. 非选择题 (第 26 题 16 分, 第 27 题 18 分, 第 28 题 16 分, 共计 50 分)

26. 小英同学学习中国古代史后,想编写一本《统一多民族国家形成巩固发展史》,以下是他完成的部分目录:

【统一多民族国家形成巩固与发展】

第一章 统一国家的建立

第一节 中央集权制的建立

皇帝制 三公九卿制 郡县制

第二节 经济文化的统一

.....

第三节 民族外交

开灵渠 修长城

第二章

(1) 请你参照第一、三节示例并结合所学知识,补充第二节内容。(6 分)

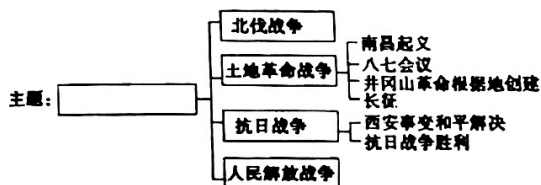
(2) 请你依据本书主题,按照第一章样式续写第二章目录(写出两节即可)。(10 分)

27. 阅读下列材料，回答问题：

材料一 20 世纪 20 年代初，中国共产党诞生于苦难深重的中国。民族独立和社会进步的期望落空，帝国主义在军势力没有受到削弱，封建势力依然盘根错节，中国人民仍然生活在贫穷、落后、动荡、战乱的泥潭中。

——摘编自《为什么中国共产党诞生是历史的必然》

材料二



材料三 中国革命的历史表明，马克思列宁主义不是教条，别国革命经验也不是一成不变的公式。不同国家的无产阶级及其政党，为了把自己国家的人民解放斗争引向胜利发展的道路，就不能拘泥于马克思列宁主义著作中在特定历史条件下、针对具体情况讲的某些个别论断或制定的行动纲领，而必须从本国的历史条件和现实状况出发，与时俱进，因地制宜，学会把马克思列宁主义的基本原理同本国革命具体实际正确地结合起来。

——摘自中共中央党史研究室《中国共产党历史》

(1) 据材料一并结合所学知识，列举 20 世纪初反映中国苦难深重的史实。(4 分，两点即可)

(2) 请为材料二中的思维导图拟定一个恰当的主题，并指出用思维导图整理史实的优点。(6 分)

(3) 材料三的主要观点是什么？(2 分) 请结合材料二的史实予以说明。(6 分)

28. 阅读下列材料，回答问题：

材料一 旧制度所显示的破产导致旧制度的变革，农奴起义不断上升的压力变得不可抗拒起来，尼古拉的继任者亚历山大二世把解放农奴当做代替革命的唯一办法。

——斯塔夫里阿诺斯《全球通史》

(1) 据材料一分析，亚历山大二世解放农奴的原因是什么？(2 分) 这一事件对俄国发展有何积极影响？(2 分)

材料二 “美国黑船压境的傲慢和强势，凸现出幕府的软弱无能，来自外部的压力终于演变为内部变革的助力。……年轻的天皇所要领导的，是一个内忧外患、危机四伏的日本。”

——摘编自《大国崛起》

(2) 面对内忧外患，年轻的天皇进行了一次改革，将日本变成了一个西方影响和日本传统的混合物。请问：这次改革的性质是什么？(2 分) 从民族独立的角度来看，日本这次改革最大的影响是什么？(4 分)

(3) 明治政府制定了什么政策，使日本在 15 年时间内，初步实现了资本主义工业化？(4 分) 对我国当今的改革有何启示？(2 分)