

2022 年莱芜地区初中学业水平考试

历史模拟试题（二）

本试题共 7 页，分选择题部分和非选择题部分，选择题部分满分 50 分，非选择题部分满分 50 分，全卷满分 100 分。考试用时 60 分钟。

答题前，请考生务必将自己的学校、班级、姓名、座位号写在答题卡的规定位置。

答题时，选择题部分每小题选出答案后，用 2B 铅笔把答题卡上对应题目的答案标号涂黑；如需改动，用橡皮擦干净后，再选涂其他答案标号。非选择题部分，用 0.5 毫米黑色签字笔在答题卡上题号所提示的答题区域作答。直接在试题上作答无效。

考试结束后，将本试题和答题卡一并交回。

选择题部分 共 50 分

一、选择题（本大题共 25 小题，每小题 2 分，共 50 分。在以下每小题列出的四个选项中，只有一项是最符合题意的）

- “国无常强，无常弱。奉法者强则国强，奉法者弱则国弱。”这体现了诸子百家中哪一学派的思想主张
 - 道家的“辩证”
 - 儒家的“仁政”
 - 墨家的“兼爱”
 - 法家的“法治”
- 东晋南朝时期，江南许多地区“时和年丰，百姓乐业，谷帛殷阜，几乎家给人足矣。”文中现象出现的主要原因是
 - 江南地区环境优美
 - 南方生产技术先进
 - 北方人口大量南迁
 - 统治者进行改革
- 初三一班的同学学习唐朝历史时，进行了以“盛世经济的繁荣”为主题的研究性学习。下列图片与这一主题相符的是



- 五铢钱
 - 曲辕犁
 - 交子
 - 广州十三行
4. 专制主义中央集权制度在宋代得以强化。为了把地方财赋收归中央，北宋设立的官职是
- 御史大夫
 - 转运使
 - 刺史
 - 通判

5. 《元史》记载：“起朔漠，并西域，平西夏，灭女真，臣高丽，定南诏，遂下江南，而天下为一。”创建了“天下为一”局面的元朝统治者是

A. 赵匡胤

B. 阿保机

C. 铁木真

D. 忽必烈

6. 李约瑟说：“在中国宋代完成的发明和技术发现，改变了西方文明的发展进程，也改变了整个世界的发展进程。”下列科技成就属于宋代的是

A. 贾思勰的《齐民要术》

B. 毕昇发明“活字印刷术”

C. 司马光的《资治通鉴》

D. 宋应星的《天工开物》

7. 右图是小明学习明清时期历史时所做的学习笔记。从中可以看出这一时期最突出的特征是

A. 君主专制强化

B. 中外交往活跃

C. 社会经济繁荣

D. 民族关系融洽

①废除丞相制度

②设立厂卫特务机构

③八股取士

④设立军机处

8. “1662年2月，他指挥将士发动总攻，荷兰殖民长官被迫投降。台湾重新回到祖国的怀抱。”文中的“他”是

A. 文天祥

B. 郑和

C. 戚继光

D. 郑成功

9. 在我国近代的反侵略斗争中，涌现出许多可歌可泣的民族英雄。下表中的民族英雄与哪次战争有关

姓名	籍贯	官职	阵亡地点
邓世昌	广东番禺	副将加提督衔	黄海大东沟
李仁党	湖南桂阳	副将加总兵衔	辽宁盖平
杨用霖	福建闽县	副将	山东刘公岛

A. 鸦片战争

B. 第二次鸦片战争

C. 甲午中日战争

D. 八国联军侵华战争

10. 在中国近代早期探索中，洋务运动和戊戌变法先后发生。它们的相同点是

A. 都主张向西方学习

B. 都阻碍了资本主义的发展

C. 都由地主阶级领导

D. 都使国家迅速强大起来了

11. 周恩来总理曾经说过，新民主主义革命的历史，就是从天安门到天安门。第一个“天安门”是指

A. 鸦片战争

B. 戊戌变法

C. 五四运动

D. 开国大典

12. “停止‘剿共’政策，联合红军抗日”、“召集各党各界各军的救国会议，决定抗日救国

方针”。促成上述协议达成的事件是

A. “九·一八”事变爆发

B. 中共七大召开

C. 西安事变和平解决

D. 重庆谈判成功

13. 解放战争时期，刘邓大军的某一军事行动“像一把尖刀，插入敌人胸膛”。这一行动是指

A. 转战陕北

B. 挺进大别山

C. 攻占锦州

D. 渡江作战

14. 1950年新华社发表了一幅名为《家乡喜讯》的漫画（右图），该漫画中的“喜讯”与哪一文件有关

A. 《中国人民政治协商会议共同纲领》

B. 《中华人民共和国土地改革法》

C. 《中华人民共和国宪法》

D. 《中华人民共和国民法通则》

15. “我们……搞革命的人最容易犯急性病。……这往往使我们不能冷静地分析主客观方面的情况，违反客观世界发展的规律。”邓小平这番话总结的是

A. “闭关自守”导致了国家的落后

B. 对资本主义工商业进行改造的意义

C. “大跃进”和人民公社化运动的教训

D. 建立社会主义市场经济体制的必要性



16. 随着中国国际地位的提高和国际形势的变化，20世纪70年代初，中美关系出现了转机。

两国关系走向正常化开始于

A. 和平共处五项原则的提出

B. 第一届亚非国际会议召开

C. 中美发表《联合公报》

D. 中美正式建立外交关系

17. 公元前1500年左右，雅利安人进入印度后，逐渐建立了严格的社会等级制度，在当时维持了社会秩序和稳定。这个“社会等级制度”是

A. 城邦制度

B. 种姓制度

C. 封君封臣制度

D. 庄园制度

18. “仍然承认奴隶制，但在一定程度上改善奴隶地位”，“对财产、债务、契约关系作出明确规定，奠定欧洲民法基础。”以上史料出自

A. 《罗马民法大全》

B. 《法学汇纂》

C. 《法理概要》

D. 《查士丁尼法典》

19. “马克思主义极大地推进了人类文明进程，至今依然是具有重大国际影响的思想体系和话语体系。”该材料体现的是马克思主义的

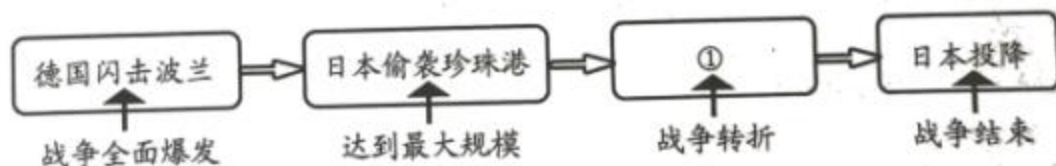
A. 背景

B. 条件

C. 内容

D. 影响

20. “英国开启了议会‘至高无上’的时代，它从根本上解决了民族国家政府建构问题——现在在是‘议会中的国王’，而不再是王朝政府时‘单独的国王’。”确立“议会中的国王”的文件是
- A. 《权利法案》
B. 《独立宣言》
C. 《1787 年宪法》
D. 《人权宣言》
21. 1765 年，哈格里夫斯发明珍妮纺纱机，标志着工业革命的开始。这一事件发生在
- A. 17 世纪前期
B. 17 世纪后期
C. 18 世纪前期
D. 18 世纪后期
22. 林肯就职总统时说：“双方都声称反对战争，可是有一方宁愿打仗而不愿让国家生存，另一方则宁可接受战争……”材料中的“战争”对美国产生的影响是
- A. 废除了封建农奴制
B. 使美国一跃成为超级大国
C. 改变了美国的社会性质
D. 清除了资本主义发展的最大障碍
23. 在谈到一战前的欧洲形势时，一位美国历史学家说：“欧洲变成一只火药桶，只等一粒火星将它引爆。”“一粒火星”是指
- A. 萨拉热窝事件
B. 凡尔登战役
C. 《凡尔赛条约》
D. 华盛顿会议
24. 1922 年召开的华盛顿会议上，美国运用外交手段使各国承认“在中国境内都有平等的通商权利”。其真正的目的是
- A. 尊重中国主权
B. 与中国结盟
C. 追求“门户开放”
D. 与列强争夺殖民地
25. 以下示意图呈现了第二次世界大战的主要进程，① 处应是



- A. 莫斯科保卫战
B. 斯大林格勒战役
C. 诺曼底登陆战役
D. 德国无条件投降

非选择题部分 共 50 分

二、非选择题（本大题共 3 小题，26 题 16 分，27 题 18 分，28 题 16 分，共 50 分）

26.（16 分）阅读材料，完成下列要求。

材料一

今海内赖陛下神灵一统，皆为郡县……分天下以为三十六郡，郡置守、卫、监。


——《史记·秦始皇本纪》

愿陛下令诸侯得推恩分子弟，以地侯之。……上以德施，实分其国，不削而稍弱矣。

——《史记·平津侯主父列传》

（1）根据材料一，指出秦始皇与汉武帝在管辖地方的举措上分别进行了怎样的创新？（6 分）

材料二



汉武帝在开发利源方面最重要的还是新经济政策的实施，包括……新货币的发行以及盐、铁、酒的专利权等。

——傅乐成《中国通史》

（2）根据材料二中的图片，从经济角度上分析，秦始皇不同于以往的做法有哪些？材料中汉武帝的“新经济政策”具体指什么？（6 分）

材料三 秦汉时期是中国历史上第一个大一统时期，也是统一多民族国家的奠基时期。政治上，大一统的中央集权制度建立和巩固；经济上，封建经济初步发展；民族关系上，统一的多民族的封建国家形成并不断发展。秦始皇和汉武帝为统一多民族国家建立和巩固作出了重要贡献。

——乔峰美《秦皇汉武 奠基大一统》

（3）根据材料三，秦汉时期具有怎样的历史地位？综合上述材料，概括秦汉时期的阶段特征。（4 分）

27. (18分) 阅读材料, 完成下列要求。

1939年10月, 毛泽东在《〈共产党人〉发刊词》中论述新民主主义理论时, 指出: “统一战线, 武装斗争, 党的建设, 是中国共产党在中国革命中战胜敌人的三个法宝。这是中国共产党的伟大成绩, 也是中国革命的伟大成绩。”

材料一 统一战线: 就是不同的阶级阶层、党派和社会集团等等, 为了共同的目标而联合起来实行统一的行动。

(1) 近代历史上, 国共两党在北伐战争和抗日战争时期分别建立了统一战线。请写出这两条战线的名称。(6分)

材料二

武装斗争: 通常指武装的革命反对武装的反革命, 是被压迫阶级推翻反动统治, 被压迫民族推翻殖民统治的主要斗争形式。



开辟第一块革命根据地

(2) 材料二中右图反映的历史事件有什么重要成果? 中国共产党在领导武装斗争中找到了一条怎样的革命道路?(6分)

材料三

党的建设: 中国共产党的三大优良作风是理论联系实际, 密切联系群众, 批评和自我批评。党的三大优良作风就是党的三大优良传统。



十一届三中全会会场

(3) 十一届三中全会是理论联系实际的典型代表。结合中国实际, 这次会议作出了什么伟大决策? 中国共产党在社会主义现代化建设的实践中探索出了哪一发展道路?(6分)

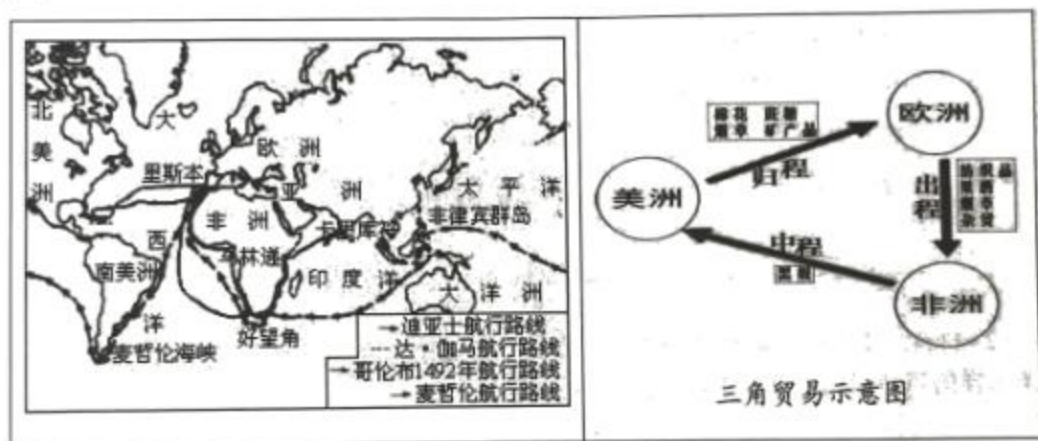
28. (16分) 阅读材料, 完成下列要求。

材料一 在封建主义向资本主义演变的过程中, 开创新制度的思想先驱对于传统文化大都有离异和回归两种倾向。资本主义发展最早的西欧是一种类型, 那里的离异, 主要表现为对中世纪千年黑暗的批判和背离; 那里的回归, 则主要表现为从希腊、罗马古代精神文明中寻求人文主义的力量源泉。

——摘自章开沅《离异与回归》

(1) 根据材料一, 指出“从希腊、罗马古代精神文明中寻求人文主义的力量源泉”是指哪一次思想解放运动? 分析这一运动对于欧洲资本主义发展所起的作用。(4分)

材料二



(2) 材料二反映的是哪两个历史事件? 结合所学知识, 概括这两个事件对欧洲资本主义的发展产生了怎样的积极影响?(6分)

材料三 第544条: 所有权是无限的利用并支配物品的权利, 但利用以不受法律禁止为限……
第545条: 除非供公用并公正的赔偿, 不得强迫任何人放弃自己的财产。

——《拿破仑法典》

(3) 根据材料三, 指出《拿破仑法典》体现了什么原则? 结合所学知识, 写出这一文献在欧洲资本主义发展史上所具有的地位。(6分)

2022 年莱芜地区初中学业水平考试
历史模拟试题（二）参考答案

一、选择题（本大题共 25 小题，每小题 2 分，共 50 分）

1. D 2. C 3. B 4. B 5. D 6. B 7. A 8. D 9. C 10. A
11. C 12. C 13. B 14. B 15. C 16. C 17. B 18. A 19. D 20. A
21. D 22. D 23. A 24. D 25. B

二、非选择题（26 题 16 分，27 题 18 分，28 题 16 分，共 50 分）

26.（16 分）

- （1）创新：秦始皇：郡县制。（3 分）汉武帝：推恩令。（3 分）
（2）做法：统一货币；统一度量衡。（3 分，答出一条即可）
政策：统一铸造五铢钱；盐铁（官营）专卖。（3 分，答出一条即可）
（3）地位：中国历史上第一个大一统时期；统一多民族国家的奠基时期。（2 分，答出一条即可）
特征：统一多民族国家的建立和巩固。（2 分）

27.（18 分）

- （1）名称：革命统一战线（3 分）；抗日民族统一战线。（3 分）
（2）成果：建立了井冈山根据地。（3 分）
道路：井冈山道路（农村包围城市，武装夺取政权。）（3 分）
（3）决策：把中心工作转移到经济建设上来，实行改革开放。（3 分）
道路：中国特色社会主义道路。（3 分）

28.（16 分）

- （1）运动：文艺复兴。（2 分）
作用：推动了欧洲文化思想领域的繁荣；为欧洲资本主义社会的产生和发展奠定了思想文化基础。（2 分，答出一条即可）
（2）事件：探寻新航路；（早期）殖民掠夺。（4 分）
影响：促进了欧洲资本主义的产生和发展；有助于欧洲国家的资本原始积累。（2 分，答出一条即可）
（3）原则：私有财产不受侵犯。（3 分）
地位：保护了资产阶级革命成果；很多国家的民法都以它为参照蓝本；成为资本主义世界法律经典。（3 分，答出一条即可）