

2022 年中考模拟考试试卷 (一)

历史

注意事项:

1. 本试卷分试题卷和答题卡两部分。试题卷共 6 页,分为选择题和非选择题,满分 50 分,考试时间 50 分钟。

2. 试题卷上不要答题,请用 0.5 毫米黑色签字水笔直接把答案写在答题卡上。答在试题卷上无效。

3. 开卷考试,可查阅参考资料,独立答题。

4. 答题前,考生务必将本人姓名、准考证号填写在答题卡第一面的指定位置上。

一、选择题(下列每小题列出的四个选项中,只有一项是最符合题目要求的。共 20 小题,20 分)


1. 下列三幅图片中的文物共同反映了



广汉三星堆遗址青铜大面具



安阳殷墟妇好墓鸮尊



三门峡虢国墓玉柄铁剑

A. 文化中心 尽在中原

B. 封建盛世 经济繁荣

C. 华夏文明 多元一体

D. 青铜工艺 历史悠久

2. 《周礼》记载“六乡”平民按“五人为伍”组成军事编制,与出土甲骨文上所见相符,这表明甲骨文

A. 记载内容非常广泛

B. 具备汉字基本结构

C. 有助了解商朝社会

D. 具有重要史学价值

3. 公元前 221 年,秦始皇接受廷尉李斯的建议,把全国分成三十六郡。这些郡完全听命于中央和皇帝,是中央政府辖下的地方行政单位。这一做法

A. 完善了分封制 B. 加强了中央集权 C. 扩大了秦疆域 D. 顺应了民族交融

4. 唐朝时,中国与 300 多个国家和地区友好往来,大量先进技术传播到其他国家。每年有大批外国使者、商人、学者、僧侣等人员前往长安交流,同时佛教、景教迎来了在中国广泛传播的机会。这些现象表明唐朝时期

A. 民族关系友好 B. 宗教地位提高 C. 对外贸易发达 D. 中外交往活跃

5. 两宋时期，在气候温和、资源丰富的南方，形成了闻名天下的“粮仓”，培育出新的手工业，出现了世界上最早的纸币。这主要是由于

A. 经济重心南移 B. 商品经济发展 C. 大型商帮形成 D. 海外贸易需求

6. 这部著作记载了我国自古以来的农学理论，总结了元、明两代劳动者的农业生产经验，还介绍了欧洲的农田水利技术，成为我国最完备的一部古典农学著作。这部著作是

A. 《齐民要术》 B. 《本草纲目》 C. 《天工开物》 D. 《农政全书》

7. 乾隆五十五年，徽戏班进京贺寿演出，演毕立足京城。在长期实践中，不断从秦腔、汉调、昆曲、京腔等剧种汲取营养，经数十年演变，形成京剧。材料主要说明

A. 京剧由多剧种组成 B. 戏曲在融合中创新

C. 京剧深受帝王喜爱 D. 戏曲源于现实生活

8. 1844 年，美国特使顾盛向国务院的报告中说：“美国及其他国家，必须感谢英国，因为他订立了的《南京条约》，开放了中国门户”。下列条款能体现这一观点的是

A. 五口通商 B. 割让香港 C. 战争赔款 D. 关税协定

9. 1872 年 5 月《申报》记载“但欲致富强，必先增广贸易，暨用机器以收织造之益，立电报以速音信之通，劝民出洋贸易雇工”。这些现象说明洋务运动

A. 使中国走上富强道路 B. 促进民族资本主义产生

C. 推动中国近代化进程 D. 抵御西方列强经济入侵

10. 下表是中国近代民族工业发展变化情况统计，导致 1912—1919 年期间数据变化的主要原因是

| 年份 | 新办民族工业 总数/家 | 新增民族工业资 金总额/万元 | 平均每年设 厂数/家 | 平均每年新增 资本/万元 |
|-----------|----------------|-------------------|---------------|-----------------|
| 1869-1894 | 50 多 | 500 多 | 1.42 | 14.1 |
| 1894-1900 | 100 | 4500 | 16.7 | 750 |
| 1901-1911 | 340 | 5600 | 31 | 510 |
| 1912-1919 | 600 多 | 13000 | 75 | 1625 |

A. 清政府放宽民间设厂的限制 B. 外资企业在中国大规模投资

C. 民族资产阶级爱国意识增强 D. 西方列强暂时放松对中国的经济侵略

11. 八年浴血抗战，共产党的军队在敌后极端艰难的条件下坚持下来，吸引大量日、伪军队在敌后战场，历经大小战斗 12.5 万次，打击和牵制 70% 的日军，几乎全部的伪军。

材料旨在强调

A. 共产党坚持领导全民族抗战

B. 敌后战场与正面战争相互配合

C. 敌后战场是抗战的中流砥柱

D. 中国为维护世界和平作出贡献

12. 1947年下半年, 人民解放战争转入战略进攻的新形势, 广大农民革命和生产的积极性高涨。据统计, 共有六十万农民参军, 六千万人民支援前线, 为解放战争提供源源不断的人力和物力支持。出现这种局面的主要原因是

A. 国民党的黑暗统治

B. 共产党的宣传动员

C. 解放区的土地改革

D. 解放战争顺应民意

13. “车轮飞转东西南北追风去, 钢水奔腾春夏秋冬入眼来”, 20 世纪 50 年代的这幅春联反映的时代主题是

A. 巩固人民政权

B. 工业化的起步

C. 社会主义改造

D. 社会主义探索

14. “敢上苍穹揽月, 不畏艰险启航, 豪情问天, 壮志报国”, 这是感动中国组委会对右图中人物的赞赏。他们感动中国的事迹是

A. 航天强国

B. 扶贫攻坚

C. 国防卫士

D. 科研创新



15. 公元前 4 世纪, 亚历山大东征, 横跨欧亚非三州, 使希腊文明遍布各地。东方的城市出现了优美的希腊式雕塑和建筑, 东方的天文学和数学知识也传入希腊、西方, 丰富了西方的知识宝库。材料强调了

A. 希腊文化的东方化

B. 东西方文明的衰落

C. 东方文化的希腊化

D. 东西方文明的交融

16. 13 世纪的欧洲处于变革的阵痛之中, 在经济上变得越来越商业化和工业化。工商业的兴起促进了城市生活的产生, 新的城市生活又使中世纪社会产生了市民阶级。材料反映了

A. 城市的兴起推动了工商业的繁荣

B. 经济变革改变了社会环境和结构

C. 城市的兴起孕育了资本主义萌芽

D. 经济变革促使封建制度彻底瓦解

17. 法国学者托克维尔写道: 这场革命的效果就是摧毁若干世纪以来绝对统治欧洲大部分人民的通常被称为封建制的那些政治制度, 代之以更一致、更简单、以人人地位平等为基础的社会政治秩序。材料表明这场革命

A. 确立民主共和制度

B. 打击了封建君主专制制度

C. 解放了社会生产力

D. 促进国家经济发展

18. 在世界近代史上, 华盛顿、玻利瓦尔、章西女王是民族解放运动中的杰出代表, 他

们的共同点是

- A. 领导人民获得民族独立
- B. 领导人民反抗英国殖民者
- C. 宣传民主自由的资产阶级思想
- D. 领导的正义的反侵略战争

19. 第二次世界大战初期,孤立主义笼罩之下的世界,反法西斯力量长期处于分散状态。扭转这一现象,使世界从孤立走向联合的事件是

- A. 太平洋战争爆发
- B. 签署《联合国宣言》
- C. 欧洲第二战争开辟
- D. 签署《开罗宣言》


20. 他是近代著名的物理学家、数学家、自然哲学家和天文学家,被誉为百科全书式的“全才”。他为人类建立起理性主义的旗帜,开启工业革命的大门。“他”是

- A. 牛顿
- B. 达尔文
- C. 法拉第
- D. 爱因斯坦

二、非选择题(共5小题,30分)

21. (6分) 阅读下列材料,回答问题。

材料一



《九章算术》,成书于秦汉时期,书分九章,主要用来解决农田测量、粟米称量,农业水利工程测算等国家管理实用问题。



《几何原本》,古希腊欧几里得所著,用公理法建立起演绎的数学体系,将几何知识从经验形态转变为完整逻辑体系。

材料二 中国古代数学与农业经济有着密切关系,当时的思想家和数学家,主要目标是帮助君王统治臣民、管理国家。因此,从文化意义上看,中国古代数学可以说是“管理数学”,存在的形式是官方的文书,其本质是实用主义的目标和机械化的算法体系。在西方,由于商品贸易发达,对计算要求提高,财富的增加使人们有更多时间从事“非实用”的理论研究。古希腊盛行原始的民主制度,讲民主需要用理由说服对方,证明自己坚持的是真理,也需要证明。这使得学术上的辩论风气浓厚,先设一些人人皆同意的“公理”,规定一些名词的意义,然后把要陈述的命题,称为公理的逻辑推论。

——摘编自《中西方古代数学文化比较》

- (1) 根据上述材料,概括古代东西方数学方面的差异,并结合所学知识分析原因。(4分)
- (2) 文明因交流而多彩,因互鉴而丰富。古代数学在不断交流中进步,请结合所学知识举一例加以说明(2分)

22. (6分) 阅读下列材料, 回答问题。

材料一 他们不讨论制度哪个好哪个坏, 转而去思考, 民主社会在欧美为何可能, 在中国为什么却屡屡失败, 整个思考就从制度层面切入到文化心理层面, 那就是没有多数国民的民主觉悟, 没有一种能赋予民主制度以真实生命的广泛心理基础, 是不可能真正建设和组织起“西洋式的社会”“西洋式的国家”的。

——摘编自陈旭麓《近代中国社会的新陈代谢》

材料二 1927年轰轰烈烈的大革命失败以后, 中国革命处在十分危急的关头。无数的中国共产党人, 都在思考、在探寻一条新的出路。就在这时, 以毛泽东为代表的优秀分子, 将马列主义普遍真理与中国革命具体实践相结合……为中国革命的战略转移找到一个落脚点和新的出发点。

——摘编自余伯流、陈钢《井冈山革命根据地全史》

(1) 结合所学知识, 指出材料一中“民主社会……在中国……屡屡失败”的具体史实。

据材料一和所学知识, 分析失败的原因。(3分)

(2) 据材料二和所学知识, 指出“落脚点和新的出发点”分别是指什么?(2分)

(3) 感悟中国近代民主革命历程, 你有何认识?(1分)

23. (6分) 请根据下面图片反映的历史信息, 结合所学知识, 写一篇80-120字的小短文。(要求: 题目自拟, 史实正确, 语句通顺, 表述完整, 体现两幅图片之间的联系)



2001年中国加入世界贸易组织



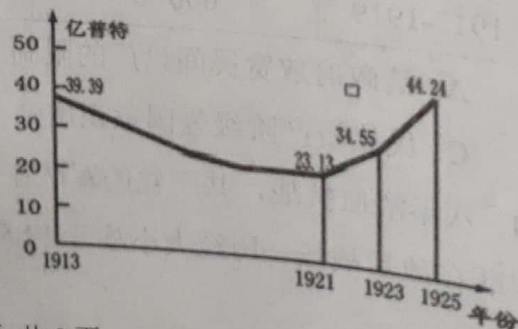
2022年北京冬季奥运会

24. (6分) 阅读下列材料, 回答问题。

材料一 进入19世纪后, 俄国农奴制的种种弊端越来越多地显现出来。1856年克里木战争的失败加剧了俄国专制制度的统治危机。为了摆脱内外交困的局面, 亚历山大二世于1857年1月开始秘密组织人员草拟改革措施, 并于1861年2月颁布了废除农奴制的法令, 还推行国家机关改革、军事改革等。农奴制的废除是俄国现代化进程中的重大里程碑, 为俄国资本主义工业的发展提供了大量的劳动力、广阔的市场。

——摘编自张建华《俄国史》

材料二 (右图) 苏俄(联)粮食产量变化曲线图



材料三 20 世纪 30 年代苏联在斯大林时期建立起高度集中的政治经济体制——斯大林体制，在当时极大的促进了苏联社会的发展，但后来逐渐僵化，弊端日益暴露，从 20 世纪 50 年代开始，先后有赫鲁晓夫、勃列日涅夫……进行改革，不但没有突破这一模式，反而使国家陷入危机之中。

- (1) 材料一反映的是俄国历史上哪次重大改革？为什么说这次改革“是俄国现代化进程中的重大里程碑”？（2 分）
- (2) 根据材料二，概括苏俄（联）在 1921-1925 年粮食产量变化趋势？结合所学知识回答，这一变化与列宁实行的哪一政策有关？（2 分）
- (3) 根据材料三分析苏联解体的根本原因是什么？俄国的发展历程对我国的社会主义建设有何借鉴？（2 分）

25. (6 分) 阅读下列材料，回答问题。


材料一 作为巴黎凡尔赛和会的补充和继续，1921 年 11 月 12 日至 1922 年 2 月 6 日，由美国倡导召开的华盛顿会议，通过了四国条约，五国条约和九国公约，以美国对日本和英国的优势而结束，美、日、英在远东、太平洋地区达成了暂时的妥协，确定了西方列强在远东、太平洋地区的新秩序。

——刘宗绪 黄安年《世界近代现代历史专题 30 讲》

材料二



图一 北约华约对峙图



图二 欧盟会旗

材料三 当今世界正经历百年未有之大变局。一方面，世界多极化进一步发展，新兴市场国家和发展中国家崛起成为不可阻挡的历史潮流，各国人民的命运从未像今天这样紧密相连；另一方面，霸权主义、强权政治依然存在，保护主义、单边主义不断抬头，文明冲突论、文明优越论等错误论调不时沉渣泛起。

——龚群《和平与发展是世界各国人民的共同事业》

- (1) 结合材料一和所学知识，回答巴黎和会与华盛顿会议确立的国际新秩序是什么？《九国公约》对中国产生了怎样的危害？（2 分）
- (2) 结合所学知识，指出材料二中的两幅图片对国际格局分别产生了怎样的影响？（2 分）
- (3) 根据材料三概括当今世界政治格局发展的趋势。结合所学知识，说出中国为世界和平与发展提出的中国方案。（2 分）