

九年级阶段检测 历史试题 2022.4

注意事项:

1. 本试卷分第 I 卷（选择题）和第 II 卷（非选择题）两部分。第 I 卷，满分为 50 分；第 II 卷，满分为 50 分。考试时间为 60 分钟。

2. 答题前，请考生务必将自己的姓名、准考证号、座号、考试科目涂写在答题卡上，并同时将考点、姓名、准考证号、座号填写在试卷规定的位置。

3. 第 I 卷为选择题，每小题选出答案后，用 2B 铅笔把答题卡上对应题目的答案标号涂黑；如需改动，用橡皮擦干净后，再选涂其他答案标号。答案写在试卷上无效。

第 II 卷必须用 0.5 毫米黑色签字笔作答，答案必须写在答题卡各题目指定区域内相应的位置，超出答题区域作答无效。

第 I 卷（选择题 共 50 分）

本大题共 25 小题，每小题 2 分，共 50 分。在每小题所列出的四个选项中，只有一项是符合题目要求的。

1. 《荀子·儒效》：“周公兼制天下，立七十一国，姬姓独居五十三人。”材料中周公“立七十一国”的目的是

- A. 割据称雄，争夺霸主
- B. 奖励军功，授爵赐土
- C. 讨伐商纣，建立政权
- D. 稳定统治，巩固疆土

2. 他大胆地在旧势力很强的秦国对贵族开刀，取消了他们世代享有的特权，规定按军功给予爵位和田宅奴隶，使秦国国富兵强，为最后统一六国开启道路。文中的“他”是

- A. 大禹
- B. 管仲
- C. 商鞅
- D. 李冰

3. 很多历史信息来源于我们对图表的研究与解读。如图所反映的历史事件是秦朝

- A. 统一车轨
- B. 开凿灵渠
- C. 统一货币
- D. 修建长城



4. 新疆是中国领土不可分割的一部分，早在汉代新疆地区就纳入中国版图。该地区正式归属中央政府管辖始于

- A. 丝绸之路的开通
- B. 张骞出使西域
- C. 西域都护的设置
- D. 班超经营西域



5. 历史活动中, 老师列出“三国鼎立”“十六国”“北方游牧民族内迁”“北魏孝文帝改革”等历史资料进行探究, 他探究的主题是

- A. 中华文明的起源
B. 早期国家与社会变革
C. 统一多民族国家的建立
D. 政权分立与民族交融

6. 《新唐书》中写道: “以铜为鉴, 可正衣冠; 以古为鉴, 可知兴替; 以人为鉴, 可明得失。朕尝保此三鉴, 内防己过。今魏徵逝, 一鉴亡矣。”材料中的“朕”在位期间出现了

- A. 文景之治
B. 光武中兴
C. 贞观之治
D. 开元盛世

7. 1652 年, 顺治皇帝下令在京城之北建造西黄寺, 供五世达赖喇嘛居住。此后, 西黄寺成为历代达赖喇嘛入京朝觐的驻地。以上做法加强了中央政府与某边疆地区的联系。这一地区是

- A. 西藏
B. 台湾
C. 新疆
D. 云南

8. 如图是小明笔记中某专题的内容, 该专题应是

罢黜百家, 独尊儒术
废除丞相制度
军机处
文字狱

- A. 思想控制的加强
B. 政治制度的完善
C. 君主集权的强化
D. 民族关系的发展

9. 甲午战败后, 李鸿章自我反省说: “我办了一辈子事, 练兵也, 海军也, 都是纸糊的老虎……不过勉强涂饰, 虚有其表。”李鸿章反省的事件是

- A. 办理洋务运动
B. 签订《南京条约》
C. 镇压戊戌变法
D. 签订《马关条约》

10. 《大国崛起》这样说道: 1900 年, 20 世纪的大幕拉开, 当时的世界大国在我国进行了一次很不光彩的集体亮相。“集体亮相”是指

- A. 鸦片战争
B. 第二次鸦片战争
C. 甲午中日战争
D. 八国联军侵华战争

座号
(考生填写)



11. 如图反映的事件

- A. 成为抗日战争的起点
- B. 标志全民族抗战开始
- C. 表明抗战进入相持阶段
- D. 推动抗战转入反攻阶段



12. 1949年初,北平的王府百货店挂起了庆祝和平解放的大标语。与此情景相关的战役是

- A. 武汉会战
- B. 辽沈战役
- C. 淮海战役
- D. 平津战役

13. 下面是1950年至1952年我国主要农产品产量变化表,反映了我国主要农产品产量获得大幅度增长。出现这一趋势的主要原因是

类别	粮食	棉花	油料
1951年比1950年增长(%)	8.7	48.8	22.4
1952年比1951年增长(%)	14.1	26.5	12.5

- A. 抗美援朝的胜利
- B. 土地改革的进行
- C. 大陆统一的影响
- D. “一五”计划的实施

14. “手工业生产是分散的、落后的、保守的、盲目的,不进行社会主义改造,就不能提高其生产力。”材料讲述的是手工业社会主义改造的

- A. 内容
- B. 背景
- C. 地位
- D. 影响

15. 它是中国对外开放的窗口,是经济特区的代表;被誉为一夜崛起之坡,已发展为有一定影响力的国际化城市,同时享有“设计之都”“钢琴之坡”“创客之城”等美誉。“它”是

- A. 汕头
- B. 厦门
- C. 海南
- D. 深圳

16. “和平统一,一国两制”“努力实现和平统一,中国人不打中国人”“不以政治分歧去影响、干扰两岸经济合作”等言论是针对


- A. 香港问题
- B. 澳门问题
- C. 台湾问题
- D. 西藏问题

17. 2022年北京冬奥会开幕上,冰球运动员与影像冰球击打互动,整块冰立方渐渐碎裂、雕刻成为一个晶莹剔透的“冰雪五环”,意寓“破冰”,即打破隔阂、化解矛盾、走近对



方、互相理解。“尼克松的中国之旅”是中美关系的“破冰”。“尼克松的中国之旅”距今

- A. 45 年
- B. 50 年
- C. 55 年
- D. 60 年



18. 亚历山大在其征服范围内大力推行“希腊化政策”：介绍希腊典籍、推广希腊语言，修造希腊式建筑，新建一系列希腊式城市等。这些政策

- A. 迎来民主政治顶峰
- B. 促进文明向外扩散
- C. 立足传播法制思想
- D. 开启文艺复兴运动

19. 如下北京冬奥会会徽中“数字”的真正发明者是




- A. 阿拉伯人
- B. 古代印度人
- C. 古希腊人
- D. 古代罗马人



20. 文艺复兴“促使欧洲人从以神为中心过渡到以人为中心，在于唤起人的觉醒，使人们把关注的重点从来世转移到现世”。这一论述说明文艺复兴

- A. 有利于人的思想解放
- B. 使世界开始连为一个整体
- C. 推动了新航路的开辟
- D. 剩激了资产阶级革命发生

21. 某同学在开展研究性学习时搜集了以下资料，据此推断他研究的主题是

		
处死查理一世	签署《独立宣言》	攻占巴士底狱

- A. 欧洲迈入近代社会
- B. 资产阶级革命的兴起
- C. 民主共和制的确立
- D. 共产主义运动的高涨



考号：_____
姓名：_____
班级：_____
学校：_____

题
答
要
不
内
线
封
密

22. “应当把商品经济交换提到首要地位，把它作为新经济政策的主要杠杆。同时，实行商品交换，可以刺激农民扩大播种面积和改进农业。”领导“新经济政策”实施的是

- A. 斯大林 B. 罗斯福 C. 列宁 D. 赫鲁晓夫


23. “到9月中旬，德国人已经打到斯大林格勒的中心，在那里，他们陷入了困境……苏军不断前进，1943年2月3日，终于出现了结局。此后，苏联人全线反攻，迫使德国人反攻为守。”这场战役

- A. 标志着二战的全面爆发 B. 促使世界反法西斯联盟建立
C. 使二战达到了最大规模 D. 是第二次世界大战的转折点

24. 1967年“欧共体”成立，1993年“马约”生效，1999年欧元问世。这表明20世纪后期

- A. 欧洲的联合逐步加强 B. 欧洲实现政治经济一体化
C. 欧洲摆脱了美国操纵 D. 欧元已成为世界主要货币

25. 制作年代尺是学习历史的方法之一。对下面年代尺提供的时间，解读最准确的是



- A. 两极格局的形成 B. 一超多强的世界格局
C. 世界多极化趋势 D. 20世纪世界格局的演变



第 11 卷 (非选择题 共 50 分)

注意事项:

1. 第 11 卷为非选择题, 请考生用 0.5 毫米黑色签字笔直接答在答题纸上。
2. 答卷前, 请考生先将考点、姓名、准考证号、座号填写在试卷规定的位置。

26. (18 分) 阅读材料, 完成下列要求。

材料一 贞观、显庆年间, 唐朝曾三次派王玄策出访印度。除了官方的使节往来外, 民间自发的商贸、文化交流活动也极为频繁, 李勉做广州刺史时, 广州每年来华的外国商人, 至少也在 80 万以上。阿拉伯旅行家麦斯俄迭说: “广府城人烟稠密, 仅仅统计伊斯兰教人、基督教人、犹太教人和火祆教人, 就有 20 万。”

(1) 根据材料一, 指出唐朝对外交往活跃的表现。(4 分)

材料二 宋朝时, 随着中国南方的进一步开发和经济重心的南移, 面对北方好战民族的侵袭、围困, 从广州、泉州等地出发的海上航路日益发达, 越走越远, 宋朝发展出中国航海史上的一个高峰。

——李庆新《海上丝绸之路》

(2) 依据材料二并结合所学知识, 概括宋朝海外贸易的特点及其原因。(6 分)

材料三



图一 郑和



图二 戚继光



图三 郑成功

(3) 写出材料三中人物的主要事迹, (6 分) 分析这一时期对外关系的特点。(2 分)



27. (18分) 阅读材料, 完成下列要求。

材料一

时间	事件	影响或意义
① 年	清政府被迫签订中英《南京条约》	是中国近代史上第一个不平等条约
1912 年	孙中山在南京成立临时政府, 宣告 ② 成立	是辛亥革命的重要成果之一
1937 年	日军制造骇人听闻的 ③, 屠杀中国居民和放下武器的士兵达 30 万人以上	是侵华日军公然违反国际条约和人类基本道德准则的残暴行径
1949 年	④ 中人民解放军占领南京	结束了国民党在大陆的统治

(1) 材料一为某中学历史兴趣小组以“南京近代史”为主题进行的研究性学习成果, 请在表格①②③④处填上相应的内容, 帮助他们完成学习成果。(8分)

材料二 早在 1839 年清政府采取严厉禁烟措施之前, 英国资产阶级为了打开中国大门, 就已经在积极酝酿发动对华侵略战争。1839 年中国禁烟运动的开展, 只不过是使他们为发动侵略战争寻找到了一个借口。

(2) 结合所学知识, 指出“中国禁烟运动”的领导者。(3分) 依据材料二, 概况英国发动“对华侵略战争”的目的。(3分)

材料三 有人说, 如果没有鸦片战争砸开我们这个封闭的铁罐头, 中国不知道还要经历几十年、几百年才能进化到现代文明社会。也有人说, 鸦片战争是中国历史的转折点, 给中国人民带来了深重的民族灾难。

(3) 依据材料三并结合所学知识, 从破坏和建设两个方面说明鸦片战争的影响。(4分)



28. (14 分) 阅读材料, 完成下列要求。

材料 世界近代史大事记 (部分)

时间	事件
1861 年 3 月	沙俄政府颁布《关于脱离农奴依附关系的农民一般法令》
1861 年 4 月	林肯发表声明, 宣布南方 7 州发生了违反美国法律的叛乱
1862 年 9 月	《解放黑奴宣言》颁布
1868 年 4 月	明治政府开始颁布一系列改革措施
1879 年	爱迪生创办了“爱迪生电力照明公司”
1903 年 12 月	美国人莱特兄弟制造的飞机试飞成功

——据百度百科编制

- (1) 列举出材料中日本明治政府颁布的两项改革措施。(6 分)
- (2) 选择材料中相互关联的事件, 结合所学自定一个你想论述的观点, 加以阐述或说明。
(要求: 观点正确, 史论结合, 条理清楚) (8 分)

