

2022 年第二次初中学业水平模拟考试

历史试题卷

考生注意:

1. 本卷为开卷考试试卷, 分为试题卷和答题卷, 请将各题答案填写在答题卷上, 不要在试题卷上作答, 否则不给分。
2. 本卷共有两大题, 24 小题, 总分为 80 分, 考试时间为 75 分钟。





一、选择题 (本大题共有 20 小题, 每小题 2 分, 共 40 分。在每小题列出的四个选项中, 只有一个符合题目要求的。请将正确的答案填在后面的括号内)

1. 老子认为“圣人常无心, 以百姓心为心”, 孔子提出“节用而爱人, 使民以时”。二者都主张

- A. 无为而治 B. 重农抑商
C. 儒道一家 D. 以民为本

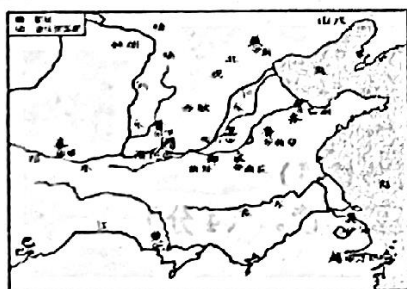
2. 甲骨文包含着丰富的社会历史信息。右边商周时期的甲骨文共同呈现了当时的

- A. 政治状况 B. 经济发展
C. 科技进步 D. 军队建设

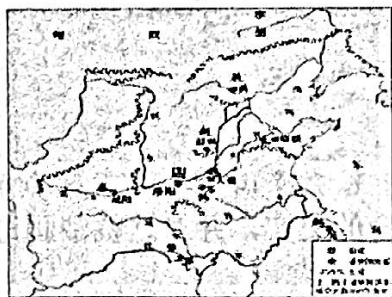
甲骨文				
对应汉字	王	臣	剕	刖

(注: 剕、刖, 均为古代残酷的刑罚)

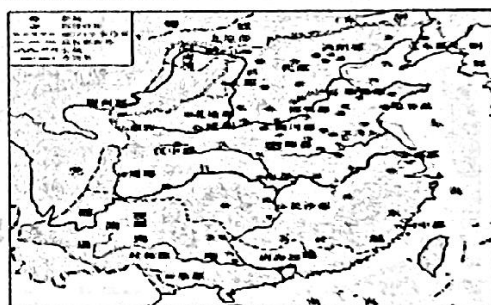
3. 时空观念是历史课程核心素养之一。下列三幅地图反映的历史发展趋势是



春秋列国形势图



战国形势图




秦朝形势图

- A. 分封制度趋于完善 B. 向大一统国家发展
C. 兼并战争连绵不断 D. 统一国家不断巩固

4. “牛”作为吃苦耐劳、默默奉献的精神化身, 在许多中国文物中都能见到它的身影。

右图这组与牛有关的文物反映出汉代

- A. 绘画技巧的成熟
B. 盐铁官营的实施
C. 经济重心的南移
D. 农耕技术的发展



汉代耕作石画像

5. 一方面在与日本、天竺等的交往中, 先进的唐朝文化极大地影响了这些周边国家, 对世界文化的发展做出了贡献; 另一方面, 唐朝也吸收了外来文化的优秀成果, 使唐朝文化更加辉煌。依据材料指出唐朝对外交流的突出特点是

- A. 单向交往 B. 双向交流 C. 闭关锁国 D. 和亲

历史上的民族交往与交融, 促进了中华民族多元一体格局的形成。下列古诗词中的“胡”所指的少数民族分别是

唐诗：《出塞》

【作者】王昌龄

秦时明月汉时关，万里长征人未还。
但使龙城飞将在，不教胡马度阴山。

宋词：《满江红》

【作者】岳飞

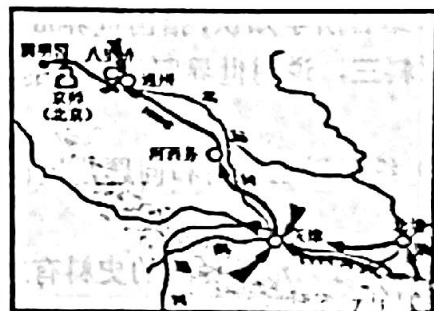
壮志饥餐胡虏肉，笑谈渴饮匈奴血。
待从头，收拾旧山河、朝天阙。

- A. 匈奴、契丹 B. 匈奴、女真 C. 吐蕃、女真 D. 吐蕃、契丹
7. 中华优秀传统文化各领域的杰出成就充分反映了中国先民的智慧。下列对其“智慧”解读正确的是



- A. 《伤寒杂病论》创编了“五禽戏”，提出治未病，帮助人们强身健体
- B. 《史记》记述了从传说中的黄帝到汉武帝时期一千三百多年的历史
- C. 《天工开物》是全面总结中国古代农业、手工业技术的“工艺百科全书”
- D. 《红楼梦》以贾宝玉和林黛玉的爱情悲剧故事为主线，反映清朝的衰落
8. 1661年，驻守台湾的殖民头目写信给郑成功，愿送白银10万两，请求郑军退出台湾。郑成功在回信中义正词严地指出：“然台湾者，中国之土地也，久为贵国所据，今余即来索，则地当归我。”该回信体现了郑成功

- A. 维护国家主权的决心 B. 巩固民族团结的愿望
- C. 抗击倭寇的坚强意志 D. 不怕牺牲的理想信念
9. 认知和探究历史地图，从中提取有效信息，是学习和研究历史的重要方法。与右边线路图相关的史实是



- A. 鸦片战争
- B. 甲午中日战争
- C. 第二次鸦片战争
- D. 八国联军侵华战争
10. 1866年，左宗棠创办福州船政局，附设福州船政学堂。1868年，江南制造总局制造的第一艘近代海轮“惠吉”号下水。1872年轮船招商局成立，“使我内江外海之利，不致为洋人占尽”。1885年，海军衙门设立。上述说明
- A. 洋务派重视与洋人商战 B. 清政府积极主动发展对外贸易
- C. 中国轮船制造技术比西方先进 D. 中国近代海防意识觉醒
11. 某导演筹拍电视剧《1908年北京故事》，剧本中有以下场景，你认为其中有明显历史错误的是

- ①几个来京参加科举考试的读书人正在找客栈住宿 ②何先生到东交民巷看望父母
- ③王先生在街上遇到两个京师大学堂的学生 ④朋友相见多行握手、鞠躬礼
- ⑤清军到处搜捕革命党人，见到剪了辫子的就重点盘查

- A. ①②③④ B. ①②④ C. ①②④⑤ D. ①②⑤

12. 某班同学在历史剧表演时，使用了如右图两件道具：据此判断，该历史剧的主题可能是
- A. 五四风云 B. 北伐凯歌
- C. 长征岁月 D. 抗日烽火



13. 阅读历史书籍需要关注章节标题，从而把握内容的主旨。根据右图中的内容，你认为最适当的标题是

- A. 新中国的成立和巩固
- B. 民族团结和祖国统一
- C. 社会主义道路的探索
- D. 国防建设与外交成就

标题

- 第一节 民族大团结
- 第二节 香港和澳门回归祖国
- 第三节 海峡两岸的交往

14. 1978年秋天，小岗村将生产队的田地分给各家各户实行包产到户，成为农村经济体制改革的排头兵。2006年1月25日，一些村干部召开村民大会，宣布要将土地合并，集中办农场、搞养殖和旅游开发等。两次土地政策的调整表明

- A. 分田到户不利于农业发展
- B. 土地合并违背了国家政策
- C. 农村经济体制要适时调整
- D. 土地所有制性质发生变化

15. 如下图，“两个辛丑年的对比”的图片在互联网热传。1901年（辛丑年），包括美国在内的列强强迫中国签下丧权辱国的《辛丑条约》，去年（辛丑年），中方杨洁篪在中美高层战略对话中正告美国：“美国没有资格居高临下同中国说话，中国人不吃这一套。”这种外交情况的变化



1901年辛丑年 《辛丑条约》签订现场



2021年辛丑年 中美高层战略对话

- A. 打破了美国称霸全球的局面
- B. 有利于促进国际关系民主化
- C. 重新构建了国际政治经济新秩序
- D. 实现了中国与美国外交的分庭抗礼

16. 它曾经三次征服世界：第一次以武力，第二次以宗教，第三次则以法律。而第三次征服也许是其中最为平和、最为持久的一次。材料最适合用来评价

- A. 希腊
- B. 奥斯曼土耳其
- C. 阿拉伯
- D. 罗马


17. 陈衡哲在《西洋史》中提到，文艺复兴(Renaissance)的意义有两个：一是复生(re-birth)，一是新生(new-birth)，这两个意义是都不错的。该提法比较准确反映了

- A. 文艺复兴的兴起与内容
- B. 文艺复兴的原因与结果
- C. 文艺复兴的形式与实质
- D. 文艺复兴的内容与影响

18. 林·亨特在《人权的发明：一部历史》中提到：1689年英国《权利法案》、1789年法国《人权宣言》、1776年美国《独立宣言》被视为这一时期最具代表性的三部人权文献。下列关于上述三部人权文献共性的表述，正确的是

- A. 使本国确立了君主立宪制度
- B. 在反对本国封建统治的斗争中颁布
- C. 体现了三权分立互相制衡原则
- D. 体现了资产阶级的自由、平等思想

19. 1921年在德国一家杂志上刊登了一幅漫画(如右图)，该漫画将英、法、美、意、日比作一只五头怪兽，它将德国踩在脚下，贪婪地将其内脏吞食殆尽。这一漫画适合用来



- A. 说明第一次世界大战的性质
- B. 揭示巴黎和会的实质
- C. 说明召开华盛顿会议的目的
- D. 说明经济大危机的影响

20. 习近平主席在达沃斯世界经济论坛2017年年会主旨演讲中，曾引用英国作家狄更斯的文学名言“这是最好的时代，也是最坏的时代”来形容当今世界，用以揭示

- A. 经济全球化的“双刃剑”影响
- B. 科技进步对社会发展的促进作用
- C. 政治多极化终结了两极格局
- D. 全球范围内的贸易战已经打响

二、综合题 (21 题 8 分, 22 题 8 分, 23 题 11 分, 24 题 13 分, 共 40 分)

21. (8 分) 阅读下列材料, 回答问题。

小张同学学习中国历史后, 想编写一本《中国对外交往史》, 以下是他完成的部分目录:


(1) 请你参照第一、三节示例并结合所学知识,

补充第二节内容。(2 分)

(2) 请你依据本书主题, 按照第一章样式续写第二章目录。(至少写出两节)(6 分)

中国对外交往史	
第一章	中国古代对外交往的演变
第一节	秦汉——对外交往的奠基时期 张骞通西域 丝绸之路
第二节	隋唐——对外交往的高潮时期
第三节	明清——对外交往的发展与转折时期 郑和下西洋 闭关锁国
第二章

22. (8 分) 阅读下列材料, 回答问题。



①五四运动



② 攻占冬宫



③遭到炮轰后的凡尔登



④中共一大上海会址



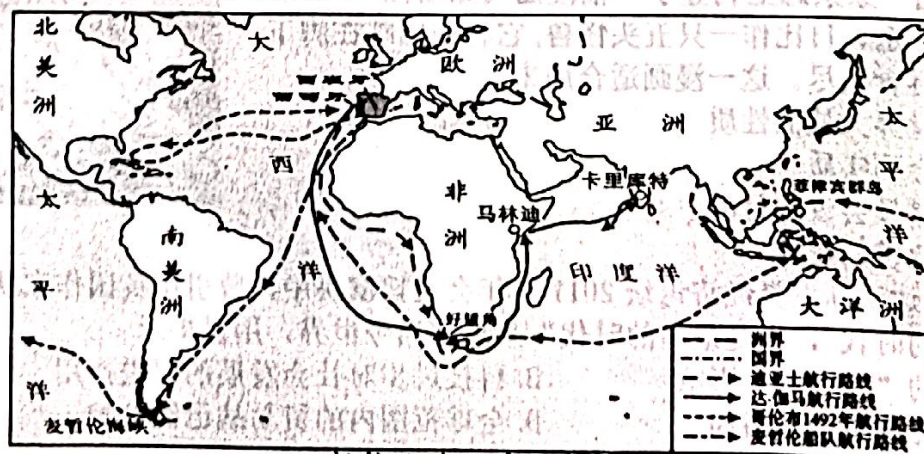
⑤巴黎和会三巨头

(1) 将上述图片反映的历史事件按时间先后顺序进行排序。(只写序号)(2 分)

(2) 将上述图片分成两类(只写序号), 并说明分类的理由。(6 分)

23. (11 分) 阅读下列材料, 回答问题。

材料一:



新航路的开辟示意图

(新航路的开辟)它打破了以往人类文明区域性分割和孤立发展的局面,首次把全球人类联系起来,开始了人类文明一体化的进程。

——马世力主编《世界史纲》(下册)上海人民出版社出版

(1)根据上图,说出横渡大西洋“发现”美洲的是哪一位航海家?(1分)根据材料一,谈谈新航路开辟的影响。(2分)

材料二:电气时代的到来,极大地改变了人类的生产和生活,加强了人类的联系,突破了信息传递的时间和空间障碍,人类联系的速度加快。

——摘编自人教版义务教育历史教师教学用书《世界历史》九下

(2)根据材料二并结合所学知识,指出哪一次工业革命使人类进入了“电气时代”? (1分)列举这次工业革命中与电相关的两项技术发明。(2分)

材料三:1995年1月1日,世界贸易组织正式成立,截至2016年,其成员达到164个。世界贸易组织成立后,其成员的关税水平普遍降低,贸易壁垒进一步减少,促进了全球贸易和世界经济的发展。世界贸易组织已经成为具有重大影响力的国际组织,它与联合国成为支撑、协调世界经济和政治的两大支柱,推动着世界的和平与发展。

——摘编自部编版义务教育教科书《世界历史》(九年级下册)

(3)结合所学知识,指出世界贸易组织的成立顺应了当今世界经济发展的哪一趋势?(1分)根据材料三,说明世界贸易组织的积极作用。(2分)

(4)综合以上材料和问题,谈谈你的认识。(2分)

24. (13分)形式多样的史料有助于我们更好地学习历史。阅读下列材料,回答问题。

【诗词中的历史】

材料一:在某次诗歌征集比赛中,有位网友创作了一首七律诗:

红巾系紧战南昌,打出惊天第一枪。

唤醒全民忠报效,建编劲旅勇担当。

政权夺取信心满,公义坚持斗志昂。

拔剑征行平四海,军旗猎猎守家邦。

(1)根据材料一并结合所学知识,指出这首诗是为纪念哪一历史事件而作。(2分)

【红书中的历史】

材料二:史砚芬烈士知道自己将不久于人世,史砚芬最放心不下的就是未成年的弟弟妹妹。他拖着伤痕累累的身体,坐在狱中昏黄的灯光下,尽全力在纸上写下了留给亲人的最后一封信:亲爱的弟弟妹妹:我今与你们永诀了。妹妹,你年长些,从此以后你是家长了,身兼父母兄长的重大责任。我本不应当把这重大的担子放在你身上,抛弃你们,但为着了大我不能不对你们忍心些,我相信你们在痛哭之余,必能谅解我的苦衷而原谅我。……民国17年5月5日。

——摘自《学习强国·党史频道·红色家书》

(2)根据材料二并结合所学知识,写出史砚芬烈士牺牲的历史背景。(2分)

【歌曲中的历史】

材料三：

1=C 2/4
明快有力

光未然 词
冼星海 曲

i i 3 | 5 - | i i 3 | 5 - | 3 3 5 | i i |
风 在 吼， 马 在 叫， 黄河 在 咆 哮。

6 6 4 | 2 2 | 5 6 5 4 | 3 2 3 | 5 6 5 4 | 3 2 3 1 |
黄 河 在 咆 哮， 河 西 山 岗 万 丈 高， 河 东 河 北 高 粱 熟 了。

5 6 | i 3 | 5 3 2 1 | 6 6 | 3 - | 6 6 | i 3 |
万 山 丛 中， 抗 日 英 雄 真 不 少， 青 纱 帐 里，


5 3 2 1 | 5 6 | i - | 5 3 5 6 5 | i i 0 | 5 3 5 6 5 |
周 恩 来 是 英 豪， 周 恩 来 是 英 豪， 周 恩 来 是 英 豪，

2 2 0 | 5 6 i i | 0 5 6 | 2 2 5 6 | 3 2 1 | 5 6 |
长 河， 保 卫 家 乡！ 保 卫 家 乡！ 保 卫 家 乡！ 保 卫 家 乡！

(3) 根据材料三和所学知识，写出这首歌曲创作的时代主题。(2分)

【油画中的历史】

材料四：



(油画《占领总统府》陈逸飞 魏景山 中国人民革命军事博物馆藏)

(4) 结合所学知识，指出材料四蕴含的史实，并对这幅油画进行简要解读。(4分)

【照片中的历史】

材料五：



(5) 根据材料五并结合所学知识指出照片中的事件有何伟大历史意义。(2分)

(6) 综合上述材料，谈谈你有何认识。(1分)