

2022 年广西北部湾经济区初中学业水平考试模拟卷(二)

历史

(考试时间:60 分钟 满分:60 分)

注意:本试卷分为试题卷和答题卡两部分,答案一律写在答题卡上,在试题卷上作答无效;考试结束后,将本试题卷和答题卡一并交回。

第 I 卷(选择题 共 30 分)

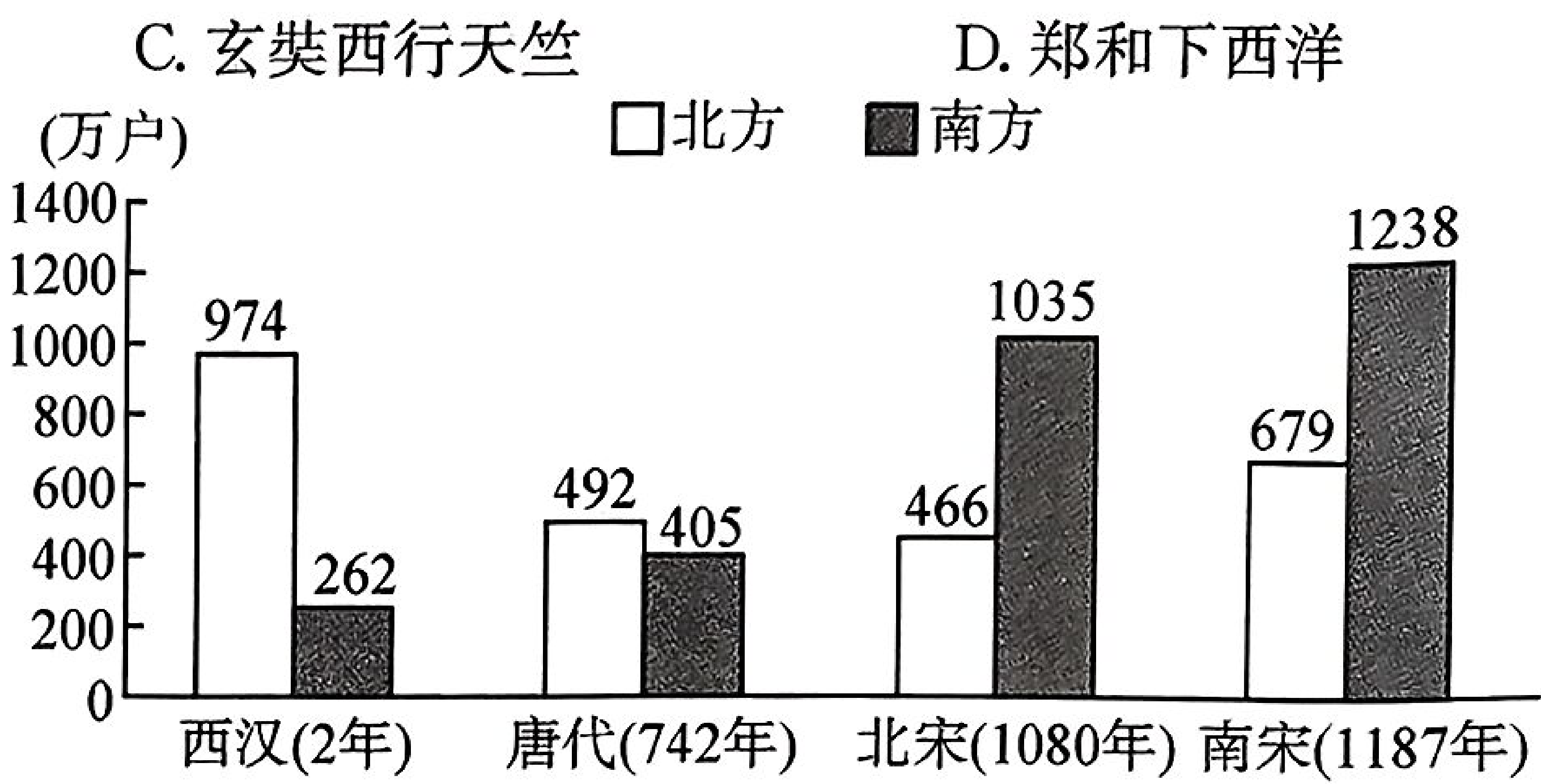
下列各小题给出的四个选项中,只有一个符合题意,请用 2B 铅笔在答题卡上将选定的答案标号涂黑。(本卷共 15 小题,每小题 2 分,共 30 分)

1. “一支支驼队驮着茶叶、桃、梨、杏去了西域,又驮着苜蓿、蚕豆、石榴、黄瓜来到中原,加强了西域、中亚地区和中原的经济文化联系。”这得益于

- A. 丝绸之路的开通      B. 甘英出使大秦      C. 玄奘西行天竺      D. 郑和下西洋

2. 右图呈现了西汉至南宋时期,我国南方与北方人口(单位:万户)的变化情况。这说明

- A. 中央集权加强  
B. 南方赋税沉重  
C. 北方生活繁荣  
D. 经济重心南移



3. 小刚同学制作了一份以“传承中国古代优秀传统文化”为主题的思维导图。他设计的内容搭配正确的是

- A. 唐代诗人——李清照      B. 宋代词人——杜甫  
C. 明朝小说——《西游记》      D. 清朝戏曲——《牡丹亭》

4. “苟利国家生死以,岂因祸福避趋之”,林则徐的这一联诗句被习近平总书记视为饱含着“报国情怀”。能充分体现林则徐“报国情怀”的是

- A. 虎门销烟      B. 三元里抗英      C. 洋务运动      D. 平壤战役

5. 制作学习卡片整理归纳,是历史学习的方法之一。右图是小明同学做的学习卡片,据此判断他学习的主题是

- A. 侵略与反抗      B. 近代化探索  
C. 思想解放运动      D. 改革与革命

主题	
第 4 课	洋务运动
第 6 课	戊戌变法
第 9 课	辛亥革命
第 12 课	新文化运动

6. “它”不仅是近代中国旧民主主义革命走向新民主主义革命的转折点,并且促进了马克思主义在中国的传播,为中国共产党成立做了思想上的准备。“它”指的是

- A. 五四运动      B. 南昌起义      C. 八七会议      D. 红军长征

7. 下图以“转”字串起中国革命的某一段历史,这段历史中红军发扬的精神品质是



- A. 团结抗日的精神      B. 爱国进步的精神      C. 革命英雄主义精神      D. 开拓创新的精神

8. 史论结合是历史学习的基本方法。下列抗日战争时期发生的著名战役与意义搭配正确的是

选项	战役	意义
A	平型关大捷	抗战以来中国军队取得的最大胜利
B	武汉会战	打破了日军三个月灭亡中国的迷梦
C	台儿庄战役	抗战以来正面战场取得的第一场胜利
D	百团大战	中国军队主动出击日军规模最大的战役



9. 目前我国正处在社会主义的初级阶段。标志我国开始进入社会主义初级阶段的事件是  
A. 中华人民共和国宣告成立 B. 《中华人民共和国宪法》的制定  
C. 三大改造的基本完成 D. 第一个五年计划的开始
10. 著名学者刘景华在《人类六千年》中写道：“由于层层封受土地，9 世纪至 10 世纪的西欧便形成了一种金字塔式的封建等级关系。”这种“金字塔式的封建等级关系”的特点是  
A. “人人生而平等” B. “我的附庸的附庸不是我的附庸”  
C. “城市的空气使人自由” D. 中世纪教育“最美好的花朵”
11. 某历史小组学生探究某历史主题，关键词分别是“英国资产阶级革命”、“独立战争”、“法国大革命”，由此判断他们研究的主题是  
A. 走向近代 B. 资本主义制度的初步确立  
C. 殖民地人民的反抗 D. 资本主义制度的扩展
12. 1800 年，大约五分之一的英国人口居住在农村，而接下来的一个世纪中，全国大约有三分之二的农村人口来城里工作和生活。这一变化体现的趋势是  
A. 英国进行资产阶级革命 B. 英国不断殖民扩张  
C. 英国兴起民族解放运动 D. 英国城市化进程加快
13. 英国前首相撒切尔夫人说：“社会有一个梯子和一张安全网，梯子用来供人们自己努力改善生活，安全网则用来防止人们跌入深渊。”这里的“安全网”是指包括医疗保健服务、养老、住房、失业保险和教育等在内的  
A. 资本主义制度 B. 市场经济体制  
C. 计划经济体制 D. 社会保障制度
14. 下列选项中，具有解决贸易争端职能的国际组织是



联合国

A



世界贸易组织

B



世界银行

C



World Health organization  
世界卫生组织

D

15. 史料是历史学习的重要素材。一手史料是当事人、亲历者直接记录或留下的资料和遗物、遗迹等。如果我们研究联合国维护世界和平与安全方面发挥的积极作用，以下可作为一手史料使用的是  
A. 《联合国维和行动的困境及前景》 B. 维和部队中某主官的工作日记  
C. 电影作品《维和战士》 D. 某同学的历史课堂笔记

## 第Ⅱ卷(非选择题 共 30 分)

16. (9 分)“五十六个民族，五十六个家，五十六个兄弟姐妹是一家。”我国从秦朝开始建立统一的多民族国家，历朝历代统治者都非常重视民族关系的和谐与稳定，采取了一系列措施巩固了中华民族多元一体化的格局。阅读以下材料，回答问题。

材料一



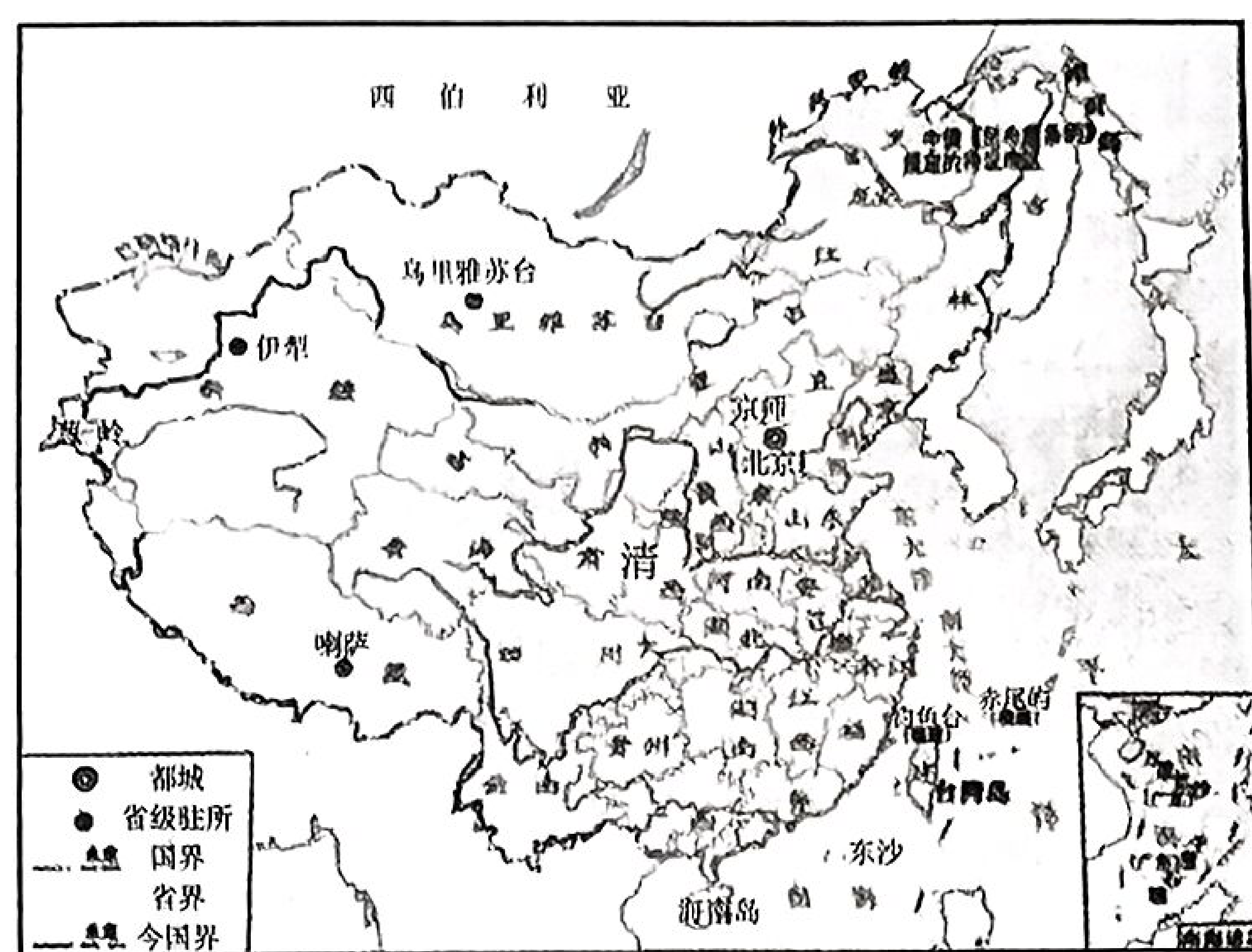
图一 《北魏帝王出御图》

材料二 中华民族在唐朝时进行了大开大合的向心性重组，已经长期培育的民族精神在这一时期因新的因素注入，时代特征尤为突出。唐朝的开放与恢弘是历朝不能比拟的，其恢弘与开放具备以下六个方面的历史条件：从分裂走向统一；统一的中央集权加强；辽阔的疆域；众多的民族；富强的国力；便利的交通。……唐朝是民族交融的又一次高峰期，而这首先表现为民族血缘的交融。

——郑师渠《中华民族精神研究》



### 材料三



图二 清朝疆域图(1820年)

材料四 在党的民族政策光辉照耀下,广西始终坚持民族区域自治制度,切实发挥制度优势,逐步健全完善民族政策和法律法规体系,……全面将各项民族事务纳入法治化轨道管理。……广西深入实施兴边富民行动“六大工程”,滚动实施近400个重点项目,总投资近千亿元,边境地区民族团结、社会稳定、边疆安宁的大好局面得到有效巩固。

——《当代广西》杂志2022年第5期

请回答:

- (1)图一中的人物身穿汉服,这与哪一历史事件有关?(1分)这体现了当时什么样的历史趋势?(1分)
- (2)根据材料二,指出唐朝实行开明的民族政策需要哪些历史条件?(1分)结合所学知识,列举一例史实印证唐朝时期“民族血缘的交融”。(1分)
- (3)根据材料三并结合所学知识,归纳出清朝对西南地区的管辖方式。(2分)
- (4)根据材料四指出,我们国家在少数民族聚居的地方实行什么制度?(1分)请写出材料中,“广西深入实施兴边富民行动‘六大工程’”取得的成效。(1分)作为中华民族的一员,你如何看待国家政策对各民族乃至整个国家的影响?(1分)

17. (10分)为政之道,民生为要。民生是人民幸福之基、社会和谐之本。阅读以下材料,回答问题。

材料一 文帝重视农业,十三年(公元前167年)下诏全免田租;景帝元年(公元前156年)复收田租之半,即三十税一,并成为汉朝定制。文帝时,丁男徭役减为“三年而一事”,算赋也由每年百二十钱减为四十钱。

——翦伯赞:《中国史纲要》(上)

材料二 我们最大的首要任务,是使人民有工作可做。……由政府本身直接募工,可以部分地完成这一任务,政府对待这项任务就像对待战争的紧急状态一样。

——1933年3月4日罗斯福就职演说

### 材料三



图一 农民领取联产承包责任制合同书

材料四 立足于增进各族人民群众民生福祉,广西将民族团结进步创建工作与打赢打好脱贫攻坚战协同推进。……广西376.5万建档立卡少数民族贫困人口全部脱贫,41个少数民族聚居贫困县全部脱贫摘帽,确保全面小康路上一个民族都不掉队。

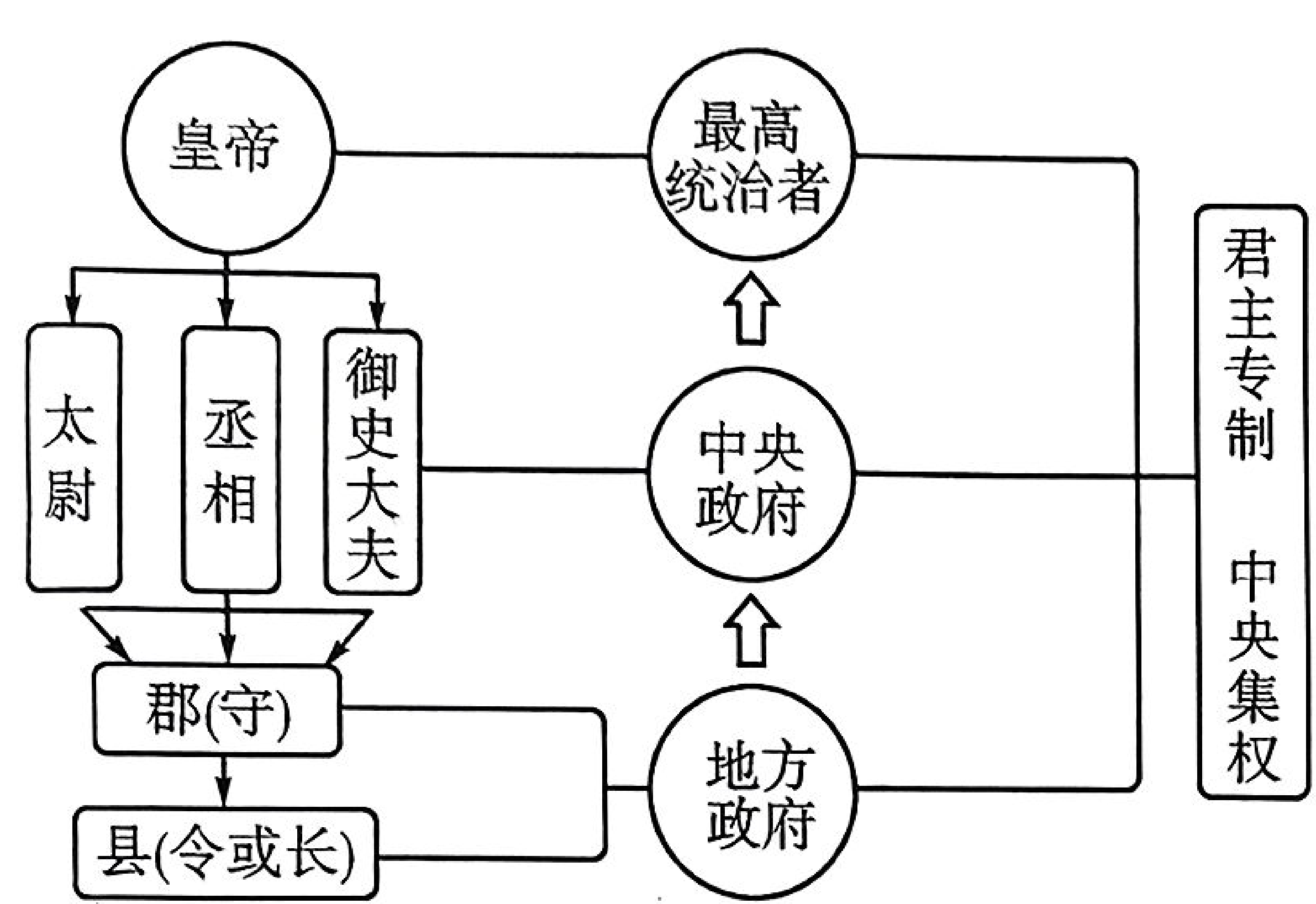
——《当代广西》杂志2022年第5期

请回答:

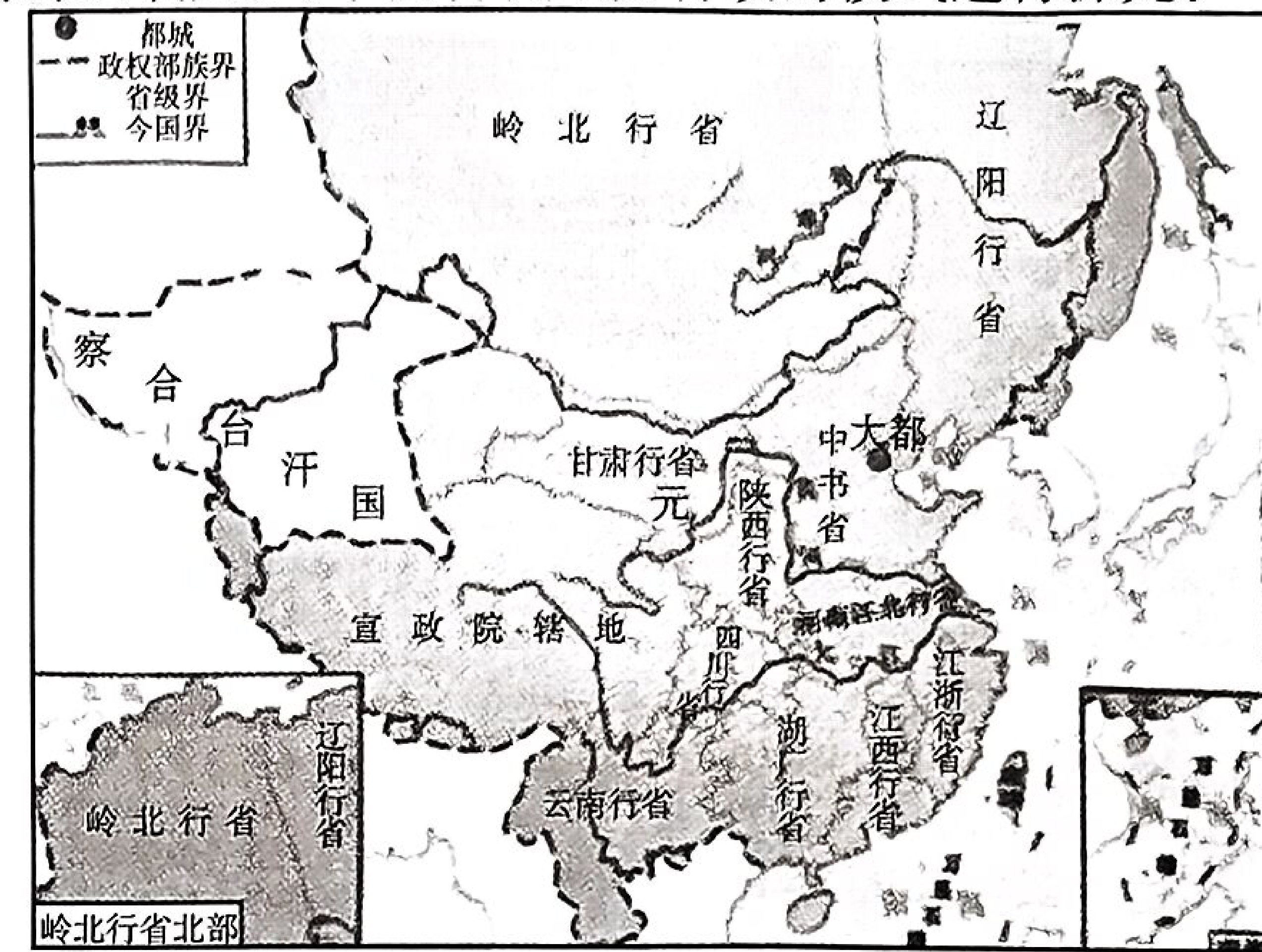
- (1)汉文帝汉景帝注重农业生产,根据材料一概括,他们采取了哪些措施发展农业?(1分)结合所学知识,请写出文景时期出现的治世局面。(1分)



- (2)材料二中“由政府本身募工”的目的是什么？(1分)结合所学知识写出相关的措施。(1分)
- (3)材料三现象的出现与中共十一届三中全会中做出的哪一伟大决策有关？(1分)家庭联产承包责任制的实行对“三农”有何重大作用？(3分)
- (4)根据材料四,简要说明广西在“增进各族人民群众民生福祉”上取得的突破。(注意史论结合。2分)
- 18.(11分)创新是人类发展的动力。九年级1班同学以“古今中外的创新”为主题进行探究式学习,请你帮他们一起完成。
- 【制度创新】第一组同学通过查阅秦朝的政治建制与元朝的疆域图,对中国古代地方行政的模式进行探究。



图一 秦朝的政治建制示意图



图二 元朝疆域图

- (1)根据图一指出,秦朝在地方实行的是什么制度？(1分)该制度的实行有何历史意义？(1分)到了元朝,地方行政有所创新,请你根据图二的疆域图,写出包含广西在内的行省名称。(1分)

【科技创新】第二组同学通过英国轨道交通发展概况,对科技影响交通进行探究。

英国轨道交通发展概况(部分)

时间	大事记
1775 年	英国人约翰乌特兰发明有轨马车,靠马匹牵引车辆,车轮在钢制轨道上滚动行使
1825 年	蒸汽机车“旅行者号”试行成功,加快行进速度达每小时 15 英里
1830 年	从利物浦到曼彻斯特的第一条公共铁路线开通,长 32 英里

- (2)英国近代交通运输在动力方面有什么变化？(1分)结合所学知识,分析带来这种变化的原因是什么？(1分)

【道路创新】第三组同学通过学习中国共产党党史,对中国的革命道路和建设道路进行探究。

必须坚持走自己的路。无论搞革命、搞建设、搞改革,道路问题都是最根本的问题。邓小平同志指出:“把马克思主义的普遍真理同我国的具体实践结合起来,走自己的道路。”新民主主义革命时期是这样走过来的,改革开放历史新时期也是这样走过来的。

——摘编自习近平《论中国共产党历史》

- (3)分别指出,在新民主主义革命时期和改革开放新时期,中国共产党探索出怎样的革命道路与建设道路？(2分)它们都体现了邓小平的什么观点？(1分)

【总结观点】在各组交流探究成果的基础上,李老师分析了三则读书笔记,供同学们研读。

政治制度的创新与更迭,与中央对地方的管辖和治理息息相关。	交通运输业的发展离不开交通工具的不断创新,而科技的发展是交通工具创新的关键。	立足于国情,同时对外来优秀理论文化进行“本土化”的创新,是坚持走自己的路、走好自己的路的关键。
------------------------------	--	---

- (4)请你选取其中一则读书笔记提炼出观点,结合前面的探究成果及所学知识进行简要论述。(要求:围绕主题,观点明确,史论结合,逻辑清晰。3分)