

初中学生学业水平模拟考试试题(第一次)

历史

2022.4

注意事项:

1. 本试卷分第 I 卷(单项选择题)和第 II 卷(非选择题),共 6 页,满分 100 分,考试时间 60 分钟。答卷前,考生务必用 0.5 毫米黑色签字笔将自己的姓名、准考证号、座号填写在试卷和答题卡规定的位置。考试结束后,将本试卷和答题卡一并交回。

2. 答题注意事项见答题卡,答在本试卷上不得分。

第 I 卷(共 50 分)

第 I 卷为单项选择题,共 25 道题,每题 2 分,共 50 分。在每题所列出的四个选项中,只有一项是最符合题目要求的。

1. 习近平主席讲话之所以引人入胜,一个重要原因就在于他善于运用古代典籍、经典名句,给人以思想启迪。其中引用的经典“人视水见形,视民知治不”(人用水作镜子,可以看见自己的形象;一个国家只要用老百姓作镜子,就能知道治理的状况。)体现了诸子百家中

A. 道家顺应自然思想
B. 儒家体察民意思想
C. 墨家互爱互利思想
D. 法家依法治国思想

2. 图 1 中的人物砍削树木,做成兵器,举起反抗旗帜,中国历史上第一次大规模的农民起义由此爆发。这次起义

A. 为推翻秦朝残暴统治奠定了基础
B. 在咸阳建立了“张楚”农民政权
C. 由项羽、刘邦领导分别对秦军作战
D. 在巨鹿之战中歼灭了秦军的主力



图 1

3. 俄国中国学和东方学奠基人比丘林说,他“凿空”西域、开通陆路丝绸之路,“在中国史的重要性,绝不亚于美洲之发现在欧洲史上的重要”。比丘林说的“他”是

A. 张骞
B. 张謇
C. 班固
D. 班勇

4. 西晋皇族司马睿南迁后建立起来的王朝,是中国历史上在江南出现的第一个正统政权。它的建立,有利于抵御北方少数民族政权的南侵;有利于组织和发展南方经济;有利于汉族文化的保存和发展。该政权定都于

A. 成都
B. 洛阳
C. 开封
D. 建康

5. 图 2 中的人物,历尽磨难,经过 4 年长途跋涉到达天竺。他穷一生译经 1335 卷,其足迹遍布印度,影响远至日本、韩国以至全世界,其思想与精神如今已是中國、亚洲乃至世界人民的共同财富。下列关于他的说法错误的是

A. 曾成为天竺远近闻名的佛学大师
B. 为中国佛教的发展作出重大贡献
C. 亲自执笔写成了《大唐西域记》
D. 其思想已是世界人民的共同财富



玄奘西行求法(邮票)

图 2



6. 当金军攻到黄河岸边时,防守黄河南岸的军队全都望风而逃。金军连续好几天渡河,都没有受到任何抵抗。对此,金军的将领感叹道:“南朝可谓无人矣,若有一二千人守河,吾辈岂能渡哉!”这里的“南朝”指的是

A. 东晋 B. 南唐 C. 南宋 D. 南汉

7. 图3中道路是广州城西一条热闹的商业街。因为清朝初年在此设有一贸易机构而得名。该贸易机构

A. 设立说明政府鼓励海外贸易
B. 代外商收购中国进口的商品
C. 负责管理来广州的中国商人
D. 负责承销外国商人进口货物



图3

8. “自今以后,大皇帝恩准英国人民带同所属家眷,寄居大清沿海之广州、福州、厦门、宁波、上海等五处港口,贸易通商无碍……”该引文出自

A. 《南京条约》 B. 《天津条约》 C. 《北京条约》 D. 《辛丑条约》

9. 图4所示照片是孙中山任临时大总统时与参议员的合影,它最可能拍摄于

A. 中华民国临时政府成立当天
B. 清王朝在全国统治结束以后
C. 南京国民党政府成立的时候
D. 中华民国临时政府成立以后



1912年1月28日,临时参议院成立合影

图4

10. 他发现《新青年》主编陈独秀的文章中,也有文学革命之主张,与自己所见略同。这使他又惊又喜,虽无往来而视为知音,去信表述了创造新文学的愿及方略,后又寄去自己的《文学改良刍议》一文。文中的“他”是

A. 陈独秀 B. 胡适 C. 鲁迅 D. 李大钊

11. 9月25日,八路军第115师主力在平型关伏击进犯太原的日军,经过六个多小时的血战,歼敌一千余人,缴获了大批军用物资,在中国抗日战争史上写下了光辉的一页。该战役

A. 粉碎了日军“不可战胜”的神话 B. 打破日本3个月灭亡中国的迷梦
C. 使日本迅速灭亡中国的战略破灭 D. 是正面战场取得的最大一场胜仗

12. 这场揭开了中国人民解放军战略进攻序幕的军事行动,犹如一把“飞来之剑”直插敌人心脏,扭转了解放战争的形势。这一“飞来之剑”是指

A. 百团大战 B. 百万雄师过大江 C. 转战陕北 D. 千里挺进大别山

13. 它前后总计经营了77年,历经晚清、北洋政府、国民政府三个时代,共出版27000余期,是近代中国存在时间最长的中文报纸,是中国现代报纸开端的标志。“它”是

A. 《时务报》 B. 《申报》 C. 《新闻报》 D. 《大公报》

14. “在最后的时刻,他一跃而起,张开双臂用自己的胸膛堵住了地堡的射击孔,敌人的射击哑火了……最终,上甘岭的597.9和537.7两个高地均被我军夺回,这也是我军将士用血肉之躯换来的!”这里的“他”所在的部队属于

A. 解放军 B. 八路军 C. 志愿军 D. 新四军



15. 图 5 中的法令颁布后,有力保障了改革的顺利实施,得到了广大农民的热烈拥护。这说明
- 广大农民过上了比较富裕的生活
 - 广大农民真正成为了土地的主人
 - 土地改革在抗日根据地顺利开展
 - 土地改革在全国大陆彻底完成了



图 5

16. 图 6 所记录的大桥是公路铁路两用桥,上层为公路,双向四车道,两侧有人行道;下层为复线铁路。这座万里长江第一桥的修建为以后长江各处修建大桥积累了成功经验。该桥修建于



图 6

- 第一个五年计划期间
- “文化大革命”期间
- 人民公社化运动时期
- 十一届三中全会以后

17. 3 月 24 日,国台办发言人朱凤莲回答记者说,“九二共识”经过两岸有关方面明确的授权认可,得到两岸民意广泛支持。该“共识”表明

- 海峡两岸关系是一中一台
- 海峡两岸关系延续对立
- 两岸同胞同属于一个国家
- 两岸同胞主张一边一国

18. 2022 年 2 月 21 日,在中国外交部例行记者会上,发言人汪文斌回答美联社记者提问说,50 年前美国总统访华,中美实现了历史性的握手,结束了两国长期隔绝状态。文中“总统”是

- 拜登
- 奥巴马
- 特朗普
- 尼克松

19. 王政时代结束后,国家由执政官、元老院及公民大会三权分立。掌握国家实权的元老院由贵族组成;执政官由从贵族中选举产生,行使最高行政权力;平民所选的保民官,负责保护平民的权利不受贵族侵犯。由此判断这个“国家”是

- 罗马共和国
- 罗马帝国
- 东罗马帝国
- 西罗马帝国

20. 船队航行结束,指挥官的助手埃里·卡诺带领幸存者回到了欧洲,5 条海船、234 人组成的远航船队只剩 1 艘船和 18 个人了。这次历时 3 年的航行,以确凿事实证明地球是圆的,有关地方与地圆的争论宣告结束。下列关于这次航海的说法正确的是

- 奉葡萄牙国王之命
- “指挥官”是麦哲伦
- 发现了美洲新大陆
- 曾经到达印度西海岸

21. 在瓦尔密一战之后,任何持枪佩剑的法国人,都莫不以英雄自命,认为他们所拥护的理想是注定了必胜的。按照他们的“理想”,法国成立了

- 法兰西第一共和国
- 法兰西第一帝国
- 法兰西第二共和国
- 法兰西第二帝国

22. 图 7 所示巨著的出版具有划时代的意义。该巨著的出版

- 在生物科学领域掀起一场革命
- 再现了法国上流社会的变迁史
- 使物理学成为一门独立的学科




图 7



- D. 表达了作者对数学的无限热爱
23. 这是人类历史上第一次胜利的社会主义革命,使社会主义从一种崇高的信仰、理想变成现实的社会主义制度。这里的“革命”是
- A. 印度民族大起义 B. 拉美的独立运动
- C. 俄国的二月革命 D. 俄国的十月革命
24. 1942 年元旦,罗斯福总统、丘吉尔首相与苏联的马克西姆·李维诺夫和中国的宋子文签署了一份简短文件,第二天又有其他二十二国代表签署了这一宣言(图 8)。这一宣言标志着
- A. 世界贸易组织正式建立
- B. 三国同盟三国协议建立
- C. 世界反法西斯同盟建立
- D. 北大西洋公约组织建立
25. 美国总统在致国会的关于援助希腊和土耳其的咨文中,提出以“遏制共产主义”作为国家政治意识形态和对外政策的“指导思想”。该“指导思想”是
- A. 马歇尔计划 B. 杜鲁门主义 C. 欧洲复兴计划 D. 建立“单极世界”




图8 《联合国宣言》

第Ⅱ卷(共 50 分)

第Ⅱ卷为非选择题,共 3 道题,第 26 题 16 分,第 27 题 18 分,28 题 16 分,共 50 分。

26. (16 分)阅读材料,结合所学知识回答问题。

材料一 延平郡王率军两万余人自金门料罗湾出发,进军台湾,奋战 8 个月,于 1662 年登陆台南鹿耳门,迫使侵略者投降,使台湾回归中国版图。收复台湾后,他积极建设台湾。建立行政建制,设一府二县……实行屯垦制度……招来移民,推广中国大陆先进的农业生产技术。

——摘编自《人民政协网》

(1)材料一中的“侵略者”指的是哪个国家的殖民者?收复台湾后,“延平郡王”是如何治理建设台湾的?(5 分)

(2)我国历史上中央政府首次在台湾地区正式设立的行政机构是什么?该机构是哪个朝代设立的?19 世纪末期,台湾被哪个国家占领?半个世纪后,哪一场战争胜利使台湾回到了祖国怀抱?(7 分)



材料二 今年是郑成功收复台湾 360 周年。他是两岸人民共同敬仰的民族英雄,更被台湾同胞视为“守护神”,他的历史功勋永远值得两岸同胞缅怀……回顾历史可知,台湾昔日被殖民统治,是因民族自身弱乱而遭外族掠夺;后因民族复兴、战胜了侵略者而回归中国。

——摘编自《中国日报网》

- (3)材料二认为历史上台湾被殖民者统治以及后来回归祖国的原因有哪些?你认为今天我们纪念郑成功收复台湾有何现实意义?(4分)

27. (18 分) 阅读材料,结合所学知识回答问题。

材料一 中国共产党在一百多年的奋斗历程中,成功开创出两条道路:第一条道路主要是解决民族独立和人民解放问题。一大批共产党人,经过创建、发展红军和农村革命根据地的实践,逐步找到了这条道路;第二条道路主要是解决国家富强、民族振兴和人民幸福问题。这是在改革开放和社会主义现代化建设过程中形成的……

——摘编自《人民网》

- (1)材料一中“第一条道路”是什么道路?这条道路源起于哪一根据地的建立?最初建立该根据地的部队是哪次起义的革命力量?实现“民族独立和人民解放”的标志性事件是什么?(8分)

- (2)材料一中“第二条道路”是什么道路?这条道路是谁明确提出的?为了实现“国家富强、民族振兴、人民幸福”,中国共产党确立了“两个一百年奋斗目标”,其中,第二个一百年奋斗目标是什么?(6分)

材料二 历史一再证明,中国道路的成功开辟是与一个成熟的党紧密联系在一起的……党在十九大对我国社会主要矛盾作出重大判断……中国共产党之所以能够完成近代以来各种政治力量不可能完成的艰巨任务,就在于始终把马克思主义这一科学理论作为自己的行动指南,并不断推进其中国化……

——摘编自《人民网》

- (3)党的“十九大”判断我国社会现阶段的主要矛盾是什么?马克思主义中国化的最新成果是什么?(4分)



28. (16分) 阅读材料, 结合所学知识回答问题。

材料一 见图9、图10

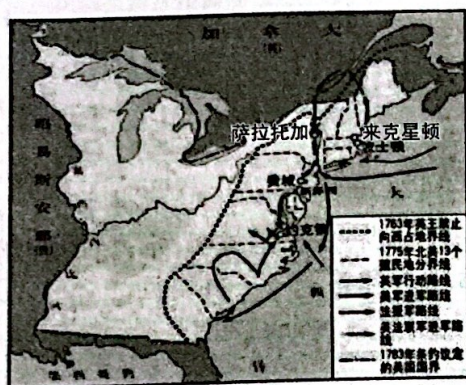


图9

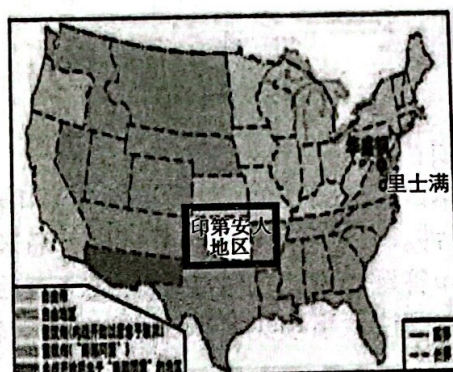


图10

(1) 图9所示战争反对的是哪个殖民国家？该战争的转折点是什么？这次战争结束后，胜利者是如何分配国家权力的？(6分)

(2) 图10方框区域的居民是谁命名的？他的伟大功绩是什么？在该图所示的战争过程中，北方为扭转战场被动局面颁布的法令是什么？(6分)

(3) 综合上述材料，你认为推动该国后来成为世界强国的因素有哪些？第二次世界大战后，该国在世界上的地位如何？(4分)

