

九年级阶段性作业

历史

2022.04

注意事项:

1. 本试卷分第 I 卷(单项选择题)和第 II 卷(非选择题),共 8 页,满分 100 分,考试时间 60 分钟。答卷前,考生务必用 0.5 毫米黑色签字笔将自己的姓名、准考证号、座号填写在试卷和答题卡规定的位置。考试结束后,将本试卷和答题卡一并交回。

2. 答题注意事项见答题卡,答在本试卷上不得分。

第 I 卷(共 50 分)

第 I 卷为单项选择题,共 25 道题,每题 2 分,共 50 分。在每题所列出的四个选项中,只有一项是最符合题目要求的。


1. 文物能够反映一个时代的社会生活,下列文物中,不能反映商朝社会生活的是



A.



B.



C.

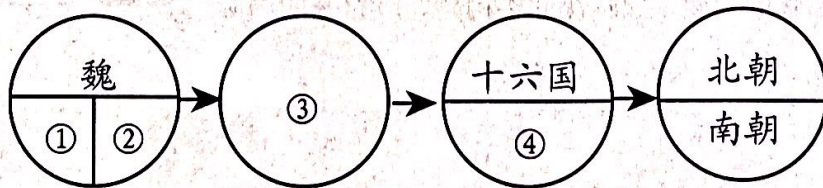


D.

2. “它直接诱导了农民阶级的反抗斗争,打乱了秦王朝的统治秩序,加速了残暴的秦朝统治的灭亡;它也间接影响了自此以后的历次农民起义,为后世农民起义树立了光辉的形象。”材料评述的是

- A. 大泽乡起义 B. 王莽篡政 C. 项羽刘邦起义 D. 黄巾起义

3. 制作图示是学习历史的一种方法。如图是关于三国两晋南北朝时期政权更迭的图示,其中①②③④处应填写的是



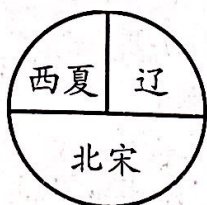
- A. 蜀——吴——东晋——西晋 B. 蜀——吴——西晋——东晋
C. 吴——蜀——西晋——东晋 D. 吴——蜀——东晋——西晋

4. 这是一个发明,它给平民提供参政、做宰相和公卿的机会,我国的这一制度对西方近代文官考试制度的形成产生了较大影响,有人称它为中国古代的“第五大发明”,这一“发明”正式确立的标志是

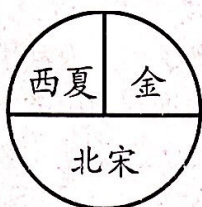
- A. 汉武帝在长安设大学 B. 隋文帝时开始分科考试
C. 隋炀帝创设进士科 D. 武则天设殿试制度



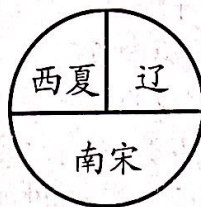
5. 郭靖和杨康都是金先生《射雕英雄传》中的两个重要人物，丘处机给他们起名勿忘“靖康之耻”，他们出生时民族政权并立的示意图是



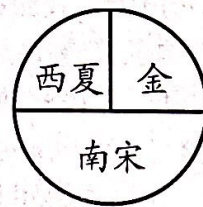
A.



B.



C.



D.

6. 爱国主义是中华民族最为深厚的历史情感是把中华民族坚强团结在一起的精神力量。有“封侯非我意，但愿海波平”豪情；还有“开辟荆榛逐荷夷，十年始克复先基”的决心。这两首诗词分别对应的历史人物是
- A. 鉴真、张骞
B. 戚继光、郑成功
C. 岳飞、郑成功
D. 郑成功、岳飞
7. “对于一个民族、一种文化、一种文明来说，这种变态不仅表现为自视比他人优越，而且在生活中认为世上唯有他们才存在。我们可以形象地称之为集体孤独症。”这里的“集体孤独症”是批判清朝
- A. 实行文化专制
B. 大兴文字狱
C. 实行闭关锁国
D. 设置军机处
8. “硝烟战火何时了，赔款知多少？海边五口又通商，货运往来英佬把家当……问君港岛可曾留？对此只抛泪眼也无谋。”这首诗反映的不平等条约是
- A. 《南京条约》
B. 《天津条约》
C. 《北京条约》
D. 《马关条约》
9. 某校九年级（1）班的历史老师让大家搜集辛亥革命前后的图片资料，同学们搜集的下列图片出现的顺序正确的是



①《中国民国临时约法》

②黄花岗起义

③《民报》

A. ①②③

B. ②①③

C. ③②①

D. ③①②

10. 参观纪念馆是学习历史的重要途径。右下图片“八一”“打响第一枪”所示纪念馆位于

A. 广州

B. 上海

C. 武昌

D. 南昌

11. 《雪庵日记》中写进：“7月28日，北平岌岌可危，报载中国决定正式开战，北平商民人人欢舞”，“7月29日，此次二十九军失败，完全误于宋哲元，和战不定……愧对为国牺牲之佟麟阁和赵登禹等忠魂”，这两篇日记书写时



A. 日军炸毁柳条湖铁路

B. 皖南事变发生

C. 全民族抗战已经开始

D. 武汉会战开始




12. 时任晋冀鲁豫野战军第六旅政治委员刘华清将军的回忆录中记述了某一军事行动：“这是一个月白风清之夜，也正是中国共产党 26 周年生日前夜。在‘打过黄河去，向党的生日做礼’的口号声中，我旅指战员有序地登船。”该军事行动

- A. 打响了武装反抗国民党的第一枪
- B. 点燃了“工农武装割据”的星星之火
- C. 揭开了人民解放军战略进攻的序幕
- D. 基本推翻国民党在大陆的统治

13. 电影《长津湖》中再现了历史一幕：美军在战败南逃路上发现一排排志愿军战士在摄氏零下 40 度的阵地上被冻死，但他们的遗体依然保持着整齐的战斗队形和高度戒备的战斗姿态的壮烈场面。材料不能表明

- A. 志愿军战士坚守着作战阵地并且绝不退缩
- B. 志愿军战士奋不顾身的战斗扭转战争形势
- C. 志愿军战士为取得战争胜利付出巨大牺牲
- D. 志愿军战士用生命诠释“抗美援朝”精神



14. 歌曲《小燕子》作于 1957 年，歌曲第二段的歌词为：“小燕子，告诉你，今年这里更美丽，我们盖起了大工厂，装上了新机器，欢迎你长期住在这里！”这段材料告诉我们，歌曲的创作背景是

- A. 工业化的起步
- B. 资本主义工商业改造
- C. “大跃进”运动
- D. 人民公社化运动

15. 如表是北京、上海、广州、深圳国内生产总值统计表（单位：亿元）。与四个城市国内生产总值发展趋势密切相关的是

年份 \ 城市	北京	上海	广州	深圳
1980 年	137	311	57	2.7
2017 年	2800.4	30133.86	21503.15	22438.39

- A. 经济特区的设立
- B. 国有企业的改革
- C. 国际关系的稳定
- D. 改革开放的深化

16. “百年的耻辱，就在今天洗雪……米字旗降落，宣告一个时代的结束。五星红旗升起一个民族的尊严。”这首诗歌所描述的 1997 年的这一历史事件

- A. 宣告中国真正成为独立自主的国家
- B. 成为中华民族从衰败到振兴的转折点
- C. 翻开了海峡两岸关系历史性的一页
- D. 迈出祖国统一大业道路上的重要一步

17. 习近平主席曾在访美演讲中说道：“我们会永远缅怀当年以非凡战略眼光和卓越政治智慧打开中美友好合作大门的两国老一辈领导人。”当年中美友好合作大门打开所产生的影响包括

- ①为中华人民共和国恢复联合国合法席位铺平了道路
- ②打破了中美外交僵局
- ③有利于维护亚太地区和平稳定
- ④推动了中日关系的改善

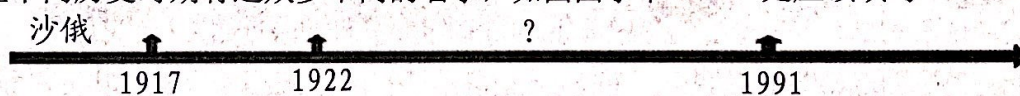
- A. ②③④
- B. ①③④
- C. ①②④
- D. ①②③④

18. 20 世纪五六十年代，话剧《茶馆》《龙须沟》上演，《红岩》等小说出版，《英雄儿女》等电影上映。这些成就的取得直接得益于

- A. “三个面向”的提出
- B. 科教兴国战略的实施
- C. “一五计划”的实施
- D. “双百”方针的提出



19. 在公元前 4 世纪“用最迅速最深入的方式将希腊文化灌注到亚洲”，而“东方的影响也以席卷一切之势涌入西方”。材料认为打通了亚欧商贸通道的历史事件是
- A. 法兰克王国的扩张 B. 亚历山大的扩张
C. 罗马共和国的扩张 D. 罗马帝国的扩张
20. 16 世纪早期，很多人继续探寻哥伦布本人一直在寻找的通往亚洲的水道。然而，人们逐渐认识到这块新的大陆是美洲，而加勒比群岛本身也蕴藏着无数诱人的商机。哥伦布向西半球的航行可谓无心插柳柳成荫。此处的“无心插柳柳成荫”是指哥伦布
- A. 占领了新大陆大片土地 B. 得到国王和许多奖赏
C. 使得东西半球联系起来 D. 给美洲带来新的物种
21. 习近平主席说：“马克思主义不仅深刻改变了世界，也深刻改变了中国。”下列有关马克思主义的说法不正确的是
- A. 《共产党宣言》的发表，标志着马克思主义的诞生
B. 巴黎公社是对马克思主义理论第一次成功的实践
C. 马克思主义诞生后无产阶级斗争有了科学的理论指导
D. 马克思主义是不断开放发展的理论，始终站在时代的前列
22. 《宅地法》规定：凡年满 21 岁，没有参加过叛乱，并且获得土地是以垦殖为目的的美国公民，只要交纳 10 美元登记费，就可以在美国西部得到一块不超过 160 英亩的土地。登记人连续耕种 5 年后，就可以成为这块土地的主人。《宅地法》颁布的直接作用是
- A. 调动了农民的积极性 B. 避免了美国分裂
C. 扩大了美国国土面积 D. 解放了黑人奴隶
23. 苏联在不同历史时期有过众多不同的名字，如图图示中“？”处应该填写



- A. 苏俄 B. 俄国 C. 苏联 D. 俄罗斯
24. 如图漫画中，罗斯福和丘吉尔手中各拿着一根魔术棒，在庆祝一个 1942 年诞生的被称为“联合”的新生儿。这个“新生儿”的诞生标志着
- A. 太平洋战争爆发 B. 凡尔赛——华盛顿体系的建立
C. 第二战场的开辟 D. 世界反法西斯联盟的正式形成
25. 下列图片反映了人类面临的问题，欲解决此类问题，应召开的国际会议是



酸雨破坏的森林



沙漠化的土壤



加速融化的冰山

- A. 金砖国家领导人会议
C. 不结盟国家首脑会议

- B. 联合国环境与发展会议
D. 欧洲联盟首脑会议



第Ⅱ卷（共 50 分）

第Ⅱ卷为非选择题，共 3 道题，第 26 题 16 分，第 27 题 18 分，第 28 题 16 分，共 50 分。

26. (16 分) 阅读材料，结合所学知识回答问题。

材料一 宋代是中国古代科学技术发展史上最辉煌的时期，几乎在所有中国传统科学技术领域都留下了新的记录。举世闻名的四大发明中有三项完成于两宋时期，为推动世界历史的进程和世界文明的发展作出了巨大贡献。

——杨宁一主编《历史学习新视野新知识》

(1) 结合所学知识，指出材料一所说的三项发明分别是什么？根据材料一，概括三项发明的历史作用。(5 分)

材料二 宋元时期，是我国古代发展的高峰时期...，那时经济发展，城市繁荣，航海和对外贸易空前活跃，元朝实现了全国性的统一，中外经济文化交流频繁。两大因素的结合，使宋元文化突飞猛进，涌现了一批著名的科学家和文学家、艺术家，反映了那个时期我国科学技术在世界上的领先地位。

——《宋元时期的科技成就》

(2) 根据材料二，概括指出宋元科技发展的原因。(5 分)

材料三 从世界范围看，明清科技从总体上逐渐从先进转为落后，而且与西方的差距不断拉大。.....读书是为了做官，很少有人去攀登科学的殿堂。没能产生如同期西欧的天文、数学等近代科技。同时，因受封建制度束缚，人才培养不能和社会生产相结合，推动社会发展。

——摘编自《从明清教育解析中国近代科技落后的原因》



(3) 根据材料三, 指出明清科技的发展趋势。结合所学, 概括指出制约明清科技发展的原因有哪些? (6分)

27. (18分) 阅读材料, 结合所学知识回答问题。

材料一 2017年1月3日, 中国教育部基础教育二司发函, 要求在2017年春季教材中全面落实“十四年抗战概念”, 教材中的“八年抗战”一律修改为“十四年抗战”。

材料二 沈阳日军行动, 可作为地方事件, 望力避冲突, 以免事态扩大。一切对日交涉, 听候中央处理。

——1931年9月蒋介石致张学良密电

“如果战端一开, 那就地无分南北, 人无分老幼, 无论何人, 皆有守土抗战之责任……”。

——1937年7月17日, 蒋介石在庐山发表谈话

材料三 日本军国主义者发动对华全面侵略, 最致命的错误是大大低估了中国民众内部深深蕴藏着的那种无穷无尽的力量, 特别是当中华民族处于生死关头时那种万众一心的民族凝聚力, 日本侵略者……以为只要给中国有力的“一击”, 只需要几个月就可以使中国屈服。可是, 他们的算盘完全打错了……

——节选自金冲及《二十世纪中国史纲》

(1) 根据材料一和所学知识, 分别指出“八年抗战”和“十四年抗战”开始的时间和历史事件。(4分)

(2) 结合材料二和所学知识回答, 在对待日军侵略的态度上, 导致蒋介石从“力避冲突”转变为“皆有守土抗战之责任”的重大历史事件是什么? 发动该历史事件的是哪两位将军? (4分)



(3) 据材料三, 打破日军 3 个月灭亡中国的迷梦的是哪一次会战? 列举中国人民在正面战场和敌后战场取得胜利的战役各一例。(6 分)

(4) 综合上述材料, 你认为“当中华民族处于生死关头时”形成的抗战精神是什么?(4 分)

28. (16 分) 阅读材料, 结合所学知识回答问题。

材料一 导致英国迅速崛起的一个重要因素, 便是在(1688 年)宫廷政变之后, 英国建立起了一个适合国情和生产力发展需要的政治体制。这个体制保证了英国社会有一个相对宽松与和平的环境, 从而为社会经济的发展创造了有利的条件。

——摘自洪向华《强国之路》

(1) 材料一中英国建立的政治体制是什么? 该体制的创立与哪一法律文件有关?(4 分)

材料二 “美国宪法之父”麦迪逊曾说, 美国建国之初, 华盛顿们并没有照抄当时英国的民主模式, 而是通过 1787 年费城制宪奠定了美国新体制: 要设计一个由人来统治人的政府, 困难之一就在于要强制政府控制自己。

——摘自王斯德《世界通史》

(2) 据材料二结合所学知识, 美国 1787 年制宪会议确立的“新体制”指的是什么? 美国“新体制”体现的原则是什么?(4 分)



材料三 “法律是公共意志的表现。全国公民都有权亲身或经由其代表去参与法律的制定。

法律对于所有的人，无论是施行保护或处罚都是一样的。在法律面前，所有的公民都是平等的，故他们都能平等地按其能力担任一切官职，公共职位和职务，除德行和才能上的差别外不得有其他差别。”

(3)材料三中的内容源于法国大革命颁布的哪一文献？据材料指出上述法律文献体现了什么思想？(4分)

材料四 《拿破仑法典》如同拿破仑的成就一样，具有两重性。一方面，他采纳了1789年的革命原则：个人自由、法律面前人人平等……但另一方面，它为资产阶级利益着想，首先关心的是确保财产所有权，把这种权利视为自然权利，是先于社会的、绝对的、属于个人的权利，并且保障实际占有的所有权。

——摘自乔治·勒费弗尔《拿破仑时代》

(4)根据材料四，概括《拿破仑法典》体现的基本原则是什么？(4分)

