


2022年初中学业水平考试学情 摸底监测初三历史试题

一、选择题：本大题共 25 小题，每小题 2 分，共 50 分。在每小题所列出的四个选项中，只有一项是符合题意的。

1. 我国是远古人类起源的重要地，已发现的 1 万多处新石器时代遗存分布在黄河流域、长江流域、珠江流域、辽河流域和北方草原文化区。由此可知，中华文明起源的重要特点是（ ）
A. 时间早 B. 多元化 C. 独特性 D. 一元化
2. 战国时期，孟子认为“无礼义，则上下乱”，韩非子认为“义者，君臣上下之事”。他们所说“义”的实质是（ ）
A. 中央集权政治的准则 B. 衡量道德修养的标准
C. 统治阶层的行为规范 D. 维护等级秩序的工具
3. 跪坐习俗是儒家礼教文化的重要组成部分，垂脚高坐被视为傲慢行为。魏晋南北朝时，随着“胡床、胡坐”的传播，汉人的跪坐礼俗逐渐变为垂脚高坐。这一转变体现了（ ）
A. 民族交融的加强 B. 儒学正统地位的丧失
C. 政权分立的加剧 D. 经济重心的南移
4. 某同学以“中国古代人口变迁”为主题搜集到下面一组数据，并由此列举了对应史实。从中可归纳出影响中国古代人口变化的共同因素是（ ）

人口数据	对应史实
秦朝中（3000 万）—西汉初（1650 万）	秦末农民战争、楚汉之争
西汉初（1650 万）—西汉中（5767 万）	休养生息、文景之治
东汉末（5648 万）—西晋初（1616 万）	军阀割据混战、政权分立
明初期（6659 万）—清中期（31300 万）	政局稳定、康乾盛世

- A. 技术进步、土地开发 B. 民族迁徙、中外交往
C. 江南开发、中外交往 D. 战乱纷争、政局稳定
5. 纪录片《帝国商行》中说：他们是一批被历史严重遗忘了的商人，他们经营着大清国全盛时期唯一的中西贸易口岸，他们被西方世界认为是当时世界上最富有的商人。纪录片中的“中西贸易口岸”是（ ）
A. 泉州 B. 明州 C. 广州 D. 上海
6. 如下图为清末杨家埠年画《两国合好》。1895 年 4 月 17 日，清朝李鸿章、李经方和日本内阁总理大臣伊藤博文、外务大臣陆奥宗光，在日本马关春帆楼签订条约。这一条约（ ）



- A. 使中国开始沦为半殖民地半封建社会
B. 割香港岛给日本
C. 大大加深了中国的半殖民地化程度
D. 规定清政府保证严禁人民参加任何形式的反帝活动

7. 有学者认为，中国近代经历了三次大的思想解放运动。第一次是对“华夷之辩”观念的突破，第二次是对“道”、“器”观念的突破，第三次则是对传统文化束缚的突破。下列于“第三次突破”直接相关的是（ ）

- A. 师夷长技以制夷 B. 提倡实业救国
C. 变法图强 D. 提倡民主、科学

8. 某校以“百年历程”为题筹办纪念中国共产党诞生一百周年的大型图片展。下列对中共中央在如图所示会址召开的一次政治局扩大会议的解说，正确的是（ ）



- A. 通过了武装反抗国民党反动统治的方针
B. 确立了“思想建党、政治建军”的原则
C. 纠正了博古等人在军事上和组织上“左”的错误
D. 标志着党在指导思想上的拨乱反正胜利完成

9. 史论结合是学习历史的基本方法。下列史实与结论之间逻辑关系正确的是（ ）

选项	史实	结论
①	西安事变	抗日民族统一战线正式建立
②	七七事变	抗日战争的起点，局部抗战的开始。
③	武汉会战	全民族抗战以来中国军队主动出击取得的第一个胜利
④	台儿庄战役	抗战以来中国正面战场取得的最大的一场胜仗

- A. ① B. ② C. ③ D. ④

10. “不战而屈人之兵”（不战而让敌人屈服），为古往今来兵家所推崇的上策。在解放战争中，下列哪一城市的解放体现这一“上策”？（ ）

- A. 沈阳解放 B. 徐州解放 C. 北平解放 D. 南京解放

11. “第二条中华人民共和国的一切权力属于人民。人民行使国家权力的机关是全国人民代表大会和地方各级人民代表大会。”“第三条……全国人民代表大会和地方各级人民代表大会都由民主选举产生，对人民负责，受人民监督。”宪法条文的首次出现表明（ ）

- A. 政治协商制度建立 B. 基层民主选举制度建立
C. 国内主要矛盾转变 D. 我国根本政治制度形成

12. 古人讲：“文章合为时而著，歌诗合为事而作。”所谓“为时”、“为事”，就是要发时代之先声。高考作文题也能彰显时代精神。1956年山东高考作文题是《我的幸福年代》。这里“幸福年代”的含义是（ ）

- A. 改革开放使人民走上致富之路 B. 大跃进运动使人民丰衣足食
C. 人民公社化运动改善了人民生活 D. 社会主义基本制度的建立

13. 2021 年 2 月 22 日，习近平会见探月工程嫦娥五号任务参研参试人员代表并参观了月球样品和探月工程成果展览。习近平强调要弘扬探月精神，勇攀科技高峰，不断推进中国航天事业创新发展。50 年前我国发射的第一颗人造地球卫星是（ ）

- A. 东方红一号 B. 长征一号 C. 神舟一号 D. 东风一号

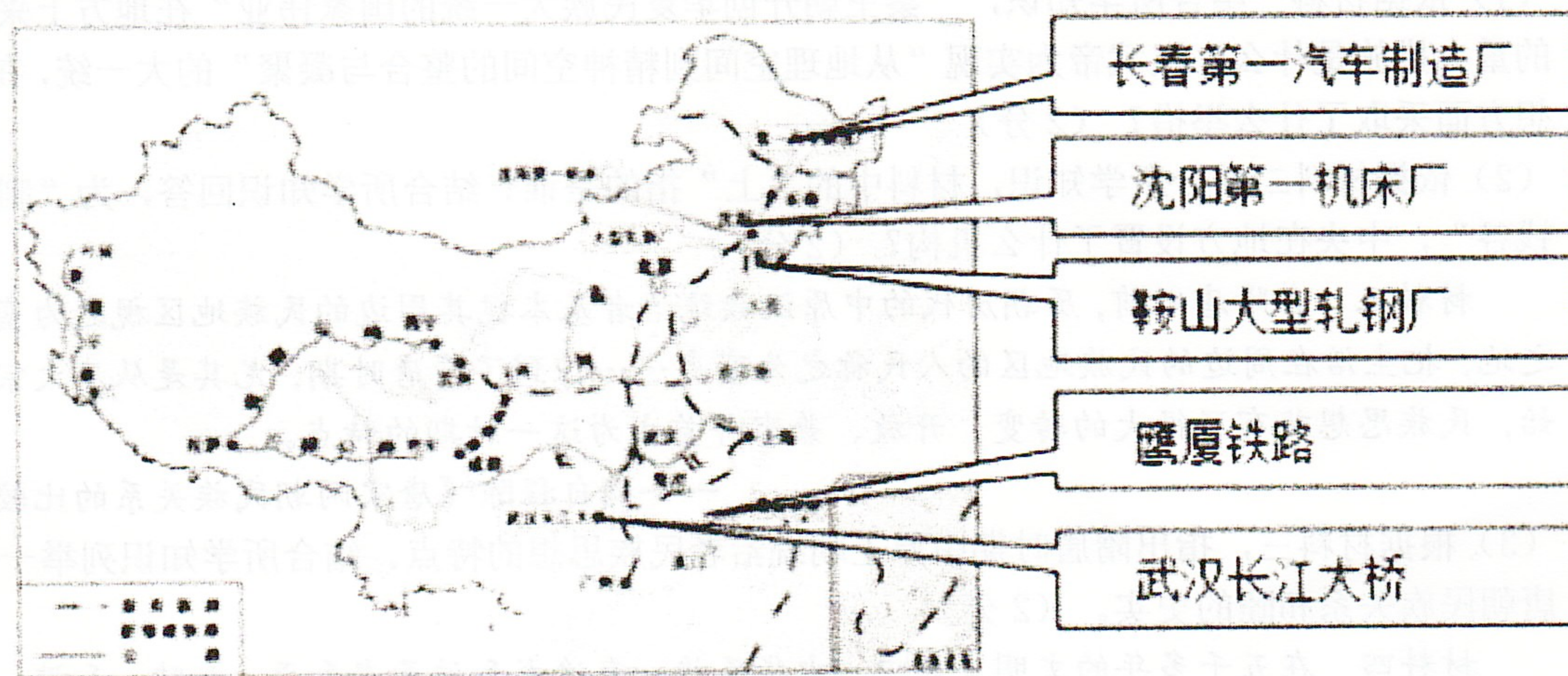
14. 如今，中国已与世界上 170 多个国家建交，参加了 100 多个政府间国际组织的工作。中国举办“一带一路”国际合作高峰论坛、亚太经合组织领导人非正式会议、二十国集团领导人峰会、金砖国家领导人会晤、亚信峰会等重要国际会议，加强国际合作。这表明我国（ ）

- A. 积极参与全球治理体系改革和建设 B. 特色大国外交全面推进
C. 积极维护世界和平 D. 积极履行负责任大国应尽的国际义务

15. 改革开放以来，我国逐渐形成了一个“全方位、多层次、点面结合”的对外开放格局。下列这个格局的表述正确的是（ ）

- A. 经济特区—沿海开放城市—内地—沿海经济开放区
B. 内地—经济特区—沿海经济开放区—沿海开放城市
C. 沿海开放城市—内地—沿海经济开放区—经济特区
D. 经济特区—沿海开放城市—沿海经济开放区—内地

16. 下图展现了我国某一时期工业和交通建设的主要成就，这一时期是（ ）



- A. 国民经济恢复时期 B. 第一个五年计划期间
C. “大跃进”运动期间 D. 社会主义现代化建设新时期

17. 托马斯·卡伦德曾写道：“在历史的某个时刻，在欧洲狭窄的一隅，生活着五百万陆地和海岛居民，他们所拥有的自然资源极其匮乏，却创造了最原创、最绚丽的文化、商业、社会秩序和政治……成为西方文明的摇篮。”材料反映的是（ ）

- A. 古罗马文明 B. 古希腊文明 C. 古巴比伦文明 D. 阿拉伯文明

18. “14 世纪中叶，人们重新开始将目光从天国降到人间，将人类自身的本来面目还给了自身，将人的现实性、独立的主体地位和作用，以及丰富的个性发掘出来。”这反映了（ ）

- A. 租地农场促进了资本主义的发展 B. 手工工场促进了资本主义的发展
C. 文艺复兴促进了人的思想大解放 D. 启蒙运动促进了人的思想大解放

19. “直到公元 1500 年以前，大西洋一直是一道栅栏，一个终点。到（公元）1500 年左右，它一变而为一座桥梁，一个启程点了。”引起这一变化的主要原因是（ ）

- A. 文艺复兴的兴起 B. 全球化趋势发展 C. 工业革命的开展 D. 新航路的开辟

20. 有学者形容德国：“这是一奇妙的国家，它要么考问世界，要么拷打世界。当它用思想来考问世界时，它是伟大的；当它用战争来拷打世界时，它是可恶的。”下表中能体现德国这两个特点的是（ ）

	考问世界	拷打世界
A	启蒙运动宣传自由平等	建立反法同盟
B	创立逻辑学等新的学科	进行普法战争
C	马克思主义诞生	挑起两次世界大战
D	提出生物进化思想	推动欧洲联合

- A. A B. B C. C D. D

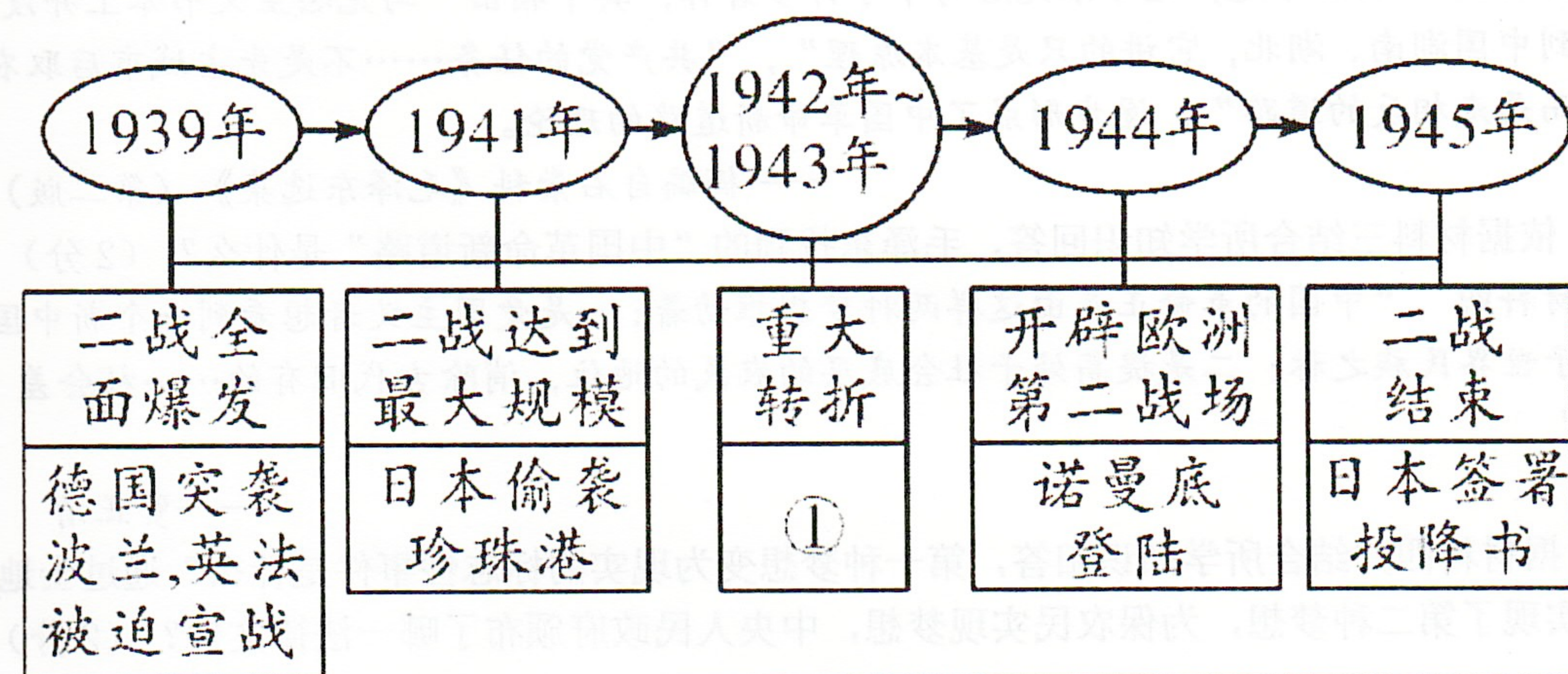
21. 近代以来，西方的民主政治是按照英国的《权利法案》到美国的《独立宣言》再到法国的《人权宣言》这条线索走下去的，这条线也代表了当时人类社会前进的方向，这条线的实质是（ ）

- A. 对人类共同理想的反思 B. 对天赋人权的实践
C. 彻底打破了宗教思想的束缚 D. 对专制王权的制约

22. 某历史公众号推出学习资源包，包含如下几个链接，“章西女王，傲骨不死”“南美解放者玻利瓦尔”“圣雄甘地”，该资源包的标题应为（ ）

- A. 殖民帝国统治相继瓦解 B. 民主改革浪潮汹涌澎湃
C. 民族解放运动风起云涌 D. 社会主义运动空前高涨

23. 在学习第二次世界大战时，张亮同学通过画示意图的方法记忆二战过程。图中①处该填入的内容是（ ）



- A. 凡尔登战役 B. 斯大林格勒保卫战 C. 柏林战役 D. 莫斯科保卫战

24. 建立公正合理的国际政治经济新秩序是世界人民共同的心愿。20 世纪至今世界政治格局出现了三次大的演变, 按其形成的先后顺序排列正确的一组是 ()

- A. 多极化趋势——凡尔赛—华盛顿体系——两极格局
- B. 凡尔赛—华盛顿体系——两极格局——多极化趋势
- C. 两极格局——凡尔赛—华盛顿体系——多极化趋势
- D. 两极格局——多极化趋势——凡尔赛—华盛顿体系

25. 当今世界正经历百年未有之大变局, 新冠疫情全球大流行使这个大变局加速变化, 世界进入动荡变革期, “世界怎么了, 我们怎么办?” 成为时代之问。下列应对措施最合理的是 ()

- A. 追求自保并转嫁危机
- B. 召开不结盟首脑会议
- C. 构建人类命运共同体
- D. 成立世界性贸易组织

二、非选择题: 本大题共 4 小题, 第 26 题 11 分, 第 27 题 10 分, 第 28 题 16 分, 第 29 题 13 分, 共 50 分。

26. (11 分) “文明历史五千年, 灿烂辉煌留人间。历经磨难求复兴, 改革开放谱新篇”。阅读下列材料, 回答问题。

材料一 这三种东西曾改变了整个世界的面貌和状态, 第一种是在文字方面, 第二种是在战争上, 第三种是在航海上。由此又产生了无数变化, 这种变化是如此之大, 以至没有一个帝国, 没有一个教派, 没有一个赫赫有名的人物能比这三种发明在人类事业中产生更大的力量 and 影响。

——法兰西斯培根

(1) 材料一中培根所说的“第二种”和“第三种”东西分别是指什么? (2 分)

材料二 1840 年, 在炮口的逼迫下, 中国蹒跚地走入近代。随后的一百余年里, 外国人通过条约“合法”地剥夺榨取、管束控制中国, 驱使中国社会脱出常轨, 改道变形。不仅使中国人民从此陷入苦难的历程, 也促进中国人民觉醒和奋起。

——摘编自陈旭麓《近代中国社会的新陈代谢》

(2) 依据材料二结合所学知识回答, 中国“走入了近代”的标志性事件是什么? 材料中“驱使中国社会脱出常轨, 改道变形”指的是什么? (2 分)

材料三 1928 年起, 毛泽东先后写下了许多著作, 其中指出“马克思主义书本上并没有讲到中国湖南、湖北, 它讲的只是基本原理”, “共产党的任务……不是先占城市后取农村, 而是走相反的道路”, 逐步形成了中国革命新道路的理论。

——摘编自石崇科《毛泽东选集》(第二版)

(3) 依据材料三结合所学知识回答, 毛泽东找到的“中国革命新道路”是什么? (2 分)

材料四 “中国的革命正是由这样两种梦想推动着: 一是爱国主义者想看到一个新中国屹立于世界民族之林; 二是提高处于社会底层的农民的地位, 消除古代旧有的……社会差别。”

——费正清

(4) 据材料四并结合所学知识回答, 第一种梦想变为现实的标志性事件是什么? 通过土地改革实现了第二种梦想, 为保农民实现梦想, 中央人民政府颁布了哪一法律文件? (2 分)

材料五 改革开放以来,中国共产党人把马克思主义基本原理同中国改革开放的具体实际结合起来……实现了中华民族从站起来到富起来的伟大飞跃。

——习近平在纪念马克思诞辰200周年大会上的讲话

(5) 依据材料五结合所学知识,指出作出“改革开放”伟大决策的重要会议是什么?我国的济体制改革首先从农村的哪个地点开始,其主要形式是实行什么制度?(3分)

27. (10分) 汲取历史的智慧,历史留下了人类发展的足迹,指点着前进的航向。阅读材料,回答问题。

材料一 秦王朝开创的华夏民族大一统的国家伟业到了汉武帝时代,完成了从地理空间到精神空间的整合与凝聚,正是这个伟大而充满凝聚力的民族共同体,承载着中华文明古往今来的生生不息,2000多年来的中国历尽沧桑,也曾战乱分裂,但是不管危机多么深重,由秦汉帝国开创的这一民族共同体总是能够重新走上统一、安定的大道,重现蓬勃生机。

——纪录片《中华文明》解说词

材料二 问曰:“天下自唐季(末)以来,数十年间帝王凡易八姓,战斗不息,生民涂地,其故何也?吾欲息天下之兵,为国家长久计,其道何如?”……曰:“此非他故,方镇太重,君弱臣强而已。今所以治之,亦无他奇巧,惟稍夺其权,制其钱谷,收其精兵,则天下自安矣。”语未毕,上曰:“卿无复言,吾已喻矣。”

——《续资治通鉴长编》

(1) 依据材料一结合所学知识,“秦王朝开创华夏民族大一统的国家伟业”在地方上采取的重大措施是什么?汉武帝为实现“从地理空间到精神空间的整合与凝聚”的大一统,在思想方面采取了什么举措?(2分)

(2) 依据材料二结合所学知识,材料中的“上”指的是谁?结合所学知识回答,为“制其钱谷”,中央在地方设置了什么机构?(2分)

材料三 在隋唐以前,历朝历代的中原汉族统治者基本视其周边的民族地区视之为蛮夷之地,把生活在周边的民族地区的人民称之为蛮夷……但到了隋唐时期,尤其是从唐太宗开始,民族思想就有了很大的转变,开放、兼容并首成为这一时期的特点。

——摘自程陈《唐宋两朝民族关系的比较》

(3) 根据材料三,指出隋唐时期中原王朝统治者民族思想的特点。结合所学知识列举一例唐朝民族关系和睦的史实。(2分)

材料四 在五千多年的文明发展中,中华民族一直追求和传承者和平、和睦、和谐。以和为贵,与人为善,己所不欲、勿施于人等理念,是建设人类命运共同体的重要思想宝库。

——赵可金《人类命运共同体思想的丰富内涵与理论价值》

(4) 材料四中“己所不欲、勿施于人”是我国古代哪一位大思想家的主张?他的核心思想是什么?(2分)

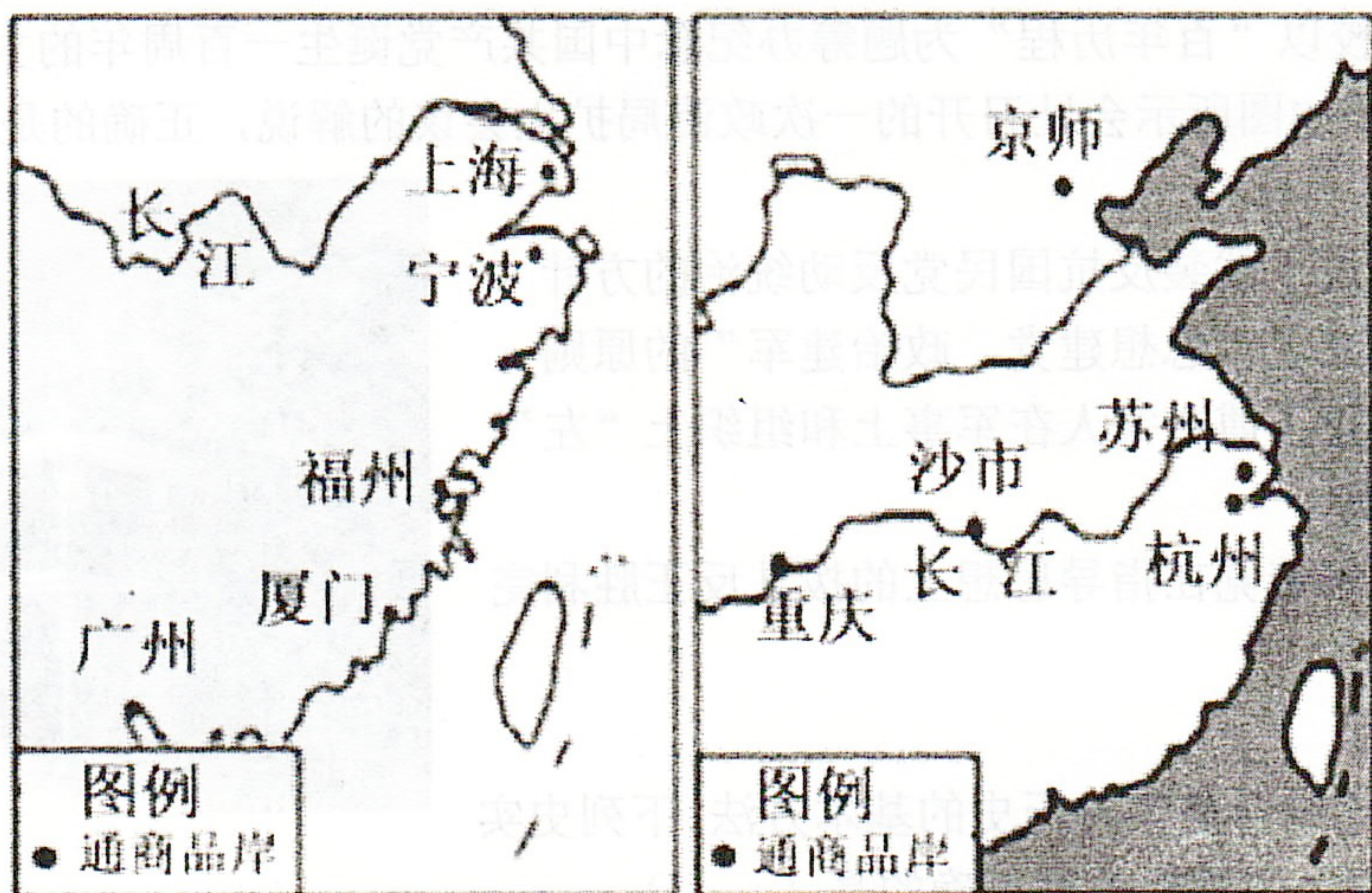
材料五 大国之道,当然还有另外的答案,那就是体制创新……列宁说:“当我们用强攻的办法,即用最简单、迅速、直接的办法实行社会主义的生产和分配原则的尝试已告失败后,我们则必须改变”。美国在20世纪30年代,又加了政府干预经济的手段。从此“看得见的手”和“看不见的手”交相作用,改变了人们对传统的市场经济模式的认识。

——摘自《大国崛起》解说词

(5) 依据材料五结合所学知识, 分析 20 世纪 20 年代的苏俄和 20 世纪 30 年代的美国为了解决发展中出现的问题, 分别实施了什么政策? (2 分)

28. (16 分) 中学历史课程将培养和提高学生的学科核心素养作为目标。阅读下列材料, 完成问题。

材料一:



(1) 根据材料一的两幅图片, 分析两次侵华战争后中国被迫开放的对外通商口岸在地域分布上有何变化? 这一变化说明了什么问题? (4 分)

材料二 明清两代, 东交民巷是朝廷“五府六部”所在地, 设有吏、户、礼等各部及太医院、翰林院等。1901 年后, 先后设立法国、日本、德国、俄国等多国使馆, 成为使馆区, 随后出现华俄道胜银行、德华银行等外资银行, 还开办有法国邮局、六国饭店等设志, 出现大量风格各异的西式建筑。

——摘编自《东交民巷文物保护碑文》

(2) 依据材料二并结合所学, 比较 1901 年前后东交民巷发生了哪些变化? 哪一事件造成东交民巷发生这些变化? (4 分)

材料三 中国共产党“七大”是在中国面临两种命运、两种前途的关键时刻召开的, 中共“十五大”是在世纪之交、世人关注邓小平之后的中国的走向之际召开的, 这两次大会都是树立理论旗帜的大会。

——王勇《中共“七大”与“十五大”比较研究》

(3) 依据材料三, 指出中共“七大”和中共“十五大”分别树立了哪一理论旗帜作为全党的指导思想? (2 分)

材料四 工业革命改变了社会上所有人的生产和生活方式……大工业使世界经济走向一体化, 平民百姓有机会享受过去帝王将相也想象不到的文明、舒适生活。但是, 工业化逐渐而且不可挽回地改变了大自然, 造成环境污染、资源枯竭和生态危机, 最突出的是全球气候变暖、臭氧层空洞和公共卫生安全, 人类社会面临经济增长与环境保护相矛盾的两难局面。

——张跃发《近代文明史》

(4) 依据材料四, 归纳工业革命对人类社会造成的影响。(4 分)

材料五 文化是一个国家、一个民族得以存续的灵魂，文化自信是一个国家、一个民族发展中更基本、更深沉、更持久的力量。上下五千年的中华文化所蕴含的智慧、理念、气度、神韵，涵养了中华民族和中国人民内心深处的自信与自豪……中华文化以更加自信的姿态走向世界。

——摘自十九大报告

(5) 依据材料五，你对坚定中国的文化自信有什么建议？（2分）

29. (13分) 特朗普实行“美国优先”政策，用贸易战和提高军费对欧盟实行威压，欧盟被迫加强团结和自谋生存，以一个独立的力量在国际舞台上发挥越来越重要的作用。追溯欧洲历史，阅读下列材料，回答相关问题。

材料一 1750~1914年，欧洲人成功地将自己的优势地位转变为世界性的霸权：19世纪末，欧洲势力控制了大部分亚洲和几乎整个非洲地区……三个历史进程——革命、工业化及帝国主义——可以帮助我们理解欧洲人……何以逐渐地控制了世界。

——摘编自杰里·本特利赫伯特·齐格勒《新全球史》

材料二 第一次世界大战期间，英国失去了其对外投资的四分之一，法国失去了三分之一，而德国则失去了其全部对外投资……第二次世界大战之后，不可阻挡的革命浪潮席卷诸殖民帝国，极其迅速地结束了欧洲的统治。正如欧洲在19世纪最后20年中迅速获得其大部分殖民地那样，欧洲在第二次世界大战后同样短的时期内又失去了其大部分殖民地。

——摘编自斯塔夫里阿诺斯《全球通史》

材料三 二战结束后世界主要力量重新整合，英、法等欧洲主要大国遭受极大冲击，美国和苏联力量急剧增长，世界进入美苏两强争霸的两极格局，为了重树大国地位，欧洲国家走上了联合之路。在美苏掀起的冷战中，利用欧洲所处的敏感地理位置，不断扩大在美苏之间的回旋余地，在极短的时间内重新崛起，并在冷战结束后的多极化世界里成为重要的“一级”。

——《大国复兴之路》解说词

(1) 根据材料一，结合所学知识，分析“欧洲人成功地将自己的优势地位转变为世界性的霸权”的政治和经济因素各是什么？（4分）

(2) 根据材料二，概括两次世界大战分别对欧洲产生了什么影响？（4分）

(3) 依据材料三并结合所学知识，说出欧洲国家为什么“走上了联合之路”？（2分）

(4) 综合上述材料及探究，从欧洲历史的发展中你得到了怎样的启示？（3分）