

考生须知

1. 本试卷共 10 页，24 道小题，满分 70 分。考试时间 70 分钟。
2. 在试卷和答题卡上准确填写学校名称、姓名和教育 ID。
3. 试题答案一律书写在答题卡上，在试卷上作答无效。
4. 在答题卡上，选择题用 2B 铅笔作答，其他试题用黑色字迹签字笔作答。
5. 考试结束，将本试卷、答题卡和草稿纸一并交回。

第一部分 选择题（共 30 分）

本部分共 20 小题，每小题 1.5 分，共 30 分。在每小题列出的四个选项中，选出最符合题目要求的一项。

1. 观察下图，古人类居所发生变化的原因是



北京人居住的洞穴复原图



半坡居民半地穴式房屋复原图

- A. 取火方式的改进
B. 原始农业的发展
C. 人口的增长
D. 气候的变化
2. 2021 年房山区琉璃河考古发现，新出土的伯鱼簋(guǐ)与 40 多年前出土的圉(yǔ)簋纹饰相同，器盖内铭文为“白(伯)鱼作宝尊彝”，器内底铭文为“王禘于成周，王赐圉贝，用作宝尊彝”。据考古学家推断，这两件簋的盖、身在下葬时应是混淆了。这一重大发现的依据是
- A. 伯鱼簋腹内的铭文
B. 伯鱼簋精美的图案
C. 伯鱼簋高超的工艺
D. 伯鱼簋大气的外形



图四



伯鱼簋

3. 右图是 2012 年洛阳北魏节闵帝元恭墓出土的拜占庭皇帝阿纳斯塔修斯一世 (491—518 年在位) 金币。目前在全国各地发现拜占庭帝国时期的金币有 40 多枚。这些金币可以佐证的史实是



拜占庭皇帝阿纳斯塔修斯一世金币正面、背面

- A. 丝绸之路 B. 郑和下西洋
C. 三角贸易 D. 新航路开辟

4. 斯塔夫里阿诺斯在《全球通史》中对中华文明的特点形容为：“统一和连续。……曾有许多游牧部族侵入中国，甚至还取代某些王朝而代之；但是，不是中国人被迫接受入侵者的语言、习俗或畜牧经济，相反，是入侵者总是被迅速、完全地中国化。”材料中“入侵者”指的是

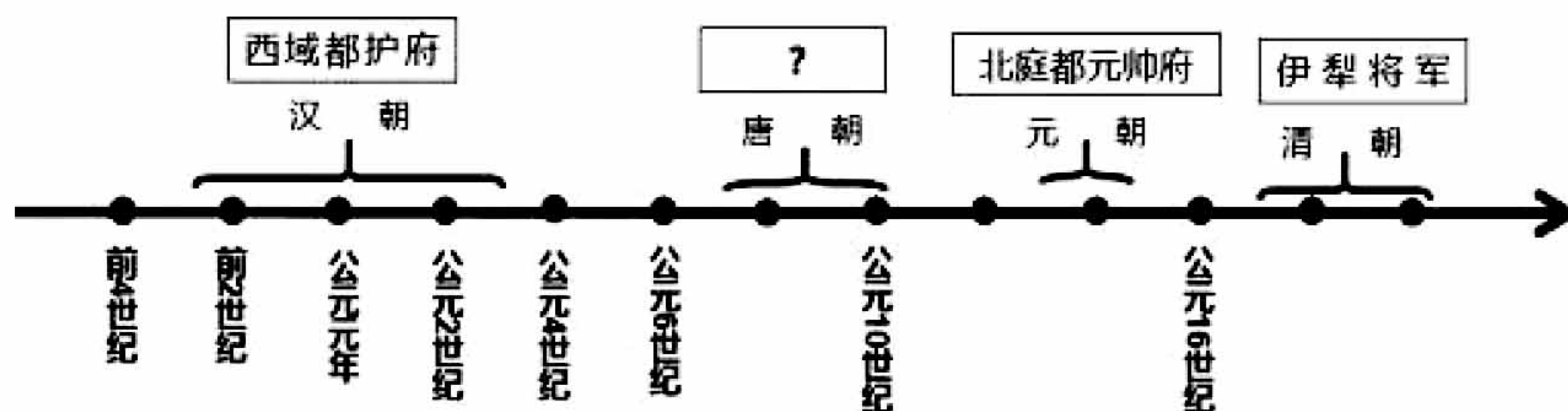
- ①北魏 ②唐朝 ③元朝 ④清朝
A. ①②③ B. ②③④ C. ①②④ D. ①③④

5. 史思明 (703—761 年) 玉册为汉白玉质见右图，共有 44 枚，出土于北京丰台史思明墓。简文中有“昭武皇帝崩于洛阳宫王芝”和“帝朝义孝乃因心亲惟□□”字样。推知玉册为史朝义为其父史思明所作。该玉册可以研究的历史事件是



- A. 贞观之治 B. 开元盛世
C. 安史之乱 D. 康乾盛世

6. 下面时间轴反映的是不同时期在新疆地区设置的行政机构，结合所学“？”处的内容是



- ①安西都护府 ②乌里雅苏台将军 ③北庭都护府 ④宣慰使司元帅府
A. ①② B. ②③ C. ③④ D. ①③

7. 近代以来，日本是侵略中国的主要国家，给中国人民带来了深重的灾难，下列条约中日本参与签订的是

- ①《北京条约》 ②《马关条约》 ③《辛丑条约》 ④《凡尔赛条约》 ⑤《九国公约》
A. ①②③④ B. ②③④⑤ C. ①③④⑤ D. ①②④⑤

8. 下面的书籍或报刊中，宣传资产阶级民主革命思想的是




《猛回头》《革命军》

A



《万国公报》《时务报》

B



《天朝田亩制度》《资政新篇》

C



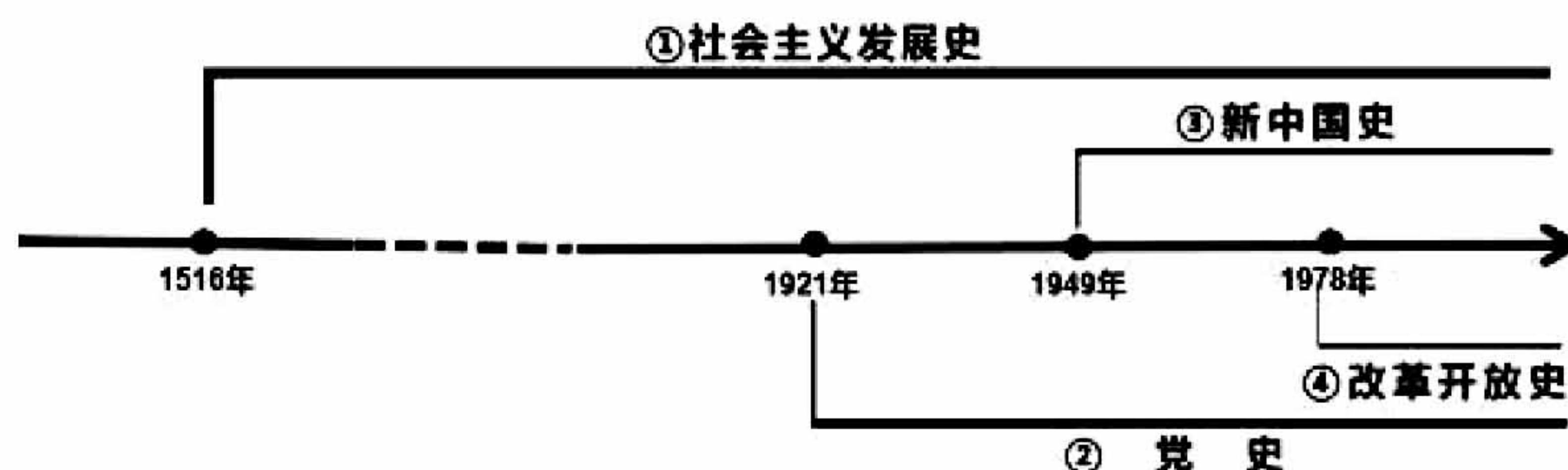
《劳动音》《劳动界》

D

9. 党的十九大报告指出，中国特色社会主义最本质的特征是中国共产党领导，中国特色社会主义制度的最大优势是中国共产党领导。下列历史事件中确立了思想建党、政治建军的原则的是

- A. 南昌起义 B. 八七会议 C. 古田会议 D. 秋收起义

10. 根据下面某学生制作的“四史”时间轴示意图，抗美援朝所属的历史范畴是



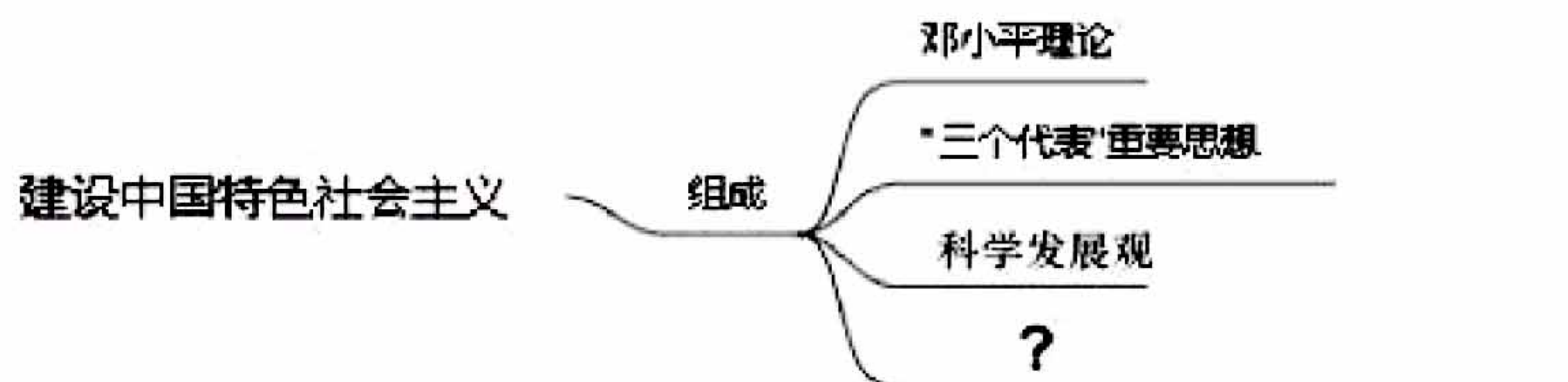
- A. ①②③④ B. ②③④ C. ①②③ D. ①③④

11. 右面照片是 1972 年 2 月美国总统尼克松访华，周恩来总理到机场迎接的瞬间。该照片可以作为哪一历史事件的史料证据

- A. 中国恢复联合国的合法席位
B. 中美关系正常化
C. 中美建交
D. 中美关系破裂



12. 下面是“建设中国特色社会主义”为主题的思维导图。图中“？”处是



- A. 四个现代化 B. 习近平新时代中国特色社会主义思想
C. 人类命运共同体 D. 社会主义初级阶段

13. 俄国 1861 年改革和同时期中国的洋务运动的相同点是

- A. 都是自上而下的改革
B. 都废除了封建制度
C. 都走上了资本主义道路
D. 都是资产阶级领导的

14. 欧洲中世纪晚期出现的租地农场与中世纪的庄园制度的本质区别是

- A. 土地所有者不同 B. 经营方式不同
C. 劳动力不同 D. 生产工具不同

15. 观察下面十九世纪中期世界各地发生历史事件图。该时期世界历史发展的特征是



- A. 走向近代
B. 资本主义制度确立
C. 资本主义制度拓展
D. 工业革命时代

16. 《世界人民的历史》在叙述十月革命的爆发时写道：“革命有赖于由工人、农民和士兵组成的广大人民回应这些暴力时采取的特定方式。列宁和布尔什维克党在这方起到了决定性作用。”对此叙述正确的理解是

- A. 工人是革命主力
B. 和平示威是形式
C. 革命要求推翻沙皇专制
D. 列宁和布尔什维克党的领导作用

17. 下面是 1913 年和 1920 年的中欧局部地图，导致地图疆域变化的历史事件是：



1913年的中欧



1920年的中欧

- A. 拿破仑战争 B. 普法战争 C. 第一次世界大战 D. 第二次世界大战

18. 右边是某位学生在中考复习中设计的微专题小报。该学生复习的主题是

A. 民族解放运动
B. 资产阶级革命
C. 工业革命
D. 中外交流



19. 右边是第二次世界大战爆发时的一幅漫画，漫画中的情境是：左边床上的人说：“多么幸运的一件事呀！我们是分床睡的，我不会被传染！”（右边床上依次是：斯大林搔痒症、希特勒炎症、闪电战瘟疫、纳粹发热病、法西斯流感）。漫画讽刺的国家是

A. 法国 B. 中国
C. 英国 D. 美国



20. 法西斯主义就是战争，防止法西斯主义死灰复燃，是消灭战争隐患的关键；反对绥靖政策，制止大国争霸的局部战争，是消除大战隐患的重要举措……上述对第二次世界大战的论述属于

A. 爆发的原因 B. 战争的性质 C. 战争的过程 D. 战争的教训

第二部分 材料分析题（40 分）

21. （10 分）中华文明是世界上唯一持续不断的文明，阅读下列材料，回答问题。

材料 1. 外国观察家们都被中华文明的久远性与稳定性所深深震撼。19 世纪中期在中国任职的英国领事官员 T.T.Meadows 根据他所获得的第一手观察资料对这些特性作出了以下解释。

中华民族作为一个同一的民族其历史的悠久无与伦比。人口也持续稳定增长……其真正原因可归结为三个原则和一种制度……这三个原则是：

1. 以德治国优于凭武力治国。
2. 选拔最贤能的人为国家效力是实现国家的政治清明必不可少的条件。
3. 如果君主道德败坏、醉生梦死，并由此导致高压的暴政，那么人民有权力处置这样的君主。

一种机制是：

公开选拔文官的科举考试制度……这种考试引导着全国上下深谙其中奥妙的父母们直接向他们的儿子灌输经典著作中的文学知识，……这种考试为政府招募所有贤能的人，以使政府保持清廉。这种考试十分公正，因此即使是国家中最贫穷的人也只能说，如果命运不济也是“天意如此”，他的同胞并未设置不公平的障碍阻挠他提升自身的地位。

——斯塔夫里阿诺斯著，董书慧、王昶、徐正源译《全球通史》

(1) 从材料 1 中的三个原则中选择一个，用所学的历史史实论证这一原则。(2 分)

(2) 根据材料 1，结合所学概括科举制对当时中国社会的作用。(2 分)

材料 2. 中华文明的思想内涵是：

①阴阳观念 ②人文精神 ③崇德尚群 ……

——袁行霈 严文明 张传玺 楼宇烈主编《中华文明史》第一卷

(3) 将下列有关中华文明思想的论述和材料 2 中的思想内涵正确对应(填序号)。(3 分)

《老子》四十二章：“万物负阴而抱阳”。_____

《尚书·泰誓上》：“惟天地，万物父母，惟人，万物之灵”。_____

孟子说：“富贵不能淫，贫贱不能移，威武不能屈”。_____

材料 3. 宋代是中华文明史上的另一座高峰。宋代的军事力量虽然不强，因而显得国势较弱，但宋代的经济、政治和文化却突飞猛进：城市经济的繁荣，文官制度的完善，社会整体教育水平的提高，都超过了唐代。

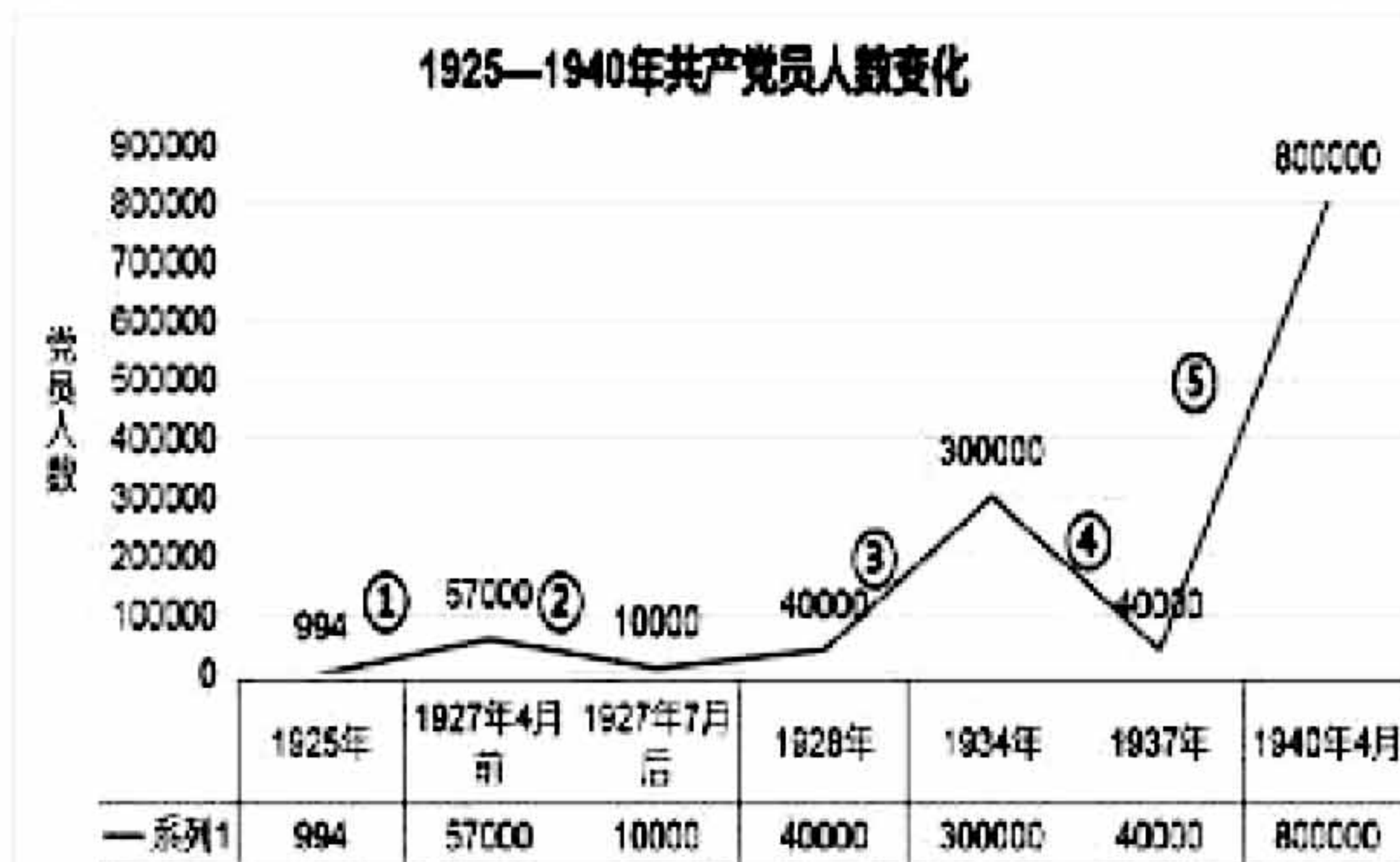
——袁行霈 严文明 张传玺 楼宇烈主编《中华文明史》第一卷

(4) 根据材料 3，结合所学说一说“宋代是中华文明上的另一座高峰的表现”。(2 分)

(5) 请你对如何传承中华文明提一条合理的建议。(1 分)

22. (11 分) 经过百年的发展，中国共产党的党员数量和结构都发生了巨大的变化。由当初一个 50 多人的小党发展到现在拥有 9000 多万党员的大党，显示了党在马克思主义正确的路线、方针和政策的指引下，始终全心全意为人民谋利益的强大吸引力和凝聚力。阅读下列材料，回答问题。

材料 1. 下面是 1925 年——1940 年中国共产党人数变化示意图及大事年表。

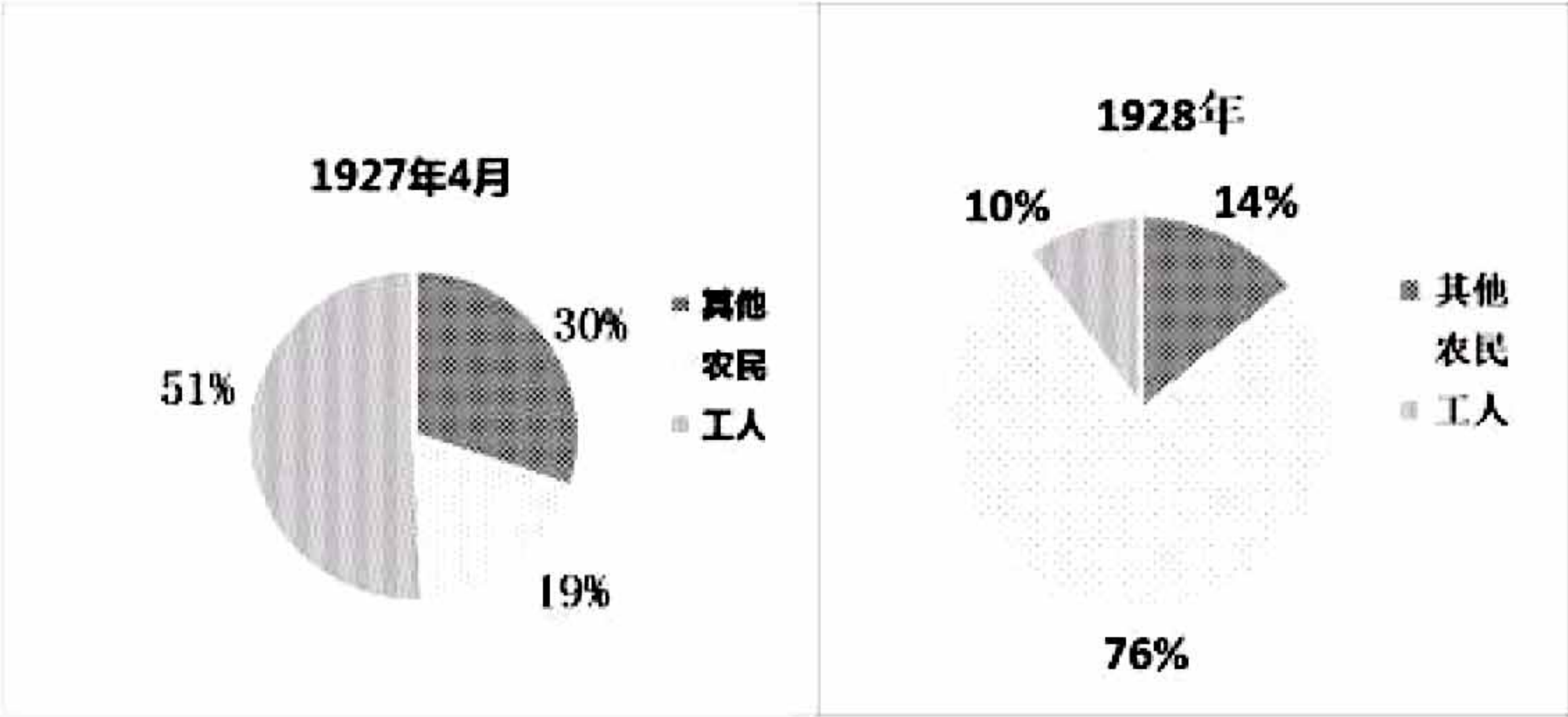


大事年表：

- 1、1924 年国民党一大召开，国共合作实现。
- 2、1926 年国民革命军北伐。
- 3、1927 年蒋介石、汪精卫发动反革命政变，国民革命运动失败。南昌起义、八七会议、秋收起义，井冈山革命根据地创立。
- 4、1931 年九一八事变、中华苏维埃共和国临时中央政府建立。
- 5、1934—1936 年红军长征。
- 6、1937 年七七事变，全面抗战爆发。第二次国共合作实现。

(1) 根据材料 1，结合所学从党员人数上升和下降的阶段中各选一个时期（标出序号），分析其原因。（4 分）

材料 2. 1927 年 4 月和 1928 年党员结构对照表



(2) 根据材料 2，指出党员结构有何变化？结合史实分析变化的原因。（3 分）

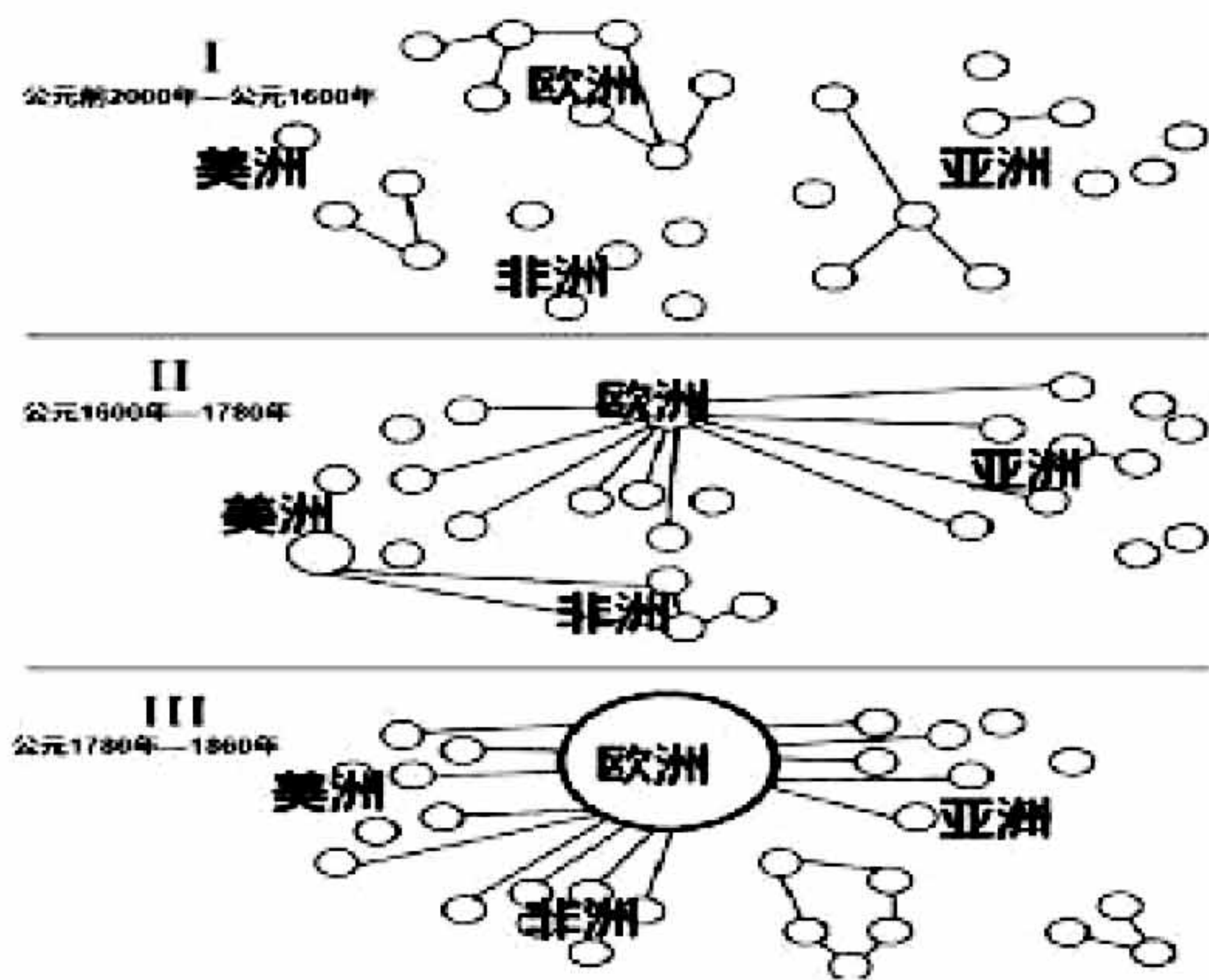
材料 3. 下面表格内容摘自《中共中央关于党的百年奋斗重大成就和历史经验的决议》

| 历史事件 | 评价 |
|---------|--|
| ① | 这是近代以来中国人民反抗外敌入侵第一次取得完全胜利的民族解放斗争，也是世界反法西斯战争胜利的重要组成部分。 |
| 抗美援朝 | 中国人民志愿军雄赳赳、气昂昂跨过鸭绿江，同朝鲜人民和军队并肩战斗，战胜武装到牙齿的强敌，打出了国威军威，打出了中国人民的精气神……，捍卫了新中国安全，彰显了新中国大国地位。新中国在错综复杂的国内国际环境中站稳了脚跟。 |
| ② | 我国基本上完成对生产资料私有制的社会主义改造，基本上实现生产资料公有制和按劳分配，建立起社会主义经济制度。 |
| 十一届三中全会 | 果断结束“以阶级斗争为纲”，实现党和国家工作中心战略转移，开启了改革开放和社会主义现代化建设新时期，实现了新中国成立以来党的历史上具有深远意义的伟大转折。 |

(3) 根据材料 3，结合所学在①②处填写正确答案。从上面表格的历史事件中任选一个，列举历史事件中的相关史实说明评价。（4 分）

23. (9分) 棉花的历史。

材料 1. 世界棉花种植者、制造商和消费者之间不断变化的空间安排。



(1) 根据材料 1，概括棉纺织业发展的变化。(2分)

材料 2. 回顾过去，18 世纪末的英国似乎已经条件成熟，为棉纺织业的彻底革新做好了准备。英国资本家有着两个世纪的棉纺织品发展的经验，也有可供投资的资本，可以在国内雇用更多的农民从事纺纱和织布。……最后但并非最不重要的一点，一直有工人可以为新工厂提供劳动力，这些人无力抵抗从农村耕种者或工匠转变为受薪工人的进程。这些因素为从根本上重新想象生产及其所依托的体制提供了条件。然而，这些条件并非独一无二。事实上，即使不是在所有方面，至少其中许多特点在中国、印度、欧洲或者非洲等地区都具有。任何一个单一的因素都无法解释为什么 18 世纪末不列颠群岛的一小部分爆发了工业革命。

——[美]斯文·贝克特著 徐轶杰，杨燕译《棉花帝国：一部资本主义全球史》

(2) 根据材料 2，指出英国棉纺织业彻底革新的条件。(2分)

材料 3. 尽管有着这些非常有前景的先决条件，中国和印度——以及普鲁士这个在技术教育上与英国最接近的竞争者——在支配全球棉纺织业的诸多节点上，都和英国差得很远。此外，与英国相比，中国和印度农民更牢固地依附在土地上，这使得制造商即使有心，也更难动员大量的工人。由于家户组织形式不同，特别是妇女在外活动受到限制，印度和中国女性主导的纺纱机会成本极低，因此较少可能采用新技术。

——[美]斯文·贝克特著 徐轶杰，杨燕译《棉花帝国：一部资本主义全球史》

(3) 根据材料 3，结合所学概括中国和印度在近代没能成为全球棉纺织业中心的原因。(2分)

材料4. 最急剧的是英国棉花制造业重要性的下降。1860年, 世界上61%的机械纱锭都位于英国, 但到1900年, 这一比例下降到43%, 到1930年下降到34%。由于工人为改善工作条件而奋斗, 英国机器的运作时间也比其他地方的机器少。一般来说, 这些机器也比较老旧, 因此它们在全球产出中所占的份额甚至更小, 到1932年仅为11%。尤其是在两次世界大战之间的那几年, 英国工业遭受了“一场几乎无法减轻的灾难”。英国曾是世界工厂, 棉花纺织品是其主要出口产品。第一次世界大战后, 英国对亚洲最重要的市场的出口暴跌, 对印度的出口比战前下降了46%, 对荷属东印度群岛下降了55%, 对中国的出口下降了59%。结果, 英国工业开始痛苦地解体。

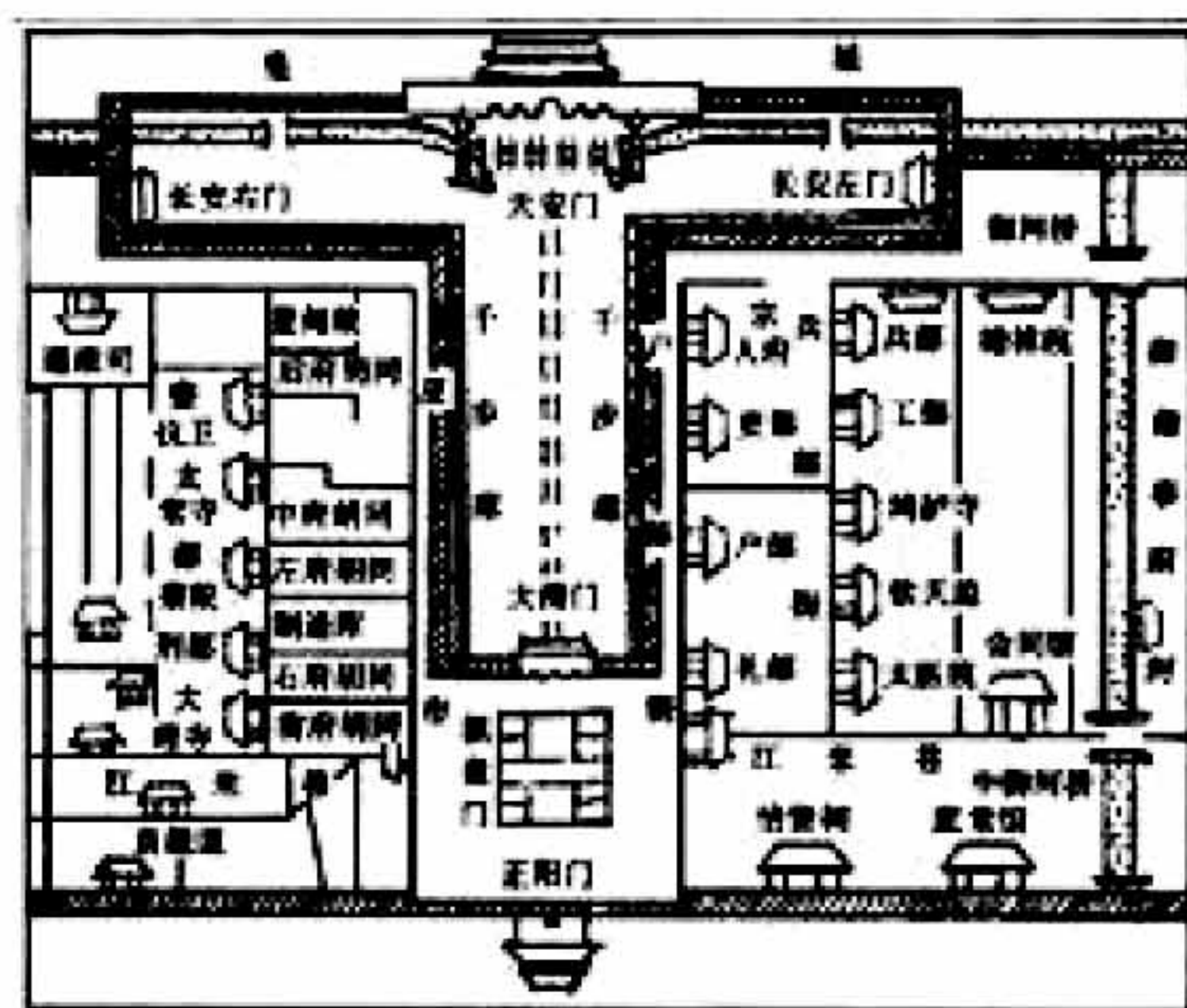
——[美]斯文·贝克特著 徐轶杰, 杨燕译《棉花帝国: 一部资本主义全球史》

(4) 根据材料4, 概括英国棉花帝国解体的原因。(2分)

(5) 从英国成为棉花帝国到解体的历史中你得到的启示是什么?(1分)

24. (10分) 天安门广场记载了中国人民不屈不挠的革命精神和大无畏的英雄气概, 是现代历史上重大政治、历史事件的发生地, 是中国从衰落到崛起的历史见证。阅读下列材料回答问题。

材料1. 明清时天安门广场以大明门(大清门、中华门)为界, 南边称为“棋盘街”, 北边称为是“千步廊”, “棋盘街”, 以我国围棋、象棋的棋盘为对照, 就将这个形似棋盘的地方, 中间御路似中国象棋棋盘上的“楚河汉界”而命名。曾是商旅云集之市井, 闹市繁荣之街道。在此文官下轿、武官下马。大清门内就是皇家御道, 除皇帝、皇后、皇太后的龙车凤辇外, 其他官员只能步行通过, 而平民百姓则不能进入。所以说明清时期的天安门广场实质上是“宫廷广场”。



(1) 根据材料1说出明清时期天安门广场的布局特点。为什么说它是“宫廷广场”? (3分)

材料2. 现代意义上的天安门广场是从1914年开始的。1914年5月, 北洋政府拆除天安门前千步廊、修筑沥青路、瓮城等, 原本封闭的宫廷广场变成可自由穿行和逗留的开放空间, 威严、神秘的皇权被消解。在明清时期是“闲人免进”的地方, 民国以后才对民众开放、自由通行。下面照片为1912年1916年拍摄的天安门广场。



1912年从正阳门上往北拍摄，近处是中华门(清代大清门)，远处为天安门，其间为千步廊。



1916年正阳门上向北拍摄，千步廊已经拆除，两侧各有一截城墙，其间形成一个方形广场。

(2) 根据材料 2，简述拆除千步廊形成现代意义上的天安门广场的历史背景。(2 分)

材料 3. 1954 年，拆除了中华门、长安左门和长安右门、户部刑部等衙署、以及仓库棋盘街等建筑，在广场中建人民英雄纪念碑。1958 年，拆除了广场上的红墙，总面积达 44 公顷。广场上竖起的人民英雄纪念碑和两侧建起的人民大会堂、中国革命和军事博物馆，奠定了广场作为政治中心的基调。



(3) 根据上述材料概括天安门广场由明清到现在发生的变化。(2 分)

材料 4. 天安门广场见证历史



①1900年八国联军进驻天安门



②1919年五四运动



③1935年一二九运动的游行队伍



④1937年日军进天安门广场



⑤1949年参加开国大典的群众



⑥1984年国庆35周年游行



⑦1993年举行集体婚礼



⑧2019年国庆70周年阅兵

(4) 以上是不同时期天安门广场发生的历史事件。选取两个以上历史事件，归纳一个主题，分别说明历史事件与主题的关系。(3 分)