

## 历史

(满分:100分; 考试时间:60分钟)

友情提示:1.本试卷共6页,分选择题和非选择题两部分。

2.考生将自己的姓名、准考证号及所有答案均填写在答题卡上。

3.答题要求见答题卡上的“注意事项”。

一、选择题:本题25小题,每小题2分,共50分。在每小题给出的四个选项中,只有一项最符合题目要求。

1. 图1、图2反映的主题是

- A. 高超的冶铁水平  
B. 灿烂的青铜文明  
C. 成熟的文字艺术  
D. 严格的礼乐制度



图1



图2

2. 商鞅变法时建立了一套军功爵位制,按爵位高低授予种种封建特权。这提高了秦国的

- A. 政治地位      B. 官员素质      C. 治国能力      D. 军事实力

3. 表1

名医	贡献
张仲景	发展了中医学理论和治疗方法,著有《伤寒杂病论》;还提出“治未病”思想。
华佗	擅长针灸、汤药为人治病,实施外科手术,发明了“麻沸散”,还创编了“五禽戏”。

据表1内容可知,张仲景和华佗都注重

- A. 针灸疗法      B. 外科手术      C. 预防疾病      D. 运动医学

4. 东晋时期,江南地区出现了“荆扬晏安,户口殷实”的景象,统治局面相对稳定。这一局面出现的原因是

- A. 赤壁之战,孙刘联军得胜      B. 八王之乱,导致西晋陨落  
C. 祖逖北伐,收复黄河地区      D. 淝水之战,抵御北方威胁

5. 北朝时期的《齐民要术》记载了主要农作物粟、黍、稷的播种日期,介绍了选种、浸种和催芽等技术以及轮作和套种的经验。这表明当时农业生产

- A. 注重精耕细作      B. 创新经营方式  
C. 忽视经济利益      D. 引进外来物种

6. 图3为西汉至南宋南北方户数的变化图。这一变化说明

- A. 北方经济发展  
B. 社会气象万千  
C. 经济重心南移  
D. 人口结构平衡

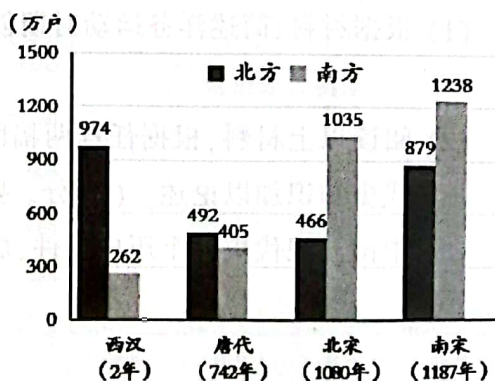


图3



7. 图4所示对联称赞的是

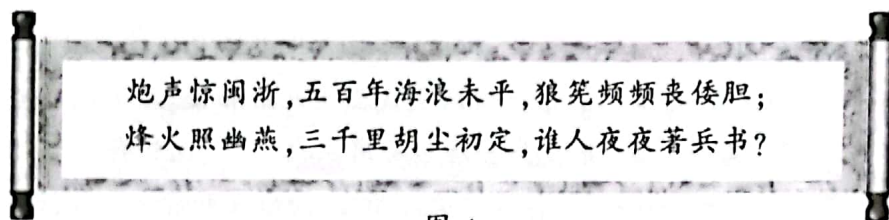


图 4

- A. 戚继光                      B. 郑成功                      C. 林则徐                      D. 邓世昌

8. 学者茅海建指出:“这场战争把中国拖入世界。从此开始,中国遭受了列强的百般蹂躏;从此开始,中国经受了寻找新出路的百般苦难。”材料表明“这场战争”

- A. 促使中华民族空前团结                      B. 成为中国近代史的开端  
C. 导致清政府统治的瓦解                      D. 开启近代化探索的道路

9. 图5为某条约的规定。据此推知,该条约使

- A. 中国人民的负担日益沉重  
B. 中国领土主权遭到了破坏  
C. 科举考试的规则被迫改变  
D. 清政府完全成为洋人朝廷

第 10 款:各省官员必须保证外国人的安全,否则立予革职,永不录用。凡发生反帝斗争的地方,停止文武各等考试 5 年。

图5

10. “叶挺独立团从广东出发,挺进湖南,前赴后继,浴血奋战,占领武昌。”材料叙述的是

- A. 北伐战争的进程                      B. 武昌起义的开始  
C. 武汉会战的僵持                      D. 国共合作的胜利

11. 图6所示反映了在全民族抗战中

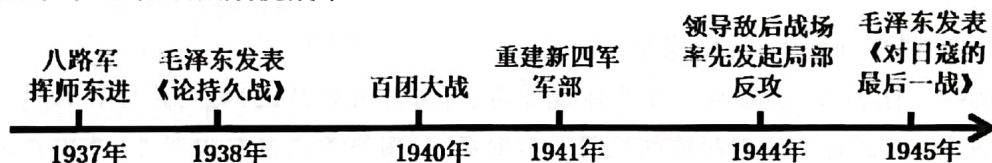


图6

- A. 中国共产党发挥了中流砥柱的作用  
B. 抗日军民粉碎了日军的“大扫荡”  
C. 中国共产党坚持了持久抗战的方针  
D. 日军速亡中国的迷梦被彻底击碎了

12. 图7体现的历史事件发生在

- A. 土地革命时期  
B. 全民族抗战时期  
C. 人民解放战争时期  
D. 新中国成立初期



宣传《中国土地法大纲》

图 7

13. 《最寒冷的冬天》写道:“中国人用简陋的武器,凭借他们的独创性、战士的勇敢,在朝鲜半岛与美国平分秋色。战争结束后,世界各国不得不正视这个正在缓缓升起的东方大国。”这表明该“战争”

- A. 显示出中国强大的国防力量                      B. 从根本上改变中国外交环境  
C. 壮大了世界和平民主的力量                      D. 大大提高了中国的国际威望





14. 1954年,《中华人民共和国宪法》规定“中华人民共和国全国人民代表大会是最高国家权力机关。”由此确立了
- A. 政治协商制度  
B. 人民代表大会制度  
C. 社会主义制度  
D. 民族区域自治制度
15. 在全面建设社会主义时期,石油工人王进喜“宁可少活20年,拼命也要拿下大油田”“有条件要上,没有条件创造条件也要上”体现的时代精神是
- A. 爱国进步、民主科学  
B. 艰苦创业、无私奉献  
C. 集体主义、国际主义  
D. 改革创新、开拓进取
16. 新中国成立以来,我国奉行独立自主的和平外交政策。能体现这一政策的史实是
- A. 党和政府确立了和平统一祖国的大政方针  
B. 中国人民解放军成立五大战区,调整组建五大军种  
C. 国务院批准设立中国(上海)自由贸易试验区  
D. 截至2019年9月,中国已与世界上180多个国家建交
17. 图8所示诗歌反映的历史事件
- A. 宣告中国真正成为独立自主的国家  
B. 翻开了海峡两岸关系历史性的一页  
C. 成为中华民族从衰败到振兴的重要转折点  
D. 在完成祖国统一大业道路上迈出重要一步
- 百年的耻辱,就在今天洗雪  
百年的梦想,就在今天实现  
米字旗降落,一个时代的结束  
五星红旗升起,一个民族的尊严
- 图 8
18. 伴随着亚历山大帝国的建立,大量希腊人迁到东方,吸收当地的文化与风俗;希腊文化传入印度与佛教结合,形成了一系列雕塑、绘画艺术。由此可见,亚历山大帝国
- A. 给东方人民带来巨大的灾难  
B. 促进了东西方的文化交流  
C. 成为地跨欧亚非三洲的国家  
D. 促使东方国家完全希腊化
19. 中古时期,法国某城市规定:“根据共同遵守的和约,凡往来集市的商人及其货物,均不得受到侵犯”。该规定的直接作用是有利于
- A. 城市工商业的发展  
B. 城市自治权的获得  
C. 资本主义萌芽产生  
D. 早期资产阶级形成
20. 有人评价麦哲伦航行:“毫无疑问,它是如此奇特和令人惊叹,这样的壮举从未有过,未来似乎也不会再次发生。”这一“壮举”
- A. 促进了伊斯兰教的传播  
B. 开辟通往美洲的新航线  
C. 带来了巨额的个人财富  
D. 有助于世界观念的形成
21. 《大国崛起》写道:“拿破仑战争是大革命的继续,拿破仑帝国是法国革命的最后阶段。”这充分肯定拿破仑
- A. 扫荡了欧洲的封建旧势力  
B. 巩固了资产阶级革命成果  
C. 击退了反法联盟多次进攻  
D. 维护了自由平等的新秩序



22. 图9、图10所示内容,反映了18世纪俄国和19世纪日本



彼得一世在为宫廷贵族剪胡子

图 9



明治维新后音乐厅演奏欧洲管弦乐

图 10

- A. 受到了外来势力的入侵  
B. 社会性质发生了改变  
C. 走上了资本主义的道路  
D. 社会生活走向近代化
23. “十月革命的开创性功能为东方落后国家的‘非资本主义现代化’提供了一个范例。”材料旨在说明十月革命
- A. 建立世界上第一个无产阶级政权  
B. 促使人类由专制走向民主  
C. 为社会进步开辟了一条新的道路  
D. 打破帝国主义统治的枷锁
24. 小史同学收集有关“玻利瓦尔”“甘地”“纳米比亚独立”“巴拿马收回运河区主权”的资料,制作了历史小报。小报最恰当的主题是
- A. 亚洲殖民地人民的反抗  
B. 动荡不安的国际局势  
C. 亚非拉的民族解放运动  
D. 西方列强的殖民扩张
25. 冷战结束后,“无论是在全球还是在地区范围,无论是在政治还是在经济领域……都在加速发展。极少数大国或大国集团垄断世界事务、支配其他国家命运的时代,已一去不复返了。”这表明
- A. 世界格局多极化趋势出现  
B. 经济全球化趋势日益加强  
C. 广大发展中国家开始崛起  
D. 国际政治新秩序已经确立

## 二、非选择题:共4题,共50分。

26. 阅读材料,完成下列要求。(8分)

**材料** 在战争时代,西方列强和苏联不得不结成统一战线,以对付不共戴天的敌人的威胁。1942年1月1日,26个国家在《联合国宣言》上签字,世界反法西斯联盟正式形成。随着苏联人在斯大林格勒战役的英勇奋战取得巨大胜利,形势出现逆转。1944年至1945年,欧洲基本已被由东挺进的苏联红军和从西面挺进的诺曼底登陆海滩涌入的英美联军解放。

——摘自斯塔夫里阿诺斯《全球通史》

(1) 根据材料,简述西方列强和苏联“结成统一战线”的名称。(2分)

(2) 小历认为,只有世界反法西斯联盟的建立,世界反法西斯战争才会取得胜利。你是否同意小历的观点?请结合材料和所学知识说明理由。(6分)





27. 阅读材料,完成下列要求。(16分)

材料一 唐朝统治者认识到,依靠武力征服边疆各少数民族地区和政权难以维持长久和有效的统治,于是他们改变策略。唐太宗派文成公主入藏和亲,在文成公主入藏时,带去了“五谷之类”及骆驼、马等牲畜,并教会当地妇女用织机织布,也教会当地百姓制作酥油、干酪、麦酒及陶器等。公元650年,吐蕃派遣使者朝贡,向唐政府请求蚕种、造酒、纸张、墨等工匠,唐政府也给予了肯定答复。

——摘编自邓舒《唐朝民族管理的思想理念透视》等

材料二 表2 清朝时期对新疆、西藏地区的治理措施

新疆地区	西藏地区
平定噶尔丹及大、小和卓分裂祖国的叛乱;设置伊犁将军进行管辖;妥善安置回归祖国的土尔扈特部。	中央政府对历代达赖和班禅进行册封;设置驻藏大臣进行管理;颁布《钦定藏内善后章程》规范管理西藏。

——改编自朱绍侯《中国古代史》

- (1) 根据材料一,概括唐朝处理民族关系的策略,并分析文成公主入藏的影响。(6分)
- (2) 根据材料二,概括清朝治理边疆地区的措施。(6分)
- (3) 综合上述材料并结合所学知识,简析唐朝处理民族关系策略和清朝治理边疆措施的共同影响。(4分)

28. 阅读材料,完成下列要求。(14分)

材料一 1600年,英国成立了东印度公司,对海外进行殖民掠夺,获得巨额财富。经过1688年革命,王室的各种专制特权被剥夺和削弱,英国逐步走向自由贸易,英国经济走向快车道。19世纪中期工业革命完成后,英国成为世界工厂,国民生产总值成为世界第一;英国的商品快速流向世界各地,出口贸易的总值相当于国民生产总值的40%。

——摘自张椿年《地理大发现后西方海洋霸权大国的兴衰交替》

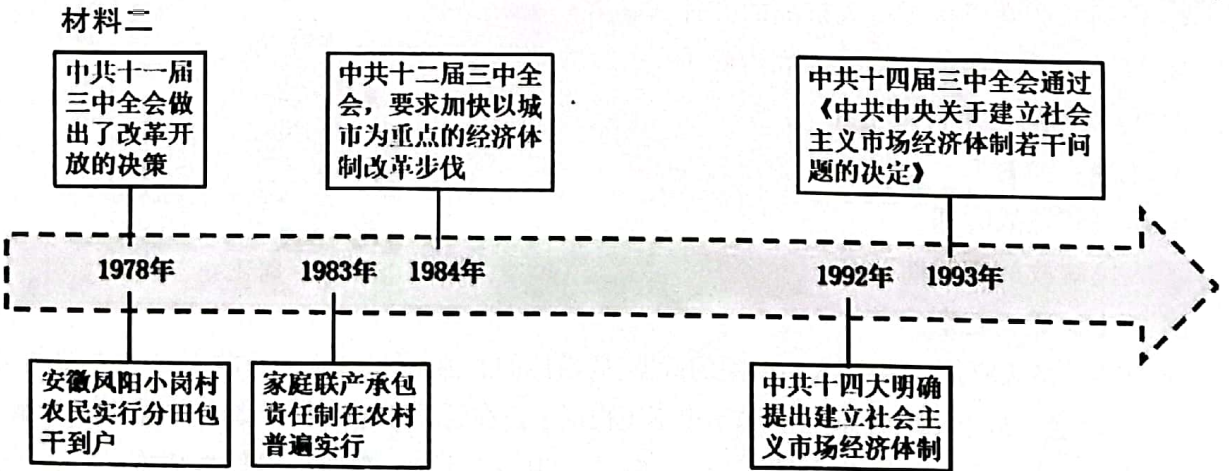


图11 经济体制改革进程示意图

——改编自王桧林《中国现代史》




(1) 根据材料一,分析近代英国经济迅速发展的原因。(6分)

(2) 根据材料二,概括中国经济体制改革进程的特点。(4分)

(3) 根据材料一、二,简析中国不同于英国的经济发展原因。(4分)


29. 阅读材料,完成下列要求。(12分)

材料




李鸿章创办的江南机器制造总局炮厂

图 12




1912年1月中华民国在南京成立

图 13



张謩在南通创办的大生纱厂

图 14



1929-1932年农村革命根据地分布示意

图 15

——摘自《图说清朝三百年》《图说百年中国(1911-2012年)》

(1) 根据材料,简述洋务运动时期创办的军事工业名称。(2分)

(2) 阅读以上材料,根据任选两幅图所反映的主题,确定观点,并结合材料和所学中国近现代史知识加以论述。(10分。要求:观点明确,根据所选两幅图反映的事件,并结合所学中国近现代史一个历史事件,加以论述,史论结合,条理清楚)

