

历史试题

本试卷分第 I 卷（选择题）和第 II 卷（非选择题）两部分，共 100 分。考试时间 60 分钟。


注意事项：

1. 答第 I 卷前，考生务必将自己的姓名、准考证号、考试科目用铅笔涂写在答题卡上。
2. 选择题（每小题只有一个正确答案），答案选出后用铅笔把答题卡上对应题目的答案标号涂黑。如需改动，用橡皮擦干净后，再选涂其它答案。不能答在试卷上。每小题 2 分。
3. 考试结束，将本试卷和答题卡一并收回。

第 I 卷（选择题 共 50 分）

一、单项选择题（共 25 小题，每小题 2 分，共 50 分）

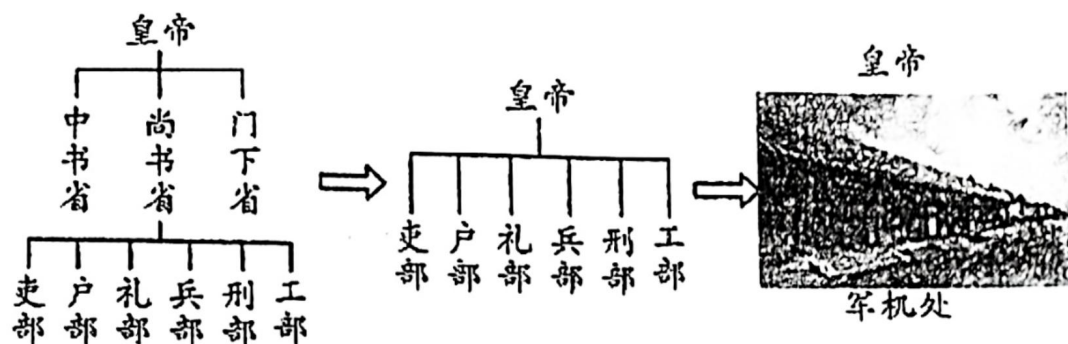
1. “甲骨文中的‘山、水、日、月’跟今天写的文字基本差不多，相当一部分文字从甲骨文到今天的篆书、楷书，文字形态都没有太大的变化。”这说明
 - A. 所有的甲骨文都是象形文字
 - B. 我国有文字可考历史从夏朝开始
 - C. 甲骨文是世界上最早的文字
 - D. 汉字的发展具有一脉相承的特点
2. 2022 年，新华网文化频道策划推出“国宝有灵·文物日历”。其中，3 月 26 日的日历所展示的文物是现存四川博物院的战国水陆攻战纹铜壶。铜壶上的纹饰从上至下，第一层是采桑和习射的场面，第二层是猎射和宴飨的场面，第三层是水战和攻城战的场面。这反映了当时
 - A. 战争频繁社会动荡
 - B. 青铜制造处于鼎盛时期
 - C. 人民开始养蚕缫丝织绸
 - D. 人民普遍过着采集渔猎的生活
3. 秦始皇灭六国后派大军攻下岭南后，分置桂林、象、南海等郡，多次迁刑徒和内地民众至岭南屯田，还募 15000 名未婚女子至岭南。上述措施意在
 - A. 缓解中原地区人口压力
 - B. 强化对岭南地区的管理
 - C. 普及先进农业生产技术
 - D. 流放刑徒确保中原平安
4. 有学者认为：“张骞两次出使西域，拓展了汉王朝的视野，引发了汉王朝与中亚、西亚各国相互贸易的强烈愿望，促成了西汉政府对丝绸之路的开辟和经营”。该学者认为张骞
 - A. 开辟并经营丝绸之路
 - B. 拓展了西汉西部疆域
 - C. 最早开始了对外交往
 - D. 促进了中外经贸往来
5. 宋代的学校教育异常发达，京师设有国子学和太学，还鼓励各州县兴办学校，至宋徽宗时期，全国由官府负担食宿的州县学生人数达到十五六万人。与此番景象的出现密切相关的是
 - A. 中央集权的不断强化
 - B. 创立科举选拔制度
 - C. 重文轻武政策的推行
 - D. 国家经济重心南移



6.元朝的版图是我国历史上最大的。为有效治理辽阔的疆域，元朝统治者设置了相应的机构进行管辖，如湖南由湖广行省管理、西藏由宣政院管辖、西北由北庭都元帅府管辖。据上所述，元朝疆域管理的特点是

- A.因地制宜 B.山河形便 C.创新体制 D.依法而治

7.我国古代中央机构不断变革。如图图示反映的变革趋势是不断强化




- A. 丞相权力 B. 监察权力 C. 专制皇权 D. 地方权力

8.有学者认为，“从民族的历史看，鸦片战争的军事失败还不是民族的致命伤。失败以后还不明了失败的理由力图改革，那才是民族的致命伤。”该学者旨在强调

- A.中英双方在鸦片战争中的军事力量差距不大
B.鸦片战争的军事失败对中国社会影响很小
C.鸦片战争后掀起的洋务运动不是改革
D.鸦片战争结束后，清朝统治者并没有真正觉醒

9.识读右图，约法二取代约法一说明了

- A.中国反帝反封建的任务已经全部完成
B.袁世凯的权力得到了约法的严格约束
C.袁世凯窃取革命果实，准备复辟帝制
D.近代中国民主与法制取得了重大成就



10.下表材料旨在说明

时间	事件
1931年9月	日本制造九一八事变，日本占领东北
1932年1月	日本制造一·二八事变，取得长期留驻吴淞等地权利
1935年	日本制造华北事变，策划“华北五省自治”
1937年7月	日本发动七七事变，全面侵华
1937年9月	国民党发表《中共中央为公布国共合作宣言》，国共第二次合作正式形成

- A.日军不断扩大侵华战争 B.日本侵华开始于九一八事变
C.国民党执行不抵抗政策 D.民族危机推动全民族团结抗日



11. 据记载, 到 1948 年底, 山东解放区有 2000 多万翻身农民从地主、富农手中获得了近 3000 万亩土地。山东解放区农民获得土地得益于下列哪一土地政策的实施

- A. 打土豪, 分田地
B. 地主减租减息, 农民交租交息
C. 实行耕者有其田
D. 实行农民阶级的土地所有制

12. 它创刊于 1872 年的上海, 是近代中国保存时间最长、具有广泛社会影响的中文报纸, 被人称为研究中国近现代史的“百科全书”。它是

- A. 《申报》 B. 《大公报》 C. 《新闻报》 D. 《解放日报》



13. 右图为红色文物“一面布满 381 个弹孔的红旗”, 曾高高飘扬在上甘岭阵地, 上写: 英勇前进, 将红旗插到解放的阵地上。它生动诠释了

- A. 革命英雄主义精神
B. 敢为人先首创精神
C. 伟大国际主义精神
D. 执政为民奉献精神



14. 右图是创作于 1954 年的素描《劝父亲入社》。这一作品主要反映了

- A. 农业合作化群众性显著
B. 人民公社化运动不得人心
C. 大跃进运动民众热情高涨
D. 包产到户强化家庭生产

15. 邓小平说: “证券、股市, ……是不是资本主义独有的东西, 社会主义能不能用? ……搞一两年, 对了, 放开; 错了, 纠正, 关了就是了”。其体现的思想理念是

- A. 阶级斗争为纲
B. 实践才是检验真理的唯一标准
C. 实现共同富裕
D. 实现合作共赢, 增进人民福祉

16. 毛泽东思想、邓小平理论、习近平新时代中国特色社会主义思想是马克思主义中国化的理论成果, 其最根本的相同点是

- A. 探索新民主主义革命的道路
B. 实行计划经济体制
C. 实事求是, 从中国国情出发
D. 坚持阶级斗争为纲

17. 尼克松访华的根本目的的借助中国力量抗衡苏联。中国接受尼克松访华也是从斗争策略考虑, 通过与美国改善关系减轻苏联对中国的军事压力。这是两个意识形态完全对立的国家在特定国际形势下结成的战略同盟。由此可见, 尼克松访华得以实现的主要原因是

- A. 美苏冷战中美国暂时处于守势
B. 尼克松访华符合中美双方利益
C. 中苏关系破裂中国需要美国
D. 美国希望与中国结成军事同盟

18. 2022 年 4 月 16 日, 神州十三号载人飞船与空间站天和核心舱成功分离, 神州十三号航天员乘组在空间站组合体工作生活了 183 天, 刷新了中国航天员单次飞行任务太空驻留时间的记录。下列选项与上述成就属于同一领域的是

- A. 1964 年第一颗原子弹爆炸成功
B. 1967 年第一颗氢弹爆炸成功
C. 1970 年“东方红一号”发射成功
D. 2012 年“辽宁舰”交接入列

9. 中古世纪的欧洲一个向封君宣誓效忠的人, 应该永远记住下列六个词: 安全、可靠、诚实、堪用、做事易和能做事……同样, 封君也要在所有事情上为向他宣誓效忠的封臣做事。



这说明在封君封臣制度下

- A. 具有严格的等级性
B. 权利与义务的交织
C. 以土地封赐为纽带
D. 西欧社会有序发展

20. 阿拉伯人通过一场百年翻译运动, 将西方典籍尽数翻译成阿拉伯文。在这场文化运动后, 无数古希腊、罗马等的学术书籍都存储在了阿拉伯帝国的博物馆之中。这表明阿拉伯人

- A. 保存了古代文明成果
B. 开创了阿拉伯帝国辉煌
C. 推动了东西方的交往
D. 促进了中世纪欧洲的崛起

21. 下面是某航海家呈给西班牙国王王后的奏书(节选)。据此推断这位航海家是

一四九二年, 二位陛下……决意派臣前往上述印度各地……还令臣一反昔日之旧
怪……专取海路西行, 即沿直至今日臣等尚不知是否有人经过之路线航行。

- A. 迪亚士
B. 哥伦布
C. 达·伽马
D. 麦哲伦

22. 下面是美国《独立宣言》和 1787 年宪法的主要内容, 据此对美国民主制度解读最合理的是

《独立宣言》	宣布人人生而平等、享有生命权、自由权和追求幸福的权力	没有宣布废除奴隶制, 天赋人权的享有者也不包括黑人和印第安人
1787 年宪法	行政、立法、司法三权分立、相互制衡; 联邦政府与地方政府分享权力, 总统和议员由选举产生。	允许奴隶制的存在; 不承认妇女、黑人和印第安人具有和白人男子相等的政治权利等。

- A. 进步性与局限性并存
B. 人民权利无法保障
C. 中央与地方矛盾重重
D. 种族矛盾不可消除

23. 在印度民族大起义中, 章西女王领导、封建王公大量参与, 这说明这场起义

- A. 具有反封建反侵略的双重目的
B. 是一场资产阶级性质的革命
C. 以反对英国的殖民统治为目标
D. 消除了印度国内的阶级矛盾

24. 有人认为, 对俄国十月革命的伟大意义, 怎么评价也不过分: 既不因苏联在社会主义建设中的失误而黯然失色, 也不因苏联的解体而蒙上厚厚的灰尘。符合这一观点的是

- A. 俄国是帝国主义链条上最薄弱的环节
B. 俄国是较早实行资产阶级改革的国家
C. 十月革命是人类历史上第一次胜利的社会主义革命
D. 十月革命是建立无产阶级政权的第一次伟大尝试

25. 据《苏联社会主义经济史》记载: 二战中, 美国援助了苏联 106.7 亿美元的物资。如飞机 14018 架, 坦克、装甲车 22800 辆等。这反映的历史背景是

- A. 三国协约军事集团的建立
B. 雅尔塔会议的召开
C. 世界反法西斯联盟的建立
D. 北大西洋公约组织建立



历史试题

第 II 卷（选择题 共 50 分）

二、非选择题（共 3 小题，26 题 16 分，27 题 18 分，29 题 16 分，共 50 分）

26.（16 分）经济是人类一切活动的基础，而经济发展往往要依赖诸多因素的推动。阅读材料，回答问题。

材料一 中华传统文化在春秋战国时期表现为“以民本思潮和专制主义为两翼的百家争鸣的私学文化”。秦汉以后，定型为“以儒学为正宗，兼纳百家、融汇释道的帝国文化”。而“在商品经济有充分发育的基础上得以繁衍的市民文化，在清中叶以前的整个中国社会都相当细弱”。——冯天瑜等著《中华文化史》

（1）根据材料一结合所学知识，指出“百家争鸣”出现的经济根源是什么。“以儒学为正宗……的帝国文化”形成的标志是什么？（4 分）

材料二 唐太宗道：“民之所以为盗者，由赋繁役重、官吏贪求、饥寒切身，故不暇顾廉耻耳，朕当去奢省费，轻徭薄赋，使民衣食有余，则自不为盗。”

——摘编自钱穆《中国经济史》

（2）据材料二并结合所学知识，指出贞观时期为实现“民衣食有余”在经济上采取的措施。（4 分）

材料三 以下是某学校历史学习小组对古代人口迁移的影响筛选出的资料

资料 1：五胡内迁指匈奴、鲜卑、羯、氐、羌等生活在边疆的少数民族不断内迁。他们同汉族长期杂居，民族界限日益模糊。——摘编自《中国史纲要》

资料 2：（江南）无积聚而多贫。（东晋建立后）百许年中……地广野丰，民勤本业，一岁或稔，则数郡忘饥……丝绵布帛之饶覆衣天下。

——摘编自《史记》《宋书》

资料 3：南渡后，水田之利，富于中原，故水利大兴。语曰：苏湖熟，天下足。

——摘编自《宋史·食货志》《渭南文集》

（3）结合材料三，从民族关系和经济格局角度阐述人口迁移的影响。（4 分）



材料四 (明中叶以后)形成了相当发达的全国商业市场。这时不仅南京等传统的发达地区的城市铺行栉比、民物繁华,边塞城市如大同也“繁华富庶,不下江南”。新兴的市镇大部分集中在江南的苏、松、杭、嘉、湖地区。清代除军器、铸钱等手工业生产属官营和个别地区设立官营丝作坊、制瓷作坊外,各种手工业均为民营。

——摘编自赵毅、赵轶峰《中国古代史》

(4) 据材料四,概括明清时期经济发展的特点。并结合所学知识,说明明清时期经济发展对当时文学艺术的影响。(4分)

27. (18分) 富是民之本,强乃国之基。民族复兴,富强繁荣,始终是一代又一代中国人为之奋斗的理想和目标。阅读材料,回答问题。

材料一 国家财政收入不断增加,军事工业便不可能开展。而国家要增加财政收入,必须首先使国家富起来。在这种形势下,洋务派提出自强先“求富”,强调以“富”为根底和兴办民用工业以“求富”的主张……但因为企业受到清王朝及官僚的控制,其生产规模、利润分割要听命于清王朝,带上了浓厚的封建性。企业能否开展,与封建势力的控制往往成反比。

——赵德馨著《中国近现代经济史 1842—1949》

(1) 根据材料一,回答洋务派为什么要“求富”? 概括指出“求富”路上最大的阻碍因素是什么? 结合所学知识列举洋务派创办的一个“求富”企业。(6分)

材料二 辛亥革命后,尤其是第一次世界大战期间,曾出现中国民族工业开展的“黄金时代”,然而人们殷殷向往、已在招手的建设时机很快丧失了,中国并没有出现随政治革命而来的“产业革命”。个中缘由,过去只强调了帝国主义的侵略。帝国主义没有支持南京临时政府,这是事实。但更主要的原因在于封建政治势力的破坏,革命党人非但没有能力制约封建军阀,反而一步步受到封建军阀的制约。胜利的辛亥革命推动了实业的开展,而随之而来的军阀混战,又窒息了民族工业的开展。

——陈旭麓著《近代中国社会的新陈代谢》

材料三 从经济增长的角度来衡量,第一个五年方案是一个令人吃惊的成功。国民收入年平均增长率为8.9%, (按不变价格计算), 农业和工业的增长量每年分别约为3.8%和18.7%……第一个五年方案的特征是明显的加速度。

——(美) 费正清主编《剑桥中华人民共和国史》

(2) 根据材料二归纳“中国并没有出现随政治革命而来的‘产业革命’”的原因。(2分)



(3) 对照材料一结合所学知识,分析材料二中促使“第一个五年计划的特征是明显的加速度”的原因。举出一项第一个五年计划期间取得的重工业成就。(4分)

材料四 中国在过去的三十多年里进行的经济改革,不仅提高了公民总体的物质生活水平,也给他们带来了更多的自由和更大的流动性。中国开展了一种充满活力的社会主义市场经济,能够挑战美国经济主导地位,并且提供了一种不同于西方民主的国家开展模式。

——(美)弗兰克·萨克雷、约翰·德林主编《世界大历史——1900至反恐战争》

(4) 材料四中,“中国过去的三十多年里进行的经济体制改革”的总设计师是谁?建立“社会主义市场经济”的目标是在哪次会议提出的?中国的“不同于西方民主的国家开展模式”指什么?(6分)

28. (16分) 北京冬奥会、冬残奥会总结表彰大会于4月8日在人民大会堂隆重举行。奥运会是时代的缩影。阅读材料,回答问题。

材料一 19世纪中期以后,电报、电话、汽车等新发明的出现,为世界性体育大赛的举办提供了条件。同一时期,欧洲列强意图瓜分世界,展开激烈争夺。“现代奥运之父”顾拜旦希望通过复兴奥林匹克的和平精神,克服狭隘的民族主义。在他的努力下,首届夏季奥林匹克运动会于1896年在希腊雅典举办。

——摘编自贝林格《体育通史:从古希腊罗马到21世纪》

(1) 依据材料一,分析现代奥运会产生的历史背景。(4分)

材料二 奥运会对世界大战时期的全球政治骚乱没有免疫力,如1916年(第5届)、1940年(第12届)和1944年(第13届)的奥运会不得不被取消。

——摘编自(美)杰里·本特利、赫伯特·齐格勒《新全球史:文明的传承与交流》

(2) 依据所学知识,指出影响材料二中提到的三届奥运会停办的重大事件。(4分)



材料三 1959年5月，日本成功争取到1964年东京奥运会的主办权。日本举办东京奥运会的主要目的，在于借这一“盛会”实现其都市振兴之梦。日本政府认为，东京都的城市整备，成为日本在奥运会期间展示日本战后复兴形象的关键。为筹备好奥运会，东京都的都政几乎实现了“奥运会事务局化”。1958—1964年间，东京都为奥运会相关整备事业投入2456亿日元，其中大会运营以及运动设施建设仅占2.2%，东京都为中心的都市整备占97.8%。都市整备中，东海道新干线建设占40%，地铁整备占20%，道路整备占18.4%，奠定了当今东京都交通的基础。

——摘编自牟伦海《战后日本高速增长中的国家形象战略》

(3) 根据材料三并结合所学知识，分析1964年日本举办东京奥运会的背景有哪些？(2分) 这届奥运会的举办对日本产生了怎样的影响？(2分)

材料四 1972年的奥运会反映了苏联和美国之间的紧张关系。历史上，美国的篮球队一直支配着美国的奥林匹克运动。然而，苏联在那一年获得了篮球比赛的金牌，在比赛结束时美国队提出抗议并且拒绝接受银牌。1980年，美国抵制莫斯科奥运会以作为对苏联入侵阿富汗的报复……作为对美国抵制的报复，苏联抵制了1984年在洛杉矶举行的夏季奥运会……140个国家派运动员参加了这届奥运会，其中包括中华人民共和国，很少有国家追随苏联进行这种抵制。正如中国的行动所暗示的那样，奥林匹克运动会也能反映冷战时期国家间的裂痕。

(4) 依据材料四结合所学知识，指出美苏两国相互抵制奥运会的历史原因。(2分)

材料五 7年来，在党中央坚强领导下，各有关部门、各省区市团结协作、攻坚克难，北京携手张家口作为主办城市尽锐出战、全力投入，同国际奥委会、国际残奥委会等国际体育组织紧密合作，克服新冠肺炎疫情等各种困难挑战，向世界奉献了一届简约、安全、精彩的奥运盛会，全面兑现了对国际社会的庄严承诺，北京成为全球首个“双奥之城”。

——习近平：在北京冬奥会残奥会总结表彰大会上的讲话

(5) 依据材料五结合所学知识，分析现代中国能“向世界奉献了一届简约、安全、精彩的奥运盛会，全面兑现了对国际社会的庄严承诺，北京成为首个‘双奥之城’”的原因。(2分)

