

陕西省西安市长安区 2022 年中考二模历史试题

试卷类型:A

长安区 2022 年九年级第二次模拟

历史试卷

注意事项:

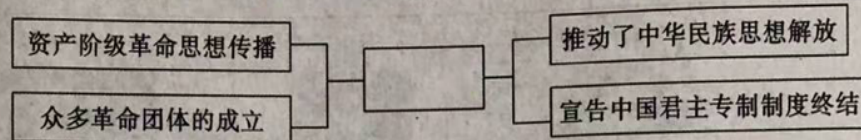
1. 本试卷分为第一部分(选择题)和第二部分(非选择题)。全卷共 6 页,总分 60 分。考试时间 60 分钟。
2. 领到试卷和答题卡后,请用 0.5 毫米黑色墨水签字笔,分别在试卷和答题卡上填写姓名和准考证号,同时用 2B 铅笔在答题卡上填涂对应的试卷类型信息点(A 或 B)。
3. 请在答题卡上各题的指定区域内作答,否则作答无效。
4. 考试结束,本试卷和答题卡一并交回。

第一部分(选择题 共 20 分)

一、选择题(本部分共 10 道试题,每题 2 分,计 20 分。每题只有一个选项符合题意)

1. 春秋时期,我国农耕技术上农用动力的一次革命指
A. 筒车的使用 B. 牛耕的使用 C. 曲辕犁的使用 D. 都江堰的兴修
2. 16 世纪至 19 世纪,传教士向西方广泛介绍了中国的科举制度。……英国历史学家汤因比认为,英国文官考试制度曾效仿中国的科举制度。据材料可知,科举制度
A. 引发了欧洲文艺复兴运动兴起 B. 直接推动了工业革命的发展
C. 对西方文明进程产生了一定影响 D. 严重束缚了人们的思想自由
3. 1861 年,法国巴特雷上尉写信给雨果,要求雨果歌颂他们。他认为,“这次远征行动干得体的面而漂亮,是法兰西和英格兰共享之荣耀。”材料中所谓的“荣耀”所指史实是
A. 割占台湾 B. 火烧圆明园 C. 干涉还辽 D. 索银 4.5 亿两

4. 图示法是研究和学习历史常用的方法之一。根据下图所示信息判断,中间空白框内应填

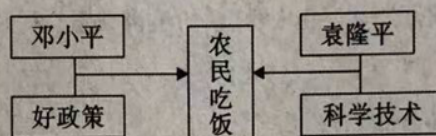


- A. 洋务运动 B. 戊戌变法 C. 辛亥革命 D. 五四运动

5. 解放战争期间,东北解放区有 100 多万农民参军,华北解放区有近 100 万农民参军;广大农民还积极参加民兵,民兵参战者 200 多万人,作战 10 多万次,共歼敌 20 多万人。出现这种局面的主要原因是

- A. 共产党赴重庆谈判 B. 解放区的土地改革
C. 国民党的黑暗统治 D. 共产党的宣传动员

6. 关于下图“吃饭靠两平”的认识,不正确的是



- A. 好政策指家庭联产承包责任制
B. 科学技术指籼型杂交水稻
C. “政策”和“技术”都推动了农村经济的发展
D. 体现了人们依然受个人崇拜思潮的影响

7. 1997 年 6 月 30 日,101 岁的胡家梦老太太在南京参加庆祝香港回归活动时说:“国家不强大,香港哪能回来。国家兴盛,是老百姓的福气啊!”材料中,胡老太关于香港回归的主要原因归结为

- A. “一国两制”构想的提出 B. 中英双方的共同努力
C. 中国人民的殷切期盼 D. 中国综合国力的增强

8. 从 13 世纪晚期到 16 世纪,欧洲出现了对古典文明的再发现,但最令人感兴趣的成就都是全新的。因此,当时主要是“兴”,而不是“复兴”,其中“兴”是指

- A. 对古典文化的全面继承 B. 中世纪西欧城市的兴起
C. 人文主义思潮逐渐流行 D. 文艺复兴向西欧传播

9. 有位西方学者把一战后的国际形势描述为“从和平走向战争”,能反映这一趋势的是

- A. 经济危机的爆发、持续 B. 德日建立法西斯政权
C. 凡尔赛—华盛顿体系的建立和瓦解 D. 成立国际联盟

10. 王老师给出以下三个提示,要求同学们说出与之有关的国际组织。该组织是

提示一:其前身是关贸总协定

提示二:为适应经济全球化的需要

提示三:中国于2001年加入

A. 世界贸易组织

B. 二十国集团

C. 金砖国家

D. 亚太经合组织

第二部分(非选择题 共40分)

二、填空题(共5道试题,每题2分,每空1分,计10分)

11.《_____》是我国第一部纪传体通史,记述了从传说中的黄帝到汉武帝时的史实;北宋史学家、政治家司马光主持编写的《_____》是一部编年体的通史巨著,记述了从战国到五代的历史。

12. 台湾自古是中国领土不可分割的一部分。1684年,清朝在D处设_____,在澎湖设巡检,包括钓鱼岛,均隶属于福建省。1885年,清朝为了巩固东南海疆,在台湾建立_____。



13. _____年8月15日,日本天皇被迫宣布无条件投降,9月2日,日本政府正式签署投降书,中国抗日战争取得了最后的胜利,世界反法西斯战争胜利结束;_____年10月,第26届联合国大会通过决议,恢复中华人民共和国在联合国的一切合法权利。

14. 公元前450年左右,罗马颁布成文法《_____》,使量刑定罪有了文字依据,在一定程度上遏制了贵族对法律的曲解和滥用;_____是世界上第一部资产阶级成文宪法,对后来许多国家的政治变革产生了重要影响。

15. 1871年3月28日,巴黎无产阶级和人民群众建立了世界上第一个无产阶级政权——_____ ; _____是人类历史上第一次胜利的社会主义革命,建立了第一个无产阶级专政的国家。

三、问答题(以下2道试题,请任选一题作答,如果两题都答,按第16题计分,计7分)

16. 汉代开辟丝绸之路的条件有哪些?(3分)汉代,中原向西域传播了哪些技术?(2分)简要说明古代丝绸之路开辟的历史意义。(2分)

17. 概括清朝前期农业发展的表现。(3分)清朝前期农业发展对社会产生了什么影响?(2分)分析明清时期中国开始落后于世界发展潮流的原因。(2分)

四、材料解析题(共2道试题,计23分)

18. 实现中华民族的伟大复兴是近代以来中华民族最大的梦想。阅读材料,回答下列问题。(10分)

【史诗《复兴之路》的解说词】

材料一:帝国主义列强入侵的炮声摧毁了大清王朝的沉梦,一个个不平等条约撕碎了中国美丽的山河。

——第一章《山河祭》

(1)材料一中的“大清王朝的沉梦”首先被哪场战争所摧毁?(1分)结合所学知识,概括“一个个不平等条约”对中国产生了怎样的危害?(1分)

材料二:这是中国共产党领导的中国革命的伟大历程,当合唱队成员高声喊起新中国的名字时,让人们沉浸在无比的感怀与激动中。

——第二章《热血赋》




(2)材料二中“伟大历程”是以1921年—1949年的历史为背景,这个阶段中国共产党为争取民族独立做出了哪些贡献,请用史实加以说明。(4分)

材料三:1978年的初冬,是一个特别的季节,一个震天动地的消息让世界惊叹。这一天共和国从此又一次走进了春天。

——第四章《大潮曲》

(3)依据材料三,结合所学知识,指出“共和国又一次走进了春天”的起点是哪一历史事件?(1分)该事件有何历史意义?(1分)

【《复兴之路》展览馆】

追梦人	孙中山 民主革命先行者	毛泽东 新中国缔造者	邓小平 改革开放总设计师
			

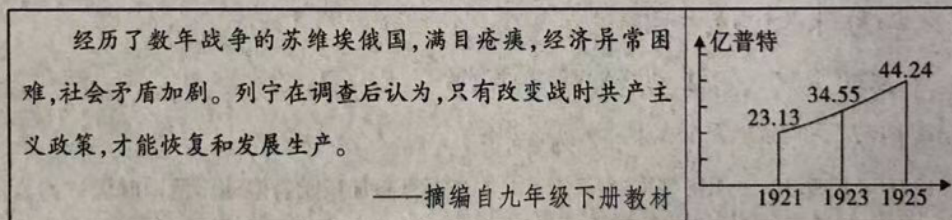
(4) 根据上表提示任选一人写出他们的梦想,从近现代“追梦”历程中你有何认识? (2分)

19. 某校九年级(1)班同学以“苏(俄)联的经济建设”为主题展开探究活动,请你参与。

(13分)

【过渡时期的经济建设】


材料一:



(1) 依据材料一,结合所学知识,指出面对危机列宁进行了怎样的政策调整? (1分) 该政策发挥了怎样的作用? (2分)

【社会主义时期的经济建设】

材料二:

	<p>斯大林等苏联领导人认为,苏联经济远比西方资本主义国家的经济落后,苏联应该摒弃资本主义国家走过的工业化道路,优先发展重工业。……苏联的五年计划引起了全世界的关注。</p> <p>——摘编自九年级下册教材</p>
---	---

(2) 材料中“苏联的五年计划引起了全世界的关注”,请用史实来说明此观点。(2分) 结合所学知识,评价苏联社会主义工业化道路。(3分)

材料三:1949—1978 年是经典社会主义现代化时期,带有苏联的经典社会主义现代化模式的色彩。

——摘编自《中国现代化历程》

(3)结合所学知识,指出材料三中我国“带有苏联经典建设模式”的相关历史事件。(1分)该事件有何特点?(1分)

【大国竞争时期的经济建设】

材料四:(20 世纪 80 年代末 90 年代初)苏联和东欧的改革相继失败……在世界政治风云急剧变化的严峻挑战面前,社会主义中国经受住了考验,显示了勃勃生机和强大生命力。

——摘编自吴于廑、齐世荣《世界史——现代史编(下卷)》

材料五:



习近平

中国经济韧性强、潜力足、回旋余地广、长期向好的基本面不会改变,将为世界经济企稳复苏提供强大动能,为各国提供更广阔的市场机会。中国将全面贯彻新发展理念,加快构建新发展格局,着力推动高质量发展。不论世界发生什么样的变化,中国改革开放的信心和意志都不会动摇。

——习近平在博鳌亚洲论坛 2022 年年会开幕式上的主旨演讲
《携手迎接挑战,合作开创未来》

(4)依据材料四,结合所学知识,分析苏联社会主义改革失败的根本原因。(1分)结合上述材料,面临严峻挑战,中国是如何“经受住考验”,请用事实加以说明。(1分)谈谈你从社会主义国家经济建设的历程中得到的认识。(1分)