

历史

2022.5

注意事项:

1. 本试卷分第 I 卷(选择题)和第 II 卷(非选择题),共 8 页,满分 100 分,考试时间 60 分钟。答卷前,考生务必用 0.5 毫米黑色签字笔将自己的姓名、准考证号、座号填写在试卷和答题卡规定的位置。考试结束后,将本试卷和答题卡一并交回。
2. 答题注意事项见答题卡,答在本试卷上不得分。

第 I 卷(共 50 分)

第 I 卷为选择题,共 25 道题,每题 2 分,共 50 分。在每题所列出的四个选项中,只有一项是最符合题目要求的。

1. 传说蚕丛是蜀地首先称王的人,他的眼睛向前突出。下图所示文物与蚕丛形象吻合。由此可见



1986 年四川三星堆出土的双目面具

- A. 传说与神话都是真实的历史
 - B. 考古是了解历史真相唯一途径
 - C. 传说中蕴含着一定的历史信息
 - D. 传说的历史价值远超考古发现
2. 成语“揭竿而起”出自于中国历史上第一次大规模的农民起义,这次起义是
 - A. 刘邦、项羽起义
 - B. 义和团运动
 - C. 太平天国运动
 - D. 陈胜、吴广起义
3. 220 年,曹操的儿子曹丕在洛阳称帝;221 年,刘备在成都称帝;229 年,孙权在建业称帝。三国鼎立的局面形成于
 - A. 公元 2 世纪前期
 - B. 公元 2 世纪后期
 - C. 公元 3 世纪前期
 - D. 公元 3 世纪后期
4. 唐朝时期传到日本的螺钿铜镜(见右图),把南海的夜光贝、东南亚的琥珀、中东的宝石、阿富汗的蓝宝石巧妙地组合在一起,构成五彩缤纷的图案。这体现了唐朝
 - A. 农业发展的水平
 - B. 疆域范围的辽阔
 - C. 对外开放的气象
 - D. 社会矛盾的尖锐
5. 文旅融合唤醒城市记忆。下列城市名片可以唤醒南宋都城记忆的是
 - A. 秦俑故乡,丝路源头
 - B. 六朝古都,金陵风韵
 - C. 繁华汴水,精彩开封
 - D. 千古宋城,梦回临安
6. 某历史论文提到了“1662 年”“荷兰殖民者”“收复台湾”“民族英雄”等信息。据此判断该论文重点研究的人物是
 - A. 郑成功
 - B. 文天祥
 - C. 戚继光
 - D. 忽必烈



7. 清朝统一全国后,加强君主专制,并对西藏、新疆、台湾及附属岛屿、南海诸岛等进行有效的管辖。1727 年,清朝对西藏进行有效管辖采取的措施是
- A. 设置澎湖巡检司 B. 设置伊犁将军 C. 设置驻藏大臣 D. 设置台湾府
8. 英国《泰晤士报》某日报道:“天子已退位,清朝统治不复存在,世界上最古老的君主国已经正式成为一个共和国。”该报道评论了
- A. 洋务运动的背景 B. 戊戌变法的内容 C. 辛亥革命的影响 D. 五四运动的成果
9. 中共一大提出党的纲领是“革命军队必须与无产阶级一起推翻资本家阶级的政权”。中共二大提出党的最高纲领是“实现共产主义”,最低纲领是“打倒军阀,推翻国际帝国主义的压迫,将中国统一为真正的民主共和国”。这说明中国共产党
- A. 开始改变中国革命的道路 B. 认清了中国社会性质和革命性质
C. 认识到建立军队的重要性 D. 与资产阶级的革命对象相一致
10. 1927 年 8 月,周恩来等人领导革命军在南昌发动武装起义;1927 年 9 月,毛泽东在湘赣边界打出了“工农革命军”的旗帜,举行秋收起义。这是
- A. 革命任务的变化 B. 革命策略的变化 C. 革命中心的变化 D. 革命性质的变化
11. 毛泽东在《论联合政府》中说:“从 1937 年 7 月 7 日卢沟桥事变到 1938 年 10 月武汉失守这一时期内,国民党政府的对日作战是比较努力的……一时出现了生气蓬勃的新气象。”此处“新气象”主要是指
- A. 抗日民族统一战线初步建立 B. 敌后战场已成为主战场
C. 全国性抗战局面形成 D. 国民党军队基本上扭转了战局
12. 时空观念是历史学科核心素养之一。下列解放战争时期的史实,按其发生时间的先后排序,正确的是:①淮海战役 ②转战陕北 ③解放南京 ④挺进大别山
- A. ④①③② B. ②④①③ C. ①②③④ D. ④②③①
13. 《中华人民共和国土地改革法》规定“废除地主阶级封建剥削的土地所有制,实行农民的土地所有制,借以解放农村生产力,发展农业生产,为新中国的工业化开辟道路。”下列选项对此理解有误的是
- A. 废除了封建土地制度 B. 建立了土地的公有制
C. 解放了农村生产力 D. 为国家的工业化开辟了道路
14. 右图为“1953—1957 年国家某重点工业基地示意图”。观察地图,可以得到的信息有:①我国由农业弱国发展为工业强国 ②该工业基地位于我国东北 ③该基地以发展重工业为主 ④“一五计划”取得巨大成就 ⑤抗美援朝取得胜利
- A. ①②③④ B. ②③④
C. ②③④⑤ D. ①②④
15. 史料是历史学习的重要素材。一手史料是当事人、亲历者直接记录或留下的资料和遗物、遗迹等。如果我们要研究邓稼先为两弹研制作出的贡献,以下可作为一手史料使用的是
- A. 电影作品《邓稼先》 B. 邓稼先遗留手稿和日记
C. 《中外科学家故事——邓稼先》 D. 某同学课堂笔记提纲



16. 中共十一届三中全会被称为“新时期的遵义会议”，因为这两次会议都：①找到了中国特色革命道路 ②形成了党中央的正确领导核心 ③是党历史上的重要转折点 ④在党面临严重困难局面时召开
- A. ①②③ B. ①②④ C. ①③④ D. ②③④
17. 1992 年，我国社会主义改革开放进入新阶段。对外开放的地域向纵深推进，呼和浩特、满洲里成为开放城市。同时，在经济体制改革中
- A. 城市改革成为重点 B. 制定出调整、巩固、充实、提高的方针
C. 乡镇企业异军突起 D. 提出要建立社会主义市场经济体制
18. “五十六个星座，五十六枝花，五十六族兄弟姐妹是一家”我国是由 56 个民族共同组成的统一多民族国家。为促进少数民族地区共同繁荣发展，国家采取了一系列举措。下列说法有误的是
- A. 我国建立的第一个省级少数民族自治区是内蒙古自治区
B. 新中国成立后，在少数民族地区实行了民主改革和社会主义改造
C. 改革开放以来，为加强祖国内地与边疆地区的联系，川藏、青藏、新藏公路相继通车
D. 国家实施了旨在推动边疆少数民族地区加快发展的兴边富民行动
19. 12 世纪大学兴起，它被称为中世纪教育“最美好的花朵”。大学最早兴起在
- A. 非洲 B. 美洲 C. 欧洲 D. 亚洲
20. “彼等(美洲人)非常顺从，不知邪恶，不杀人、捕人，不谙武器。彼等胆子甚小，鉴于此，仰祈二位陛下尽早圣断，将彼等变成基督徒。”此句出自于探寻新航路的探险者
- A. 迪亚士 B. 达伽马 C. 哥伦布 D. 麦哲伦
21. 17、18 世纪，资产阶级革命的时代来临。对英、美、法资产阶级革命的比较，下列观点错误的是
- A. 都推翻了腐朽的封建专制统治 B. 都为资本主义的发展扫除了障碍
C. 都颁布了维护革命成果文献 D. 都产生了广泛而深远的社会影响
22. 历史表明，社会制度和意识形态不同的国家能够联合起来，共同应对人类和平与发展面临的挑战。下列事件可以证明这一结论的是
- A. 三国同盟的形成 B. 世界反法西斯联盟的建立
C. 三国协约的形成 D. 凡尔赛—华盛顿体系的建立
23. “第二次世界大战期间所遭受的损失与接踵而来的冷战的压力迫使西欧依靠美国。”能够佐证材料观点的是：①建立欧洲经济共同体 ②接受马歇尔计划的援助 ③加入北大西洋公约组织 ④签署《联合国宣言》
- A. ①② B. ③④ C. ①④ D. ②③
24. 2020 年以来，世界在新冠疫情的狂风暴雨中蹒跚前行，但地区冲突问题却并未因疫情而淡化。阿富汗与塔利班和谈一波三折，利比亚冲突余波未平，巴以地区战争又起，俄乌两国燃起战火。对此理解正确的是
- A. 当今世界并不太平，仍存在很多矛盾和冲突
B. 和平与发展已不再是当今世界的两大主题

- C. 人类正在面临新一轮世界大战的严重威胁
D. 地区冲突是当今世界动荡不安的唯一原因
25. 据统计,从 1948 年到 1994 年,世界上先后出现了 109 个地区经济合作组织,其中 2/3 是 20 世纪 90 年代的产物,如北美自由贸易区、独联体等。这反映了
- A. 全球化进程中,发达国家占据主导地位 B. 政治多极化趋势推动了经济区域化
C. 联合国在促进经济发展中发挥很大作用 D. 区域集团化加速了全球性市场的形成

第 II 卷(共 50 分)

第 II 卷为非选择题,共 3 道题,第 26 题 16 分,27 题各 18 分,第 28 题各 16 分,共 50 分。

26. (16 分)为巩固统治,有效治理国家,历代政府进行了不懈的努力。阅读材料,运用所学知识,回答下列问题。

材料一 经“文景之治”,武帝时国力上升。在调整、限制、打击王国势力的过程中,郡县制逐步成为汉国家结构的主体,也正是在这个基础上,汉武帝从政治、经济、文化上采取了一系列措施,使汉帝国走向强盛。

——摘编自卜宪群《秦汉之际国家结构的演变》

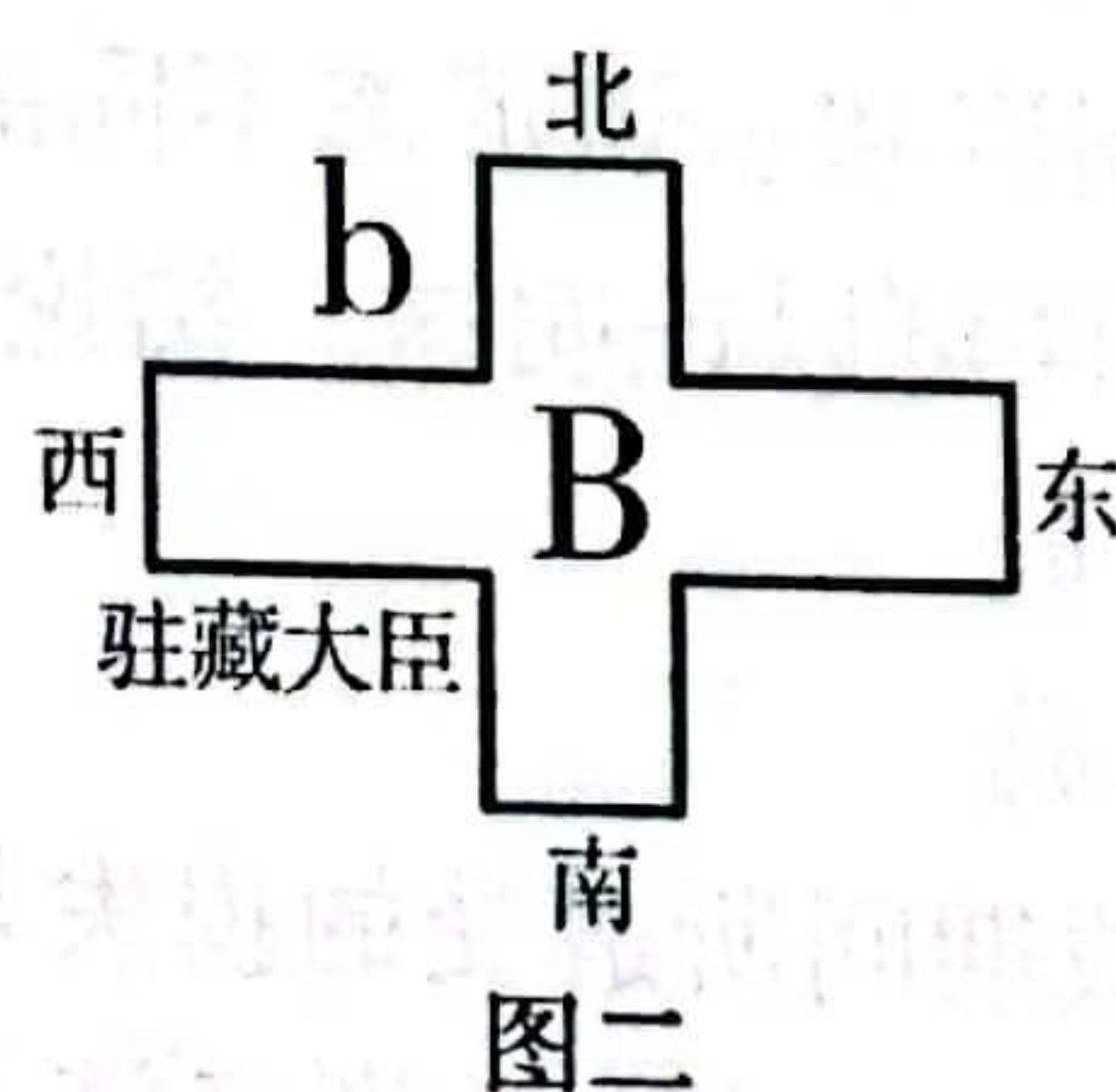
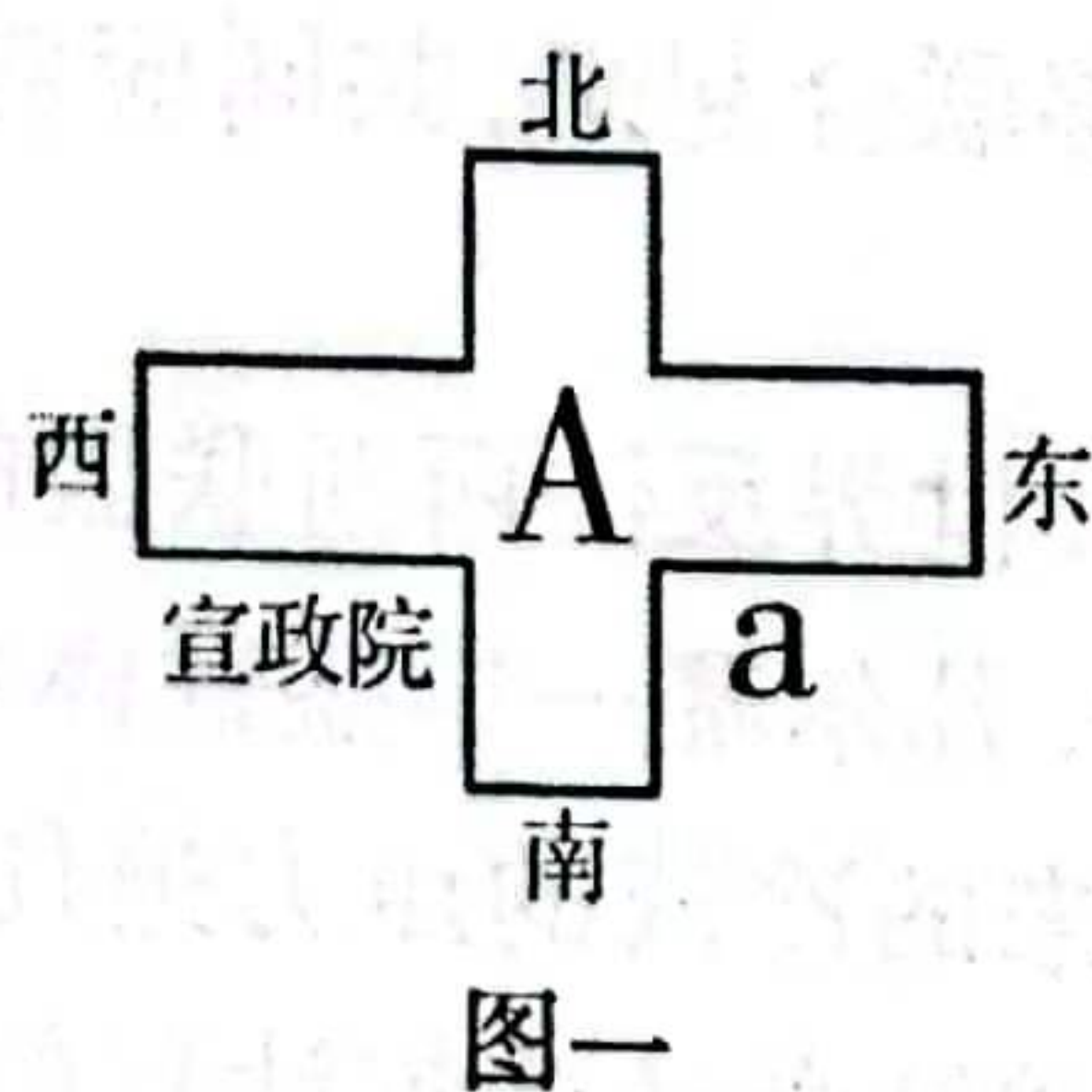
(1)据材料一,逐条归纳有关汉武帝时期的历史信息。(3 分)

材料二 贞观二年,太宗谓侍臣曰:“凡事皆须务本。国以人为本……为政之要,唯在得人。用非其才,必难致治。今所任用,必以德行、学识为本。”

——摘自《贞观政要》

(2)据材料二,概括唐太宗有关治国的想法有哪些?这些想法是如何实施的?列举一例相关史实说明。(5 分)

材料三 如下图




(3)根据材料三判断图一中 A 和图二中 B 分别代表什么朝代? AB 两个朝代为了加强对边疆地区的管辖,分别在 a、b 两地设置了什么管理机构?结合所学知识指出,我国古代治理边疆的方式除了设置机构外,还有哪些?(6 分)

(4)综合上述材料,分析实现国家强盛的主要因素。(2 分)

27. (18分)外交是智者的游戏,是妥协的艺术,是一个国家实力强弱的晴雨表。近现代中国的外交历史更是跌宕起伏,几经波折,回首这段历史,令人深思。阅读下列材料,回答相关问题。

材料一 如下图



(1)材料一中的三幅漫画分别反映了中国近代史上哪三次列强侵华事件?请结合所学知识指出,第一幅漫画反映的侵华事件给中国社会性质带来了什么样的影响?导致近代中国屈辱史的重要原因是什么?(6分)

材料二 如下图



(2)新中国的成立,结束了我国百年的屈辱外交,翻开了外交事业的新篇章。以上三幅图片是新中国成立后《人民日报》刊登的部分重大事件,根据材料二并结合所学知识,概括其表达的共同主题。(2分)

材料三 1997年6月30日23时59分,在中英香港政权交接仪式上,英国国旗和香港旗缓缓降落。它标志着……,0时整……,中国人民解放军军乐队奏响雄壮的中华人民共和国国歌,中国国旗和香港特别行政区区旗徐徐升起,全场沸腾了,许多人眼睛里噙满激动的泪花,雷鸣般的掌声经久不息。

(3)材料三反映的是我国哪一外交成就?这一成就的取得得益于哪一构想的提出?(4分)

材料四 2021年4月17日,外交部发言人就美日领导人联合声明涉华消极内容答记者

问。发言人说,台湾、钓鱼岛都是中国领土。涉港、涉疆事务纯属中国内政。中国对南海诸岛及其附近海域拥有无可争辩的主权。美日联合声明粗暴干涉中国内政,严重违反国际关系基本准则。中方对此强烈不满、坚决反对,已通过外交渠道向美、日表明严正立场。

(4)根据材料四及所学知识,写出新中国成立以后我国奉行的外交政策是什么? 20 世纪 50 年代提出的外交原则是什么?(4 分)

(5)综合上述材料,结合所学知识,从中国近现代外交变化中你得到了怎样的认识?(2 分)

28. (16 分)大国关系一直影响着世界的和平与稳定,引发举世关注。阅读下列材料,回答相关问题。

材料一 ①重划德国疆界……②禁止德国实行义务兵役制,不许德国拥有空军,限制德国陆军人数;③德国承认奥地利、波兰等国独立;④设立赔偿委员会,决定德国战争赔款的总和;⑤德国的海外殖民地由英、法、日等国瓜分。

——摘编自部编《世界历史》九年级下册

(1)材料一的内容出自哪次战争后签订的哪个条约? 其中的哪一条款最能反映材料中“战争”的性质(答序号)? 战后形成的国际格局是什么?(4 分)

材料二 二战中美苏两国结成了反法西斯同盟,两国战时关系的主流是友好与合作……但意识形态的对抗和国家利益相悖,使美苏两国在战后初期国际环境中不可避免地产生对抗,导致“冷战”的出现。

——摘自张小明《“冷战”及其遗产》

(2)依据材料二指出美苏两国关系发生了怎样的变化? 发生这种变化的原因是什么? 结合所学知识指出,美苏“冷战”开始的标志和直接后果分别是什么? 此后形成的国际格局是什么?(6 分)

材料三 全球范围内冲突和贫困尚未根除,但和平与发展的时代潮流愈发强劲。世界多极化、经济全球化、文化多样化、社会信息化深入发展。弱肉强食的丛林法则、你输我赢的零和游戏不再符合时代逻辑,和平、发展、合作、共赢成为各国人民共同呼声。

——摘自习近平《论坚持推动构建人类命运共同体》

(3)根据材料三并结合所学知识,指出二战以来世界格局发生的变化。说出当今世界的时代潮流是什么?(4 分)

(4)综合上述材料并结合所学知识,谈谈世人应如何顺应历史发展潮流,积极构建人类命运共同体。(2 分)