

学号  
姓名  
班级  
学校

# 九年级历史(开卷)

## 第I卷(客观题 共50分)

该部分共25小题,每小题2分。请你在每小题所列出的四个选项中,选出一项符合题目要求的。

1. 秦朝的百姓,如要去集市采购生活用品,他应该携带的货币是




2. 诸葛亮指出曹操大军南下,远道而来,犹如强弩之末,又不习水战,孙权刘备合作定能取胜;曹操败后势必北撤,三分天下的局面自然形成。验证诸葛亮观点的战役是

- A. 牧野之战
- B. 官渡之战
- C. 淝水之战
- D. 赤壁之战

3. 它对中国长期的政治统一起了重要作用,它把已经分裂了四个世纪的两个各自为政的地区重新纳入到一个政体当中,南方对成为军事、政治中心的北方提供供养与支持也主要依赖它。文中的“它”是

- A. 都江堰
- B. 灵渠
- C. 大运河
- D. 长城

4. 中日山水相连,中国文化对日本有深远影响。从646年开始,日本仿效唐朝的典章制度,进行“大化改新”,积极吸收中国文化。最能反映下列五幅图片信息的诗句是



唐朝开元通宝 日本和同开珎 日本使用的文字 唐朝长安城 日本平城京

- A. 洛阳家家学胡乐
- B. 冲天香阵透长安
- C. 千金散尽还复来
- D. 唐风洋溢奈良城



5. 某同学在学习中绘制了多幅中国古代史上政权并立局面示意图，其中绘制正确的是



A



B



C



D

6. 历史上中央政府首次在台湾地区正式建立行政机构的王朝是

A. 秦朝      B. 唐朝      C. 宋朝      D. 元朝

7. 自古以来，中外交往源远流长。下列对古代中外交往史实的解读，不准确的是

A. 丝绸之路是古代东西方往来的大动脉，促进了中国同其他国家和地区的贸易与文化交流  
B. 中国的指南针、火药的发明和外传，对人类文明发展产生了重大影响  
C. 郑和下西洋开创了西太平洋与印度洋之间的亚非海上交通线，为人类航海事业作出了伟大贡献  
D. 面对西方国家的殖民侵略，清朝推行闭关锁国政策，禁止对外贸易

8. 中国近代史上，列强同清政府签订了一系列不平等条约，下列条约按照签订时间的先后排序，正确的一项是

①《天津条约》      ②《南京条约》      ③《辛丑条约》      ④《马关条约》  
A. ②①④③      B. ②④①③      C. ①④②③      D. ③①②④

9. 与中国两千多年君主专制制度终结、南京临时政府的成立、《中华民国临时约法》的颁布都相关的事件是

A. 安史之乱      B. 金田起义      C. 辛亥革命      D. 义和团运动

10. 在五四运动中学生们提出“外争主权，内除国贼”“誓死力争，还我青岛”“废除二十一条”“拒绝在合约上签字”等口号，单从口号中我们可以看出五四运动

A. 是一次反帝反封建的爱国运动      B. 无产阶级登上了历史舞台  
C. 是中国旧民主主义革命的开端      D. 促进了马克思主义的传播

11. 国共两党第一次合作正式建立的标志是

A. 中国国民党一大的召开      B. 黄埔军校的创办  
C. 北伐战争的开始      D. 南京国民政府的建立

12. “娄山关前鏖战急，遵义城头赤帜竖。舵手一易齐桨橹，革命从此上新途。”这是伍修权在某次会议期间所作《七律·历史转折》的诗，这次会议

A. 是中共从幼年走向成熟的标志      B. 是中国近现代史的分界点  
C. 是中国历史上开天辟地的大事      D. 确立了毛泽东思想的领导地位



13. 1937年12月,日军占领中国某地后,对当地人民进行了血腥大屠杀。据查证日军屠杀手无寸铁的中国居民和放下武器的中国士兵达30万人以上。此暴行发生于

- A. 旅顺 B. 武汉 C. 南京 D. 成都

14. 在一次人民解放战争的研究性学习活动中,同学们收集了很多学习资源,下表中的学习资源与主题完全相符的一组是

序号	资源	名称
A	视频	《飞夺泸定桥》《辽沈战役》
B	图片	《宣传〈中国土地法大纲〉》《渡江战役示意图》
C	文献	《论持久战》《转战陕北》
D	遗址	古田会议会址 重庆谈判旧址

15. 下列关于1954年制定的《中华人民共和国宪法》的表述,不正确的是

- A. 规定中华人民共和国全国人民代表大会是最高国家权力机关  
B. 是我国第一部社会主义类型的宪法  
C. 系统阐述了社会主义初级阶段的理论  
D. 是我国有史以来真正反映人民利益的宪法

16. 习近平总书记嘱咐青年学生要多学党史、中华人民共和国史、改革开放史、社会主义发展史。这“四史”的交汇点是

- A. 1921年 B. 1949年  
C. 1956年 D. 1978年

17. 某同学在利用历史笔记复习时看到右图所示内容,该同学复习的内容可能是

- A. 社会生活的变迁 B. 香港和澳门回归祖国  
C. 经济特区的建立 D. 教育文化事业的发展

●1997年7月1日,1999年12月20日  
●洗雪了百年国耻


18. 对于1971年10月25日发生的一件大事,美国

代表布什说:“这是联合国历史上的转折点,反西方国家在美国威信动摇时第一次击败了美国。”他哀叹,那些表决后欢声雷动的代表们“就是要踢山姆大叔一脚”。这个“转折点”是


- A. 中国恢复了在联合国的合法席位  
B. 中日两国正式建立外交关系  
C. 不结盟运动的兴起  
D. 日内瓦会议召开并取得圆满成功



19. 历史古迹是古代文明的见证。如图古迹能够见证古埃及文明的是




A



B



C



D

20. 内燃机的发明是 19 世纪后期应用技术的一项重大发明，发明以汽油为燃料的内燃机的是

- A. 爱迪生      B. 戴姆勒      C. 卡尔·本茨      D. 诺贝尔

21. 1933 年，面对经济大危机，美国总统在演说中说：“我向你们保证，我对自己立下誓言，要为美国人民实行新政。”这位美国总统是

- A. 华盛顿      B. 林肯      C. 罗斯福      D. 杜鲁门

22. 一战前欧洲形成了同盟国和协约国两大敌对军事集团，二战前德意日法西斯形成了轴心国同盟，二战后世界出现了北约和华约的对峙局面。这反映了

- A. 法西斯势力的日益猖獗      B. 大国结盟影响世界局势  
C. 帝国主义国家间的争夺      D. 冷战对峙局面开始形成

23. 下表中的历史事件反映的时代主题是

时间	历史事件
1955 年	万隆会议召开
1960 年	“非洲年”，非洲有 17 个国家获得独立
1990 年	纳米比亚独立，标志着所有非洲国家都摆脱了殖民主义的枷锁
1999 年	年底，巴拿马收回运河区的全部主权

- A. 亚非拉国家的独立与发展      B. 两极格局的形成与演变  
C. 二战后资本主义的新变化      D. 社会主义的发展与挫折

24. 中国于 2001 年加入某国际组织，该国际组织成立于 1995 年 1 月 1 日，其主要职能是制定和规范多边贸易协定、组织贸易谈判、解决贸易争端等。这一国际组织是

- A. 世界反法西斯联盟      B. 世界贸易组织  
C. 七十七国集团      D. 亚太经合组织

25. 参与研制和生产“空中客车”飞机的除法国企业外，还有德国、英国、西班牙、荷兰、比利时、意大利等国企业。这种现象说明当今世界经济发展的主要趋势是

- A. 政治多极化      B. 文明多元化      C. 社会信息化      D. 经济全球化



学号  
姓名  
班级  
学校

## 第Ⅱ卷 (主观题 共 50 分)

26. (16 分) 在几千年的历史长河中, 我们的祖先凭借着勤劳与智慧, 创造了辉煌灿烂的古代文明。阅读材料, 回答问题。

### 【版块一 思想篇】



A



B



C

(1) “为政以德”是版块一中哪位思想家的主张(写序号)? 汉武帝接受的哪条建议使得他创立的学派学说被确立为正统思想, 为历代王朝所推崇? (6 分)

### 【版块二 文字篇】

□ 中国文字(字体)的发展历程: 甲骨文—金文—小篆—隶书—楷书—草书—行书。

甲骨文	金文	小篆	隶书	楷书	草书	行书
日	日	日	日	日	日	日
月	月	月	月	月	月	月
車	車	車	車	車	車	車
馬	馬	馬	馬	馬	馬	馬

(2) 版块二中的甲骨文在中国文字发展历程中具有怎样的历史地位? 依据版块二, 概括出中国文字的发展趋势。(6 分)

### 【版块三 技术篇】

人物	成果
蔡伦	造纸术
毕昇	活字印刷术
贾思勰	《齐民要术》
宋应星	

(3) 版块三表格中缺少一项成果, 请你根据提示将其补充完整。并仿照版块一、二, 为版块三拟一个主题。(4 分)



27. (18分) 阅读材料, 回答问题。

材料一 人民英雄纪念碑是近代中华民族英雄的丰碑




图1 人民英雄纪念碑



图2 南昌起义(浮雕)

(1)图1所示人民英雄纪念碑是在哪次会议上决定建立的? 图2为人民英雄纪念碑底座浮雕图, 结合所学知识, 简要说明所示历史事件入选人民英雄纪念碑浮雕的理由。(6分)

材料二 新中国建立以来, 中华民族的优秀儿女前赴后继, 树立了中华民族复兴的丰碑



黄继光



袁隆平



邓稼先



钟南山



屠呦呦



陈祥榕

(2)结合所学知识, 从材料二中任选一位英雄人物(除示例人物), 仿照示例对人物进行介绍(6分)。

示例: 一等功臣陈祥榕, 在2020年边防斗争中, 英勇战斗, 直至壮烈牺牲。




材料三

“天地英雄气，千秋尚凛然。”一个有希望的民族不能没有英雄，一个有前途的国家不能没有先锋。包括抗战英雄在内的一切民族英雄，都是中华民族的脊梁，他们的事迹和精神都是激励我们前行的强大力量。

——摘编自习近平在《颁发“中国人民抗日战争胜利70周年”纪念章仪式上的讲话》

材料四



(3)材料三中提及的抗日战争持续了多少年？综合材料三、四，谈一谈崇尚、学习、捍卫英雄烈士具有怎样的现实意义？(6分)

28. (16分) 步入近代以来，资本主义的发展经历了从思想到制度再到技术的历程。阅读材料，回答问题。

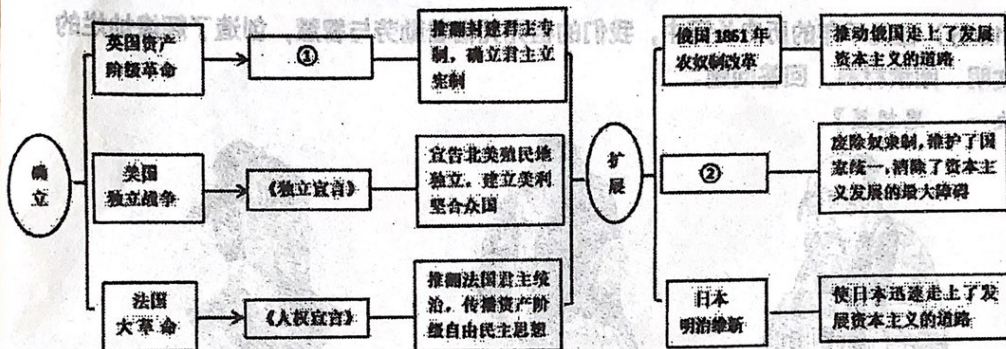
材料一

在古希腊和古罗马，文学艺术的成就很高，人们也可以自由地发表各种学术思想，这和黑暗的中世纪是一个鲜明的对比。……于是，许多西欧的学者要求恢复古希腊、罗马的文化和艺术。这种要求就像春风，慢慢吹遍整个西欧。

(1)材料中的“春风”指的是什么？这股所谓的“春风”首先在哪里吹起的？(6分)

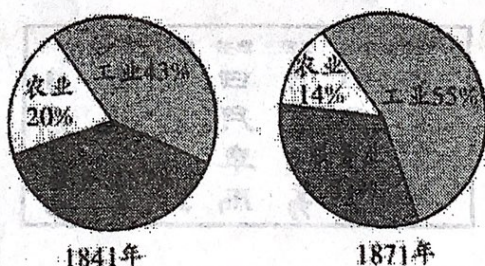


## 材料二



(2) 阅读材料二中的导图，根据提示将导图补充完整。并结合所学知识，概括资本主义制度确立和扩展过程的特点（一点即可）。（6分）

## 材料三



英国工业、农业比重的变化示意图

## 材料四

瓦特蒸汽机很快在英国广泛应用，除用在纱厂外，还应用到冶金厂、面粉厂，并在后来应用到运输业中，导致了运输工具的改进。有了蒸汽机作动力，从此，工厂可以设在远离河流的地方，工厂的规模也变得更大，有些工厂甚至雇用 1000 多人。进入 19 世纪，传统的手工作坊逐渐被大工厂替代，现代工厂制度最终确立。

——摘编自人教版 2018 年版初中《世界历史（上册）》教科书

(3) 根据材料三中的数据，归纳出英国工业、农业比重的变化趋势。结合材料四及所学知识，概括蒸汽机的发明与这种变化之间的关系。（4分）



九年级历史阶段性检测参考答案（2022.4）

题号	1	2	3	4	5	6	7	8	9	10	11	12	13
答案	D	D	C	D	C	D	D	A	C	A	A	A	C
题号	14	15	16	17	18	19	20	21	22	23	24	25	
答案	B	C	D	B	A	A	B	C	B	A	B	D	

26.（共 16 分）

(1)B（3 分）。“罢黜百家，独尊儒术”（3 分）。

(2)甲骨文是中国已发现的古文字中年代最早、体系较为完备的文字。（4 分）

由繁到简（2 分）。

(3)《天工开物》（2 分） 科技篇、科学篇、技术篇等（2 分）

27.（共 18 分）

(1)中国人民政治协商会议第一届全体会议（3 分）。

南昌起义打响了反抗国民党反动统治的第一枪（3 分）。

(2)（共 6 分）

示例：一等功臣陈祥榕，在 2020 年边防斗争中，英勇战斗，直至壮烈牺牲。

①荣誉称号或身份等（2 分）

②事迹或成果等（2 分）

③表述（2 分）

思路清晰、语言流畅（2 分）；

思路较清晰、语言较流畅（1 分）；

思路不清晰、语言混乱（0 分）。

例：战斗英雄黄继光，在上甘岭战役中用自己的胸膛堵住敌人的机枪口，为战友开辟了前进的道路，自己英勇牺牲。

(3)14 年（3 分）。立法来保护英雄烈士，维护正义，告慰先烈，铭记历史，获得前进动力。发扬光荣传统、传承红色基因，不忘初心、继续前进等。（结合材料，言之有理即可，3 分）

28.（共 16 分）

(1)文艺复兴（3 分）。意大利（3 分）。

(2)①《权利法案》（2 分），②美国内战、美国南北战争（2 分）。

特点：由人治到法治；由专制到民主；首先在资本主义经济较发达的国家展开；由欧美国家扩展到亚洲国家；通过革命或者改革方式进行；颁布法律文件巩固革命、改革的成果等。（2 分，意思相近，任意一点即可）

(3)变化趋势：工业比重上升，农业比重下降（2 分）。

关系：蒸汽机的发明解决了工业革命发展的动力问题，极大提高了生产力；促进了机器大生产的出现；为现代工厂制度最终确立奠定基础；促进交通运输工具革新等。（2 分，意思



相近，任意一点即可)