

2021——2022 学年度第二学期南开区九年级阶段练习

历史试卷

本试卷分为第Ⅰ卷（选择题）和第Ⅱ卷（非选择题）两部分。答题时，务必将答案填写在“答题卡”上，答案答在试卷上无效。考试结束后，将本试卷和“答题卡”一并交回。

第Ⅰ卷 选择题（共50分）

注意事项：

1. 每小题选出答案后，用2B铅笔把“答题卡”上对应的信息点涂黑。
  2. 本卷共25题，每题2分，共50分。每题给出的四个选项中，只有一项最符合题意。
1. 战国时期主张“以法治国”的思想家是  
A 孟子 B 孔子 C 墨子 D 韩非
  2. 中国历史上，通过颁行全国通用文字巩固国家统一的帝王是  
A 秦始皇 B 汉武帝 C 唐太宗 D 宋太祖
  3. 历史研究中，下列选项最可信的是  
A 神话传说——“女娲补天” B 出土文物——司母戊鼎  
C 电视作品——《汉武帝》 D 明清小说——《三国演义》
  4. 自606年开始，中国建立了当时世界上最先进、最公平、最科学的人才选拔和任用制度，并以此影响着教育和整个社会……观察家默德赫斯评论说：“该制度是真正值得赞赏和模仿的。”“该制度”正式确立于  
A 隋文帝时期 B 隋炀帝时期 C 唐太宗时期 D 武则天时期
  5. 据记载，文成公主入藏时，携带的嫁妆有释迦佛像，360卷经典，大量珍宝、绸帛、种子，60种营造与工技著作，100多种医方、4种医学论著等。丰富的嫁妆种类折射出唐朝  
A 对边疆统治加强 B 民族交融成为主流  
C 经济文化的繁荣 D 开元盛世成就辉煌
  6. “‘他’曾为人类的航海事业作出了伟大贡献，‘他’把最崇敬最热爱的大海作

为长眠之地。确实，‘他’是大海之子……按照‘他’的意愿，带回南京的只有一双鞋子和一撮头发，葬在南京城外的坟墓里，供后人凭吊。”因为“他”

A 七下西洋 B 抗击倭寇 C 东渡日本 D 收复台湾

7. 1875 年，中国近代第一批海军留学生出国时曾宣言：“此去西洋，应深知中国自强之计，舍此无所他求，背负国家之未来，取尽洋人之科学。赴七万里长途，别祖国父母之邦，奋然无悔。”可见，他们当时出国留学的最终目的是

A 游历西洋 B 兴办洋务 C 学习科技 D 救国图强

8. 右图反映的是清朝末年，中国面临被瓜分豆剖的严重危机现象。有人题词云：“沉沉酣睡我中华，那知爱国即爱家；国民知醒宜今醒，莫待土分裂似瓜。”出现“裂似瓜”的局面是在

A 鸦片战争之后 B 第二次鸦片战争之后  
C 甲午战争之后 D 八国联军侵华战争之后



9. 人民群众是创造历史的主体。杰出人物在历史的长河中谱写了浓墨重彩的篇章。下列搭配正确的一组为

A 林则徐——“实业救国”的践行者 B 邓世昌——“开眼看世界之第一人”  
C 张謇——甲午中日战争的民族英雄 D 李大钊——马克思主义思想传播的先驱

10. 1912-1919 年，中国新建的民族厂矿企业达 470 多家，投资近 1 亿元，加上原有企业的扩建，新增资本达到 1.3 亿元以上，相当于辛亥革命前 50 年的投资总额。以上数据说明

A 中国近代民族工业开始起步 B 中国开始迈向工业化强国  
C 列强扩大对中国的资本输出 D 近代民族工业迎来“短暂的春天”

11. 蒋介石曾写道：“对毛泽东应召来渝后之方针，决以诚挚待之。政治与军事应整个解决，但对政治之要求，予以极度之宽容。而对军事则严格之统一，不稍迁就。”这里的“渝”指的是

A 广州 B 瑞金 C 重庆 D 西安

12. 中国共产党不仅是合作共赢的倡导者，更是积极实践者。以下属于第一次国共合作成果的是

A 北伐的胜利进军 B 西安事变的和平解决

C 抗日战争的胜利

D “双十协定”的签订

13. 习近平主席在庆祝澳门回归 20 周年活动时指出，回归祖国以来的 20 年，是澳门历史上经济发展最快、民主改善最大的时期。澳门取得的历史性成就得益于

① “一国两制”方针的成功实践    ② 中央政府和内地的大力支持

③ 民族区域自治制度的实行        ④ 澳门社会各界的团结奋斗

A ①②③    B ①②④    C ①③④    D ②③④

14. 1955 年，同中国建交的国家只有 23 个，到 1965 年底增加了一倍多。这些外交成就的取得得益于

A 第 26 届联合国大会的召开    B 亚太经合组织会议的召开

C 万隆会议的召开                D 二十国集团领导人峰会的召开

15. 1978 年 12 月，美国总统卡特发表谈话：中国人民是有才干的人民，中国在国际事物中起着重要的作用，而且这种作用在未来的岁月中只会越来越重要。下面印证了卡特预见的是

A 袁隆平培育出籼型杂交水稻    B 中国对香港、澳门恢复行使主权

C 作家莫言获得诺贝尔文学奖    D 中国多次参加联合国的维和行动

16. 《全球通史》记载：“西欧到 14 世纪，，城市成为贸易中心，……佛罗伦萨市区有手工工场 300 家，年生产呢绒十万匹；1343 年佛罗伦萨市中有九万余人，从事呢绒生产约三万人，占全城居民的三分之一。”材料说明这一时期的西欧

A 出现了资本主义萌芽

B 开始了文艺复兴

C 完成了新航路开辟

D 垄断了东西方贸易

17. 《全球通史》指出，公元 1500 年之后的时代是具有重大意义的时代，因为它标志着地区自治和全球统一之间冲突的开端。在这之前，不存在任何冲突，因为根本就没有全球的联系。这表明新航路开辟的影响是

A 打破了地区之间的对立

B 加速了全球化的进程

C 消除了地区之间的隔阂

D 使世界逐渐成为一体

18. 广泛传播资产阶级自由民主思想，给与欧洲封建势力以沉重打击的资产阶级革命是

A 英国“光荣革命”

B 美国独立战争

C 法国大革命

D 俄国十月革命



19. 随着工业革命的发展和工厂体系的建立，到 1851 年伦敦人口达到 236 万，比 1800 年增长了 136%。这充分说明工业革命推动了

A 机械化 B 科学化 C 民主化 D 城市化

20. 某同学在展览馆参观时，在展柜里发现有“贵族宣读‘解放’农奴的法令”的资料，与这份资料相关的历史事件是

A 彼得一世改革 B 亚历山大二世改革 C 美国内战 D 十月革命

21. 据统计，仅 1500——1650 年的 150 年间，西班牙就在美洲搜刮 1.6 万吨白银和 180 吨黄金；15——19 世纪的近 400 年间，黑奴贸易使非洲丧失了上亿的人口。这主要反映了

A 三角贸易的互利性 B 经济往来的重要性  
C 商品贸易的普遍性 D 殖民活动的原始性

22. 世界历史波澜壮阔，大国兴衰构成重要篇章。回眸其中一国的演变历程，排序正确的是



①



②



③

A ①②③ B ③②① C ②①③ D ②③①

23. 签字仪式在美国旧金山退伍军人纪念堂举行。……第一个签字的是中国代表团，接着签字的是苏联、英国、法国三个常任理事国。仪式庄严而隆重，50 个国家的 153 名全权代表的签字，花了整整 8 个小时。“50 个国家的代表齐聚一堂”是为了筹建

A 国际联盟 B 联合国 C 欧洲联盟 D 世贸组织

24. 疫情当头，钟南山院士用自己渊博的知识为国人努力撑起一把保护伞，成为

19. 随着工业革命的发展和工厂体系的建立, 到 1851 年伦敦人口达到 236 万, 比 1800 年增长了 136%。这充分说明工业革命推动了

A 机械化 B 科学化 C 民主化 D 城市化

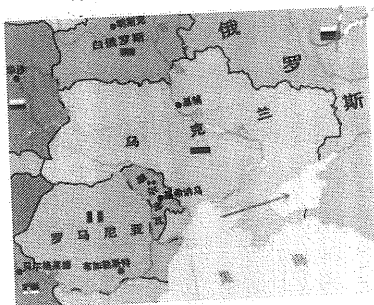
20. 某同学在展览馆参观时, 在展柜里发现有“贵族宣读‘解放’农奴的法令”的资料, 与这份资料相关的历史事件是

A 彼得一世改革 B 亚历山大二世改革 C 美国内战 D 十月革命

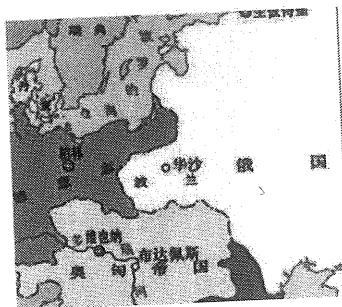
21. 据统计, 仅 1500——1650 年的 150 年间, 西班牙就在美洲搜刮 1.6 万吨白银和 180 吨黄金; 15——19 世纪的近 400 年间, 黑奴贸易使非洲丧失了上亿的人口。这主要反映了

A 三角贸易的互利性 B 经济往来的重要性  
C 商品贸易的普遍性 D 殖民活动的原始性

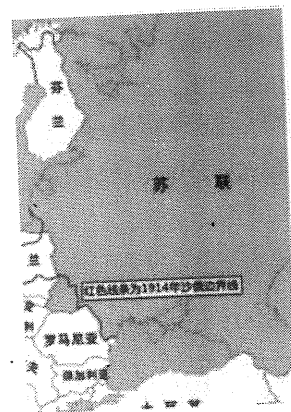
22. 世界历史波澜壮阔, 大国兴衰构成重要篇章。回眸其中一国的演变历程, 排序正确的是



①



②



③

A ①②③ B ③②① C ②①③ D ②③①

23. 签字仪式在美国旧金山退伍军人纪念堂举行。……第一个签字的是中国代表团, 接着签字的是苏联、英国、法国三个常任理事国。仪式庄严而隆重, 50 个国家的 153 名全权代表的签字, 花了整整 8 个小时。“50 个国家的代表齐聚一堂”是为了筹建

A 国际联盟 B 联合国 C 欧洲联盟 D 世贸组织

24. 疫情当头, 钟南山院士用自己渊博的知识为国人努力撑起一把保护伞, 成为

家喻户晓的人物。下列人物中与钟南山属于同一领域且获得诺贝尔生理学或医学奖的人物是

A 屠呦呦 B 袁隆平 C 邓稼先 D 杨利伟

25. 1914 年，萨拉热窝一声枪响，引爆了整个世界，战火遍及欧亚非三洲，战后战胜国建立了自己所追求的世界新秩序。材料中战后的世界新秩序是

A 两极格局 B 凡尔赛——华盛顿体系  
C 美苏冷战 D 世界多极化趋势

第 II 卷 （非选择题 共 50 分）

26. 材料题（14 分）

制度建设自古以来都是历史性的重要课题，它关系到一个国家的长治久安。阅读下列材料并回答问题。

材料一：秦始皇接受李斯建议，把全国分成三十六郡，以后又陆续增设至四十余郡，在郡下设县，这些郡县完全由中央和皇帝控制，是中央政府管辖下的地方行政单位。  
——选自《秦汉史》

（1）根据材料一，说出秦朝在地方上实行了什么制度？（2 分）

材料二：“武帝施主父之册，下推恩之令，使诸侯王得分户邑，以封子弟，不行黜陟而藩国自析。自此以来，齐分为七，赵分为六，梁分为五，淮南分为三；皇子始立者，大国不过十余城；长沙、燕、代，虽有旧名，皆亡南北边矣。”

——（东汉）班固：《汉书》卷十四《诸侯王表第二》

（2）材料二中汉武帝实行相应政策的目的是什么？（2 分）

材料三：宋朝的政治体制大体沿袭唐朝的政治制度，但宰相不再由三省（尚书省、中书省、门下省）长官担任。为了改变宰相“事无不统”的局面，宋朝统治者采取了相应的措施，使皇帝独揽大权。

（3）结合所学内容，简述宋朝统治者采取了什么措施，使皇帝独揽大权？（2 分）

材料四：立中书省一，行中书省十有一：曰岭北，曰辽阳，曰河南……分藩镇服，路一百八十五，府三十三，州三百五十九，军四，安抚司十五，县一千一百二十七。

——（明）宋濂《元史》

（4）材料四反映的是什么制度？（2分）

材料五：“自秦始置丞相，不旋踵而亡……虽有贤相，然其间所用者，多有小人，专权乱政。”

——摘自《明史纪事本末》

（5）根据材料五并结合所学内容，简述明太祖朱元璋鉴于历史上部分丞相“专权乱政”的教训而采取的措施（2分）

材料六：惟以一人治天下，岂为天下奉一人。

——故宫养心殿雍正皇帝亲题对联

材料七：清代史学家赵翼说：军机大臣“只供传述缮撰，而不能稍有赞画于其间”。

（6）结合材料六、材料七，说说雍正帝是怎样实现“一人治天下”的？（2分）

（7）通过对上述材料的分析，简述我国古代统治者实行相应政策的共同目的是什么？（2分）

## 27. 材料题（22分）

近代以来，中国人民进行了艰辛的探索，在中国共产党的领导下，共筑中国梦。阅读下列材料，回答问题。

材料一：著名学者茅海建指出：“如果我们把视野放大，从今天的角度去探讨这次战争的意义，我们会首先看到，这场战争把中国拖入世界。从此开始，中

国遭受到了列强的百般蹂躏；从此开始，中国经受了寻找新出路的百般苦难。”

(1) 材料一中“把中国拖入世界”的这场战争是什么？(2分) 中国近代开始“寻找新出路”的历史事件是什么？(2分)

材料二：中国共产党自1921年诞生之日起，从大革命失败的血雨腥风到井冈山的星火燎原，从第五次反“围剿”失败到经过万里长征后在抗日烽火中再起，从奋起反击国民党军的全面内战到五星红旗在天安门广场冉冉升起，正可谓“雄关漫道真如铁，而今迈步从头越。”

——摘自习近平总书记关于“中国梦”的重要讲话

(2) 结合所学知识，写出材料二中提到的“从第五次反‘围剿’失败到经过万里长征”这一过程中具有转折性的历史事件。(2分)

材料三：1953年——1956年，我国创造了许多历史上的第一  
1953年，中国第一座大型露天煤矿——辽宁阜新海州露天煤矿建成投产。  
1955年，新中国第一套6000千瓦火力发电机组在上海组装成功，开始建立中国的发电设备生产基地。

1955年，中国第一款国产手表在天津诞生。

1956年，中国第一辆解放牌汽车在长春第一汽车制造厂生产出来。

1956年，中国第一架喷气式歼击机在沈阳试制成功。

1956年，中国第一个制造机床的工厂——沈阳第一机床厂建成投产。

(3) 材料三中出现“许多历史上的第一”的原因是什么？(2分) 根据材料结合所学知识，归纳这一时期工业建设的特点。(2分)

材料四：1978年——2017年国内生产总值表

时间	1978年	1990年	2000年	2010年	2017年
国内生产总值(亿元)	3678.7	18872.9	100280.1	413030.3	827121.7

(4) 分析材料四数据的变化，你能得到什么信息？(2分) 结合所学知识，说



说这一变化得益于什么政策的实施？（2分）

材料五：道路问题是关系党的事业兴衰成败第一位的问题。我们党和人民在长期实践探索中，坚持独立自主走自己的路，取得了革命建设伟大胜利，开创和发展了中国特色社会主义，从根本上改变了中国人民和中华民族的前途命运。

——《习近平总书记系列重要讲话读本》


（5）根据材料五结合所学知识回答，中国革命时期和改革开放建设时期分别走的道路是什么？（4分）你认为中国革命和建设取得成功的宝贵经验有哪些？（至少写出2点）（4分）

28. 材料题（14分）

美国在世界文明史上有着举足轻重的作用，它的建立和发展经历了曲折的过程，有这样几位人物在关键时刻力挽狂澜，发挥了巨大作用，带领美国走向辉煌。

阅读下列材料，回答相关问题

材料一：



图一



图二



图三

（1）请你分别写出图一、图二、图三中的人物名称（6分）

（2）结合所学知识，请你选择其中一位人物，写出他在美国历史上的主要贡献。（6分）

（3）结合所学知识，请你总结三位历史人物的共同特点。（2分）